



This is a digital copy of a book that was preserved for generations on library shelves before it was carefully scanned by Google as part of a project to make the world's books discoverable online.

It has survived long enough for the copyright to expire and the book to enter the public domain. A public domain book is one that was never subject to copyright or whose legal copyright term has expired. Whether a book is in the public domain may vary country to country. Public domain books are our gateways to the past, representing a wealth of history, culture and knowledge that's often difficult to discover.

Marks, notations and other marginalia present in the original volume will appear in this file - a reminder of this book's long journey from the publisher to a library and finally to you.

Usage guidelines

Google is proud to partner with libraries to digitize public domain materials and make them widely accessible. Public domain books belong to the public and we are merely their custodians. Nevertheless, this work is expensive, so in order to keep providing this resource, we have taken steps to prevent abuse by commercial parties, including placing technical restrictions on automated querying.

We also ask that you:

- + *Make non-commercial use of the files* We designed Google Book Search for use by individuals, and we request that you use these files for personal, non-commercial purposes.
- + *Refrain from automated querying* Do not send automated queries of any sort to Google's system: If you are conducting research on machine translation, optical character recognition or other areas where access to a large amount of text is helpful, please contact us. We encourage the use of public domain materials for these purposes and may be able to help.
- + *Maintain attribution* The Google "watermark" you see on each file is essential for informing people about this project and helping them find additional materials through Google Book Search. Please do not remove it.
- + *Keep it legal* Whatever your use, remember that you are responsible for ensuring that what you are doing is legal. Do not assume that just because we believe a book is in the public domain for users in the United States, that the work is also in the public domain for users in other countries. Whether a book is still in copyright varies from country to country, and we can't offer guidance on whether any specific use of any specific book is allowed. Please do not assume that a book's appearance in Google Book Search means it can be used in any manner anywhere in the world. Copyright infringement liability can be quite severe.

About Google Book Search

Google's mission is to organize the world's information and to make it universally accessible and useful. Google Book Search helps readers discover the world's books while helping authors and publishers reach new audiences. You can search through the full text of this book on the web at <http://books.google.com/>

Math
285
2

+ Math 285.2



**BOUGHT WITH
THE BEQUEST OF
HORACE APPLETON HAVEN,
Of Portsmouth, N. H.
(Class of 1842.)**

Rec'd 20 Sept 1871.

41-16
24

7

al-Khayyāmī, Omar Bin Ibrakīm.

L'ALGÈBRE
D'OMAR ALKHAYYÂMI,

PUBLIÉE, TRADUITE ET ACCOMPAGNÉE

D'EXTRAITS DE MANUSCRITS INÉDITS,

PAR

Franz
F. WOEPCKE,

DOCTEUR AGRÉGÉ A L'UNIVERSITÉ DE BONN, MEMBRE DE LA SOCIÉTÉ
ASIATIQUE DE PARIS.



PARIS,

BENJAMIN DUPRAT, LIBRAIRE DE L'INSTITUT,
DE LA BIBLIOTHÈQUE NATIONALE, DES SOCIÉTÉS ASIATIQUES DE PARIS,
DE LONDRES ET DE CALCUTTA,
Rue du Cloître-St.-Benoit, 7.

M DCCC LI.

Paris. — Typographie de Firmin Didot Frères, rue Jacob, 56.

Math 285.2

HARVARD COLLEGE LIBRARY
1871, Sept. 20.

Haven Fund.

6742
41-16
28

A SON ALTESSE SÉRÉNISSIME

FRÉDÉRIC,

PRINCE HÉRÉDITAIRE D'ANHALT-DESSAU.

Monsieur,

Votre Altesse, en permettant que cet
opuscule paraisse sous Ses augustes auspices,
me le comble au plus cher de mes vœux.
L'intérêt flatteur dont Votre Altesse a
daigné honorer mes travaux et la faveur
qu'Elle a bien voulu accorder à mes efforts

*pour être utile à la science, m'inspirent la
plus vive gratitude. Puissé ce faible hommage
que j'ose mettre aux pieds de Votre Altesse,
témoigner du profond sentiment de respect
avec lequel je suis,*

Monseigneur,

de Votre Altesse Sérénissime,

*le plus humble, le plus obéissant
et le plus dévoué serviteur,*

Woeprke.

PRÉFACE.

Il y a plus d'un siècle que l'algèbre d'Alkhayyâmî fixa pour la première fois l'attention d'un savant mathématicien.

En 1742, Gérard Meerman publia à Leyde son « *Specimen calculi fluxionalis*, » précédé d'une préface dans laquelle le célèbre auteur esquisse rapidement, mais avec érudition et élégance, le développement successif du calcul analytique. En parlant des progrès que les Arabes avaient fait faire à cette branche des mathématiques, il cite (*) un manuscrit arabe du traité d'Alkhayyâmî, légué par Warner à la bibliothèque de Leyde. Il conjecture que ce manuscrit pourrait bien contenir la résolution algébrique des équations cubiques. Cela n'est pas; car on verra dans la suite que les découvertes d'Alkhayyâmî, quelque ingénieuses qu'elles soient, n'ont rien de commun avec celles des algébristes italiens du seizième siècle. Il est vrai que le titre du manuscrit arabe, tel que le donne le catalogue de la bibliothèque de Leyde, pouvait faire croire le contraire.

En effet, on retrouve la pensée de Meerman chez Montucla (**), le savant historien des mathématiques; puis chez M. Gartz, auteur d'une dissertation latine sur les traducteurs et commentateurs arabes d'Euclide, publiée en 1823.

Personne cependant n'avait encore pensé à examiner ce traité, signalé ainsi à l'attention des géomètres et des orientalistes, lorsque M. L.-Am. Sédillot annonça dans le *Nouveau Journal asiatique* (***) qu'il avait découvert, dans un manuscrit arabe de la Bibliothèque royale, un fragment très-intéressant d'un traité d'algèbre. Le contenu de ce morceau présentait une analogie remarquable avec ce qui, selon toute probabilité, devait former le sujet du manuscrit de Leyde. Quelque temps après, M. Sédillot fit connaître ce

*) Voir la dixième page de sa préface.

**) *Hist. des Math.*, nouv. éd., t. I, p. 383.

***) Mai 1834.

fragment d'une manière plus détaillée dans un mémoire inséré aux *Notices et extraits des manuscrits de la Bibliothèque royale* (*).

D'après l'analyse donnée par M. Sédillot, M. Chasles, dans l'admirable travail qu'il a consacré à l'histoire de la géométrie, déclara (**) qu'une publication complète de ce fragment serait d'un véritable intérêt pour l'histoire des sciences mathématiques.

Cette opinion sur la valeur du document en question fut évidemment partagée par M. Libri (***), qui découvrit à la Bibliothèque royale un manuscrit complet de cet ouvrage. Ce manuscrit constatait en même temps l'identité de son auteur avec celui du traité conservé à la bibliothèque de Leyde (****), et M. Libri annonça qu'il se proposait d'en publier une édition.

- Une telle unanimité sur l'importance de l'algèbre d'Alkhayyâmi devait suffire pour me décider à en entreprendre la publication.

Les manuscrits que j'avais à ma disposition pour établir le texte arabe étaient au nombre de trois.

C'était d'abord le manuscrit arabe n° 1136, ancien fonds de la Bibliothèque nationale, celui qui avait été remarqué par M. Libri. Ce manuscrit est d'une écriture très-élégante, mais dépourvu en grande partie des points diacritiques. Des trois manuscrits, c'est celui qui offre le texte le plus correct, et dans les cas douteux j'ai généralement préféré les leçons qu'il présente. Je l'ai désigné dans les indications des variantes par la lettre A.

Le second manuscrit, que j'ai désigné par la lettre B, est le fragment examiné par M. Sédillot, et faisant partie du manuscrit arabe n° 1104, ancien fonds de la Bibliothèque nationale. L'écriture de ce manuscrit est beaucoup moins belle que celle du n° 1136, mais la ponctuation est presque complète, et parfois on y trouve même les voyelles. Le manuscrit est détérioré en quelques endroits, et les coins sont quelquefois endommagés par l'humidité, de manière à en rendre l'écriture illisible. Malheureusement ce fragment ne contient qu'à peine les trois septièmes du texte entier, et s'arrête précisément à l'endroit (****) où l'auteur va exposer ce qu'il y a de vraiment original et d'intéressant dans son ouvrage, c'est-à-dire au commencement de la construction des équations cubiques.

Enfin, messieurs les conservateurs de la bibliothèque de Leyde ont eu l'extrême bonté de me confier le manuscrit cité par Meerman et Montucla, et contenu dans le volume n° 14 du legs Warnérien. C'est probablement

*) Tome XIII, pages 130 à 136.

**) *Aperçu historique sur le développement des méthodes en géométrie*. Bruxelles, 1837, in-4°, pages 493, 494, et particulièrement p. 498, troisième note.

***) *Histoire des sciences mathématiques en Italie*, t. I, note XIII, p. 300 sqq.

****) Voir, *loc. cit.*, les notes au bas des pages 301 et 302.

*****) Voir page 21 du texte arabe, note 5.

une copie faite sur un manuscrit oriental par un Arabe chrétien, domicilié à Amsterdam, et occupé par l'illustre *Golius* à copier des manuscrits arabes que les propriétaires refusaient de vendre, et que Golius était obligé de renvoyer en Orient après en avoir fait prendre copie (*). Ce manuscrit, que j'ai désigné par la lettre C, est d'une écriture large et lisible. Quoiqu'il soit moins correct que le manuscrit A, il ne m'en a pas moins été très-utile pour la rédaction du texte.

Les figures géométriques qui accompagnent le texte sont tracées dans le manuscrit A avec assez de netteté; si ce n'est que les sections coniques y sont invariablement représentées par des arcs de cercle qui se rencontrent au sommet de la conique sous un angle passablement aigu. Dans le manuscrit C, ces figures ne ressemblent quelquefois que d'assez loin à ce qu'elles sont destinées à représenter.

Dans les manuscrits B et C, les numératifs sont toujours exprimés par des mots, excepté dans les citations des propositions, et quelquefois aussi des livres, des ouvrages d'Euclide et d'Apollonius. Dans ce dernier cas, les manuscrits B et C emploient les lettres de l'alphabet numéral. C'est uniquement pour la petite table des puissances descendantes et ascendantes (p. 42 du texte arabe) que le manuscrit C fait usage des chiffres. Le manuscrit A, au contraire, se sert de ces derniers presque partout où les deux autres manuscrits emploient des mots ou des lettres numériques; cependant il conserve les lettres exclusivement pour les propositions citées des ouvrages d'Euclide et d'Apollonius.

Ayant rendu compte des manuscrits dont je me suis servi pour l'édition du *texte d'Alkhayyámí*, je vais ajouter quelques mots au sujet des manuscrits dans lesquels j'ai rencontré les morceaux qui forment l'objet des *additions*.

Pour les additions A et C, j'ai mis à contribution le manuscrit n° 14 du legs Warnérien, mentionné ci-dessus. Quant au mémoire, que j'examine dans l'addition C, j'en avais découvert une seconde copie dans le manuscrit 955,2(**), supplément arabe de la Bibliothèque nationale. Les morceaux dont les additions B, D et E présentent des extraits discutés sont tirés du manuscrit n° 168 du legs Warnérien de la bibliothèque de Leyde, un de ceux qui ont été achetés par Golius en Orient(***). Ce manuscrit

*) Voir à ce sujet les pages xiv et xv de la préface du nouveau catalogue de la bibliothèque de Leyde, par M. Dozy, dont le premier tome vient de paraître il y a peu de semaines. M. Dozy avait bien voulu m'instruire à l'avance de ces détails, et c'est avec empressement que je saisis cette occasion de témoigner publiquement ma reconnaissance à ce savant, ainsi qu'à M. *Reinaud*, qui non-seulement m'a communiqué, avec la complaisance qui le distingue, tous les manuscrits dont je pouvais avoir besoin, mais encore m'a permis de recourir en toute occasion à sa vaste érudition.

**) Numéro du catalogue manuscrit du supplément arabe, rédigé par M. *Reinaud*.

***) J'ai plusieurs fois cité textuellement des passages de ce manuscrit; j'ai alors reproduit ces passages absolument tels qu'ils se trouvaient dans l'original.

m'avait également été prêté par messieurs les conservateurs de cette bibliothèque avec la bienveillance la plus obligeante.

On peut appliquer à Alkhayyâmî ce qu'un historien spirituel de l'algèbre a observé à propos de Diophante : que la fin de son nom prête déjà à discussion. Tantôt on trouve *Alkhayyâmî*, tantôt *Alkhayyâm* ; à ce point que sur le premier feuillet du manuscrit A, à côté du grand titre qui porte *Alkhayyâmî*, on lit plus bas(*) : « Mémoire d'Omar *Alkhayyâm* sur les démonstrations de l'algèbre. » *Alkhayyâm* signifie fabricant de tentes. Il n'est guère vraisemblable que le célèbre géomètre ait lui-même exercé cette profession ; mais probablement c'était celle de son père ou d'un de ses ancêtres, et en conséquence, des deux leçons, *Alkhayyâmî* semble être celle qu'il faut préférer.

On ne sait avec précision les dates, ni de la naissance, ni de la mort d'Alkhayyâmî ; mais on connaît suffisamment les circonstances de sa vie(**). Il fut élevé en compagnie de deux jeunes gens qui dans la suite devinrent des personnages célèbres. Ce sont *Nizhâm Almoulq*, vizir des sultans Seldjoukides Alp-Arslan et Maliq-Chah, et *Haçan Ibn Sabbah*, fondateur de l'ordre des Assa-sins.

Les trois amis s'étaient promis que si l'un d'eux se voyait un jour dans une position brillante et élevée, il profiterait de sa prospérité pour y faire participer ses anciens camarades. Arrivé au pouvoir, Nizhâm Almoulq fut fidèle à sa promesse.

Il fit donner à Haçan la place de *hâdjib* ou chambellan. Mais celui-ci, ingrat envers son bienfaiteur, chercha à le remplacer dans la faveur du sultan. C'est pourquoi Nizhâm Almoulq l'éloigna de la cour par des moyens que la perfidie de Haçan excuse peut-être. Plus tard, le vizir encourut, dans un âge déjà avancé, la disgrâce du sultan ; et lorsque sa chute l'eut mis à la portée des poignards des fedâis ismaéliens, Haçan assouvît sa vengeance(***) .

Alkhayyâmî, au contraire, refusa presque les offres généreuses du puissant vizir. Il ne demandait qu'une aisance modeste qui lui permit de se livrer tranquillement à ses penchants scientifiques et littéraires. On sait cependant qu'il prit une place distinguée parmi les astronomes de Maliq-

*) Ce manuscrit semble avoir fait partie d'un petit recueil de sept traités, dont l'algèbre d'Alkhayyâmî était le premier. On avait donc donné sur la page du titre de celui-ci un catalogue des titres de toutes les pièces qui composaient cette petite collection, comme d'ailleurs cela se fait aussi en cas pareil sur nos livres modernes. L'écriture de ces titres est pour la plupart tellement effacée qu'il est difficile de les déchiffrer.

**) Voir la savante notice consacrée à Alkhayyâmî par M. *Reinaud*, dans les *Prolégomènes de sa traduction de la géographie d'Aboulféda*, page CI. — *Notices et Extraits*, etc., tome IX, pag. 143 sqq.

***) Voir le Mémoire de M. *Defrémery* sur l'histoire des Seldjoukides et des Ismaéliens. *Journal asiatique*, 1848.

Chah, et qu'il était un des principaux auteurs de la réforme du calendrier introduite en 1079 par ordre de ce prince (*).

Alkhayyâmi lui-même nous apprend (p. 13 de la traduction) qu'il avait composé aussi un traité sur l'extraction des racines des ordres supérieurs; et le peu qu'il en dit suffit pour nous révéler ce même esprit généralisateur qui, comme nous allons bientôt le voir, l'avait conduit à une théorie *systématique* des équations cubiques(**).

Alkhayyâmi était poète(***). Mais ses vers, écrits en persan, lui ont valu une réputation d'athée et de libertin. Rappelons-nous cependant que les mêmes accusations furent portées contre Descartes par un turbulent théologien, le recteur Voët, de l'université d'Utrecht. Ne nous empressons donc pas de souscrire à un jugement qui a peut-être sa source uniquement dans les haines religieuses que les poésies satiriques et spirituelles d'Alkhayyâmi devaient susciter contre lui.

Voici maintenant la traduction de la pièce inédite que j'ai donnée à la fin du texte du traité d'algèbre. Ce morceau est extrait du manuscrit n° 481, supplément arabe, de la Bibliothèque nationale, qui contient un abrégé du *Târikh-Alhoqamâ*, terminé en 647 de l'hégire, et dont l'auteur s'appelait Alzouzeni (****).

« OMAR ALKHAYYAM, imâm du Khorâçân, le grand savant du temps, était versé dans les sciences des Grecs. Il exhortait à chercher le Dieu unique, gouverneur du monde, par la purification des mouvements corporels, de manière à rendre l'âme humaine exempte de toute impureté. Il recommandait aussi une étude persévérante de la politique (*****), fondée sur les bases de cette science établies par les philosophes grecs. Les

*) Voir *Abulfedæ* Annales musulmici, éd. de Reyske et Adler, t. III, pag. 236, lig. 18 sqq. (On lit en cet endroit « Ibrahim, » au lieu de « fils d'Ibrahim; » c'est une erreur; comparer la note de M. *Reinaud*, dans les *Prolegomènes à la Géogr. d'Aboulf.*, loc. cit.) — *Joh. Gravii* Epochæ celeberrimæ. Londini, 1650. Pag. 37 sqq. — Muhammedis fil. Ketiri, qui vulgo *Alfraganus* dicitur, Elementa astronomica, opera *Jac. Golii*. Amstelodami, 1669. Notæ., pag. 32 sqq. — *Ismaelis Bullialdi* Astronomia philolaica. Paris, 1645, in-fol. Tabulæ philolaicæ, pag. 210-232, et particulièrement pag. 214 et 223; comparer *Delambre*, Hist. de l'astr. au moyen âge, pag. 191-196. — *Montucla*, Hist. des math., éd. nouv., t. I, pag. 387. — *Delambre*, Hist. de l'astr. moderne, pag. 75-84.

**) La bibliothèque de Leyde (voir n° 1067 du catalogue de 1716) possède aussi un ouvrage d'Alkhayyâmi sur l'explication des difficultés présentées par les définitions placées en tête des livres des *Eléments* d'Euclide.

***) Voir *J. v. Hammer* Geschichte der schönen Redekünste Persiens. Wien, 1818, pag. 80-82.

****) Voir *Wenrich*, de auctorum Græcorum versionibus et commentariis Syriacis, Arabicis, Armeniacis, Persicis commentatio. Lipsiæ, 1842, pag. iv-xii, et particulièrement pag. x ult. — Dans les citations que dans le cours de cet opuscule j'aurai à faire de cet abrégé, je le désignerai comme « le Ms. du *Târikh Alhoqamâ* de la Bibliothèque nationale. »

*****) Le terme arabe rappelle la dérivation du nom de cette science du mot *politik*. Comparer les *Prolegomènes à la géographie* d'Aboulféda, par M. *Reinaud*, p. LXXIX; on y verra en même temps de quelle manière chez les Arabes la politique se rattachait aux sciences exactes.

Souffis des temps postérieurs ont accueilli le sens apparent d'une partie de ses poésies, et puis les ont accommodées à leurs doctrines, de sorte qu'ils en font l'objet de discussions dans leurs assemblées et dans leurs réunions privées. Mais le sens caché (*) de ses poésies consiste en axiomes de la religion universelle (**), et en principes généraux embrassant les devoirs pratiques. Comme les hommes de son temps blâmaient ses opinions religieuses, et mettaient à découvert ce qu'il cachait en secret, il craignit pour sa vie, et mit un frein aux écarts de sa langue et de sa plume. Il fit le pèlerinage, grâce plutôt à une rencontre fortuite que par piété; et son extérieur trahit ses pensées secrètes, bien que rien n'en parût dans ses paroles (***). Lorsqu'il fut arrivé à Bagdad, les personnes qui s'étaient livrées aux mêmes études que lui en fait de sciences anciennes accoururent auprès de lui; mais il leur ferma sa porte, en homme qui avait renoncé à ces études, et non pas en homme qui fût resté leur confrère. Après être retourné de son pèlerinage dans son pays, il se rendait au lieu des prières le soir et le matin, et cachait ses secrets, qui pourtant ne pouvaient pas manquer de se révéler. Il était sans pareil dans l'astronomie et dans la philosophie; et sa capacité éminente dans ces sciences aurait passé en proverbe, s'il avait reçu en partage le respect des convenances. On a de lui des poésies légères dont le sens caché perce à travers leurs expressions voilées, et dans lesquelles la veine de la conception poétique est troublée par l'impureté de l'intention cachée. Poésie :

- « Comme mon âme se contente d'une aisance modeste et facile à obtenir, que toute-
fois ma main et mon bras ne me procurent qu'avec effort,
- « Je suis à l'abri de toutes les vicissitudes de la fortune, et, dans mes malheurs, ma
main et les projets que je forme sont mon refuge.
- « Les sphères dans leur mouvement n'ont-elles pas prononcé l'arrêt, que toutes les
« étoiles heureuses finissent par décliner vers une position funeste?
- « Persévérance donc, ô mon âme, dans ton repos! Tu en fais seulement crouler le
« sommet, en voulant en consolider les bases. »

Évidemment ces lignes ne sont pas l'œuvre d'une main amie. A les en croire, le caractère d'Alkhayyâmi n'aurait été qu'un mélange d'impureté et d'hypocrisie. Mais tout ce qu'elles s'efforcent de jeter d'ombre sur la moralité de notre auteur ne sert qu'à faire ressortir d'une manière plus brillante l'hommage qu'elles ne peuvent refuser au mérite du savant. C'est un homme détestable, mais c'est un astronome sans pareil; c'est peut-être un hérétique; mais, à coup sûr, c'est un philosophe du premier ordre.

Trois cents ans plus tard, les passions avaient eu le temps de se calmer. La connaissance ou du moins le bruit des découvertes d'Alkhayyâmi s'était répandu jusqu'en Espagne, et Ibn Khaldoun y put faire allusion dans ses *Prolégomènes* (****). Alors ce n'est plus ni l'hypocrite ni le libertin Alkhayyâmi; c'est simplement « un des plus grands géomètres de l'Orient. »

*) C'étaient de semblables « sens cachés » que les Ismaéliens croyaient découvrir dans les livres sacrés de l'islamisme, qui leur firent donner le nom de *Bâtiniens*.

**) Il aurait été plus naturel de dire : للشریعة واسع ; alors le sens : « en axiomes renfermant les dogmes religieux, et en maximes qui comprenaient les devoirs pratiques, » répondrait mieux au parallélisme de la phrase.

***) Peut-être faut-il lire الاسرار au lieu de السرار , et traduire : « il laissa échapper des secrets qui n'étaient pas très-purs, pas conformes à l'honnêteté. »

****) Le passage dont je veux parler fait partie du chapitre que j'ai indiqué dans la note

Trois autres siècles passèrent sans diminuer l'estime dont jouissaient ses travaux. Hadji-Khalifa nous en offre le témoignage en citant une partie considérable du commencement de l'algèbre d'Alkhayyâm^(*), tandis qu'ordinairement il se contente de donner le titre ou tout au plus les premiers mots des ouvrages dont son immense bibliographie contient la nomenclature.

La réputation d'Alkhayyâm ne brillait que d'un plus vif éclat au milieu des ténèbres où le temps avait plongé tant de célébrités secondaires.

Examinons donc l'ouvrage qui, sans aucun doute, a puissamment contribué à immortaliser ainsi le nom de son auteur, et dont les feuilles suivantes présentent le texte et la traduction.

Il se divise naturellement en cinq parties, de la manière suivante : 1^o l'introduction, comprenant une préface, les définitions des notions fondamentales de l'algèbre, et un tableau des équations que l'auteur se propose de discuter (p. 1-12 de la traduction) ; 2^o la résolution des équations des deux premiers degrés (p. 12-28) ; 3^o la construction des équations cubiques (p. 28-68) ; 4^o la discussion des équations à termes fractionnaires, ayant pour dénominateurs des puissances de l'inconnue (p. 69-81) ; 5^o remarques additionnelles (p. 81-88).

Il est une particularité de cette algèbre qui mérite d'être remarquée et discutée dès l'abord. C'est que l'auteur se fait une loi, pour toutes les équations dont il s'occupe, de joindre la résolution numérique ou arithmétique^(**) à la construction géométrique, et *vice versa*. Il est vrai que, pour les équations cubiques, il est forcé de se borner à cette dernière ; mais aussi il constate exprès, et signale aux algébristes à venir, cette lacune à combler (p. 9.). Afin de comprendre pourquoi l'algébriste arabe se croyait si strictement obligé de compléter, l'une par l'autre, l'arithmétique et la géométrie, il faut expliquer ce qu'il entend par « *résolution numérique*. »

Là où il parle d'une manière plus explicite, il se sert de l'expression : « *résolution, lorsque l'objet du problème est un nombre*. » « L'objet » du problème, c'est l'inconnue (voir la définition p. 5) ; la *résolution numérique*, dans l'acception de l'algébriste arabe, sera donc une résolution qui suppose que l'inconnue soit un *nombre*.

Or, les Arabes, fidèles aux traditions reçues des Grecs, désignent par « nombre » (عدد) ou « nombre absolu » (عدد مطلق), le *nombre entier*, un nombre d'unités. Ils vont même plus loin, et se servent de ce terme comme d'un équivalent de l'unité. C'est ainsi qu'on trouve des expressions comme « trente en nombre » (ثلاثون من العدد), ce qui, selon les règles de la grammaire arabe^(***), équivaut, à une légère nuance près, à dire « trente ».

au bas de la page 6. Il est reproduit par Rosen dans son éd. de l'algèbre de Mohammad Ben Mouça, page 191.

^{*} Ed. de Fluegel, t. II, p. 584.

^{**}) On verra bientôt par quelles raisons j'évite de dire « algébrique. »

^{***}) De Sacy, Gr. ar., 2^e éd., t. I, § 538 et § 565.

nombres; » enfin, ce pluriel « nombres » lui-même est employé dans les énoncés des équations n° 18 à 25 (*), pour désigner le terme connu de l'équation cubique.

Il résulte donc que le géomètre arabe, en parlant de la *résolution numérique* d'une équation, entend qu'il s'agit de satisfaire à cette équation par un nombre entier. Et ce qui détruira les derniers doutes qui pourraient subsister à cet égard, ce sont les conditions qu'il énonce pour la solubilité arithmétique des équations du second degré (p. 17). Ces conditions dépassent même le but qu'elles doivent atteindre, ainsi que je l'ai fait observer à l'endroit indiqué. Mais il est facile de remonter à la source de cette erreur.

Les mêmes conditions, ou du moins la plus essentielle des deux, à savoir la seconde, se trouvent nombre de fois chez *Diophante*, et il est impossible de méconnaître ici l'influence de cet auteur. Il y a seulement cette différence que chez *Diophante* cette condition est justifiée par la nature des problèmes qu'il se propose, tandis que chez *Alkhayyâmî*, elle établit des limites trop étroites. Je ne citerai, à l'appui de ce que je viens d'avancer, qu'un seul problème de *Diophante*, entre beaucoup qui me fourniraient les mêmes preuves.

Dans le 6^e problème du VI^e livre, *Diophante* se propose de trouver un triangle rectangle en nombres rationnels, de manière que la surface du triangle, plus une des cathètes, soit égale à un nombre donné. Désignant les deux cathètes par ax et bx respectivement, le nombre donné par k , et posant $\frac{ab}{2} = c$, on aura

$$1) \quad cx^2 + ax = k,$$

donc

$$2) \quad cx = -\frac{a}{2} + \sqrt{\left(\frac{a}{2}\right)^2 + ck}.$$

Arrivé là, *Diophante* énonce sa condition de la manière suivante : καὶ δεῖ τῶν ἀριθμῶν τῷ ἡμίσει ἐφ' αὐτό προσθεῖναι τὰς δυνάμεις ἐπτάκις (**) γενομένας καὶ ποιεῖν τετράγωνον. C'est-à-dire qu'il faut qu'on ait

$$3) \quad \left(\frac{a}{2}\right)^2 + ck = y^2;$$

en posant $a = 1$, l'équation (2) se transforme dans : $bx = -1 + \sqrt{1 + 2bk}$, et il s'agit de satisfaire simultanément aux deux équations indéterminées

$$1 + 2kx = y^2, \quad 1 + x^2 = l^2.$$

On voit aisément que la condition (3) est véritablement nécessaire, puis-

*) Voir pages 44, 46, 47, 49, 57, 62, 65.

**) *Diophante* avait pris $k = 7$.

qu'il s'agit de rendre rationnels les côtés du triangle, c'est-à-dire que dans l'équation (4), non-seulement l'inconnue, mais aussi les coefficients sont assujettis à certaines conditions.

Il se présente ici la question suivante : Si, pour la résolution numérique, l'algébriste arabe exige qu'on satisfasse à l'équation proposée par un nombre entier, il fait donc de l'algèbre indéterminée ?

Il nous manque un élément pour répondre à cette question d'une manière décisive. C'est que l'auteur ne se prononce pas sur la nature des coefficients de l'équation proposée. D'après les termes dont il se sert, on peut croire qu'il considère le terme connu (العدد المفروض) comme un nombre entier donné; mais le coefficient de l'inconnue (عدد الاجزاء ou simplement (الاجزاء) *) est laissé entièrement indéterminé. En supposant que ce coefficient doive également être un nombre entier, il s'agit en effet, pour obtenir les conditions de la solubilité « numérique » de l'équation du second degré, de discuter l'équation indéterminée $x^2 + yx = a$. Si, au contraire, on laisse aux constantes de l'équation déterminée proposée toute leur généralité, la détermination des conditions nécessaires pour satisfaire à la proposée par un nombre entier dépend d'un problème plus général.

Ce qu'il y a de certain, c'est que la résolution numérique de l'algébriste arabe comprend : 1° ce qu'aujourd'hui on désigne par la résolution algébrique d'une équation; 2° la détermination des conditions nécessaires pour que la fonction des coefficients, qui est égale à l'inconnue, devienne un nombre entier. Alors si les coefficients de l'équation proposée satisfont à ces conditions, la résolution numérique, selon notre auteur, est possible; dans le cas contraire, elle est impossible.

Vu cette « impossibilité, » la construction géométrique sert, chez l'algébriste arabe, non-seulement d'éclaircissement et d'explication, mais de complément nécessaire à la résolution numérique; et on comprend pour quelles raisons il dit, dès l'abord, que l'objet de l'algèbre est formé autant par le nombre absolu que par les quantités géométriques.

On reconnaît dans cette séparation, portée même trop loin, de la quantité discontinue d'avec la quantité continue, ou, si l'on veut, de la quantité rationnelle d'avec la quantité irrationnelle; on y reconnaît, dis-je, les

*) On pourrait être tenté de trouver ici une autre trace de l'influence de Diophante, puisque celui-ci dit *δυνάμεις* pour désigner le coefficient du carré de l'inconnue, de même que l'algébriste arabe désigne par *الاجزاء*, le coefficient de l'inconnue. Mais cette suppression du terme « coefficient » se trouve aussi chez Moh. Ben Mouça, et il n'existe aucune donnée historique qui prouve qu'aux temps de cet algébriste Diophante ait été déjà connu aux Arabes. Il faut donc chercher ailleurs l'explication de cette coïncidence, à moins qu'on ne veuille la considérer comme accidentelle, et n'ayant rien de très-surprenant en elle-même. — D'un autre côté, on pourrait trouver que le mot *عدد* a l'air d'une traduction du terme *πλάθος*, qui se trouve chez Diophante.

- conséquences de la distinction fondamentale établie entre le $\pi\sigma\sigma\acute{o}\nu \delta\iota\omega\rho\iota\sigma\mu\acute{\epsilon}\nu\omicron\nu$ et le $\pi\sigma\sigma\acute{o}\nu \sigma\upsilon\nu\epsilon\chi\acute{\epsilon}\varsigma$ par Aristote, dont le système a si puissamment influé sur le développement et sur le génie de la science arabe.

Les résolutions qu'Alkhayyāmī donne des équations du second degré, et qui ont présenté les données principales pour la discussion précédente, vont me fournir encore le sujet de quelques autres observations.

- On remarquera d'abord combien les démonstrations de ces résolutions sont plus élégantes et plus scientifiques que celles de Mohammed Ben Mouçā, combien toute la discussion est prise de plus haut et maniée avec supériorité. Pour faire ressortir cette différence, j'ai placé en note, au-dessous des démonstrations d'Alkhayyāmī, celles de Mohammed Ben Mouçā. Seulement, j'ai traduit celles-ci en langage algébrique, afin qu'on puisse saisir immédiatement la marche suivie dans ces démonstrations, et plus ou moins déguisée dans leur rédaction originale. On remarquera aussi que la démonstration donnée par Mohammed Ben Mouçā, pour l'équation n° 8, est incomplète en ce qu'elle ne s'applique qu'à un seul des deux cas de la résolution.

Je saisis cette occasion pour m'excuser auprès de ceux de mes lecteurs qui pourraient trouver que les notes dont j'ai accompagné ma traduction sont trop chargées de détails élémentaires. Pour me justifier, je n'aurai qu'à expliquer quel était mon but dans la rédaction de ces notes. Je voulais reproduire fidèlement, avec tous leurs détails, les procédés de mon auteur, et cependant les traduire dans le langage des mathématiques modernes, pour épargner aux géomètres qui parcourraient cet opuscule l'ennui que leur causerait sans doute la lecture de ces longues résolutions et démonstrations parlées de l'algébriste arabe. Dans la partie de son traité qui contient la discussion des équations cubiques, ces courts aperçus contribueront peut-être à rendre apparents, même à ceux qui ne voudraient y jeter qu'un coup d'œil fugitif, le parallélisme et l'ensemble des constructions d'Alkhayyāmī. Mais, sous peine d'être accusé d'inconséquence, je ne pouvais supprimer pour une partie de l'ouvrage arabe ce que je donnais pour une autre. J'étais tenu de rendre compte de l'esprit des méthodes arabes, de les anatomiser aussi scrupuleusement que possible. Lorsque ces méthodes étaient élémentaires, ces explications entraînaient nécessairement des considérations élémentaires.

- Mais revenons encore aux équations du second degré, et à la manière dont Alkhayyāmī les construit au moyen des propositions connues des Données et du deuxième et du sixième livre des Éléments d'Euclide. Cette construction répond d'une manière remarquable à la supposition de Cossali (*), qui pensait que la transformation de ces propositions de géo-

*) Origine dell' algebra, t. I, p. 87-91.

métrie en théorèmes algébriques pouvait avoir eu lieu dans l'intervalle de temps qui sépare Euclide de Diophante. Seulement, cette transformation, au lieu d'avoir été la source de l'algèbre, ne se serait opérée qu'à une époque où cette science était déjà considérablement développée. Il se pourrait cependant que Cossali ne se fût pas entièrement trompé, et qu'Al-khayyâmi n'eût pas l'honneur d'avoir le premier aperçu les relations qui existent entre les propositions mentionnées et la construction des équations du second degré.

En effet, dans le Qitâb Alfihrist, un article relatif à Hipparque est conçu de la manière suivante (*):

« HIPPARQUE LE RAPHANIEN **). On a de lui, en fait d'ouvrages : le Traité d'algèbre, connu aussi sous le nom des Définitions. Cet ouvrage fut traduit et revu par Aboûl Wafâ Mohammed Ben Mohammed le calculateur, qui est aussi auteur d'un commentaire du même ouvrage, accompagné de démonstrations fondées sur des raisonnements géométriques. (Puis on a d'Hipparque un) Traité sur la division des nombres. »

Plus loin on lit, dans la même bibliographie, à l'article Aboûl Wafâ, parmi les ouvrages de ce géomètre énumérés très-complètement : « Commentaire de l'ouvrage d'Hipparque sur l'algèbre (***) ». »

Le témoignage de ces passages, qui attribuent à Hipparque des travaux en dehors de ceux qui l'ont illustré comme astronome, est corroboré par les mots suivants de Plutarque (****) : Χρύσιππον δὲ πάντας ἐλέγχουσιν οἱ ἀριθμητικοί, ὧν καὶ Ἱππαρχός ἐστιν.

Jé me borne à signaler ces faits, sans vouloir en aucune manière décider si les constructions des équations du second degré qu'on trouve dans l'algèbre d'Alkhayyâmi appartiennent véritablement à celui-ci, ou si elles sont empruntées soit à Aboûl Wafâ, soit à Hipparque.

Mais je me hâte d'arriver à ce qui occupe la partie la plus considérable du traité d'Alkhayyâmi, et à ce qui en constitue le mérite principal : à la construction des équations du troisième degré.

*) Voici le texte original de cet article d'après le Ms. de la Bibl. nationale, et revu sur le

Ms. de la bibl. de Leyde: أبرخس الرّفنى، وله من الكتب، كتاب صناعة الجبر، ويعرف بالحدود نقل هذا الكتاب وأصله أبو الوفا محمد بن محمد الحاسب وله أيضا شرحه وعلة بالبراهين الهندسية، كتاب قسمة الأعداد الرّفنى **) Le *Loubb Alloudb* explique ainsi ce nom (éd. de Veth., t. I, p. 117).

بفتحيتين ونون الى رَفينة [رَفية] بلد بأطرابلس الشام — L'origine syrienne qu'on attribue ici à Hipparque serait en contradiction avec la tradition reçue, suivant laquelle Hipparque était originaire de Nicée en Bithynie.

***) كتاب تفسير كتاب أبرخس في الجبر.

****) Opp. omnia. Paris, 1624, fol., t. III, p. 1047; cf. p. 732.

On dit quelquefois, et on pense assez généralement, que les Grecs ont construit des équations du troisième degré; mais cette opinion renferme, sinon une erreur, du moins une inexactitude. Il est vrai que les géomètres grecs ont résolu certains problèmes géométriques qui, ramenés à leur expression algébrique, conduisent à une équation du troisième degré. Mais on conviendra sans doute qu'il est très différent de résoudre géométriquement un semblable problème, ou de reconnaître que ce problème dépend d'une équation cubique; de traiter, entre autres problèmes de géométrie, quelques-uns du troisième degré, ou d'énumérer systématiquement les formes des équations cubiques, de les construire une à une, et de discuter les cas particuliers que présentent ces solutions; tout cela avec le but clairement prononcé (*) de donner implicitement, au moyen de ces théorèmes généraux, la résolution de tel problème spécial qu'on voudra se proposer. C'est ce qui n'a été fait nulle part par les géomètres grecs, mais c'est ce qu'on trouve chez les Arabes, et notamment dans l'algèbre d'Alkhayyâmî.

En effet, pour construire les équations cubiques, les géomètres grecs auraient, avant tout, dû les connaître. Or, comme on ne trouve, dans aucun des ouvrages géométriques des Grecs, nulle trace d'algèbre, il est impossible de dire que les Grecs aient construit des équations du troisième degré.

Ce sont les Arabes qui ont le mérite d'avoir, les premiers, essayé d'appliquer l'algèbre à la géométrie, et *vice versa*; d'avoir jeté les fondements de cette liaison du calcul avec la géométrie, qui, dans la suite, a éminemment contribué au développement des mathématiques (**).

Notre auteur prend même à tâche de montrer (***) comment ce progrès se fit chez les Arabes, et comment d'abord c'était Almâhânî qui, en partant d'un problème posé par les anciens, essaya de le résoudre en le ramenant à son expression algébrique. Ce premier essai ne fut pas couronné de succès; mais bientôt d'autres géomètres furent plus heureux, et les constructions qu'ils donnèrent de plusieurs équations cubiques, auxquelles ils furent conduits par des problèmes qui n'étaient encore que particuliers, firent naître chez Alkhayyâmî la conception d'une théorie systématique des équations du troisième degré.

Disons quelques mots du problème qui servit de point de départ à des découvertes aussi intéressantes. Dans la cinquième proposition du second livre du Traité de la sphère et du cylindre, Archimède se propose le pro-

*) Voir pag. 83, lig. 18.

**) Par rapport à cette connexion intime que les géomètres arabes cherchaient à établir entre les parties arithmétiques et les parties géométriques, des mathématiques on ne comparera peut-être pas sans intérêt le catalogue des ouvrages mathématiques d'Ibn Alhâitham, donné par cet auteur même, dans le passage que j'ai extrait d'Ibn Abî Oçaïbiah; voir pag. 73.

***) Voir pag. 2 et 3, et comparer Addition B, pag. 96. Voir aussi pag. 43, 54 et 81 ult. sqq.

blème de couper une sphère par un plan, de manière que le rapport de l'un des deux segments à l'autre soit égal à un rapport donné (*). Il démontre que ce problème dépend de la construction suivante : Étant donnés une ligne DZ et sur cette ligne deux points B, T, de telle sorte que B soit situé entre D et T, déterminer un point X de la ligne DZ, tel qu'on ait $XZ : ZT = BD^2 : DX^2$. Ramenons ce problème à son expression algébrique en désignant BD, ZT, ZD, DX, par a, b, c, x , respectivement ; il s'agira de déterminer x au moyen de la proportion $(c - x) : b = a^2 : x^2$, c'est-à-dire de construire l'équation cubique $x^3 + a^2 \cdot b = cx^2$.

Il paraît que ce lemme fixa d'une manière toute particulière l'attention des géomètres arabes. Comme Archimède n'en avait pas donné la solution, c'est peut-être qu'ils mettaient un certain point d'honneur à prouver qu'ils savaient surmonter aisément un obstacle qui semblait avoir arrêté Archimède (**). J'ai réuni, dans les additions A et B, différentes solutions de ce lemme, données par des géomètres arabes (**).

Quant à la manière dont Alkhayyâmî construit les équations cubiques, je vais donner une indication rapide des traits généraux de sa méthode, sans entrer dans les détails dont on se rendra facilement compte en parcourant les notes qui accompagnent ma traduction. Dans ces notes j'ai fidèlement reproduit les procédés du géomètre arabe, tout en m'ef-

*) Édition d'Oxford, p. 157 sqq.

**) Il est vrai que, d'après Eutocius, Archimède lui-même aurait donné une solution de ce problème qui revient à construire le lemme par la combinaison de la parabole $x^2 = y \frac{a^2}{c}$, avec l'hyperbole équilatère $y(c-x) = b \cdot c$. Il ne faut pas croire, cependant, que le commentaire d'Eutocius sur le Traité de la sphère et du cylindre n'ait pas été connu de bonne heure aux Arabes. On peut comparer à ce sujet un passage que j'ai extrait d'un manuscrit de la Bibliothèque nationale, pag. 103 ult. On trouve même dans un autre manuscrit de la Bibliothèque nationale (n° 952, 2, Supplément arabe), écrit à Chirâz l'an 358 de l'hégire (comp. page 117, première note), un fragment intitulé de la manière suivante : « Traité d'Eutocius (أوطوقيس), rendant compte des solutions, données par les anciens, du problème de la détermination de deux lignes entre deux autres lignes, de telle sorte que ces quatre lignes soient en proportion continue. Traduit par Aboul Haçan Thâbit Ben Korrah. Cet ouvrage contient dix-huit figures et (les solutions de) onze géomètres, à savoir : Héron (إيرن), Philon le Byzantin (فيلن البزنطى), Apollonius (أبولونيوس), Dioclès (ديوقليس), Pappus (بابوس), Sporus (سوداوس sic), Ménechme (مانخمس), Eratosthène (ارطستانس), Platon (افلاطن), Architas (ارخوطس), Nicomède (نوميدرس sic). » C'est une traduction du commentaire de la 3^e proposition du Traité de la sphère et du cylindre.

***) Les géomètres arabes désignent généralement ce problème comme celui posé dans la quatrième proposition du Traité de la sphère et du cylindre. C'est que le terme arabe, traduit par « proposition, » signifie à la lettre « figure, » et que, à compter d'après les figures, celle de la 5^e proposition n'est en effet que la 4^e du second livre, puisque la 1^{re} proposition de ce livre est sans figure.

forçant d'ôter à ceux-ci ce qu'ils avaient quelquefois de traînant et d'entortillé.

Alkhayyâm commence toujours par rendre homogène l'équation proposée. On remarquera que c'est pour ce but qu'il a mis en tête de la partie de son mémoire qui contient la construction des équations cubiques, deux théorèmes auxiliaires. En général, on aura souvent occasion d'admirer l'esprit, d'ordre, le génie systématique, qui distinguent notre auteur. Outre ces deux lemmes, c'est encore la construction de l'équation $x^3 = a$ qui sert pour ces transformations relatives à l'homogénéité, lorsqu'il s'agit de substituer un cube au terme connu de l'équation.

Ensuite Alkhayyâm détermine, au moyen des coefficients transformés de l'équation, deux coniques, et arrive, par l'intersection de celles-ci, à une égalité de deux solides. Soit en décomposant ceux-ci, soit en ajoutant ou en retranchant de part et d'autre des solides communs, il obtient enfin l'équation proposée.

Ramenons maintenant à son expression générale la méthode suivie par Alkhayyâm pour déterminer les deux coniques au moyen des constantes de l'équation proposée. En formant les équations analytiques des coniques qu'il emploie, puis en comparant entre elles ces équations, et en désignant par $x, \lambda, \mu, \nu, \xi, \varphi$ des quantités qui ne peuvent prendre que les valeurs $+1$ ou -1 (ce qui permettra de poser $x \cdot \lambda = \frac{x}{\lambda}$, $x^2 = 1$, etc.), on trouve que le procédé du géomètre arabe se réduit aux trois systèmes suivants :

$$\begin{aligned} \text{I. } y^2 + x^2 + \lambda \frac{a}{b} x &= 0 \quad \left\{ \begin{array}{l} x = 0 \dots \text{parabole.} \\ x = +1 \dots \text{cercle.} \\ x = -1 \dots \text{hyperbole.} \end{array} \right. \\ x^2 - \sqrt{b} \cdot y &= 0 \dots \text{parabole.} \\ x^4 + xbx^2 + \lambda ax &= 0 \quad \text{ou} \quad x^3 + xbx + \lambda a = 0. \\ \text{II. } yx - \sqrt{a \cdot m} &= 0 \dots \text{hyperbole.} \\ y^2 + xmx + \lambda mc &= 0 \dots \text{parabole.} \\ x^3 + \lambda cx^2 + a &= 0 \quad \text{ou} \quad x^3 + x\lambda cx^2 + xa = 0. \\ \text{III. } y^2 + x^2 + \lambda \left\{ \frac{a}{b} + \mu c \right\} x + \nu \frac{ac}{b} &= 0 \quad \left\{ \begin{array}{l} x = +1 \dots \text{cercle.} \\ x = -1 \dots \text{hyperbole.} \end{array} \right. \\ yx + \xi \sqrt{b} \cdot x + \varphi \frac{a}{\sqrt{b}} &= 0 \dots \text{hyperbole.} \end{aligned}$$

$$\begin{aligned} x^4 + \lambda \left\{ \frac{a}{b} + \mu c \right\} x^3 + \left\{ b + \nu \frac{ac}{b} \right\} x^2 + 2\xi\varphi ax + \frac{a^2}{b} &= 0, \\ \text{ou } x^4 + x\lambda \left\{ \frac{a}{b} + \mu c \right\} x^3 + x \left\{ b + \nu \frac{ac}{b} \right\} x^2 + 2x\xi\varphi ax + x \frac{a^2}{b} &= 0. \end{aligned}$$

Le système I sert à la construction des équations 3, 13, 14, 15, lorsqu'on pose

$$\begin{array}{lll} 3. & x = 0 & \lambda = -1 \quad b = 1 \\ 13. & x = +1 & \lambda = -1 \end{array} \qquad \begin{array}{lll} 14. & x = -1 & \lambda = +1 \\ 15. & x = -1 & \lambda = -1 \end{array}$$

Le système II est employé pour les équations 16 à 18, lorsqu'on fait

$$16. \quad m = \sqrt[3]{a} \quad x = -1 \quad \lambda = -1$$

$$17. \quad m = \sqrt[3]{a} \quad x = +1 \quad \lambda = -1$$

$$18. \quad m = c \quad x = -1 \quad \lambda = +1.$$

Enfin le système III correspond aux équations 19 à 25, lorsqu'aux quantités $x, \lambda, \mu, \nu, \xi, \varphi$ on donne les valeurs suivantes :

	19.	20.	21.	22.	23.	24.	25.
x	+ 1	- 1	+ 1	- 1	- 1	+ 1	- 1
λ	- 1	+ 1	+ 1	- 1	- 1	- 1	+ 1
μ	- 1	- 1	- 1	- 1	+ 1	+ 1	+ 1
ν	- 1	+ 1	- 1	+ 1	- 1	+ 1	- 1
ξ	+ 1	- 1	- 1	- 1	- 1	- 1	- 1
φ	- 1	+ 1	- 1	- 1	- 1	+ 1	+ 1

En divisant l'équation du quatrième degré qui résulte du système III par $(x \pm \frac{a}{b})$, on la ramène à l'équation cubique proposée

$$x^3 + \rho x^2 + \sigma b x + \tau a = 0,$$

$$\begin{aligned} \text{puisque} \quad & \left\{ x^3 + \rho x^2 + \sigma b x + \tau a \right\} \cdot \left\{ x + \frac{\tau}{\sigma} \cdot \frac{a}{b} \right\} = \\ & = x^4 + \left\{ \rho c + \frac{\tau}{\sigma} \cdot \frac{a}{b} \right\} x^3 + \left\{ \sigma b + \frac{\rho \tau}{\sigma} \cdot \frac{ac}{b} \right\} x^2 + 2\tau a x + \frac{\tau^2}{\sigma} \cdot \frac{a^2}{b} = \\ & = x^4 + \left\{ \sigma \tau \frac{a}{b} + \rho c \right\} x^3 + \sigma \left\{ b + \rho \tau \frac{ac}{b} \right\} x^2 + 2\tau a x + \sigma \frac{a^2}{b}, \end{aligned}$$

où les valeurs à donner aux quantités ρ, σ, τ sont les suivantes :

	19.	20.	21.	22.	23.	24.	25.
ρ	+ 1	+ 1	- 1	- 1	+ 1	- 1	- 1
σ	+ 1	- 1	+ 1	- 1	- 1	+ 1	- 1
τ	- 1	+ 1	+ 1	- 1	- 1	- 1	+ 1

Alkhayyâmi n'a pas remarqué que, dans l'équation générale du troisième degré, on peut toujours faire disparaître le second terme, ce qui lui aurait épargné l'emploi des systèmes II et III (*).

Après avoir esquissé cet exposé général des constructions d'Alkhayyâmi, examinons encore quelques détails de sa méthode.

Observons d'abord qu'Alkhayyâmi, pas plus que Mohammed Ben Mouçâ, ne tient aucun compte des racines négatives, ni, à plus forte raison, des racines imaginaires; dès qu'un problème n'admet pas des racines réelles et positives, il le déclare « impossible. » Aussi ne trouve-t-on pas dans le tableau des équations d'Alkhayyâmi, complet à cela près, ces formes, où la somme de tous les termes, formant le premier membre, est égale à

*) Dans une notice sur l'algèbre d'Alkhayyâmi, insérée au tome XL du Journal de M. Crelle, j'ai montré (au § 3 de cette notice) comment on est très-naturellement conduit à ces trois systèmes du géomètre arabe, en partant des principes analytiques de la construction des équations du troisième degré.

zéro (*). Les algébristes arabes, qui considèrent tous les éléments d'une équation, et notamment aussi l'inconnue, comme des quantités positives, ne pouvaient pas avoir l'idée de ces formes.

Toutefois, il est très-surprenant qu'Alkhayyâmî, en construisant les équations du troisième degré, n'ait pas remarqué l'existence des racines négatives. Rien, en effet, n'est plus propre à montrer celles-ci pour ainsi dire d'une manière palpable, et en même temps à donner des idées justes et nettes sur leur nature, que la construction des équations. C'est la vicieuse habitude de ne tracer que des demi-cercles, des demi-para-boles, et une seule branche des hyperboles, qui a fait manquer au géo-mètre arabe cette belle découverte.

Ce défaut de ses constructions a même une fois empêché notre auteur de voir qu'une équation a deux racines positives, dont il ne construit qu'une seule (voir la note p. 68). Il tombe dans une autre erreur semblable, mais plus regrettable encore, parce qu'elle touche à quelques considérations fondamentales sur la nature des équations cubiques. C'est qu'Alkhayyâmî, en construisant l'équation $x^3 + bx = cx^2 + a$, ne trouve qu'une seule racine positive, tandis qu'elle en admet trois (voir la note p. 65) (**).

Les Arabes savaient déjà qu'il existait une certaine équation du second degré à deux racines (**); si donc Alkhayyâmî avait remarqué que pareil-lement une équation cubique admettait, en certains cas, trois solutions, il est difficile à croire que cette coïncidence entre le degré du problème et le nombre des solutions ne l'eût pas frappé et conduit à des réflexions, et peut-être à des découvertes, ultérieures.

A l'exception des deux erreurs dont je viens de parler, Alkhayyâmî discute avec une justesse parfaite le nombre des racines positives, ou, si l'on veut, le nombre des intersections des deux coniques qui construisent l'équation, du côté des coordonnées positives. Il ne trouve donc qu'une seule solution pour les équations 3, 13, 15, 16, 18, 19, 22, 23, 24, dont le terme connu est affecté du signe négatif. Il en trouve deux pour les équations 14, 17, 20, 21, 25 (***), dont le terme connu est affecté du signe positif, mais dont les deux racines conjuguées sont ou imaginaires ou posi-

*) $x + a = 0$, $x^2 + a = 0$, $x^2 + bx + a = 0$, $x^3 + a = 0$, $x^3 + bx + a = 0$, $x^3 + cx^2 + a = 0$, $x^3 + cx^2 + bx + a = 0$. — Ces formes sont également négligées par *Cardan*, par *Viète*, et même par *Harriot*, bien que celui-ci fût auteur de l'usage d'écrire les équations en forme d'une somme algébrique égale à zéro. *Descartes* est le premier qui discute ces formes. Voir les œuvres de *Descartes* publiées par V. Cousin, tom. V, p. 386 à 428, et particulièrement pages 389, 399, 404, 405.

**) Ici l'erreur provient de ce que l'auteur n'a pas bien discuté les intersections du cercle et de l'hyperbole fig. 28, 1; car les deux courbes peuvent avoir deux rencontres de plus sur les parties de leurs circonférences comprises entre A et K.

***) *Diophante* ne parle encore que d'une seule racine en ce cas.

****) Abstraction faite de l'erreur commise dans la construction de cette dernière équation.

tives. Pour ces dernières équations, lorsqu'elles n'admettent pas des racines positives, il les déclare « impossibles, » et il établit parfaitement le critérium géométrique de la réalité des deux racines conjuguées, à savoir la rencontre en deux points, ou le contact des deux coniques qui construisent l'équation. Au cas du contact, il n'admet naturellement qu'une seule racine, et ne distingue pas deux racines égales.

Pour compléter sa théorie, Alkhayyâmi aurait dû établir encore des relations entre les coefficients de l'équation proposée, correspondant à cette limite qui est géométriquement représentée par le contact des deux coniques.

C'est ce qu'il ne fait réellement pas. Mais, approchant de ce but, il distingue quelquefois certains cas, et énonce en même temps que dans l'un ou dans l'autre de ces cas le problème est, ou n'est pas, ou possible, ou impossible. En ramenant les relations, établies de cette manière, à leur expression algébrique, on trouve par exemple qu'il montre pour l'équation

17 : que tant que $\sqrt[3]{a} = \frac{c}{2}$, il existe nécessairement deux racines positives ;

que lorsque $c > \sqrt[3]{a} > \frac{c}{2}$, elles peuvent exister ou non ; et que

lorsque $\sqrt[3]{a} = c$, elles ne peuvent pas exister du tout. Pour l'équation 21 :

que lorsque $a^{\frac{2}{3}} + b^2 \sqrt{c} < \sqrt{a} \cdot bc$, deux racines positives existent nécessairement, tandis que lorsque $a^{\frac{2}{3}} + b^2 \sqrt{c} > \sqrt{a} \cdot bc$, elles peuvent exister ou non.

Pour l'équation 24 : que lorsque $\frac{a}{b} = c$, elles n'existent pas (*). Pour l'équation 25 : que lorsque $\frac{a}{b} > c$, elles peuvent exister ou

non ; mais que lorsque $\frac{a}{b} = c$, elles existent nécessairement (**).

D'autres géomètres arabes réussirent mieux dans la détermination de cette limite, qui fut tentée seulement par Alkhayyâmi. C'est sous ce rapport qu'on ne remarquera peut-être pas sans intérêt les morceaux dont j'ai rendu compte dans les additions B et C. J'y ai montré comment un théorème démontré par Eutocius contenait le germe de ces découvertes, et comment, en partant de la simple considération que l'expression

*) Parce qu'alors la construction donne seulement la troisième racine positive ; mais malheureusement aussi dans le cas $\frac{a}{b} < c$, l'auteur (comme je l'ai fait observer ci-dessus) ne découvre que cette troisième racine.

**) En conséquence de l'autre erreur mentionnée ci-dessus, l'auteur ne trouve ici, en vérité, qu'une seule de ces deux racines positives.

$(a - x) x^2$ devient un maximum pour $x = \frac{2}{3} a$, les géomètres arabes sont parvenus à exprimer, avec justesse et élégance, les limites de la solubilité dans des problèmes du troisième degré. On trouvera notamment, dans l'addition B, l'énoncé parfait de la relation $4c^3 = 27a$, qui correspond à cette limite pour l'équation $x^3 - cx^2 + a = 0$.

Quant aux équations du quatrième degré, Alkhayyâmî déclare qu'il est impossible de les construire au moyen des méthodes qu'il a développées (voir p. 79). Cependant on reconnaîtra, en parcourant l'addition D, que les Arabes ont non-seulement construit des problèmes du quatrième degré (1^{er} problème de cette addition), mais encore qu'ils ont ramené des problèmes de ce degré à leur expression algébrique (2^e problème de la même addition); de sorte qu'on peut dire, en toute rigueur, qu'ils ont construit des équations du quatrième degré au moyen de l'intersection de deux coniques.

Enfin, on trouve qu'un célèbre géomètre arabe (voir p. 73) a construit l'équation binôme du cinquième degré. On peut croire qu'il y employa, soit une des courbes supérieures dont les Arabes ont pu puiser la connaissance dans les ouvrages des géomètres grecs, soit un de ces procédés mécaniques dont ces ouvrages offrent également des exemples.

Dans la dernière partie de son traité, Alkhayyâmî propose même encore l'équation binôme du sixième degré (dont la résolution, en effet, est très-facile). En général, cette partie de son algèbre doit intéresser surtout au point de vue historique, et comme montrant cet esprit de système dont le travail tout entier d'Alkhayyâmî porte le cachet.

Je veux parler de la discussion des équations à termes fractionnaires, dont les dénominateurs sont des puissances de l'inconnue. L'auteur ramène ces équations à ses vingt-cinq équations primitives : les unes, en substituant à l'inconnue une nouvelle inconnue qui est la valeur réciproque de la première; les autres, en multipliant l'équation proposée par une puissance de l'inconnue.

Pour compléter un ensemble de données concernant les travaux des Arabes sur les problèmes qui dépendent de l'intersection de deux coniques, j'ai ajouté (*), aux morceaux dont je viens de rendre compte, l'extrait d'un traité arabe de la trisection de l'angle. On sait que les deux problèmes de la duplication du cube et de la trisection de l'angle sont étroitement liés l'un à l'autre, et que, depuis Platon jusqu'à Viète, ils n'ont pas cessé d'exercer le génie des géomètres. J'ai essayé de montrer, dans les morceaux précédents, les développements importants qu'avait reçus, chez les Arabes, le premier de ces deux problèmes. J'espère

*) Voir addition E.



donc qu'on accordera peut-être aussi quelque intérêt aux solutions qu'ils ont données du second.

Je l'espère d'autant plus, que ce petit traité réunit, d'une manière singulière, plusieurs noms des plus célèbres qui ont illustré l'astronomie et les mathématiques orientales, tels que ceux d'Alqoûhî, d'Albîroûnî, de Thâbit Ben Korrah. Pour ne pas trop dépasser les limites prescrites à la publication présente, et pour rendre compte, en moins de dix pages, de ce qui en occupe trente-six dans le manuscrit arabe, j'ai été obligé de supprimer, dans cet extrait, tout ce qui n'était pas essentiel, tout ce à quoi le lecteur peut facilement suppléer lui-même.

On verra encore, dans les deux dernières sections de l'addition E, que les Arabes ont ramené la construction de l'ennéagone inscrit au cercle à une équation cubique; et qu'ils ont construit le côté de l'heptagone inscrit au cercle au moyen de l'intersection de deux coniques.

En comparant entre eux les traités de Mohammed Ben Moûçâ et de Behâ Eddîn, Colebrooke était arrivé à la conclusion (*Algebra of the Hindus. Dissertation*, p. LXXIX), que l'algèbre était restée à peu près stationnaire entre les mains des musulmans. Ne serait-on pas également fondé à mettre en doute les découvertes d'Apollonius, d'Archimède, de Diophante, parce que ni les *Éléments* d'Euclide, ni les « *Noces de la philologie et de Mercure* » de Marcianus Capella, ne nous font connaître les plus beaux monuments qu'ait laissés la géométrie grecque?

Non, les mathématiques ne sont pas restées stationnaires en Orient depuis Mohammed Ben Moûçâ jusqu'à Behâ Eddîn; elles ont pris, à une époque intermédiaire, un essor et un développement dignes d'une véritable admiration. Les morceaux qui font l'objet de la publication présente sont choisis parmi les travaux de cette époque, et je m'estimerais heureux si on trouvait que leur contenu justifie réellement le jugement que je viens d'émettre.

Paris, le 10 juillet 1851.

TABLE DES MATIÈRES.

I. Algèbre d'Alkayyāmī.

	Pages.
Introduction.....	1
Tableau des équations.....	9
Équations binômes.....	13
Équations trinômes du second degré.....	17
Théorèmes préliminaires pour la construction des équations du troisième degré.....	28
Équations trinômes du troisième degré.....	32
Équations quadrinômes du troisième degré.....	46
(Notice sur Alqodhi, page 55.)	
Équations à termes fractionnaires.....	69
(Notice sur Ibn-Alhaltham, page 73.)	
Remarques additionnelles d'Alkayyāmī.....	81

II. Additions.

A.....	91
B.....	96
C.....	103
D.....	114
E.....	117

Le lecteur est prié de vouloir bien consulter les Errata et Corrigenda indiqués à la fin du texte français.

MÉMOIRE

DU SAGE EXCELLENT

GHİYÂTH EDDÎN ABOÛL FATH OMAR BEN IBRÂHÎM

ALKHAYYÂMÎ DE NICHÂBOÛR

(que Dieu sanctifie son Âme précieuse !)

SUR LES DÉMONSTRATIONS

DES PROBLÈMES DE L'ALGÈBRE.

Au nom de Dieu clément et miséricordieux !

Louange au Dieu , seigneur des mondes, une fin heureuse à ceux qui le craignent, et point d'inimitié, si ce n'est contre les injustes. Que la bénédiction divine repose sur les prophètes, et particulièrement sur Mohammed et toute sa sainte famille.

Une des théories mathématiques dont on a besoin dans la partie des sciences philosophiques connue sous le nom des sciences mathématiques (*), c'est l'art de l'algèbre, lequel a pour but la détermination des inconnues, soit numériques, soit géométriques. Il se rencontre dans cette science des problèmes, dépendant de certaines espèces très-difficiles de théo- 2

*) Voici un passage tiré d'un manuscrit inédit de la Bibliothèque nationale, intitulé « Mémoires des Ikhwân Alçafâ », recueil encyclopédique, composé d'une suite de traités dont les premiers ont pour objet les sciences mathématiques : « Les sciences philosophiques se divisent en quatre espèces : 1° les sciences mathématiques, 2° les sciences logiques, 3° les sciences physiques, 4° les sciences métaphysiques. Les sciences mathématiques à leur tour se divisent en quatre parties : 1° l'arithmétique, 2° la géométrie, 3° l'astronomie, 4° la musique. » — Voyez aussi *Hadji Khalfa*, éd. de Fluegel, vol. I, introd., cap. I, sect. 4, « de divisionibus doctrinarum », et particulièrement p. 29-30 et p. 34, puis vol. III, p. 522.

rèmes préliminaires, dans la solution desquels ont échoué la plupart de ceux qui s'en sont occupés. Quant aux anciens, il ne nous est pas parvenu d'eux d'ouvrage qui en traite; peut-être, après en avoir cherché la solution et après les avoir étudiés, n'en avaient-ils pas pénétré les difficultés; ou peut-être leurs recherches n'en exigeaient pas l'examen; ou enfin leurs ouvrages à ce sujet, s'il y en a, n'ont pas été traduits dans notre langue. Quant aux modernes, c'est Almâhânî (*) qui parmi eux conçut l'idée de résoudre algébriquement le théorème auxiliaire employé par Archimède dans la quatrième proposition du second livre de son traité de la sphère et du cylindre; or il fut conduit à une équation renfermant des cubes, des carrés et des nombres, qu'il ne réussit pas à résoudre, après en avoir fait l'objet d'une longue méditation (**). On déclara donc que cette résolution était impossible, jusqu'à ce que

*) « Mohammed Ben Îcâ Abou Abdallah Almâhânî; au nombre des savants qui ont cultivé l'arithmétique et la géométrie; d'une force de génie célèbre entre tous les savants qui se sont occupés de ces matières. Il vécut à Bagdad, et a composé des ouvrages sur cette partie des sciences. Nous en citons : le traité des latitudes des étoiles, — le traité du rapport, — le traité intitulé Sur les vingt-six propositions du (premier) livre (des éléments) d'Euclide, dans la démonstration desquelles on n'a pas besoin de la supposition du contraire. » Je traduis ceci du Ms. du *Târîkh al Hoqamî* que possède la Bibliothèque nationale, et qui est conforme dans ce passage au texte publié par Casiri (vol. I, p. 431). Au lieu de عروض « latitudes », le Ms. du *Fihrist* de la même bibl. porte عروض, le Ms. du *Fihrist* de la bibl. de Leyde فروس (عروس?). Ce dernier Ms., au lieu de النسبة « du rapport » ($\frac{a}{b}$), porte التشبيه « de la similitude ». Les Arabes se sont occupés surtout aussi de la composition des rapports تأليف النسب; voir à ce sujet Chasles, *Aperçu historique*, etc., note vi. Quant au troisième ouvrage cité, le Ms. parisien du *Fihrist* porte من المقالة الاولى. التى لا يحتاج فى شىء منها الى الخلاف. Voici les vingt-six propositions dont il s'agit : 5, 8, 9, 13, 15-18, 20, 21, 24, 28, 30, 32-38, 41-44, 47, 48. Casiri n'a pas compris le sens de ce dernier passage. J'observe encore que plusieurs mathématiciens arabes ont écrit sur l'arrangement systématique des *Éléments* d'Euclide; j'ai rencontré dans les Mss. de la bibl. de Leyde deux mémoires de ce genre. — Voir encore, au sujet d'Almâhânî, *Notices et Extraits des manuscrits*, etc., t. VII, p. 58, 80, 102-112, 164. D'Herbelot, *Bibl. orient.*, Paris, 1697, fol. p. 524, col. b, p. 532, col. a.

**) Voir ci-dessous la discussion de l'équation n° 17, et les additions A et B.

parût (*) Abou Djafar Alkhâzin (**), qui résolut l'équation à l'aide des sections coniques. Après lui tous les géomètres avaient besoin d'un certain nombre des espèces des susdits théorèmes (***), et l'un en résolut une, et l'autre une autre. Mais aucun d'eux n'a rien émis sur l'énumération de ces espèces, ni sur l'exposition des cas de chaque espèce, ni sur leurs démonstrations, si ce n'est relativement à deux espèces, que je ne manquerai pas de faire remarquer (****). Moi, au contraire, je n'ai jamais cessé de désirer vivement de faire connaître avec exactitude toutes ces espèces, ainsi que de distinguer parmi les cas de chaque espèce les possibles d'avec les impossibles, en me fondant sur des démonstrations; car je savais combien est urgent le besoin de ces théorèmes dans les difficultés des problèmes. Toutefois je ne pouvais pas m'appliquer d'une manière suivie à la composition d'un semblable exposé, ni lui vouer une méditation persévérante, empêché que j'en étais par les désastres survenus. Nous avons été témoin du dépérissement des hommes de la science, réduits maintenant à une mince troupe, dont le nombre est aussi petit que ses afflictions sont grandes, et à laquelle les rigueurs de la

*) La leçon *تبع* est confirmée en effet par la citation que *Hadji Khalfa* fait de ce passage (éd. de Fluegel, tom. II, p. 584); mais la leçon *نبح* que je dois à l'avis bienveillant de

M. Reinaud m'a paru tellement préférable, que je n'ai pas hésité à la recevoir dans le texte.

**) « Abou Djafar Alkhâzin, dont ce surnom est plus connu que son véritable nom, Persan d'origine, versé dans le calcul, la géométrie et la théorie des mouvements planétaires, habile à la fois dans la construction des instruments astronomiques et dans leur emploi, renommé pour cette partie des sciences dans son temps. Nous citons de ses écrits : la table des Saffhas, l'ouvrage le plus célèbre et le plus complet qui existe sur cette matière; — le traité des problèmes arithmétiques. » Ici encore Casiri s'est trompé en traduisant : *Liber Tabularum Latitudinum*. Les Saffhas forment une partie de l'astrolabe des astronomes arabes; on trouve à ce sujet d'amples détails dans l'excellent mémoire de M. *Sédillot* sur les instrum. astron. des Arabes, p. 154-162 et 185-191. — Outre les ouvrages mentionnés ci-dessus, la bibliothèque de Leyde possède un commentaire du dixième livre des *Éléments* d'Euclide, par Abou Djafar Alkhâzin.

***) A savoir, des équations cubiques.

****) Voir p. 11 et 12, et les discussions des équations n° 17 et n° 21.

fortune ont imposé l'obligation commune de s'adonner, tant qu'elles durent, au perfectionnement et à l'exploration d'une
3 seule science. Mais la plupart de ceux qui par le temps actuel ont l'air de savants, déguisent la vérité par le mensonge, ne dépassent pas les limites de l'imposture et de l'ostentation savante, et ne font servir la quantité de savoir qu'ils possèdent qu'à des buts matériels et vils. Et s'ils rencontrent un homme distingué (*) par la recherche de la vérité et l'amour de la véracité, s'efforçant de rejeter la vanité et le mensonge, et d'abandonner l'ostentation et la tromperie, ils en font l'objet de leurs mépris et de leurs railleries. C'est Dieu que nous implorons en tout état, c'est lui qui est notre refuge.

Dieu m'a gratifié de l'intimité de son excellence notre glorieux et incomparable seigneur, le grand juge, l'imâm, le seigneur Aboû Tâhir, que Dieu prolonge son élévation et confonde ceux qui nourrissent contre lui de l'envie ou de l'inimitié! — lorsque j'avais désespéré déjà de jamais rencontrer un homme possédant aussi complètement toutes les perfections pratiques et théoriques, toutes, depuis la pénétration profonde dans les sciences jusqu'à la fermeté inébranlable dans ses actions et dans ses efforts de faire du bien à chacun de ses frères mortels. Sa présence dilate ma poitrine, sa société rehausse ma gloire; ma cause grandit en empruntant de la lumière à sa splendeur, et ma force est augmentée par sa munificence et par ses bienfaits. Je me sentis donc obligé de renouer le fil de ces recherches que m'avaient fait perdre les vicissitudes de la fortune, et de choisir parmi ce que j'ai approfondi en fait de la moelle des théories philosophiques avec quoi je puisse approcher de son siège sublime. C'est ainsi que j'ai commencé à énumérer ces

*) La ponctuation donnée dans le texte est celle du Ms. B. Dans les deux autres manuscrits le mot n'est pas ponctué du tout. Peut-être vaudrait-il mieux lire *moannayan* « qui se fatigue à rechercher, etc. ; » ce qui s'accorderait surtout avec le *moudjtahidan* suivant.

espèces de théorèmes algébriques, vu que les sciences mathématiques sont les plus dignes de la préférence. Et je saisis la corde du concours divin, espérant que Dieu m'assiste à poursuivre ce but, en indiquant avec exactitude jusqu'où s'étendent mes recherches et jusqu'où celles de mes prédécesseurs, dans ces parties des sciences nobles entre toutes les autres. J'appuie ma main sur l'anse solide de la protection du Très-Haut. C'est 4 lui qui est le seigneur de l'exaucement, et c'est sur lui que repose notre confiance en tout état.

Avec l'assistance de Dieu et avec son concours précieux, je dis : L'algèbre est un art scientifique. Son objet, ce sont le nombre absolu et les grandeurs mesurables, étant inconnus, mais rapportés à quelque chose de connu de manière à pouvoir être déterminés ; cette chose connue est une quantité ou un rapport individuellement déterminé, ainsi qu'on le reconnaît en les examinant attentivement (*); ce qu'on cherche dans cet art, ce sont les relations qui joignent les données des problèmes à (l'inconnue), qui de la manière susdite forme l'objet de l'algèbre (**). La perfection de cet art consiste dans la connais-

*) Ou bien : « Et on arrive à cette chose connue en analysant l'énoncé du problème. » En effet, les données du problème, c'est-à-dire les coefficients de l'équation algébrique à laquelle on le ramène, ne sont presque toujours indiquées dans les énoncés qu'indirectement.

**) On peut comprendre ce passage de différentes manières, tant à cause des pronoms suffixes féminins qu'on peut rapporter soit à *cindah*, soit à *awdridou*, qu'à cause du mot *maoudoudon* employé deux fois de suite dans deux sens différents ; enfin à cause du mot *awdridou*, qui proprement signifie « les accidents », par opposition à *maoudoudon*, « la substance » ; de sorte qu'il faudrait traduire : « Ce sont les attributs qui joignent leur sujet à ce qui de la manière susdite forme l'objet de l'algèbre », ou « à ce qui ... constitue les données du problème » ; car on trouve aussi le mot *maoudoudon* employé dans ce dernier sens, exprimé ordinairement par le mot *mafroudou*. Le sens du passage reste cependant toujours essentiellement le même, c'est-à-dire que l'auteur veut parler des relations algébriques qui existent entre les données et l'inconnue, et que l'algébriste a à établir. — La définition donnée par l'auteur, et qui, grâce surtout aux pronoms suffixes, ne se distingue pas par la clarté, a cela de remarquable, qu'elle n'a plus du tout égard aux deux opérations préliminaires dont se compose le nom arabe de l'algèbre, et qui en effet ne constituent que la résolution des équations du premier degré. C'est un indice d'un état avancé de la science, d'un point de vue plus élevé, parfaitement en harmonie avec la manière supérieure dont l'auteur dans la suite traite son sujet. — Voir, pour d'autres définitions arabes de l'algèbre, *Hadji Khalifa*, éd. de

sance des méthodes mathématiques au moyen desquelles on est en état d'effectuer le susdit genre de détermination des inconnues, soit numériques, soit géométriques.

Par grandeurs mesurables j'entends la quantité continue, dont il y a quatre espèces : la ligne, la surface, le solide et le temps, ainsi qu'on le trouve exposé généralement dans les catégories, et spécialement dans la métaphysique (*). Quelques savants considèrent l'espace comme une subdivision de la surface, subordonnée au genre de la quantité continue(**); mais un examen exact de cette question prouve contre eux que c'est une erreur. La vérité est que l'espace est une surface dans un état et dans des circonstances dont la détermination exacte est étrangère au sujet qui nous occupe ici. Il n'est pas d'usage d'introduire le temps parmi les objets des problèmes algébriques; mais s'il avait été fait, cela aurait été parfaitement admissible.

Il est d'habitude chez les algébristes de nommer dans leur art l'inconnue qu'on se propose de déterminer « chose », et son produit en elle-même « carré », le produit de son carré en la chose « cube », le produit de son carré en lui-même « carré-carré », le produit de son cube en son carré « quadrato-cube, » le produit de son cube en lui-même « cubo-cube », et ainsi de suite à une étendue quelconque. Il est connu, par l'ouvrage d'Euclide sur les Éléments (***), que tous ces degrés sont en

Fluegel, tom. II, p. 582; l'édition de *Moh. Ben Modçd*, par Rosen, p. 177-186, cf un passage très-intéressant des *Prolégomènes d'Ibn Khaldoun* que j'avais extrait d'un Ms. de la bibliothèque de Leyde, mais que je ne reproduis pas ici, parce que le texte des *Prolégomènes* sera prochainement publié par M. Quatremère dans les *Notices et Extraits*. Cela me permet de me borner à dire qu'on y trouvera ce passage relatif à l'algèbre dans le chapitre qui traite des sciences mathématiques. Ibn Khaldoun y discute ces sciences dans l'ordre suivant : l'arithmétique (spéculative), — le calcul, — l'algèbre, — les opérations commerciales, — les héritages, — la géométrie, — la théorie des figures sphériques et des coniques, — la géodésie, — l'optique, — l'astronomie, — la théorie des tables astronomiques. Le tout occupe environ cinq pages du Ms. de Leyde.

*) *Πρώτη φιλοσοφία*.

**) Voir *Aristote*, *Categor.*, cap. 6; *Phys.* IV, cap. 4 ult.

***) Voir *Euclide*, *Éléments*, IX, prop. 8 sqq.

proportion continue, c'est-à-dire l'unité est à la racine comme la racine au carré et comme le carré au cube (*); conséquemment le nombre est aux racines comme les racines aux carrés, comme les carrés aux cubes et comme les cubes aux carré-carrés, et ainsi de suite (**).

Il faut qu'on sache que ce mémoire ne saurait être compris 5 que par ceux qui possèdent une connaissance parfaite des ouvrages d'Euclide sur les Éléments et sur les Données, ainsi que des deux (premiers) livres des Coniques d'Apollonius. Pour quiconque serait en défaut relativement à la connaissance d'un de ces trois ouvrages, il n'y a pas moyen de saisir bien exactement les théories que je vais exposer. Déjà je n'ai pas réussi sans peine à me borner, dans les citations à faire dans ce traité, aux trois livres que je viens de nommer.

Les résolutions algébriques ne s'effectuent qu'à l'aide de l'équation, c'est-à-dire en égalant ces degrés les uns aux autres, comme cela est bien connu. Si l'algébriste emploie le carré-carré dans des problèmes de mesure, cela doit s'entendre métaphoriquement (***) et non pas proprement, puisqu'il est absurde que le carré-carré soit au nombre des grandeurs mesurables. Ce qui rentre dans la catégorie des grandeurs mesurables, c'est d'abord une dimension, à savoir la racine, ou, par rapport à son carré, le côté; puis deux dimensions : c'est la surface; et le carré (algébrique) fait partie des grandeurs mesurables, étant la surface carrée. Enfin trois dimensions : c'est le solide; et le cube se trouve parmi les grandeurs mesurables, étant le solide terminé par six carrés. Or comme il n'y a pas d'autre dimension, il ne peut rentrer dans la catégorie des grandeurs mesurables ni le carré-carré, ni à plus forte

*) $1 : x = x : x^2 = x^2 : x^3$.

**) $a : ax = ax : ax^2 = ax^2 : ax^3 = ax^3 : ax^4 = \text{etc.}$

***) Voir au sujet du terme de rhétorique *madjdz* le commentaire des Makâmes de Hariri. Nouv. éd.; Paris, 1847, p. A.

raison les degrés supérieurs (*). Et si l'on dit que le carré-carré fait partie des grandeurs mesurables, cela se dit par rapport à sa valeur réciproque employée dans les problèmes de mesure (**), et non pas parce que les quantités carré-carrées elles-mêmes soient mesurables, ce qui constitue une différence. Le carré-carré ne fait donc partie des grandeurs mesurables ni essentiellement ni accidentellement; et on ne peut le comparer au pair et à l'impair qui en font partie accidentellement, par rapport au nombre au moyen duquel la continuité des grandeurs mesurables est représentée comme discontinue.

Ce qu'on trouve dans les ouvrages des algébristes, relativement à ces quatre quantités géométriques, entre lesquelles se forment les équations, à savoir : nombres absolus, côtés, carrés et cubes, ce sont trois équations renfermant le nombre, des côtés et des carrés (***). Nous allons, au contraire, proposer des méthodes au moyen desquelles on pourra déterminer l'inconnue dans l'équation renfermant les quatre degrés dont nous venons de dire que ce sont eux exclusivement qui peuvent faire partie des grandeurs mesurables, à savoir : le nombre, la chose, le carré et le cube.

- 6 Les espèces d'équations dont la démonstration (****) dépend des propriétés du cercle, c'est-à-dire des deux ouvrages d'Euclide sur les Éléments et sur les Données, se démontrent bien facilement. Pour celles qu'on ne peut démontrer qu'à l'aide

*) Il suffit de rappeler que c'est *Descartes* qui a répondu victorieusement à cette argumentation, universellement adoptée avant lui.

**) Il est facile d'imaginer un semblable problème. Supposons, par exemple, qu'il soit question d'une sphère dont le volume soit à l'unité de volume comme une ligne donnée a à son rayon; en désignant ce rayon par r , on aura $\frac{a}{r^3} = \frac{4\pi}{3}$.

*** $x^2 + bx = a$, $x^2 + a = bx$, $x^2 = a + bx$. L'auteur, voulant parler ici du progrès qu'il a fait faire à l'algèbre, fait abstraction en cet endroit des trois formes $a = x$, $a = x^2$, $bx = x^2$, qui se trouvaient aussi dans les ouvrages de ses prédécesseurs, comme de problèmes tout à fait inférieurs.

****) C'est-à-dire la démonstration des procédés qui constituent leur résolution.

des propriétés des sections coniques, il faut s'en rapporter à ce qui est contenu dans les deux (premiers) livres des Coniques. Lorsque l'objet du problème est un nombre absolu (*), ni moi, ni aucun des savants qui se sont occupés d'algèbre, n'avons réussi à trouver la démonstration de ces équations (et peut-être un autre qui nous succédera comblera-t-il cette lacune), que lorsqu'elles renferment seulement les trois premiers degrés, à savoir : le nombre, la chose et le carré. Pour ces espèces, dont la démonstration s'effectue au moyen de l'ouvrage d'Euclide, j'en indiquerai la démonstration numérique (**). Et sachez que la démonstration géométrique de ces procédés ne rend pas superflue leur démonstration numérique, lorsque l'objet du problème est un nombre, et non pas une grandeur mesurable. Aussi voyez-vous bien qu'Euclide, après avoir démontré certains théorèmes relatifs à la proportionnalité des quantités géométriques, dans le cinquième livre de son ouvrage, donne derechef la démonstration exactement des mêmes théorèmes de proportionnalité, lorsque leur objet est un nombre, dans le septième livre (***) .

Les équations ayant lieu entre ces quatre degrés sont, ou simples, ou composées. Des équations simples, il y a six espèces (****) :

- 1° Un nombre est égal à une racine;
- 2° Un nombre est égal à un carré;
- 3° Un nombre est égal à un cube;

*) C'est-à-dire lorsqu'il s'agit de satisfaire à l'équation proposée par un nombre entier. Voyez la préface.

**) Il faut toujours entendre : la démonstration de la résolution lorsqu'il s'agit de satisfaire à l'équation par un nombre entier. Je ne répéterai plus cette remarque dans la suite.

***) Voir *Eucl.*, *Elém.* VII, prop. 4-22.

****) 1° $a = x$; 2° $a = x^2$; 3° $a = x^3$;
4° $bx = x^2$; 5° $bx = x^3$; 6° $cx^2 = x^3$.

J'échange ici les numéros 5 et 6 l'un contre l'autre; c'est l'ordre suivi plus tard par l'auteur lorsqu'il discute ces équations une à une.

4° Des racines sont égales à un carré;

5° Des carrés sont égaux à un cube;

6° Des racines sont égales à un cube.

Trois de ces espèces se trouvent mentionnées dans les traités des algébristes (*). Ils disent : La chose est au carré comme le carré au cube; il suit donc nécessairement que l'égalité entre le carré et le cube soit équivalente à celle entre la chose et le carré (**), et de même le nombre est au carré comme la racine au cube (***); mais ils n'avaient pas démontré cela géométriquement. Quant au nombre qui est égal au cube, il n'y a de moyen, pour trouver le côté de ce dernier, que par la connaissance préalable de la suite des nombres cubiques (****) lorsque le problème est numérique; lorsqu'il est géométrique, il n'est résolvable que par les sections coniques.

Les équations composées sont en partie trinomes, en partie quadrinomes. Les espèces des équations trinomes sont au nombre de douze. Les trois premières sont (*****):

1° Un carré et des racines sont égaux à un nombre;

2° Un carré et un nombre sont égaux à des racines;

3° Des racines et un nombre sont égaux à un carré.

Ces trois espèces se trouvent mentionnées dans les traités des algébristes, et y sont démontrées géométriquement, mais pas numériquement.

*) A savoir, les numéros 1, 2, 4.

**) $x : x^2 = x^2 : x^3$ donc $ax^2 = x^3$ lorsque $ax = x^2$.

***) $a : x^2 = ax : x^3$ (donc $ax = x^3$ lorsque $a = x^2$).

****) Le mot « *istikrâ* » désigne proprement l'action d'aller de place en place; ensuite il indique un jugement par induction, fondé sur la connaissance des cas particuliers qu'on obtient en les parcourant l'un après l'autre (Voir *Notices et Extraits*, tome X, p. 42). En parlant toujours de cette signification fondamentale bien établie, il faudra rendre ce terme de différentes manières, selon les circonstances. Voir p. 8 ult. sqq., p. 10, lig. 2, p. 33 passim, p. 48, lig. 5 du texte arabe, — et addition C, à peu près à la fin, où il est question du cas

$$\frac{C'}{C} = \frac{2}{1}$$

*****) 7° $x^2 + bx = a$; 8° $x^2 + a = bx$; 9° $bx + a = x^2$.

Les trois espèces suivantes sont (*) :

- 1° Un cube et des carrés sont égaux à des racines;
- 2° Un cube et des racines sont égaux à des carrés;
- 3° Des racines et des carrés sont égaux à un cube.

Les algébristes disent que ces trois secondes espèces sont proportionnelles aux trois premières, chacune à sa correspondante, c'est-à-dire que l'équation : « un cube et des racines sont égaux à des carrés » est équivalente à celle-ci : « un carré et un nombre sont égaux à des racines (**), » et de même relativement aux deux autres. Mais ils ne l'avaient pas démontré, lorsque les objets des problèmes sont des quantités mesurables. Pour le cas où l'objet des problèmes est un nombre, c'est une conséquence immédiate du traité des Éléments (***). Or, j'en démontrerai aussi le cas géométrique.

Les six espèces qui restent des douze, ce sont (****) :

- 1° Un cube et des racines sont égaux à un nombre;
- 2° Un cube et un nombre sont égaux à des racines;
- 3° Un nombre et des racines sont égaux à un cube;
- 4° Un cube et des carrés sont égaux à un nombre;
- 5° Un cube et un nombre sont égaux à des carrés;
- 6° Un nombre et des carrés sont égaux à un cube.

De ces six espèces rien n'a paru dans les traités d'algèbre, excepté la discussion isolée d'une d'entre elles (*****). Moi, je les 8 discuterai et les démontrerai géométriquement, pas numériquement. La démonstration de ces six espèces n'est possible qu'au moyen des propriétés des sections coniques.

*) $10^o x^3 + cx^2 = bx$; $11^o x^3 + bx = cx^2$; $12^o cx^2 + bx = x^3$;

**) $x^3 + bx = cx^2$, divisé par x , donne $x^2 + b = cx$.

***) Vu la proportionnalité qui a lieu entre ces équations et les trois précédentes. Voir page 6, ult.

****) $13^o x^3 + bx = a$; $14^o x^3 + a = bx$; $15^o bx + a = x^3$.

$16^o x^3 + cx^2 = a$; $17^o x^3 + a = cx^2$; $18^o cx^2 + a = x^3$.

*****) Voir la discussion de l'équation n° 17.

Quant aux équations composées quadrinomes, il y en a deux classes : premièrement, celles dans lesquelles trois degrés sont égalés à un degré. Ce sont quatre espèces (*) :

1° Un cube, des carrés et des racines sont égaux à un nombre ;

2° Un cube, des carrés et un nombre sont égaux à des racines ;

3° Un cube, des racines et un nombre sont égaux à des carrés ;

4° Un cube est égal à des racines, des carrés et un nombre.

La seconde classe comprend celles dans lesquelles deux degrés sont égalés à deux degrés. Il y en a trois espèces (**):

1° Un cube et des carrés sont égaux à des racines et un nombre ;

2° Un cube et des racines sont égaux à des carrés et un nombre ;

3° Un cube et un nombre sont égaux à des racines et des carrés.

Ce sont là les sept espèces quadrinomes : aucune desquelles nous n'avons réussi à résoudre que géométriquement. Un de nos prédécesseurs avait besoin d'un cas particulier d'une de ces espèces, que je ne manquerai pas de faire remarquer (***). La démonstration de ces espèces ne peut être effectuée qu'à l'aide des propriétés des sections coniques.

Maintenant je vais discuter et démontrer, une à une, toutes ces vingt-cinq espèces ; et j'implore l'assistance de Dieu : qui-conque se confie sincèrement à lui, Dieu le dirige et lui suffit.

Première espèce des équations simples. « UNE RACINE EST

*) 19° $x^3 + cx^2 + bx = a$; 20° $x^3 + cx^2 + a = bx$;

21° $x^3 + bx + a = cx^2$; 22° $cx^2 + bx + a = x^3$;

**) 23° $x^3 + cx^2 = bx + a$; 24° $x^3 + bx = cx^2 + a$; 25° $x^3 + a = cx^2 + bx$.

***) Voir la discussion de l'équation n° 21.

ÉGALE A UN NOMBRE (*). » Donc, la racine est nécessairement connue; ce qui va également pour le nombre et pour les quantités géométriques.

Seconde espèce. « UN NOMBRE EST ÉGAL A UN CARRÉ (**). » Le carré numérique sera donc connu, étant égal au nombre connu; sa racine ne peut être trouvée numériquement que par la connaissance préalable de la suite des nombres carrés: car ce n'est que de cette manière qu'on sait, par exemple, que la racine de vingt-cinq est cinq, et non pas par un procédé algébrique. Nous n'aurons, à ce sujet, aucun égard à ce qu'en disent ceux, parmi les algébristes, qui sont d'un avis différent. Les Indiens possèdent des méthodes pour trouver les côtés des carrés et des cubes (***), fondées sur une telle connaissance d'une suite de nombres peu étendue, c'est-à-dire sur la connaissance des carrés des neuf chiffres, à savoir, du carré de un, de deux, de trois, etc., ainsi que des produits formés en les multipliant l'un par l'autre, à savoir, du produit de deux en trois, etc. J'ai composé un ouvrage sur la démonstration de l'exactitude de ces méthodes, et j'ai prouvé qu'elles conduisent en effet à l'objet cherché. J'en ai, en outre, augmenté les espèces, c'est-à-dire que j'ai enseigné à trouver les côtés du carré-carré, du quadrato-cube, du cubo-cube, etc., à une étendue quelconque, ce qu'on n'avait pas fait précédemment. Les démonstrations que j'ai données à cette occasion ne sont que des démonstrations arithmétiques (****), fondées sur les parties arithmétiques des Éléments d'Euclide (*****).

*) I, $a = x$.

**) II, $a = x^2$; $x = \sqrt{a}$.

***) C'est-à-dire : pour l'extraction des racines carrées et cubiques. — Ce que l'auteur dit des méthodes indiennes s'accorde avec ce que nous en savons par l'ouvrage de *Colebrooke*.

****) Quant à la restriction exprimée par l'auteur, il faut l'entendre ainsi : « Je n'en ai pas donné en même temps des démonstrations géométriques. »

*****) Ce que l'auteur dit ici de son ouvrage sur les démonstrations mathématiques de l'ex-

La démonstration géométrique de la seconde espèce est la suivante (*). Supposons que la ligne AB (fig. 1) soit donnée et égale au nombre donné, et que AC soit égale à l'unité et perpendiculaire à AB. Complétons le rectangle AD. Il est connu alors que la mesure du rectangle AD est ce nombre donné. Nous construisons ensuite un carré égal au rectangle AD, lequel soit le carré E, ainsi qu'il a été expliqué par Euclide dans la quatorzième proposition du second livre de son ouvrage. Le carré E sera donc égal au nombre donné et connu, et son côté sera pareillement connu, vu la démonstration donnée par Euclide. Mais c'est ce qu'il s'agissait d'obtenir.

Toutes les fois que nous dirons dans ce Traité : « un nombre est égal à un rectangle », nous entendrons par le nombre un quadrilatère à angles droits, dont l'un des côtés est l'unité, et le second une ligne égale en mesure au nombre donné, en sorte que chacune des parties de sa mesure soit égale au second côté, c'est-à-dire à celui qui a été pris pour unité.

- 10 *Troisième espèce.* « UN NOMBRE EST ÉGAL A UN CUBE (**). »
Si l'objet du problème est un nombre, le cube sera donc connu; et il n'y a d'autre moyen pour en trouver le côté, que

traction des racines des degrés supérieurs quelconques me semble être d'une importance plus que médiocre pour l'histoire des mathématiques chez les Arabes. On sait qu'après la renaissance des lettres, ce furent *Stifel* et *Viète* qui abordèrent ce sujet (voyez *Francisci Vietæ opera mathematica in unum volumen congesta*, ed. Fr. a Schooten; Lugduni Batavorum, 1646, fol., p. 163 sqq., de numerosa potestatum purarum resolutione). Je fais observer que l'extraction de la racine d'un degré quelconque dépend de la formule

$$\begin{aligned} & a^m + m a^{m-1} b + m_2 a^{m-2} b^2 + m_3 a^{m-3} b^3 + \dots + b^m + \\ & + m(a+b)^{m-1} c + m_2(a+b)^{m-2} c^2 + m_3(a+b)^{m-3} c^3 + \dots + c^m + \\ & + m(a+b+c)^{m-1} d + m_2(a+b+c)^{m-2} d^2 + m_3(a+b+c)^{m-3} d^3 + \dots + d^m + \\ & + \dots \dots \dots \\ & + m(a+b+c+\dots+p)^{m-1} q + m_2(a+b+c+\dots+p)^{m-2} q^2 + m_3(a+b+c+\dots+p)^{m-3} q^3 + \dots + q^m = \\ & = (a+b+c+d+\dots+p+q)^m, \text{ en désignant par } m_2, m_3 \text{ etc., les coefficients binomiaux.} \end{aligned}$$

Comparer à ce sujet une notice historique qui se trouve dans les *Nouvelles annales de mathématiques* réd. par MM. Terquem et Gerono, tom. V, pag. 491 sqq. — Le mot arabe *istiksdtoun* est une corruption de *στοιχεῖα*.

*) $x^2 = a = a \cdot 1 = AB \cdot AC = \text{carré E}$, donc le côté de E = x .

**) III, $a = x^3$; $x = \sqrt[3]{a}$.

la connaissance préalable de la suite des nombres cubes, ce qui va également pour toutes les puissances numériques, telles que carré-carré, quadrato-cube, cubo-cube, ainsi que nous l'avons dit dès l'abord.

Quant à la démonstration géométrique (*), nous supposons que le carré AD (fig. 2) soit le carré de l'unité, c'est-à-dire que AB soit égal à BD, et que chacun de ces deux côtés soit supposé égal à l'unité. Puis, nous élevons sur le plan AD, au point B, une perpendiculaire BC, en la faisant égale au nombre donné, ainsi qu'il a été exposé par Euclide dans le onzième livre de son ouvrage (**). Complétons le solide ABCDEZH. Il est connu que la mesure de ce solide doit être égale au nombre donné. Puis nous construisons un cube égal à ce solide. Mais la construction de ce cube ne s'effectue qu'au moyen des propriétés des sections coniques. Nous la différons donc jusqu'à ce que nous ayons donné des théorèmes préliminaires qui se rapportent à ces propriétés.

Toutes les fois que nous dirons : « un nombre est égal à un solide », nous entendrons ici par le nombre un solide à côtés parallèles et à angles droits, ayant pour base le carré de l'unité, et dont la hauteur est égale au nombre donné.

Quatrième espèce. « UN CARRÉ EST ÉGAL A CINQ DE SES RACINES (***) ». Alors le nombre des racines est la racine du carré. La démonstration arithmétique consiste en ce que la racine multipliée par elle-même produit le carré, et que la même racine multipliée par cinq produit également le carré : elle est donc égale à cinq. La démonstration géométrique

*) $x^3 = a = a \cdot 1 \cdot 1 = BC \cdot AB \cdot BD$.

**) *Éléments*, XI, 12.

***) IV, $bx = x^2$ ($5x = x^2$); $x = b$.

Démonstr. $x \cdot x = x^2$, $b \cdot x = x^2$; donc $x \cdot x = b \cdot x$ ou $x = b$.

est analogue à cela; on suppose un carré égal à cinq de ses côtés.

Cinquième espèce. « DES CHOSES SONT ÉGALES A UN CUBE (*). » Si le problème est numérique, il est évident que cette espèce est équivalente à celle-ci : « un nombre est égal à un carré. » Par exemple : « quatre racines sont égales à un cube », est la même chose que si l'on disait : « quatre en nombre est égal à un carré, » vu l'existence de la proportionnalité mentionnée ci-dessus (**).

Quant à la démonstration géométrique (***), nous supposons un cube ABCDE (fig. 3) dont la mesure soit égale à quatre de ses côtés, et dont le côté soit AB. Alors son côté AB, multiplié par quatre, produira le cube ABCDE, et en même temps son côté, multiplié par son carré, c'est-à-dire par le carré AC, produit le cube; donc le carré AC est égal à quatre.

Sixième espèce. « DES CARRÉS SONT ÉGAUX A UN CUBE (****). » Cela équivaut à : « un nombre est égal à une racine. »

La démonstration arithmétique consiste en ce que le nombre est à la racine comme des carrés sont au cube, ainsi que cela se trouve expliqué dans le huitième livre des Éléments (*****).

*) $\forall, bx = x^3$ équivaut à $b = x^2$.

**) Voir page 10. — J'ai dû conserver, ici et dans la suite, l'expression « en nombre », pour mieux rendre le sens du texte original. Voir la préface.

***) $4 \cdot AB = \overline{AB}^3 = \text{cube } ABCDE$
 $(\text{carré } AC) \cdot AB = (\text{carré } AC) \cdot BD = \text{cube } ABCDE,$

donc $4 \cdot AB = (\text{carré } AC) \cdot AB$ ou $4 = \text{carré } AC = \overline{AB}^2$.

****) $\forall I, cx^2 = x^3$ équivaut à $c = x$.

Démonstr. $c : x = cx^2 : x^3$, donc $cx^2 = x^3$ dès que $c = x$.

*****) Je ne saurais assigner aucune proposition du huitième livre que l'auteur eût ici pu avoir en vue. Cela m'a fait penser que peut-être le texte portait originairement في بآ من الاصول « dans le onzième livre des Éléments », conjecture qui serait corroborée en quelque sorte par la leçon ثامن du manuscrit C. En effet, la proposition XI, 34, implique comme cas spécial le théorème qui serait l'expression géométrique de la démonstration dont il s'agit ici. Toutefois je considère cette supposition comme très-improbable, vu que l'auteur distingue toujours rigoureusement les démonstrations géométriques des démonstrations

Quant à la démonstration géométrique (*), nous supposons le cube ABCDE (fig. 3) égal au nombre de ses carrés, par exemple, égal à deux carrés. Le carré de son côté est AC. Donc la surface AC, multipliée par deux, produira le cube ABCDE; et en même temps, multipliée par BD, qui est (égale au) côté de ce (carré), elle produit également le cube ABCDE. Donc BD, qui est le côté de ce cube, sera égale à deux; et c'est ce qu'il s'agissait d'obtenir.

Toutes les fois que nous dirons, dans ce traité, « carrés du cube, » nous entendrons par cette expression des carrés de son côté.

Après avoir terminé la discussion des équations simples, passons maintenant à celle des trois premières des douze équations trinômes.

Première espèce. « UN CARRÉ ET DIX RACINES SONT ÉGAUX A TRENTE-NEUF EN NOMBRE (**). » Multipliez la moitié (du nombre) des racines par elle-même. Ajoutez le produit au nombre, et retranchez de la racine de la somme la moitié (du nombre) des racines. Le reste est la racine du carré.

Si le problème est arithmétique, deux conditions doivent être remplies; la première : que le nombre des racines soit pair, de sorte qu'il ait une moitié (entière); la seconde : que le carré de la moitié (du nombre) des racines et le nombre, ajou-

arithmétiques. Mais, au lieu du *huitième livre*, on pourrait citer la *huitième proposition* du neuvième livre; en effet, celle-ci comporte que

$$1 : x = x^2 : x^3 \text{ d'où il suit } c : x = cx^2 : x^3.$$

$$*) \quad 2.(\text{carré AC}) = 2 \overline{\text{BD}}^2 = \overline{\text{BD}}^3 = \text{cube ABCDE}$$

$$\text{BD.}(\text{carré AC}) = \text{cube ABCDE,}$$

$$\text{donc } 2.(\text{carré AC}) = \text{BD} \cdot (\text{carré AC}) \text{ ou } 2 = \text{BD.}$$

$$**) \text{ VII, } x^2 + bx = a \quad (x^2 + 10x = 39); \quad \sqrt{a + \left(\frac{b}{2}\right)^2} - \frac{b}{2} = x.$$

Je fais observer que Mohammed Ben Moutça énonce cette équation sous la même forme spéciale, qu'Alkhayyâm a gardée peut-être comme consacrée par l'usage.

tés ensemble, produisent un nombre carré. Sinon, le problème, considéré comme arithmétique, est impossible (*). Géométriquement, cette espèce ne comprend pas de problèmes impossibles du tout.

La démonstration arithmétique est facile, et conforme à la démonstration géométrique. Voici cette dernière (**). Nous supposons le carré AC (fig. 4) ensemble avec dix de ses racines égal à trente-neuf en nombre. Supposons encore que dix de ses racines soient représentées par le rectangle CE. La ligne DE sera donc égale à dix. Divisons-la, au point Z, en deux parties égales. Alors, parce que la ligne DE a été divisée en deux parties égales au point Z, et qu'on lui a ajouté en ligne droite la partie AD, le produit de EA en AD, qui est égal au rectangle EB, ajouté au carré de DZ, sera égal au carré de ZA. Mais le carré de DZ, qui est la moitié (du nombre) des racines, est connu, et le rectangle BE, qui est le nombre donné, est également connu. Par conséquent, le carré de ZA et la ligne ZA seront connus; et lorsque nous retranchons ZD de ZA, le reste AD sera connu.

*) Ici l'auteur se trompe; aucune des deux conditions n'est nécessaire pour que x soit entier. Désignons par σ un nombre positif et irrationnel, par α un nombre positif et entier; supposons $\sigma > \alpha$ et $a = \sigma \cdot \alpha$, $b = \sigma - \alpha$. Certainement $\sigma - \alpha$ ne sera pas alors un nombre pair, ni $\sigma \cdot \alpha + \left(\frac{\sigma - \alpha}{2}\right)^2 = \left(\frac{\sigma + \alpha}{2}\right)^2$ un nombre carré, vu que sa racine $\frac{\sigma + \alpha}{2}$ est irrationnelle; toutefois $x = \sqrt{\sigma \cdot \alpha + \left(\frac{\sigma - \alpha}{2}\right)^2} - \frac{\sigma - \alpha}{2} = \alpha$ sera un nombre entier.

**) AD = AB = x , DE = 10, BE = 39, DZ = ZE = $\frac{DE}{2}$;

EA . AD + $\overline{DZ}^2 = \overline{ZA}^2$ (Euclide, Éléments, II, 6) ou BE + $\overline{DZ}^2 = \overline{ZA}^2$;

BE et DZ étant connus, il en sera de même pour ZA et pour (ZA - ZD) = AD = x .

Voici le principe de cette démonstration : la proposition d'Euclide exprime que $(b+x)x + \left(\frac{b}{2}\right)^2 = \left(\frac{b}{2} + x\right)^2$; mais on avait $(b+x)x = x^2 + bx = a$, donc $a + \left(\frac{b}{2}\right)^2 = \left(\frac{b}{2} + x\right)^2$ ou $\sqrt{a + \left(\frac{b}{2}\right)^2} - \frac{b}{2} = x$.

Autre démonstration (*). Supposons que ABCD (fig. 5) soit un carré; prolongeons BA jusqu'à E, et faisons EA égale à un quart (du nombre) des racines, c'est-à-dire à deux et demi. Prolongeons DA jusqu'à Z, en faisant ZA égale à un quart (du nombre) des racines. Menons d'une manière semblable des lignes de tous les sommets du carré, et complétons la figure HT. Elle sera un carré, parce que ZE, AC et CT sont des carrés, vu ce qui se trouve exposé dans le sixième livre des Éléments (**). Les quatre carrés situés dans les coins du grand carré sont égaux chacun au carré de deux et demi; conséquemment leur somme sera égale à vingt-cinq, c'est-

$$*) \text{ AB} = \text{BC} = x, \text{ EA} = \text{ZA} = \frac{10}{4} = 2 \frac{1}{2}, \text{ EZ} = \frac{25}{4}, 4 \text{ EZ} = 25;$$

$$\text{ZB} = \text{ZA} \cdot \text{AB} = 2 \frac{1}{2} \text{ AB}, 4 \text{ ZB} = 10 \text{ AB}; \overline{\text{AB}}^2 + 10 \text{ AB} = 39, \overline{\text{AB}}^2 + 4 \text{ ZB} = 39;$$

$$\text{HT} = \overline{\text{AB}}^2 + 4 \text{ ZB} + 4 \text{ EZ} = 39 + 25 = 64;$$

$$x = \text{AB} = \text{EM} - (\text{EA} + \text{BM}) = \text{côté de HT} - 2 \text{ EA} = \sqrt{64} - \frac{10}{2} = 3.$$

Le principe de cette démonstration consiste à compléter le carré; en effet, nous avons

$$\text{HT} = x^2 + 4 \left(\frac{b}{4} x \right) + 4 \left(\frac{b}{4} \right)^2 = \left(x + \frac{b}{2} \right)^2, \text{ et en même temps, parce que } x^2 + bx = a,$$

$$\text{HT} = x^2 + 4 \left(\frac{b}{4} x \right) + 4 \left(\frac{b}{4} \right)^2 = a + \left(\frac{b}{2} \right)^2, \text{ donc } a + \left(\frac{b}{2} \right)^2 = \left(x + \frac{b}{2} \right)^2 \text{ ou } \sqrt{a + \left(\frac{b}{2} \right)^2} - \frac{b}{2} = x.$$

Cette démonstration est essentiellement la même que celle donnée par Mohammed Ben Mouçâ; voyez l'édition de Rosen, pages 13 et A. Mohammed Ben Mouçâ en ajoute une seconde, dont voici l'exposé (voir fig. 5, a) :

$$\text{Équation proposée : } x^2 + 10x = 39.$$

$$\text{Démonstr. : } \text{AB} = x^2; \text{ G} = \text{D} = \frac{10}{2} x;$$

$$\text{AB} + (\text{G} + \text{D}) = x^2 + 2 \left(\frac{10}{2} x \right) = 39 \dots a$$

$$\text{SH} - \{ \text{AB} + (\text{G} + \text{D}) \} = \text{SH} - 39 = \left(\frac{10}{2} \right)^2 \dots \left(\frac{b}{2} \right)^2$$

$$\text{SH} = 39 + \left(\frac{10}{2} \right)^2 = 64; \dots a + \left(\frac{b}{2} \right)^2$$

$$\text{côté de SH} = \sqrt{64} = 8; \dots \sqrt{a + \left(\frac{b}{2} \right)^2}$$

$$x = \text{côté de AB} = 8 - \frac{10}{2} = 3 \dots \sqrt{a + \left(\frac{b}{2} \right)^2} - \frac{b}{2}$$

**) Euclide, Éléments, VI, 24.

à-dire au carré de la moitié (du nombre) des racines. Le rectangle ZB est égal à deux et demie des racines du carré AC, parce que ZA est égale à deux et demi. Les quatre rectangles seront donc ensemble égaux à dix racines du carré AC. Mais on avait supposé le carré AC ensemble avec dix de ses racines égal à trente-neuf en nombre. Conséquemment le carré HT est égal à soixante-quatre. Prenons-en la racine, et retranchons d'elle cinq. Il reste AB.

Supposons encore (*) qu'une ligne AB (fig. 6) soit donnée égale à dix, et que l'on demande le carré qui, ajouté au produit de son côté en AB, soit égal au nombre donné. Représentons le nombre donné par la figure E, laquelle soit un parallélogramme à angles droits, ainsi que nous l'avons dit précédemment (**). Appliquons à la ligne AB un parallélogramme égal au rectangle E et excédant d'un carré, ainsi qu'Euclide l'a expliqué dans le sixième livre des Éléments. Que ce soit le rectangle BD, et que le carré excédant soit AD; le côté AC de ce carré sera connu, conformément à ce qui se trouve établi dans les Données (***).

Seconde espèce. « UN CARRÉ ET UN NOMBRE SONT ÉGAUX A DES RACINES (****). » Il est nécessaire, dans cette espèce, que le nombre ne soit pas plus grand que le carré de la moitié (du nombre) des racines. Sinon, le problème est impossible. Lorsque le nombre est égal au carré de la moitié (du nombre) des racines, la moitié (du nombre) des racines est elle-même la racine du carré. Lorsque le nombre est plus petit, on le re-

*) $AB = 10$, $E = 39$. La construction d'Euclide, Éléments VI, 29, implique la détermination d'une ligne AC telle que $BD = \overline{AC}^2 + AC \cdot AB = E$; donc $x = AC$.

**) Pag. 14, lig. 12.

***) Prop. 59, éd. d'Oxford, 1703, fol., p. 497.

****) VIII, $x^2 + a = bx$ ($b = 10$).

Condition : $a < \left(\frac{b}{2}\right)^2$ (sans cela en effet x est imaginaire)

$$1) a = \left(\frac{b}{2}\right)^2 \dots x = \frac{b}{2} \quad 2) a < \left(\frac{b}{2}\right)^2 \dots x = \frac{b}{2} \pm \sqrt{\left(\frac{b}{2}\right)^2 - a}.$$

tranche du carré de la moitié (du nombre) des racines, on prend la racine du reste et on l'ajoute à la moitié (du nombre) des racines, ou la retranche de cette dernière. Le résultat, tant de l'addition que de la soustraction, est la racine du carré.

La démonstration arithmétique est conforme à la démonstration géométrique (*) (qui suit). Supposons un carré ABCD (fig. 7), et supposons (le rectangle) ED, égal au nombre, joint à ce carré du côté de AD. Le rectangle (produit) EC sera donc égal à dix (**) côtés du carré AC, et conséquemment EB sera égale à dix. Que dans la première figure (7, 1) AB soit égale à la moitié de EB, dans la seconde (7, 2) plus grande, et dans la troisième (7, 3) plus petite que la moitié de EB. Alors, dans la première figure, AB sera égale à cinq. Dans la seconde et dans la troisième figure, divisons EB au point Z, en sorte que la ligne EB soit divisée en deux parties égales au point Z, et en deux parties inégales au point A. Donc, le rectangle EA en AB, ajouté au carré de ZA, sera égal au carré de ZB, ainsi qu'il est expliqué au second livre des Éléments. Le rectangle EA en AB, étant égal au nombre, est connu; conséquemment, lorsqu'on le retranche du

*) $AB = AD = x$, $ED = a$, $EC = 10 \cdot AB = bx$, $EB = 10 = b$;

1) $x = AB = \frac{EB}{2} = 5$;

2) $\left\{ \begin{array}{l} AB > \frac{EB}{2}, \\ AB < \frac{EB}{2}, \end{array} \right. \quad EZ = ZB, \quad EA \cdot AB + \overline{AZ}^2 = \overline{BZ}^2 \text{ (Euclide, Éléments, II, 5);}$

$EA \cdot AB = ED = a \quad \text{et} \quad BZ = \frac{BE}{2} = \frac{b}{2} \quad \text{étant connus, on connaîtra donc}$

$\overline{AZ} \text{ et } AZ, \text{ ainsi que } \left. \begin{array}{l} 2) \\ 3) \end{array} \right\} ZB \pm AZ = AB = x. \quad -$

- Voici le principe de cette démonstration: la proposition d'Euclide implique pour les cas 2) et 3) que $x(b-x) + \left[\pm \left(x - \frac{b}{2} \right) \right]^2 = \left(\frac{b}{2} \right)^2$, mais $xb - x^2 = a$, donc

$$\pm \left(x - \frac{b}{2} \right) = \sqrt{\left(\frac{b}{2} \right)^2 - a} \quad \text{ou} \quad x = \frac{b}{2} \pm \sqrt{\left(\frac{b}{2} \right)^2 - a}. \quad \text{Au cas 1. le}$$

radical disparaît, parce que $a = \left(\frac{b}{2} \right)^2$, donc $x = \frac{b}{2}$.

**) La valeur spéciale adoptée ici, rappelle encore l'énoncé donné de cette équation par Moh. Ben Mouça.

carré de ZB, qui est la moitié (du nombre) des racines, le carré de ZA, qui reste, sera connu. En retranchant dans la troisième figure ZA de ZB, et dans la seconde figure en ajoutant ZA à ZB, on obtient pour reste ou pour somme la ligne AB. Et c'est ce qu'il s'agissait de trouver.

On peut, si l'on veut, démontrer cela encore d'autres manières (*); mais nous nous bornons à ceci, de peur d'être prolix. Supposons (**) qu'une ligne AB (fig. 8) soit donnée égale à dix, et qu'on demande à retrancher d'elle une ligne telle que, lorsqu'on la multiplie par AB, ce produit soit égal au carré de cette même ligne, plus un autre rectangle, lequel ne soit pas plus grand que le carré de la moitié de AB, c'est-à-dire plus le nombre donné qui soit représenté par le rectangle E. Nous nous proposons donc de retrancher de AB une ligne dont le carré plus le rectangle E soit égal au produit de AB en

*) Voici l'exposé de la démonstration que Mohammed Ben Mouça (édition de Rosen, page 16 et 17) donne de cette espèce (voyez fig. 7, a) :

Équation proposée : $x^2 + 21 = 10x$.

Démonstration : $AD = x^2$; $HB = 21$; $HD = HN \cdot HC = x \cdot 10$;

$$CG = HG = \frac{HC}{2} = \frac{10}{2} = 5; \quad GK = CG - GT = 5 - x;$$

$$TK = GK + GT = CG = 5; \quad NT = HG = CG = 5;$$

$$MT = 25 = \left(\frac{10}{2}\right)^2 = \left(\frac{b}{2}\right)^2$$

$$KL = KG; \quad ML = KM - KL = KT - KG = TG;$$

$$LR = KG = CG - GT = CG - CA = GA;$$

$$ML \cdot LR = TG \cdot GA, \quad MR = TA;$$

$$HT + MR = HT + TA = HB = 21; \quad \dots a$$

$$KR = MT - (HT + MR) = 25 - 21 = 4; \quad \dots \left(\frac{b}{2}\right)^2 - a$$

$$RG = \sqrt{4} = 2; \quad \dots \sqrt{\left(\frac{b}{2}\right)^2 - a}$$

$$x = AC = CG - GA = CG - RG = 5 - 2 = 3. \dots \frac{b}{2} - \sqrt{\left(\frac{b}{2}\right)^2 - a};$$

puis Mohammed Ben Mouça ajoute seulement que $5 + 2$ satisfera aussi à l'équation proposée, sans le démontrer.

**) $AB = 10 = b$, $E = a$. La construction d'Euclide, *Éléments* VI, 28, implique la détermination d'une ligne BC telle que $E = AZ = AB \cdot BC - \overline{BC}^2$ ou $\overline{BC}^2 + a = b \cdot BC$ donc $BC = x$.

cette ligne. Or, appliquons à la ligne connue AB un rectangle égal au rectangle connu E et défailant d'un carré, ce qui est possible (*), parce que le rectangle E n'est pas plus grand que le carré de la moitié de AB. Que ce soit le rectangle AZ, et que le carré défailant soit CD, conformément à ce qui est exposé par Euclide dans le sixième livre des Éléments. Le côté CB sera alors connu, ainsi qu'il est expliqué dans les Données (**). Mais c'est ce qu'il s'agissait de montrer.

Il est évident que cette espèce comprend différents cas (***), et qu'elle donne lieu à des problèmes impossibles (****). Quant aux conditions de sa solubilité en nombres entiers, elles peuvent être déduites de ce que nous en avons dit à l'occasion de la première espèce (*****).

Troisième espèce. « UN NOMBRE ET DES RACINES SONT ÉGAUX A UN CARRÉ (*****). » On ajoute le carré de la moitié (du nombre) des racines au nombre, puis on prend la racine de la somme, et l'ajoute à la moitié (du nombre) des racines. Ce qui résulte est la racine du carré.

*) Voir Euclide, Éléments, VI, 27, 28.

**) Prop. 58.

***) A savoir les cas $x = \frac{b}{2}$
 $> \frac{b}{2}$
 $< \frac{b}{2}$

****) A savoir lorsque $a > \left(\frac{b}{2}\right)^2$.

*****) En ce cas-ci, une des deux valeurs pourra être entière sans qu'aucune des deux conditions dont veut parler l'auteur soit remplie; on n'a qu'à supposer $a = \sigma\alpha$, $b = \sigma + \alpha$, une des deux solutions sera α . Mais même afin de les rendre entières toutes les deux, la première condition, que b soit pair, n'est pas nécessaire; et quant à la seconde, que $\left(\frac{b}{2}\right)^2 - a$ doit être un nombre carré, il est nécessaire seulement que cette expression soit de la forme $\left(\frac{p}{2}\right)^2$, p désignant un nombre entier pair ou impair. Pour s'en convaincre, il suffit de supposer $a = \alpha \cdot \beta$, $b = \alpha + \beta$ en désignant par α un nombre positif, entier et pair, par β un nombre positif, entier et impair.

*****) IX, $bx + a = x^2$; $\frac{b}{2} + \sqrt{a + \left(\frac{b}{2}\right)^2} = x$.

Démonstration (*). Que le carré ABCH (fig. 9) soit égal à cinq de ses racines plus six en nombre. Retranchons-en le nombre qui soit représenté par le rectangle AD. Il reste le rectangle EC, égal au nombre de racines, lequel est cinq. La ligne EB sera donc égale à cinq. Nous la divisons en deux parties égales au point Z. La ligne EB sera donc divisée en deux parties égales au point Z, et en même temps on lui a ajouté la partie EA, d'où il suit (**) que le rectangle BA en AE, c'est-à-dire le rectangle connu AD, plus le carré connu de EZ, est égal au carré de ZA. Le carré de ZA et ZA seront donc connus. Mais ZB est connue; conséquemment AB est connue.

Il existe encore d'autres démonstrations de ce théorème (***), la recherche desquelles peut servir d'exercice au lecteur.

*) $\overline{AB}^2 = 5AB + 6$; $AB = AH = x$, $AD = 6$, $EC = 5AB$, $EB = 5$, $EZ = ZB = \frac{EB}{2}$;

$BA \cdot EA + \overline{EZ}^2 = \overline{ZA}^2$ ou $AD + \overline{EZ}^2 = \overline{ZA}^2$;

mais AD et EZ étant connus, \overline{ZA} , ZA et $ZA + ZB = AB = x$ seront également connus. La proposition citée d'Euclide implique en ce cas-ci que

$$x(x - b) + \left(\frac{b}{2}\right)^2 = \left(x - \frac{b}{2}\right)^2; \text{ mais on a } x(x - b) = x^2 - bx = a,$$

$$\text{donc } a + \left(\frac{b}{2}\right)^2 = \left(x - \frac{b}{2}\right)^2 \text{ ou } \frac{b}{2} + \sqrt{a + \left(\frac{b}{2}\right)^2} = x.$$

**) Euclide, Éléments, II, 6.

***) Voici l'exposé de celle donnée par Mohammed Ben Moûça (édition de Rosen, p. 19 et 17 — voir fig. 9, a).

Équation proposée : $3x + 4 = x^2$.

Démonstration : $AD = x^2$; $HC = 3$, $HD = 3x$; $HB = AD - HD = x^2 - 3x = 4$. — ... a

$$CG = GH = \frac{HC}{2} = \frac{3}{2}; HT = HG = \left(\frac{3}{2}\right)^2 = 2\frac{1}{4} \dots \left(\frac{b}{2}\right)^2$$

$TL = AH$; $GT = GH$; $GT + TL = GH + HA$, $GL = GA$; $MA = GL = GA$;
donc 1) $AB - MA = AC - GA$, $BM = CG = GH = LN$

2) $GL - GT = GA - GH$, $TL = AH = MN$;

$BM \cdot MN = TL \cdot LN$, $BN = TN$;

$$4 = HB = AN + BN = AN + TN;$$

$$GM = HT + (AN + TN) = 2\frac{1}{4} + 4; \dots \left(\frac{b}{2}\right)^2 + a$$

$$AG = \sqrt{2\frac{1}{4} + 4} = 2\frac{1}{2}; \dots \sqrt{\left(\frac{b}{2}\right)^2 + a}$$

$$x = AG + CG = 2\frac{1}{2} + \frac{3}{2} = 4 \dots \sqrt{\left(\frac{b}{2}\right)^2 + a} + \frac{b}{2}.$$

Supposons encore (*) que la ligne BE (fig. 10) soit égale au nombre des racines, et qu'on demande un carré et son côté, en sorte que ce carré soit égal au nombre (donné) de ses côtés plus le nombre donné. Que le nombre donné soit représenté par le rectangle T, et que H soit un carré égal à ce rectangle. Construisons un carré égal à la somme du carré H 15 et du carré de EK, ligne qui est égale à la moitié du nombre des racines. Que le carré construit soit Z. Faisons KC égale au côté de Z, et complétons le carré ABCD. Celui-ci sera le carré qu'il s'agissait de trouver.

Il est évident que ni cette troisième espèce ni la première ne donnent lieu à rien d'impossible, tandis que c'est le cas pour la seconde espèce, laquelle en même temps comprend différents cas, ce qui n'arrive pas dans les deux autres.

Démontrons maintenant que les espèces de la seconde triade de ces équations sont proportionnelles à celles de la première.

Première espèce. « UN CUBE ET DES CARRÉS SONT ÉGAUX A DES RACINES (**). » Supposons un cube ABCDE (fig. 11), prolongeons AB en ligne droite jusqu'à Z, faisons AZ égale au nombre des carrés, et complétons le solide AZHTCD. en guise de prolongement du cube AE, comme cela se fait habituellement. Le solide AT sera égal au nombre de carrés, et le solide

$$\begin{aligned} *) \quad EB &= b, T = H = a, EK = \frac{EB}{2} = \frac{b}{2}; \\ Z &= H + EK^2 = a + \left(\frac{b}{2}\right)^2; KC = \text{côté de } Z = \sqrt{a + \left(\frac{b}{2}\right)^2}; \\ BC &= BK + KC = \frac{b}{2} + \sqrt{a + \left(\frac{b}{2}\right)^2} = x. \end{aligned}$$

Je remarque qu'ici l'auteur ne construit pas l'équation carrée proposée, ainsi que c'était le cas dans ce qui précède, mais la racine de cette équation qu'il prend toute résolue.

**) $x, x^3 + cx^2 = bx.$

- *Démonstr.* : cube ABCDE = x^3 , AZ = c, AZHTC = cx^2 , BT = $x^3 + cx^2 = bx$;
 $K = b$, AD = x, K . AD = $b . x$; HB . AD = BT = bx ; donc
 K . AD = HB . AD et K = HB = BC + HA ou $b = x^2 + cx$.

BT, qui est égal au cube plus le nombre donné de carrés, sera égal au nombre donné de racines. Construisons un rectangle K égal au nombre donné des racines; la racine, c'est le côté du cube, c'est-à-dire AD. Donc le rectangle K, multiplié par AD, sera égal au nombre donné de côtés. D'un autre côté, le rectangle HB, multiplié par AD, produit le cube plus le nombre donné de carrés. Mais ces deux solides sont égaux; c'est-à-dire le solide BT et le solide construit sur K et ayant pour hauteur AD. Conséquemment, leurs bases seront réciproquement proportionnelles à leurs hauteurs. Or, leurs hauteurs étant égales, leurs bases nécessairement le seront aussi. Mais la base HB est égale au carré CB plus le rectangle HA qui est égal à ce nombre de racines (de CB) qui avait été donné pour les carrés. Donc K, qui est le nombre donné pour les racines, est égal au carré plus le nombre de racines donné pour les carrés. Mais c'est ce que nous nous proposons de démontrer.

Voici un exemple de cette espèce. Un cube et trois carrés sont égaux à dix racines; cela équivaut à: un carré et trois racines sont égaux à dix en nombre,

Seconde espèce. « UN CUBE ET DEUX RACINES SONT ÉGAUX A TROIS CARRÉS (*). » Cela équivaut à : un carré plus deux est égal à trois racines.

Démonstration. Supposons un cube ABCDE (fig. 12), lequel, ajouté à deux de ses racines, soit égal à trois carrés. Supposons de plus un carré H égal à CB, et une droite K égale à trois. Le produit de H en K sera alors égal à trois carrés du cube AE. Construisons sur AC un rectangle égal à deux, et complétons

*) XI, $x^3 + bx = cx^2$ ($x^3 + 2x = 3x^2$).

Démonstr. : cube ABCDE = x^3 , H = CB = x^2 , K = 3, H.K = $3x^2$; AL = 2, AT = $2x$;

BT = ZB.AC = ZB. x^2 ; BT = AE + AT = $x^3 + 2x = 3x^2$; donc ZB = 3;

BL = BC + AL = $x^2 + 2$; BL = ZB.AB = $3x$; donc $x^2 + 2 = 3x$.

le solide AZCTD; il sera égal au nombre de racines. Mais lorsqu'on multiplie la ligne ZB par le carré de AC, il résulte le solide BT, et le solide AT est égal au nombre de côtés; conséquemment, le solide BT sera égal au cube plus une quantité égale au nombre de ses côtés. Le solide BT sera donc égal au nombre de carrés. Il en suit, d'une manière analogue à ce qui a été expliqué dans le théorème précédent (*), que la ligne ZB est égale à trois. En même temps le rectangle BL est égal à un carré et deux. Conséquemment, un carré et deux sera égal à trois racines, parce que le rectangle BL est formé par le produit de AB en trois. Mais c'est ce qu'il s'agissait de démontrer.

Troisième espèce. « UN CUBE EST ÉGAL A UN CARRÉ ET TROIS RACINES (**). » Cela équivaut à : un carré est égal à une racine et trois en nombre.

Supposons un cube ABCDE (fig. 13) égal à son carré, plus trois de ses côtés. Retranchons de la ligne AB, qui est le côté du cube, la ligne AZ égale au nombre des carrés, lequel est un, et complétons le solide AZTHC. Alors ce solide AZTHC sera égal au nombre donné de carrés. Il reste donc le solide ZE égal au nombre donné de côtés; et l'un des deux solides sera à l'autre comme la base ZC à la base ZL, ainsi que c'est démontré dans le onzième livre des Éléments (***), puisque leurs hauteurs sont égales. Mais le rectangle ZC est égal à

*) C'est-à-dire, les deux solides $ZB \cdot \overline{AC}^2$ et $3x^2$ étant égaux, leurs bases doivent être réciproquement proportionnelles à leurs hauteurs; or, leurs bases étant égales ($\overline{AC}^2 = x^2$), leurs hauteurs seront égales, $ZB = 3$. Dans le théorème précédent les hauteurs étaient égales, et on en déduisait l'égalité des bases.

**) XII, $cx^2 + bx = x^3$ ($x^3 = 1 \cdot x^2 + 3x$).

Démonstr. : cube $ABCDE = x^3 = 1 \cdot x^2 + 3x$; $AZ = c = 1$, $TC = 1 \cdot x^2$;

$TL = AE - TC = x^3 - 1 \cdot x^2 = 3x$; $ZC = AZ \cdot AC = 1 \cdot x$;

$TL : TC = ZL : ZC$ ou $3x : x^2 = ZL : x$, donc $ZL = 3$;

$CB = ZC + ZL$ ou $x^2 = 1 \cdot x + 3$.

***) Euclide, Éléments, XI, 32.

une fois la racine du carré CB, et le rectangle ZL est le nombre des racines, à savoir, trois. Conséquemment, le carré CB sera égal à une racine plus trois en nombre, et c'est ce que nous nous proposons de démontrer.

Tant que ces démonstrations (des équations 10, 11, 12) ne sont pas entendues de cette manière (géométrique; tandis qu'auparavant on ne les avait envisagées que du point de vue purement arithmétique, voir pg. 11, lg. 10), l'art de l'algèbre n'est pas véritablement scientifique, bien que cette méthode de démonstration exige qu'on aborde quelques difficultés.

Or, après avoir traité précédemment ces espèces d'équations qui peuvent être démontrées au moyen des propriétés du cercle, c'est-à-dire au moyen de l'ouvrage d'Euclide, occupons-nous à présent de la discussion de celles dont la démonstration ne peut être donnée qu'au moyen des propriétés des sections coniques. Ces dernières espèces sont au nombre de quatorze, comprenant 1° une équation simple, à savoir l'équation : « un nombre est égal à un cube; » 2° six équations trinômes qui restent (encore à être discutées, des douze équations trinômes proposées dans le tableau général des équations algébriques); 3° sept équations quadrinômes.

Faisons précéder cette discussion par quelques propositions fondées sur l'ouvrage des Coniques (*), afin d'offrir à l'étudiant un arrangement systématique, et afin que dans ce Traité nous n'ayons à renvoyer à plus des trois ouvrages mentionnés, à savoir, les deux ouvrages d'Euclide sur les Éléments et sur les Données, et les deux (premiers) livres du traité des Coniques.

Trouver deux lignes entre deux autres lignes (données),

*) Ceci ne s'applique qu'au premier des trois théorèmes préliminaires qui suivent.

de manière que ces quatre lignes soient en proportion continue (*).

Que les deux droites (données) soient AB, BC (fig. 14), et 18
plaçons-les de manière qu'elles renferment l'angle droit B.
Construisons une parabole dont le sommet soit situé au point B,
dont l'axe soit BC, et dont le paramètre soit BC. Que ce soit
la conique BDE. Elle sera connue de position, parce que son
sommet et son axe sont connus de position, et que son para-
mètre est connu de grandeur. Elle touchera la ligne BA,
parce que l'angle B est un angle droit, et conséquemment égal
à l'angle de l'ordination, ainsi que cela est démontré dans la
trente-troisième proposition du premier livre des Coniques (**).
D'une manière semblable nous construisons une autre para-
bole ayant pour sommet le point B, pour axe AB, et pour
paramètre AB, laquelle sera la conique BDZ, ainsi que cela est
démontré par Apollonius dans la cinquante-sixième proposi-
tion du premier livre (***). La conique BDZ touchera la ligne
BC. Les deux paraboles s'entrecoupent donc nécessairement.
Que D soit leur point d'intersection. Alors le point D sera
connu de position, parce que les deux coniques sont connues
de position. Abaissons du point D deux perpendiculaires DH,
DT, sur AB, BC. Elles seront connues de grandeur, ainsi que
cela est démontré dans les Données (****). Et je dis qu'alors les

*) $AB : x = x : y = y : BC$.

Construction : B sommet, BC axe, BC paramètre de la parabole BDE;

B sommet, BA axe, AB paramètre de la parabole BDZ;

Parab. BDE ... $\overline{HD}^2 = BH \cdot BC$, $HD = BT$, donc $BC : BT = BT : HB$

Parab. BDZ ... $\overline{DT}^2 = BA \cdot BT$, $DT = HB$, donc $\frac{BT : HB = HB : BA}{\text{conséquemment } AB : BH = BH : BT = BT : BC}$
 $x = BH, y = BT$

C'est la seconde des deux constructions de ce problème attribuées à *Ménechme*. Voir *Archimède*, éd. d'Oxford, pg. 142.

**) Voir l'édition d'Oxford, 1710, fol., p. 57. La proposition à laquelle l'auteur fait allusion y est la trente-deuxième.

***) Edit. d'Oxford, livre I, prop. 52.

****) Voir propp. 30, 25, 26.

quatre lignes AB, BH, BT, BC, sont en proportion continue.

Démonstration. Le carré de HD est égal au produit de BH en BC, parce que la ligne DH est ordonnée de la parabole BDE; conséquemment BC est à HD, laquelle est égale à BT, comme BT à HB. La ligne DT est ordonnée de la parabole BDZ. Le carré de DT, laquelle est égale à BH, sera donc égal au produit de BA en BT. Conséquemment BT sera à BH comme BH à BA. Les quatre lignes sont donc en proportion continue; et la ligne DH est connue de grandeur, vu qu'elle est menée d'un point connu de position à une ligne connue de position, sous un angle connu de grandeur; et semblablement DT sera connue de grandeur. Il suit donc que les deux lignes BH, BT, sont connues de grandeur, et qu'elles sont en même temps moyennes proportionnelles entre les deux lignes AB, BC, c'est-à-dire que AB est à BH comme BH à BT, et comme BT à BC. Mais c'est ce qu'il s'agissait de démontrer.

- 19 *Étant donnés le carré ABCD (fig. 15, 1), base du parallépipède rectangle ABCDE, et le carré MH, construire sur MH comme base un parallépipède rectangle égal au solide donné ABCDE (*).*

Faisons AB à MZ comme MZ à K, et puis AB à K comme ZT à ED. Plaçons ZT de manière qu'elle soit perpendiculaire au plan MH au point Z, et complétons le solide MZTH. Je dis que ce solide est égal au solide donné.

Démonstration. Le carré AC est au carré MH comme AB à K. Le carré AC sera donc au carré MH comme ZT, la hau-

*) On détermine K et ZT au moyen des deux proportions

1) $AB : MZ = MZ : K$

2) $AB : K = ZT : ED$

Il suit $\overline{AB}^2 : \overline{MZ}^2 = ZT : ED$, donc $\overline{AB}^2 \cdot ED = \overline{MZ}^2 \cdot ZT$
ou solide BE = solide MTH.

teur du solide MTH, à ED la hauteur du solide BE. Il suit que les deux solides sont égaux, puisque leurs bases sont réciproquement proportionnelles à leurs hauteurs, ainsi que c'est démontré dans le onzième livre des Éléments (*).

Toutes les fois que nous nous servirons de l'expression « solide, » nous désignerons par cela un parallépipède rectangle; et de même, toutes les fois que nous nous servirons de l'expression « figure plane », nous voudrions parler d'un rectangle.

*Étant donné un solide ABCD (fig. 15, 2) dont la base AC est carrée, construire un solide dont la base soit un carré, la hauteur égale à la ligne donnée ET, et lequel soit égal au solide donné ACD (**).*

Faisons ET à BD comme AB à K, et prenons entre AB et K une moyenne proportionnelle EZ. Faisons EZ perpendiculaire à ET, et complétons TZ. Puis faisons EH perpendiculaire au plan TZ et égale à EZ, et complétons le solide HETZ. Je dis que le solide T, ayant pour base le carré HZ et pour hauteur la ligne donnée ET, est égal au solide donné D.

Démonstration. Le carré AC est au carré HZ comme AB à K; conséquemment le carré AC sera au carré HZ comme ET à BD. Les bases des deux solides étant ainsi réciproquement proportionnelles à leurs hauteurs, les solides seront égaux. Et c'est ce qu'il s'agissait de démontrer.

Ces préliminaires établis, nous pouvons donner la résolution de la troisième espèce des équations simples,

*) Prop. 34.

**) On détermine K et EZ au moyen des deux proportions

1) $ET : BD = AB : K$

2) $AB : EZ = EZ : K$

il suit $\frac{AB^2}{EZ^2} = \frac{ET}{BD}$, donc $AB^2 \cdot BD = EZ^2 \cdot ET$
ou solide D = solide T.

laquelle était : « UN CUBE EST ÉGAL A UN NOMBRE (*). »

Représentons le nombre par le solide ABCD (fig. 16), dont la base AC soit le carré de l'unité, comme nous l'avons expliqué précédemment (**), tandis que sa hauteur soit égale au nombre donné. Nous désirons construire un cube égal à ce solide. Prenons, entre les deux lignes AB, BD, deux moyennes proportionnelles : celles-ci seront connues de grandeur, comme nous venons de le démontrer (***). Que ce soient les lignes E, Z. Faisons HT égale à la ligne E, et décrivons sur HT le cube THKL. Ce cube et son côté seront connus de grandeur, et je dis que ce cube est égal au solide D.

Démonstration. Le carré AC est au carré TK en raison double de AB à HK, et la raison double de AB à HK est égale à la raison de AB à Z, de la première à la troisième des quatre lignes, et conséquemment égale à la raison de la seconde HK à la quatrième BD. Les bases (TK, AC) du cube L et du solide D sont donc réciproquement proportionnelles à leurs hauteurs (HL=HK et BD). Il suit de là que ces deux solides sont égaux, et c'est ce qu'il s'agissait de démontrer.

Après cela, occupons-nous des six équations trinômes qui restent à être discutées.

Première espèce. « UN CUBE ET DES CÔTÉS SONT ÉGAUX A UN NOMBRE (****). » Faisons la ligne AB (fig. 17) égale au côté

*) III, $a = x^3$.

Faisons $AB = BC = 1$, $BD = a$;

déterminons deux lignes E, Z en sorte que $AB : E = E : Z = Z : BD$;

il suit $\overline{AB}^3 : \overline{E}^3 = AB : Z = E : BD$,

donc $\overline{E}^3 = \overline{AB}^3 \cdot BD = 1 \cdot a = a$

ou, en faisant $HT = E$, $a = \overline{HT}^3 \dots x = HT$.

**) Pg. 15.

****) Pg. 28 ult. sqq.

****) XIII, $x^3 + bx = a$. $\overline{AB}^3 = b$, $\overline{AB}^3 \cdot BC = a$.

B sommet, BZ axe, AB paramètre de la parabole HBD.
BC diamètre du cercle CDB.

d'un carré égal au nombre des racines, lequel côté sera donné. Construisons ensuite un solide dont la base soit égale au carré de AB, dont la hauteur soit égale à BC, et lequel soit égal au nombre donné, construction que nous avons enseignée dans ce qui précède (*), et faisons BC perpendiculaire à AB. On sait d'ailleurs (**) ce qu'il faut entendre dans notre traité par le nombre solide : c'est un solide dont la base est le caré de l'unité, et dont la hauteur est égale au nombre donné, c'est-à-dire à une ligne dont le rapport au côté de la base du solide est égal au rapport du nombre donné à l'unité. Prolongeons AB jusqu'à Z, et construisons une parabole dont le sommet soit B, l'axe BZ, et le paramètre AB; ce sera la conique HBD. Elle sera connue de position, comme nous l'avons expliqué dès la première de ces constructions (***), et touchera la ligne BC. Décrivons sur BC un demi-cercle: il coupera nécessairement la conique. Que le point d'intersection soit D. Abaissons de D, qui, comme on sait, sera connu de position, deux perpendiculaires DZ, DE, sur BZ, BC. Elles seront connues de position et de grandeur. La ligne DZ étant ordonnée de la conique, son carré sera égal au produit de BZ en AB; conséquemment AB sera à DZ, qui est égale à BE, comme BE à ED, qui est égale à ZB. Mais BE est à ED comme ED à EC. Les quatre lignes suivantes sont donc en proportion continue AB, BE, ED, EC; et conséquemment le carré de la première AB est au carré de la seconde BE

$$\text{Parab. : } \overline{DZ}^2 = AB \cdot BZ, DZ = BE, BZ = DE \dots AB : BE = BE : DE$$

$$\text{Cercle : } \overline{BE} : DE = DE : EC$$

$$\overline{AB}^2 : \overline{BE}^2 = BE : EC, \overline{BE}^2 = \overline{AB}^2 \cdot EC$$

$$\overline{BE}^2 + \overline{AB}^2 \cdot EB = \overline{AB}^2 \cdot EC + \overline{AB}^2 \cdot EB = \overline{AB}^2 \cdot BC \text{ ou } \overline{BE}^2 + b \cdot BE = a \cdot x = BE.$$

*) Voir pag. 30.

**) Voir pag. 15.

***) Voir pag. 29.

comme la seconde BE à la quatrième EC. Il suit de là que le solide dont la base est le carré de AB, et la hauteur EC, est égal au cube de BE, puisque leurs hauteurs sont réciproquement proportionnelles à leurs bases. Ajoutons à tous les deux le solide, dont la base est le carré de AB, et la hauteur EB. Le cube de BE, plus ce solide, sera égal au solide, dont la base est le carré de AB, et la hauteur BC, lequel solide nous avons posé égal au nombre donné. Mais le solide dont la base est le carré de AB, qui est égal au nombre des racines, et la hauteur EB, qui est le côté du cube, sera égal au nombre donné de côtés du cube de EB. Conséquemment le cube de EB, plus le nombre donné de côtés du même, est égal au nombre donné; et c'est ce qu'il s'agissait d'obtenir.

Cette espèce ne présente ni variété de cas, ni problèmes impossibles (*). Elle a été résolue au moyen des propriétés du cercle combinées avec celles de la parabole.

Seconde espèce des six équations trinômes. « UN CUBE ET
22 UN NOMBRE SONT ÉGAUX A DES CÔTÉS (**). » Faisons la ligne AB (fig. 18) égale au côté d'un carré égal au nombre des racines, et construisons un solide ayant pour base le carré de AB, et égal au nombre donné. Que la hauteur de ce solide soit BC, et placée perpendiculairement à AB. Décrivons une parabole dont le sommet soit situé au point B, et l'axe dans la direction de AB, et dont le paramètre soit AB. Ce sera la courbe DBE,

*) L'équation $x^3 + bx - a = 0$ n'admet qu'une seule racine réelle, laquelle est toujours positive.

**) XIV, $x^3 + a = bx$. $\overline{AB}^3 = b$, $\overline{AB}^3 \cdot BC = a$.

B sommet, BH axe, AB paramètre de la parabole DBE.

C sommet, CT axe, BC paramètre de l'hyperbole équilatère ECZ.

Hyperb. : $\overline{ET}^2 = BT \cdot CT \dots$ $BT : ET = ET : TC$

Parab. : $\overline{EH}^2 = BH \cdot AB$, $\overline{EH} = BT$, $BH = ET \dots \overline{AB} : BT = BT : ET$

$\overline{AB}^2 : \overline{BT}^2 = BT : TC$, $\overline{BT}^3 = \overline{AB}^2 \cdot TC$

$\overline{BT}^3 + \overline{AB}^2 \cdot BC = \overline{AB}^2 \cdot TC + \overline{AB}^2 \cdot BC = \overline{AB}^2 \cdot BT$ ou $\overline{BT}^3 + a = b \cdot BT$, $x = BT$.

connue de position. Puis construisons une seconde conique, à savoir une hyperbole, dont le sommet soit situé au point C, et l'axe dans la direction de BC, et dont le paramètre et le grand axe soient tous les deux égaux à BC; que ce soit la courbe ECZ. Cette hyperbole sera connue de position, ainsi qu'il est démontré par Apollonius dans la cinquante-huitième proposition du premier livre (*). Les deux coniques se rencontrent ou ne se rencontrent pas. Si elles ne se rencontrent pas, le problème est impossible. Mais si elles se rencontrent, soit par contact en un point, soit par intersection en deux points, le point de rencontre sera connu de position. Que les deux coniques aient une intersection au point E : abaissons de E deux perpendiculaires ET, EH, sur les deux lignes BT, BH. Les deux perpendiculaires sont infailliblement connues de position et de grandeur. La ligne ET est ordonnée (de l'hyperbole); conséquemment le carré de ET sera au produit de BT en TC comme le paramètre au grand axe, comme cela est démontré par Apollonius dans la vingtième proposition du premier livre (**). Mais le paramètre et le grand axe sont égaux; le carré de ET sera donc égal au produit de BT en TC. Il suit de là que BT est à TE comme TE à TC. D'un autre côté, le carré de EH, qui est égal à BT, est égal au produit de BH en BA, comme cela se trouve démontré dans la douzième proposition du premier livre du Traité des Coniques (**); conséquemment AB est à BT comme BT à BH, et comme BH, qui est égale à ET, à TC. Les quatre lignes sont

*) Éd. d'Oxf. p. 89, Prop. 53. — Les deux Mss. portent bien tous les deux ح, tandis que 53 aurait été écrit ح; semblablement la 52^e prop. était citée par l'auteur comme la 56^e. (Voir pag. 29.) Il semble donc que l'auteur avait sous les yeux une rédaction des Coniques un peu différente de la nôtre.

**) Éd. d'Oxf. p. 46, Prop. 21.

***) Éd. d'Oxf. p. 31, Prop. 11.

donc en proportion continue, et le carré de la première AB sera au carré de la seconde BT comme la seconde BT à la quatrième TC. Il suit de là que le cube de BT est égal au solide dont la base est le carré de AB, et la hauteur CT. Ajoutons à tous les deux le solide dont la base est le carré de AB et la hauteur BC, lequel nous avons fait égal au nombre donné. Alors le cube de BT, plus le nombre donné, sera égal au solide dont la base est le carré de AB et la hauteur BT, lequel représente le nombre de côtés du cube.

Il est évident que cette espèce comprend différents cas, et que certains, parmi les problèmes qui dépendent de cette espèce, sont impossibles (*). Elle a été résolue au moyen des propriétés de deux coniques, d'une parabole et d'une hyperbole.

Troisième espèce. « UN CUBE EST ÉGAL A DES CÔTÉS, PLUS UN NOMBRE(**). » Faisons la ligne AB (fig. 19) égale au côté d'un carré égal au nombre des côtés, et construisons un solide ayant pour base le carré de AB, et égal au nombre donné. Que la hauteur de ce solide soit BC, et qu'elle soit perpendiculaire à AB. Puis prolongeons AB et BC, et décrivons une parabole dont le sommet soit situé au point B, l'axe sur le prolongement de AB, et dont le paramètre soit AB. Que cette pa-

*) L'équation $x^3 - bx + a = 0$ a toujours une racine réelle et négative, dont l'algébriste arabe ne tient pas compte; les deux autres racines sont, ou imaginaires (et en ce cas le problème est « impossible »), ou positives et égales ($x = \sqrt[3]{\frac{b}{3}}$), ou positives et inégales — ce qui constitue la variété de cas mentionnée par l'auteur.

**) XV, $bx + a = x^3$.

$\overline{AB}^2 = b$, $\overline{AB}^2 \cdot BC = a$.

B sommet, BT axe, AB paramètre de la parabole DBE.

B sommet, BH axe, BC paramètre de l'hyperbole équilatère ZBE.

Hyperb. : $\overline{EH}^2 = CH \cdot BH$, $EH = BT \dots$

$BH : BT = BT : CH$

Parab. : $\overline{ET}^2 = AB \cdot BT$, $ET = BH \dots$

$\frac{AB : BH = BH : BT}{\overline{AB}^2 : \overline{BH}^2 = BH : CH}$

$\overline{AB}^2 : \overline{BH}^2 = BH : CH$

$\overline{BH}^3 = \overline{AB}^2 \cdot CH = \overline{AB}^2 \cdot BH + \overline{AB}^2 \cdot BC$ ou $\overline{BH}^3 = b \cdot BH + a$, $x = BH$.

rabole soit DBE; elle sera connue de position, et touchera la ligne BH, conformément à ce qui est démontré par Apollonius dans la trente-troisième proposition du premier livre (*). Puis décrivons une seconde conique, une hyperbole dont le sommet soit situé au point B, l'axe sur le prolongement de BC, et dont le paramètre et le grand axe soient tous les deux égaux à BC. Que ce soit l'hyperbole ZBE. Elle sera connue de position, et touchera la ligne AB. Les deux coniques s'entre-couperont nécessairement. Que leur intersection ait lieu au point E. Ce point sera alors connu de position. Abaissons du point E deux perpendiculaires ET, EH. Elles seront connues de position et de grandeur. La ligne EH sera ordonnée (de l'hyperbole), et, conformément à ce que nous avons expliqué ci-dessus (**), son carré sera égal au produit de CH en BH. Conséquemment CH sera à EH comme EH à HB. Mais EH, qui est égale à BT, est à HB — qui est égale à ET, qui de son côté est ordonnée de l'autre conique — comme ET à AB qui est le paramètre de la parabole. Les quatre lignes sont donc en proportion continue: AB est à HB comme HB à BT, et comme BT à CH; et le carré de la première AB sera au carré de la seconde HB comme la seconde HB à la quatrième CH. Conséquemment, le cube de HB sera égal au solide dont la base est le carré de AB et la hauteur CH, parce que leurs hauteurs sont réciproquement proportionnelles à leurs bases. Mais ce dernier solide est égal au solide dont la base est le carré de AB et la hauteur BC, lequel nous avons 24 fait égal au nombre donné; plus le solide contenu sous une base égale au carré de AB et sous la hauteur BH, lequel solide est égal au nombre donné de côtés du cube de BH. Le cube

*) Voir pag. 29.

**) Voir pag. 35.

de BH est donc égal au nombre donné, plus le nombre donné de ses côtés, et c'est ce qu'il s'agissait d'obtenir.

Il est évident que cette espèce n'admet pas une variété de cas, et que cette espèce, c'est-à-dire que les problèmes qui en dépendent, ne renferment rien d'impossible (*). Elle a été résolue par les propriétés d'une parabole combinées avec celles d'une hyperbole.

Quatrième espèce des six espèces d'équations trinômes. « UN CUBE ET DES CARRÉS SONT ÉGAUX A UN NOMBRE (**). » Représentons le nombre des carrés par la ligne AB (fig. 20), et construisons un cube égal au nombre donné. Que le côté de ce cube soit H. Prolongeons AB en ligne droite, et faisons BT égale à H. Complétons le carré BTDC, et faisons passer par le point D une hyperbole ayant pour asymptotes BC et BT, à savoir l'hyperbole EDN, ainsi que cela est connu en vertu des propositions quatrième et cinquième du second livre, et de la cinquante-neuvième proposition du premier livre (***). La conique EDN sera connue de position, parce que le point D est connu de position, et que les deux lignes BC, BT, sont connues de position. Décrivons ensuite une parabole ayant pour sommet A, pour axe AT, et pour paramètre BC. Que ce soit la conique AK ; elle sera connue de position. Les deux coniques s'entre couperont nécessairement. Que le point d'intersection

*) Une des racines de l'équation $x^3 - bx - a = 0$ est toujours réelle et positive; les deux autres sont toujours ou négatives ou imaginaires, et en aucun de ces cas l'algébriste arabe n'en tient compte.

**) XVI, $x^3 + cx^2 = a$. $AB = c$, $H^3 = a$, $H = BC = BT$.

BC, BT asymptotes de l'hyperbole équilatère EDN, qui passe par le point D.

A sommet, AT axe, BC paramètre de la parabole AEK.

Parabole ... $BC : EZ = EZ : AZ$

Hyperbole ... $BZ : BC = BC : EZ$

$\overline{BZ} : \overline{BC}^2 = BC : AZ$

$\overline{BC}^3 = \overline{BZ}^3$. $AZ = \overline{BZ}^3 + \overline{BZ}^3$. AB ou $a = \overline{BZ}^3 + c \cdot \overline{BZ}^3$, $x = BZ$.

***) Voir éd. d'Oxf. II, 4, p. 109.

soit E. Alors E sera connu de position. Abaissons de ce point les deux perpendiculaires EZ, EL, sur les deux lignes AT, BC. Elles seront connues de position et de grandeur. Maintenant, je dis qu'il est impossible que la conique AEK coupe la conique EDN dans un point tel, que la perpendiculaire abaissée de ce point sur la ligne AT tombe sur T ou au delà de T (*). Car supposons qu'elle tombe sur T, s'il est possible; alors son carré sera égal au produit de AT en TB, qui est égal à BC; mais cette perpendiculaire est égale à la perpendiculaire DT; donc le carré de TD sera égal au produit de AT en TB; mais, 25 d'un autre côté, le carré de TD serait égal au produit de BT en lui-même, ce qui est absurde; en sorte que la perpendiculaire ne peut pas tomber sur T. Et de même elle ne peut pas tomber au delà de T, puisqu'alors cette perpendiculaire serait plus petite que TD, et que l'absurde aurait lieu à plus forte raison. La perpendiculaire tombe donc nécessairement sur un point situé entre A et T, ainsi que le fait EZ.

Le carré de EZ est égal au produit de AZ en BC, donc AZ à EZ comme EZ à BC; et le rectangle EB est égal au rectangle DB, comme il est démontré dans la huitième proposition du second livre des Coniques (**); donc EZ à BC comme BC à BZ. Il suit que les quatre lignes AZ, EZ, BC, BZ, sont en proportion continue. Conséquemment, le carré de la quatrième BZ est au carré

*) Le point d'intersection des deux coniques ne peut être ni D, ni un point de la partie DN de l'hyperbole. 1° Si c'était D, on aurait dans la parabole $\overline{DT}^2 = AT \cdot BC$; mais $BC = DT = BT$; donc $\overline{BT}^2 = AT \cdot BT$ ou $BT = AT = AB + BT$, ce qui est absurde. 2° Si c'était un point de la partie DN de l'hyperbole tel que P, en abaissant la perpendiculaire PQ, on aurait $PQ < DT$, donc $\overline{PQ}^2 < \overline{DT}^2$; et puis $\overline{PQ}^2 = AQ \cdot BC$, donc $\overline{DT}^2 > AQ \cdot BC$, ou $\overline{BT}^2 > AQ \cdot BT$, ou $BT > AQ$, c'est-à-dire $BT > AB + BT + TQ$, ce qui est absurde. — La même chose peut être démontrée immédiatement comme suit : Puisque a, c, x sont considérés par l'algébriste arabe comme des quantités positives, de l'équation $x^3 + cx^2 = a$ il suit $x = \sqrt[3]{a - cx^2} < \sqrt[3]{a}$; donc, puisque x est représenté par BZ, et $\sqrt[3]{a}$ par BT, $BZ < BT$; c. q. f. d.

**) Éd. d'Oxf., p. 114, Prop. 12.

de la troisième BC comme la troisième BC à la première AZ. Le cube de BC, que nous avons fait égal au nombre donné, sera donc égal au solide, dont la base est le carré de BZ et la hauteur AZ. Mais ce solide, qui a pour base le carré de BZ et pour hauteur AZ, est égal au cube de BZ, plus le solide dont la base est le carré de BZ et la hauteur AB. Cependant, ce solide, ayant pour base le carré de BZ et pour hauteur AB, est égal au nombre donné de carrés. En sorte que le cube de BZ, plus le nombre donné de carrés du même, est égal au nombre donné; et c'est ce que nous nous proposons de montrer.

Cette espèce ne comprend ni variété de cas ni problèmes impossibles (*). Elle a été résolue au moyen des propriétés de la parabole combinées avec celles de l'hyperbole.

Cinquième espèce des six espèces d'équations trinômes qui restaient à être discutées. « UN CUBE ET UN NOMBRE SONT ÉGAUX A DES CARRÉS (**). »

Représentons par la ligne AC (fig. 21) le nombre des carrés, et décrivons un cube égal au nombre donné. Que le côté de ce

*) L'équation $x^3 + cx^2 - a = 0$ a toujours une racine réelle et positive, tandis que ses deux autres racines sont négatives ou imaginaires, et conséquemment négligées par l'algèbre arabe.

**) XVII, $x^3 + a = cx^2$. $AC = c$, $\overline{H}^3 = a$.
 a, c, x sont considérés comme des quantités positives.

$\overline{H} > AC$. I, $\overline{H} = AC \dots$ $x < \overline{H}$
 $<$ $>$

1) $x = \overline{H} \dots AC \cdot x^2 = \overline{H}^3$ ou $cx^2 = a$, donc $cx^2 < a + x^3$

2) $x < \overline{H} \dots AC \cdot x^2 < \overline{H}^3$ ou $cx^2 < a$, donc $cx^2 < a + x^3$

3) $x > \overline{H} \dots x^3 > AC \cdot x^2$ ou $x^3 > cx^2$, donc $x^3 + a > cx^2$.

II, $\overline{H} > AC \dots$ impossible par des raisons tout à fait analogues.

III, $\overline{H} < AC$, $BC = \overline{H} \dots BC > \overline{AB}$ ou $\sqrt[3]{a} > \frac{c}{2}$; carré BCDE = $\overline{H}^2 = \frac{a}{c}$.

CA, CE asymptotes de l'hyperbole équilatère DZ (fig. 21, 1), DT (fig. 21, 2, 3), qui passe par le point D.

A sommet, AC axe, BC paramètre de la parabole AT (fig. 21, 1), AL (fig. 21, 2), AK (fig. 21, 3).

cube soit H. La ligne H ne pourra qu'être ou égale à la ligne AC, ou plus grande que AC, ou plus petite. Si H est égale à AC, le problème est impossible, parce qu'alors le côté du cube cherché sera nécessairement ou égal à H, ou plus petit, ou plus grand que H. Or, si le côté du cube cherché est égal à H, le produit du carré de ce côté en AC sera égal au cube de H, en sorte que le nombre sera égal au nombre de carrés, sans qu'on ait besoin d'ajouter à celui-là le cube (cherché). Si le côté du (cube) cher- 26
ché est plus petit que H, le produit du carré de ce côté en AC sera plus petit que le nombre donné, en sorte que le nombre de car-

1) $BC = AB$ (fig. 21, 1)... $\overline{BD}^2 = AB \cdot BC$; donc D un point situé sur la circonférence de la parabole; l'autre point dont parle l'auteur aura pour abscisse (en prenant C pour origine) $x = \frac{1}{4} c \left\{ \sqrt{5} + 1 \right\}$ et pour ordonnée $y = \frac{1}{4} c \left\{ \sqrt{5} - 1 \right\}$.

2) $BC > AB$ (fig. 21, 2)... $\overline{BD}^2 > AB \cdot BC$; d'où il suit que la parabole passe en deçà du point D. — L'auteur dit encore que lorsque $\sqrt{a} > \frac{1}{2} c$, x doit être

compris entre c et $\sqrt[3]{a}$; de l'équation proposée $x^3 + a = cx^2$ il suit immédiatement $cx^2 > x^3$ ou $x < c$; il reste donc à prouver que $x > \sqrt[3]{a}$. Observons d'abord qu'il ne pourra être question d'une rencontre des deux sections coniques que tant que $\sqrt[3]{a} < \frac{2}{3} c$, parce que de $\sqrt[3]{a} = \frac{2}{3} c$ il suit

$27 a > 8 c^3 > 4 c^3$, ce qui rendrait l'intersection imaginaire. Or on a

$$\frac{d(cx^2 - x^3)}{dx} = 3x \left\{ \frac{2}{3} c - x \right\}, \text{ d'où il suit que, pour toutes les valeurs de}$$

x comprises entre 0 et $\frac{2}{3} c$, $cx^2 - x^3$ décroîtra avec x . Pour $x = \sqrt[3]{a}$,

puisque en même temps $c < 2\sqrt[3]{a}$, on trouve $cx^2 - x^3 < a$; donc pour toutes les valeurs de x plus petites que $\sqrt[3]{a}$, $cx^2 - x^3 < a$, ce qu'il s'agissait de prouver. — Le cas du contact donne deux racines égales et positives $x = \frac{2}{3} c$.

3) $BC < AB$ (fig. 21, 3)... $\overline{BD}^2 < AB \cdot BC$; la parabole passe au delà du point D, et rencontre nécessairement l'hyperbole en deux points; ce qui suit aussi de ce que de $\sqrt[3]{a} < \frac{1}{2} c$ on tire $4c^3 > 32 a > 27 a$.

rés sera plus petit que le nombre donné, sans qu'on ajoute encore quelque chose à ce dernier. Enfin, si le côté cherché est plus grand que H , le cube de ce côté sera plus grand que le produit de son carré en AC , sans qu'on ajoute encore le nombre à ce cube.

Puis si H est plus grande que AC , l'impossibilité a lieu dans les trois cas à plus forte raison. Il est donc nécessaire que H soit plus petite que AC ; sinon, le problème sera impossible.

Retranchons donc de AC la partie BC égale à H . La ligne BC sera ou égale à AB , ou plus grande que AB , ou plus petite. Qu'elle soit dans la première figure (fig. 21, 1) égale; dans la seconde (fig. 21, 2), plus grande; et dans la troisième (fig. 21, 3), plus petite. Complétons dans les trois figures le carré DC , et faisons passer par le point D une hyperbole ayant pour asymptotes les lignes AC , CE . Ce sera dans la première figure la courbe DZ , dans la seconde et dans la troisième DT . Décrivons ensuite une parabole dont le sommet soit situé au point A , dont l'axe soit AC et le paramètre BC . Ce sera dans la première figure AT , dans la seconde AL , et dans la troisième AK . Les deux coniques seront connues de position. Dans la première figure, la parabole passera par le point D , parce que le carré de DB est égal au produit de AB en BC , d'où il suit que D est situé sur la circonférence de la parabole. Celle-ci rencontrera (l'hyperbole) encore dans un autre point, ce qu'on peut reconnaître par la moindre réflexion. Dans la seconde figure, le point D sera situé en dehors de la circonférence de la parabole, parce que le carré de DB y sera plus grand que le produit de AB en BC ; alors, si les deux coniques se rencontrent dans un autre point par contact ou par intersection, auquel cas la perpendiculaire abaissée de ce point (sur AC) tombe infailliblement sur le segment compris entre les deux points A et B , le problème est possible; sinon, il est

impossible. Ce contact, ou cette intersection, ont échappé à l'excellent géomètre Aboûl Djoûd (*), en sorte qu'il déclara que si BC est plus grande que AB, le problème est impossible; en quoi il s'est trompé. Cette espèce est aussi celle parmi les six espèces dont avait besoin Almâhânî; de sorte qu'elle est connue. Dans la troisième figure, le point D est situé dans 27 l'intérieur de la parabole, en sorte que les deux coniques se coupent en deux points.

Dans tous les cas (**), abaissons du point de rencontre une perpendiculaire sur AB. Que ce soit dans la seconde figure TZ. De même, abaissons de ce point une seconde perpendiculaire sur CE; ce sera TK. Le rectangle TC sera égal au rectangle DC, et conséquemment ZC sera à BC comme BC à TZ. Or, TZ est ordonnée de la conique ATL, d'où il suit que son carré est égal au produit de AZ en BC; donc BC à TZ comme TZ à ZA. Il en résulte que les quatre lignes sont en proportion continue, à savoir : ZC à CB comme CB à TZ, et comme TZ à ZA. Le carré de la première ZC sera donc au carré de la seconde BC comme la seconde BC à la quatrième ZA; et conséquemment le cube de BC, qui est égal au nombre donné, sera égal au solide dont la base est le carré de ZC et la hauteur ZA. Ajoutons à tous les deux le cube de ZC. Alors le cube de ZC, plus le nombre donné, sera égal au solide dont la base est le carré de ZC et la hauteur AC, lequel solide est égal au nombre donné de carrés; et c'est ce qu'il s'agissait d'obtenir. On discutera d'une manière analogue les deux autres cas, en

*) Ce géomètre était contemporain d'Albîroûnî. Voir l'addition D, premier problème.

**) Hyperbole : $ZC:BC = BC:TZ$

Parabole : $BC:TZ = TZ:ZA$

$\overline{ZC}^2 : \overline{BC}^2 = BC : ZA, \overline{BC}^2 = \overline{ZC}^2 \cdot ZA$

$\overline{ZC}^3 + \overline{BC}^3 = \overline{ZC}^3 + \overline{ZC}^2 \cdot ZA = \overline{ZC}^2 \cdot AC$ ou $\overline{ZC}^3 + a = c \cdot \overline{ZC}^2, x = ZC.$

observant que le troisième donnera nécessairement deux cubes comme solution du problème, parce que chacune des (deux) perpendiculaires (abaissées des deux points de rencontre que les deux coniques ont en ce cas) coupera de CA un côté d'un cube (qui satisfait à l'équation proposée), ainsi qu'on vient de le démontrer.

Il résulte de ce qui précède que cette espèce comprend une variété de cas, et qu'elle renferme des problèmes impossibles (*). Elle a été résolue au moyen des propriétés de deux sections coniques combinées d'une parabole et d'une hyperbole.

Sixième espèce des six espèces d'équations trinômes qui restaient à être discutées : « UN CUBE EST ÉGAL A DES CARRÉS, PLUS DES NOMBRES (**). »

Représentons le nombre des carrés par la ligne AB (fig. 22), et construisons un solide ayant pour hauteur AB et pour base un carré, et qui soit égal au nombre donné. Que le côté de sa base soit BC et perpendiculaire à AB. Complétons le rectangle DB, et faisons passer par le point C, qui est connu de position, une hyperbole ayant pour asymptotes les droites AB, AD, à savoir la conique CEZ. Puis décrivons une seconde conique, une parabole ayant son sommet au point B, et son axe sur le prolonge-

*) L'équation $x^3 - cx^2 + a = 0$ a toujours une racine réelle et négative, dont l'auteur ne tient donc aucun compte. Les deux autres racines sont positives ou imaginaires. Dès qu'elles ne sont pas positives, le problème est « impossible ». Quant aux différents cas mentionnés par l'auteur, ils ont été distingués dans la note précédente.

**) XVIII, $cx^2 + a = x^3$. $AB = c$, $AB \cdot BC = a$.

AB, AD asymptotes de l'hyperbole équilatère CEZ qui passe par le point C.
B sommet, BK axe, AB paramètre de la parabole BEH.

Hyperbole : $BC : AK = EK : AB$, $\overline{BC}^2 : \overline{AK}^2 = \overline{EK}^2 : \overline{AB}^2$

Parabole : $AB : EK = EK : BK$, $\overline{EK}^2 : \overline{AB}^2 = \overline{BK}^2 : \overline{AB}^2$

$\overline{BC}^2 : \overline{AK}^2 = \overline{BK}^2 : \overline{AB}^2$, $\overline{AK}^2 \cdot BK = AB \cdot \overline{BC}^2$

$\overline{AK}^2 \cdot AB + \overline{AK}^2 \cdot BK = \overline{AK}^2 \cdot AB + AB \cdot \overline{BC}^2$ ou $\overline{AK}^2 = c \cdot \overline{AK}^2 + a$, $x = AK$

ment de AB, et dont le paramètre soit AB. Ce sera la courbe BEH. Or ces deux coniques s'entrecoupent nécessairement. Que 28 leur point d'intersection soit E. Alors E sera connu de position. Abaissons de ce point deux perpendiculaires ET, EK, sur AB, AD. Le rectangle EA sera égal au rectangle CA, et AK sera à BC comme AB à EK. Les carrés de ces côtés seront donc également proportionnels. Mais le carré de EK est égal au produit de KB en AB, parce que EK est ordonnée de la conique BEH; et conséquemment le carré de AB sera au carré de EK comme AB à BK. Le carré de BC sera donc au carré de AK comme BK à AB; d'où il suit que le solide dont la base est le carré de BC et la hauteur AB, est égal au solide dont la base est le carré de AK et la hauteur KB, à cause de la proportionnalité réciproque des hauteurs et des bases des deux solides. En ajoutant à tous les deux le solide dont la base est le carré de AK et la hauteur AB, le cube de AK sera égal au solide dont la base est le carré de BC et la hauteur AB, que nous avons fait égal au nombre donné; plus le solide dont la base est le carré de AK et la hauteur AB, lequel est égal au nombre donné de carrés. Le cube de AK sera donc égal au nombre donné de carrés du même, plus le nombre donné.

Cette espèce ne renferme ni variété de cas, ni problèmes impossibles (*). Elle a été résolue au moyen des propriétés de deux sections coniques combinées, d'une parabole et d'une hyperbole.

Après avoir ainsi terminé la discussion des équations trinômes, occupons-nous de celle des quatre équations quadtrinômes, dont chacune consiste dans une égalité entre trois

*) L'équation $x^3 - cx^2 - a = 0$ admet toujours une racine réelle et positive; les deux autres racines sont toujours imaginaires.

termes et un terme. *Première espèce des quatre équations quadrinômes* : « UN CUBE, DES CARRÉS ET DES CÔTÉS SONT ÉGAUX A DES NOMBRES (*). »

Faisons BE (fig. 23) égale au côté d'un carré égal au nombre donné des côtés, et construisons un solide ayant pour base le carré de BE, et égal au nombre donné. Que sa hauteur soit BC, et que BC soit perpendiculaire à BE. Plaçons BD, égale au nombre donné des carrés, sur le prolongement de BC, et dé-
29 crivons sur DC comme diamètre le demi-cercle DZC. Complétons le rectangle BK, et faisons passer par le point C une hyperbole ayant pour asymptotes les droites BE, EK. Elle coupera le cercle au point C, parce qu'elle coupe CK, la tangente au cercle; il suit donc nécessairement que l'hyperbole coupe le cercle dans un second point. Que ce point d'intersection soit Z. Alors Z sera connu de position, parce que le cercle et la conique sont connus de position. Abaissons de Z deux perpendiculaires ZT, ZA sur EK, EA. Le rectangle ZE sera égal au rectangle BK. En retranchant EL commun à tous les deux, il reste le rectangle ZB égal au rectangle LK. Conséquemment ZL sera à LC comme EB à BL, parce que EB est égale à TL, et les carrés de ces côtés seront de même proportionnels. Mais le carré de ZL est au carré de LC comme DL à LC, à cause du cercle. Il résulte que le carré de EB sera au carré de BL

*) XIX, $x^3 + cx^2 + bx = a$. $\overline{EB}^2 = b$, $\overline{EB}^2 \cdot BC = a$, $BD = c$.

DC diamètre du cercle DZC.

EA, EK asymptotes de l'hyperbole équilatère CZ qui passe par le point C.

Hyperbole : $ZE = BK$, donc $ZE - EL = BK - EL$ ou $ZB = LK$

$$ZL : LC = TL : BL = EB : BL, \quad \overline{ZL}^2 : \overline{LC}^2 = \overline{EB}^2 : \overline{BL}^2$$

Cercle :

$$\frac{\overline{ZL}^2 : \overline{LC}^2 = \overline{DL}^2 : \overline{LC}^2}{\overline{EB}^2 : \overline{BL}^2 = \overline{DL}^2 : \overline{LC}^2}$$

$$\overline{EB}^2 \cdot LC = \overline{BL}^2 \cdot DL = \overline{BL}^2 + \overline{BL}^2 \cdot BD$$

$$\overline{BL}^2 + BD \cdot \overline{BL}^2 + \overline{EB}^2 \cdot BL = \overline{EB}^2 \cdot LC + \overline{EB}^2 \cdot BL = \overline{EB}^2 \cdot BC$$

$$\text{ou } \overline{BL}^2 + c \cdot \overline{BL}^2 + b \cdot BL = a, \quad x = BL.$$

comme DL à LC, d'où il suit que le solide dont la base est le carré de EB et la hauteur LC, est égal au solide dont la base est le carré de BL et la hauteur DL. Mais ce dernier solide est égal au cube de BL, plus le solide dont la base est le carré de BL et la hauteur BD, lequel est égal au nombre donné de carrés. Ajoutons de part et d'autre le solide dont la base est le carré de EB et la hauteur BL, lequel est égal au nombre (donné) de racines. Le solide ayant pour base le carré de EB et pour hauteur BC, lequel nous avons fait égal au nombre donné, se trouvera être égal au cube de BL, plus le nombre donné de ses côtés et plus le nombre donné de ses carrés. Mais c'est ce que nous nous proposons de montrer.

Cette espèce ne renferme ni variété de cas ni problèmes impossibles (*). Elle a été résolue au moyen des propriétés d'une hyperbole combinées avec celles d'un cercle.

Seconde espèce des quatre espèces quadrinômes. « UN CUBE, DES CARRÉS ET DES NOMBRES SONT ÉGAUX A DES CÔTÉS (**). »

Faisons AB (fig. 24) égale au côté d'un carré égal au nombre des côtés, BC égale au nombre donné des carrés, et faisons BC perpendiculaire à AB. Construisons un solide ayant pour base le carré de AB et égal au nombre donné, et plaçons sa 30 hauteur BD sur le prolongement de BC. Après avoir complété

*) L'équation $x^3 + cx^2 + bx - a = 0$ admet toujours une racine réelle et positive, tandis que ses deux autres racines sont ou négatives ou imaginaires, et conséquemment négligées par l'auteur.

**) $xx, x^3 + cx^2 + a = bx.$ $\overline{AB}^2 = b, BC = c, \overline{AB}^3 \cdot BD = a.$

AB, AE asymptotes de l'hyperbole équilatère ZDH qui passe par le point D.

D sommet, DL axe, DC paramètre de l'hyperbole équilatère TDH.

Hyperb. ZDH... $AH = AD$, donc $AH - EM + DH = AD - EM + DH$ ou $EL = LM$,

donc KL ou $\overline{AB}^2 : \overline{BL}^2 = \overline{HL}^2 : \overline{LD}^2$

Hyperb. TDH... $\overline{HL}^2 = LD \cdot CL$, $\overline{HL}^2 : \overline{LD}^2 = CL : LD$

$\overline{AB}^2 : \overline{BL}^2 = CL : LD$, $\overline{BL}^2 \cdot LC = \overline{AB}^2 \cdot LD$

$\overline{BL}^3 + \overline{BL}^2 \cdot BC + \overline{AB}^2 \cdot BD = \overline{AB}^2 \cdot LD + \overline{AB}^2 \cdot BD = \overline{AB}^2 \cdot BL$

ou $\overline{BL}^3 + c \cdot \overline{BL}^2 + a = b \cdot BL$, $x = BL$.

le rectangle BE, faisons passer par le point D une hyperbole ayant pour asymptotes les droites AB, AE, à savoir l'hyperbole ZDH. Décrivons ensuite une seconde hyperbole ayant son sommet au point D et son axe sur le prolongement de BD, et dont le paramètre et le grand axe soient égaux tous les deux à DC. Ce sera la courbe TDH. Cette conique coupera nécessairement la première au point D. Alors s'il est possible que les deux coniques se rencontrent encore dans un autre point, le problème est possible; sinon, il est impossible. Cette rencontre par contact (dans un point) ou par intersection, en deux points, dépend de ce qui est exposé dans le quatrième livre du traité des Coniques. Or, nous avons promis de ne nous en rapporter qu'aux deux (premiers) livres de cet ouvrage. Toutefois ceci ne touche en rien à notre promesse, puisque, pourvu que les deux coniques se rencontrent, il est indifférent que ce soit par contact ou par intersection. Remarquez cela. La rencontre peut donc être un contact ou une intersection; mais si l'une des deux coniques coupe l'autre dans un autre point que D, elle la coupera nécessairement en deux points (autre en D).

Dans tous les cas, abaissons du point de l'intersection ou de la rencontre quelle qu'elle soit, disons du point H, deux perpendiculaires HM, KHL. Elles seront connues de position et de grandeur, puisque le point H est connu de position. Alors le rectangle AH est égal au rectangle AD. Retranchons EM, qui est commun à tous les deux; il reste MD égal à EH; puis ajoutons à l'un et à l'autre de ceux-ci DH; il résulte ML égal à EL; d'où il suit que les côtés, et de même les carrés des côtés, de ces rectangles seront réciproquement proportionnels. Le carré de AB sera donc au carré de BL comme le carré de HL au carré de LD; mais le carré de HL est au carré de LD comme

CL à LD, ainsi que nous l'avons démontré plusieurs fois (*). Conséquemment le carré de AB sera au carré de BL comme CL à LD; d'où il suit que le solide dont la hauteur est LD, et la base le carré de AB, est égal au solide dont la base est le carré de BL et la hauteur LC. Mais ce second solide est égal au cube de BL, plus le solide dont la base est le carré de BL et la hauteur BC, lequel est égal au nombre donné de carrés. Ajoutons de part et d'autre le solide dont la base est le carré de AB et la hauteur BD, lequel nous avons fait égal au nom- 31 bre donné. Le cube de BL, plus le nombre donné de carrés du même et plus le nombre donné, sera égal au solide dont la base est le carré de AB et la hauteur BL, lequel est égal au nombre donné de côtés du cube de BL. Mais c'est ce qu'il s'agissait d'obtenir.

Il est évident que cette espèce admet différents cas : quelquefois on trouvera dans les problèmes qui en dépendent deux côtés correspondant à deux cubes, et quelquefois cette espèce, c'est-à-dire les problèmes qui en dépendent, n'auront pas de solution (**). Elle a été résolue par les propriétés de deux hyperboles. C'est ce que nous nous proposons de démontrer.

Troisième espèce des quatre équations quadrinômes. « UN CUBE, DES CÔTÉS ET DES NOMBRES SONT ÉGAUX A DES CARRÉS (***) ».

Représentons le nombre donné des carrés par la ligne BE

*) Voir pages 35 et 37.

**) L'équation $x^3 + cx^2 - bx + a = 0$ admet toujours une racine réelle et négative, négligée par l'auteur. Ses deux autres racines sont ou imaginaires (alors le problème est « impossible »), ou positives et égales ($x = -\frac{1}{3}c + \frac{1}{3}\sqrt{3b + c^2}$... contact des deux hyperboles), ou positives et inégales (intersection des hyperboles en deux points, outre D), — ce qui constitue la variété de cas mentionnée par l'auteur.

***) XXI, $x^3 + bx + a = cx^2$. $BE = c$, $\overline{BC} = b$, $\overline{BC}^2 \cdot AB = a$.

Rectangle HC = rectangle CA. — AE diamètre du cercle AZLNE.

CZ, CM asymptotes de l'hyperbole équilatère LHN qui passe par le point H.

(fig. 25), et faisons BC égale au côté d'un carré égal au nombre des côtés. Que BC soit perpendiculaire à BE; construisons un solide ayant pour base le carré de BC et égal au nombre donné. Que la hauteur AB de ce solide soit placée sur le prolongement de BE. Décrivons sur AE le demi-cercle AZE.

Le point C sera situé, ou dans l'intérieur du cercle, ou sur sa circonférence, ou en dehors du cercle.

Qu'il soit d'abord situé dans l'intérieur du cercle. Prolongeons BC jusqu'à ce qu'elle coupe le cercle au point Z; complétons le rectangle AC, et construisons sur ZC un rectangle égal au rectangle AC, lequel sera CH. Le point H sera connu de position, parce que le rectangle CH est connu de grandeur, que ses angles sont aussi connus de grandeur, et que la ligne ZC est connue de position et de grandeur.

Ce point H sera à son tour situé, ou dans l'intérieur du cercle, ou sur sa circonférence, ou en dehors du cercle.

Qu'il soit d'abord situé dans l'intérieur du cercle. Faisons passer par le point H une hyperbole ayant pour asymptotes les droites ZC, CM. Dans cette position elle coupera nécessairement le cercle en deux points. Que les deux points d'intersection soient L et N; ils seront connus de position. Abaissons de ces deux points deux perpendiculaires LK, NF sur AE, et du point L une perpendiculaire LT sur BZ. Le rectangle LC sera égal au rectangle CH, et CH est égal à CA. Ajoutons de part et d'autre CK. On obtiendra DK égal à TK. Conséquemment les côtés, et de même les carrés des côtés,

$$\text{Hyperbole : } LC = CH = CA, \text{ donc } LC + CK = CA + CK \text{ ou } TK = DK, \text{ donc}$$

$$\overline{LK}^2 : \overline{KA}^2 = \overline{AD}^2 : \overline{KB}^2 = \overline{BC}^2 : \overline{KB}^2$$

$$\text{Cercle : } \overline{LK}^2 : \overline{KA}^2 = EK : KA$$

$$\overline{BC}^2 : \overline{KB}^2 = EK : KA, \overline{BC}^2 \cdot KA = \overline{KB}^2 \cdot EK$$

$$\overline{KB}^3 + \overline{BC}^2 \cdot KB + \overline{BC}^2 \cdot AB = \overline{KB}^3 + \overline{KB}^2 \cdot EK = \overline{KB}^3 \cdot BE$$

$$\text{ou } \overline{KB}^3 + b \cdot KB + a = c \cdot \overline{KB}^2, x = KB$$

de ces deux rectangles seront réciproquement proportionnels. Mais le carré de LK est au carré de KA comme EK à KA, à cause du cercle. Il suit donc nécessairement que le carré de BC est au carré de BK comme EK à KA; en sorte que le solide dont la base est le carré de BC et la hauteur KA est égal au solide dont la base est le carré de BK et la hauteur KE. Mais le premier de ces deux solides est égal au nombre donné de côtés du cube de BK, plus le nombre donné. Ajoutons de part et d'autre le cube de BK. Alors le solide dont la base est le carré de BK et la hauteur BE, lequel est égal au nombre donné de carrés du cube de BK, sera égal au cube de BK, plus le nombre donné de ses côtés et plus le nombre donné. Et de même le cube de BF satisfera à la même équation, en vertu de la même démonstration, lorsque les deux points C, H tombent dans l'intérieur du cercle (*).

Lorsque H tombe en dehors du cercle, et que nous décrivons la conique, souvent elle rencontre le cercle par contact ou par intersection (c'est ce cas de cette espèce qui a été mentionné par Aboul-Djoûd dans la solution du problème dont nous parlerons tout à l'heure); et dès lors la discussion revient à ce que nous venons d'exposer. Mais si la conique ne rencontre pas le cercle, décrivons toujours le rectangle sur une ligne plus petite, ou, dans l'autre cas, plus grande que ZC (**).

*) Voici quels sont les cas distingués par l'auteur :

I) C est situé dans l'intérieur du cercle..... $b^2 < ac$.

1) H est situé dans l'intérieur du cercle..... $a^{\frac{3}{2}} + b^2 \cdot \sqrt{c} < \sqrt{a} \cdot bc$.

2) H est situé sur la circonférence du cercle..... $a^{\frac{3}{2}} + b^2 \cdot \sqrt{c} = \sqrt{a} \cdot bc$.

3) H est situé en dehors du cercle..... $a^{\frac{3}{2}} + b^2 \cdot \sqrt{c} > \sqrt{a} \cdot bc$.

II) C est situé sur la circonférence du cercle..... $b^2 = ac$.

III) C est situé en dehors du cercle..... $b^2 > ac$.

**) C'est parfaitement inutile. — « Dans l'autre cas », c'est-à-dire pour raccourcir le rectangle CH dans l'un ou l'autre sens. — Il semble qu'ici l'auteur, de même qu'auparavant, dans la construction de HC sur une base terminée exactement par la circonférence du cercle, puis

Alors, si la conique ne rencontre pas le cercle, le problème est impossible. La démonstration de son impossibilité consistera dans l'inversion de ce que nous venons d'exposer. Lorsque C tombe sur la circonférence ou en dehors du cercle, nous prolongeons CZ, et nous décrivons un rectangle ayant un de ses sommets au point C, et tel que, si l'on faisait passer par le sommet opposé au sommet C une hyperbole de la manière indiquée ci-dessus, elle rencontrerait le cercle par contact ou par intersection. On reconnaît cela au moyen de quelques essais successifs, en employant un cas de cette règle facile, que je ne reproduis pas ici, afin de laisser un exercice aux lecteurs de ce Mémoire. Car celui qui ne serait pas assez fort pour trouver cela lui-même ne comprendrait rien à ce traité, fondé sur les trois ouvrages mentionnés ci-dessus.

Nous démontrons l'impossibilité des cas impossibles de cette espèce, par l'inversion de la démonstration que nous avons donnée pour les cas possibles. Pour cet effet, nous constatons d'abord que le côté du cube doit nécessairement être plus petit que EB, qui représente le nombre donné des carrés (*), parce que, si le côté du cube était égal au nombre donné des carrés, ce cube serait égal au nombre donné de carrés du même, sans qu'on ajoute encore au premier quelque autre chose en fait de nombre ou de côtés du cube; et si le côté du cube était plus grand que le nombre donné des carrés, le cube lui-même serait déjà plus grand que le nombre donné de carrés du même, sans qu'on ajoute encore quelque chose

dans la règle qu'il va donner aussitôt, a suivi les traces d'une discussion donnée par ce mathématicien, qui, de l'aveu de l'auteur, s'était occupé antérieurement de cette équation. Mais à la fin, Alkhayyami, comme on verra, rejette toutes ces particularités inutiles, et leur substitue une règle qui ne contient en effet que ce qui suffit et ce qui est nécessaire.

*) Si l'on avait $x \geq c$, il s'ensuivrait $x^3 \geq cx^2$ et $x^3 + bx + a > cx^2$; de sorte que, pour que l'équation $x^3 + bx + a = cx^2$ puisse subsister, il faut qu'on ait $x < c$.

à ce cube. Il est donc démontré que le côté du cube doit être plus petit que BE. Conséquemment coupons de BE une partie BF égale au côté du cube, et menons de F une perpendiculaire (à BE) jusqu'à la circonférence du cercle. Puis, intervertissons la démonstration proposée ci-dessus : il résultera que le sommet de la perpendiculaire sera situé sur la circonférence de l'hyperbole (*), dont on avait dit qu'elle ne peut rencontrer le cercle. Mais cela est absurde.

Cependant, puisque je suis d'opinion que ces essais pourraient sembler incommodes à quelques-uns des lecteurs de ce Mémoire, je vais rejeter tout ce procédé, et proposer une règle indépendante de ces essais. Elle consiste à construire sur une ligne (de longueur) arbitraire, prise sur le prolongement de BC, quelle que soit d'ailleurs la position du point C, en dehors ou en dedans du cercle, un rectangle ayant un de ses sommets au point C et égal au rectangle AC, les côtés duquel rectangle seront infailliblement connus de grandeur et de position. Ensuite, à faire passer par le sommet opposé au sommet C une hyperbole ayant pour asymptotes ZC, CM, la der- 34 nière de ces deux lignes étant la perpendiculaire (à ZC) au point C. Alors, si la conique rencontre le cercle par contact

*) En effet, puisqu'on avait supposé que BF représente le côté du cube demandé, on a $\overline{BF}^3 + \overline{BC}^2 \cdot \overline{BF} + \overline{BC}^2 \cdot \overline{AB} = \overline{BE}^3$. $\overline{BF}^2 = \overline{BF}^3 + \overline{BF}^2 \cdot \overline{FE}$; donc $\overline{BC}^2 \cdot \overline{BF} + \overline{BC}^2 \cdot \overline{AB} = \overline{BF}^2 \cdot \overline{FE}$ ou $\overline{BC}^2 \cdot \overline{AF} = \overline{BF}^2 \cdot \overline{FE}$, et conséquemment $\overline{BC}^2 : \overline{BF}^2 = \overline{FE} : \overline{AF}$. Mais on a dans le cercle $\overline{NF} : \overline{FA} = \overline{FE} : \overline{AF}$, donc $\overline{NF} : \overline{FA} = \overline{BC}^2 : \overline{BF}^2 = \overline{AD}^2 : \overline{BF}^2$ et $\overline{NF} \cdot \overline{FB} = \overline{FA} \cdot \overline{AD}$ ou $\overline{SF} = \overline{DF}$, par conséquent $\overline{SF} - \overline{CF} = \overline{DF} - \overline{CF}$ ou $\overline{NC} = \overline{CA} = \overline{CH}$; d'où il suit que N est situé sur la circonférence d'une hyperbole qui passe par H, et qui a ZC, CM pour asymptotes.

A l'occasion des autres espèces qui présentent des cas « impossibles », l'auteur s'est toujours borné à remarquer que l'impossibilité a lieu lorsque les deux coniques qui construisent le problème ne se rencontrent pas, sans le prouver. La démonstration qu'il indique ici irait, avec quelques changements, aux autres cas semblables; de sorte qu'on la peut supposer donnée une fois pour toutes.

J'ai signalé (addition D, premier problème) une semblable démonstration donnée par un autre géomètre arabe.

ou par intersection, le problème est possible; sinon, il est impossible. La démonstration de l'impossibilité sera celle que j'ai présentée ci-dessus.

Un géomètre qui avait besoin de cette espèce la résolut effectivement, si ce n'est qu'il ne démontra pas la variété de ses cas, et qu'il ne lui vint pas à l'esprit que quelquefois la solution est impossible, ainsi que nous l'avons démontré. Donc, remarquez cela, et remarquez surtout la seconde règle relative à la construction de cette équation, et à la distinction des cas possibles d'avec les cas impossibles. Cette espèce a été résolue au moyen des propriétés du cercle combinées avec celles de l'hyperbole; et c'est ce que nous nous proposons d'expliquer.

Voici le problème qui obligea un des géomètres modernes à chercher la solution de cette espèce (*): Diviser dix en deux parties, de sorte que la somme des carrés des deux parties, plus le quotient de la partie majeure par la partie mineure, soit égale à soixante-douze. Or il posa une des deux parties égale à « chose », et l'autre égale à dix moins chose, ainsi que c'est la coutume des algébristes dans les exemples qui présentent de semblables parties. Alors l'emploi des opérations algébriques conduit à un cube plus cinq en nombre et plus treize et demi de ses côtés égal à dix carrés. Dans cet exemple, les deux points C, H tombent exactement dans l'intérieur du cercle; et ce géomètre excellent résolut le problème, qui avait résisté aux efforts de tous les mathématiciens distingués de l'Irak, du nombre desquels était Aboû Sahl Alqoûhi (**),

*) $(10 - x)^2 + x^2 + \frac{10 - x}{x} = 72$, ou $x^3 + 13\frac{1}{2}x + 5 = 10x^2$; les racines sont $x = 2$, $x = 4 \pm \frac{1}{2}\sqrt{74}$. Les deux points C, H tombent tous les deux en dehors du cercle; l'assertion contraire du texte doit donc être attribuée à une faute de copie commune par hasard aux deux manuscrits, ou à une erreur momentanée de l'auteur.

**) Ce surnom « Alqoûhi » est expliqué dans le *Qitâb Alfihrist*, par les mots من الكوة جبال طبرستان. Pour des détails concernant la vie de ce géomètre, je me borne à renvoyer à *Casiri*, tom. I, p. 441-444, et *Abouî Faradj*, éd. de Pococke, p. 329. Mais je com-

que Dieu soit miséricordieux envers eux! — si ce n'est que l'auteur de cette solution, que Dieu lui soit favorable! tout illustre

plérait ce qu'on trouve dans Casiri au sujet des ouvrages d'Alqôhîl. En voici d'abord le catalogue, extrait du *Qitâb Alfihrist* :

- 1) Traité des centres des instruments (الالات) ; le texte de Casiri et le Ms. du Târikh al Hoq. de la Bibl. nat. portent الاكر, « des sphères », qu'il laissa inachevé.
- 2) Traité des éléments à la manière de l'ouvrage d'Euclide (على نحو كتاب اقليدس) ; le texte de Casiri porte على تحريكات اقليدس, et le Ms. du Târikh al Hoq. على تحريكات اقليدس ; tous les deux ajoutent encore à cet ouvrage qu'il resta inachevé).
- 3) Traité du compas parfait ; deux livres.
- 4) Traité de l'art de construire des astrolabes, avec démonstrations ; deux livres.
- 5) Traité de la détermination des points sur des lignes.
- 6) Traité au sujet des logiciens relativement à la combinaison continue des deux mouvements, à la défense de Thâbit Ben Korrah.
- 7) Traité des centres des cercles situés sur des lignes, suivant la méthode de l'analyse, sans synthèse.
- 8) Traité de la construction des deux lignes en proportion.
- 9) Traité des cercles qui se touchent, suivant la méthode de l'analyse.
- 10) Traité des additions au second livre d'Archimède.
- 11) Traité de la détermination du côté de l'heptagone inscrit au cercle.

Quant aux ouvrages 7 et 9, j'ai rencontré, dans un Ms. de la Bibl. nationale, un mémoire d'Alqôhîl, intitulé : « Des centres de cercles qui se touchent, situés sur des lignes ». Alqôhîl y résout successivement les problèmes suivants : Construire un cercle passant par deux points donnés — ou touchant deux droites données — ou passant par un point donné et touchant une droite donnée — et dont le centre soit situé sur une droite donnée ; constr. un cercle passant par un point donné et touchant une droite donnée — ou touchant une droite donnée et un cercle donné — et dont le centre soit situé sur une courbe quelconque donnée ; constr. un cercle passant par un point donné et touchant un cercle donné, et dont le centre soit situé sur une droite — puis sur une courbe quelconque donnée ; enfin, constr. un cercle dont le centre soit situé sur une courbe quelconque donnée, et touchant deux cercles donnés. A la fin de ce mémoire, l'auteur ajoute : « Avant de prendre connaissance du traité d'Apollonius sur les sections coniques, nous avons résolu un des cas spéciaux de ce problème, lequel ne conduit pas à des sections coniques. C'est celui où la ligne connue de position est une partie de la circonférence d'un cercle, tandis que les centres des trois cercles sont situés sur la même droite. Nous en avons fait mention, ainsi que de quelques-unes de ces propositions, dans notre traité analytique, lequel nous avons intitulé de même : « Des centres de cercles qui se touchent, situés sur des lignes ». Mais nous n'en avons pas parlé ici, parce que cela rentre dans les principes des subdivisions, et que si nous avions voulu nous occuper des subdivisions et des spécifications, et de la synthèse et de l'énumération des différents cas des subdivisions des points suivant la méthode employée par Apollonius dans un de ses ouvrages, notre traité se serait trop étendu. Mais nous espérons pouvoir encore traiter à fond cet objet, si telle est la volonté de Dieu. »

Quant à l'ouvrage 5, c'est probablement le mémoire d'Alqôhîl, dont une copie se trouve dans le même Ms. de la Bibl. nat., où il est intitulé « Traité du problème de mener d'un point donné deux lignes renfermant un angle donné ». Il y est question de mener ces deux lignes de sorte qu'elles aboutissent à une droite donnée de position, et que le rapport — ou le produit des deux segments interceptés entre le point donné et la droite donnée — ou que l'aire du triangle produit — ou que la base de ce triangle — ou que la somme des carrés des deux segments — ou que la somme de ces segments — ou leur différence — soit de grandeur donnée. Puis Alqôhîl résout les quatre premiers cas en supposant que la ligne donnée de posi-

et tout habile mathématicien qu'il était, ne conçut pas l'idée de ces différents cas, bien que parmi les problèmes de cette

tion n'est plus droite, mais une circonférence de cercle. Si le sujet de ce mémoire correspond assez au titre de l'ouvrage 5, son titre ressemble encore plus parfaitement à celui de l'ouvrage 8, qui cependant indique peut-être un mémoire sur la construction des deux moyennes proportionnelles.

Quant à l'ouvrage 10, que Casiri a pris pour une addition faite au traité d'Archimède sur les conoïdes et les sphéroïdes — en quoi il s'est trompé — je n'ai qu'à renvoyer aux additions jointes à la fin de cette traduction. J'ai rendu compte dans l'addition C de ce que contenait ce mémoire d'Alqôhî.

Quant à l'ouvrage 4, il en existe une copie dans un Ms. de la bibliothèque de Leyde; elle y occupe vingt-huit pages, et est suivie d'un commentaire.

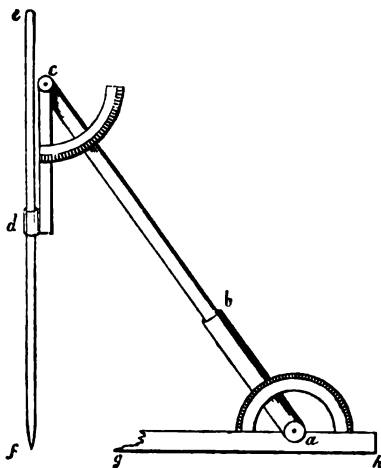
Quant à l'ouvrage 3, la bibl. de Leyde en possède également une copie, cotée n° 1126 du catalogue de 1716, mais que je n'ai pas eue sous les yeux : cependant j'ai examiné un petit mémoire d'un Ms. de la Bibl. nat. qui traite du même sujet, et dans lequel on cite Alqôhî et Albroûnî. Ce petit traité fut composé pour le célèbre sultan Almalîq Alnâcîr *Seldh Eddîn* Aboul Mozhaffîr Iouçouf ben Ayoûb, par Mohammed ben Alhoçain ben Mohammed ben Alhoçain. — Voici quel est le principe de cet instrument imaginé par les géomètres arabes pour décrire les sections coniques par un mouvement continu. Supposons un cône coupé par un plan, désignons par α l'angle générateur du cône, par β l'angle que fait l'axe du cône avec le plan coupant, par K la partie de l'axe comprise entre le sommet du cône et le plan coupant. En désignant par P et A le paramètre et le grand axe de la section produite, on aura $\frac{P}{K} = \operatorname{tg} \alpha \cdot \sin \beta$, $\frac{A}{K} = \pm \frac{\sin \alpha \cdot \cos \alpha}{\cos^2 \alpha - \cos^2 \beta} \sin \beta$. Réciproquement, A, P, K étant donnés, on pourra déterminer α et β . En effet, posant pour abrégier

$$\pm \frac{\frac{1}{\frac{P}{K}} - 1}{\frac{1}{\frac{P}{K}} - 1} = \rho, \quad \left(\frac{P}{K}\right)^2 + 1 = \sigma,$$

on aura $\cos^4 \alpha + (\rho \cdot \sigma - 1) \cos^2 \alpha - \rho = 0$, $\sin \beta = \frac{P}{K} \cdot \cotg \alpha$:

on voit dès lors que α et β peuvent être déterminés par de simples constructions géométriques.

Je donne ci-contre un dessin de l'instrument arabe. Après avoir déterminé α et β au moyen



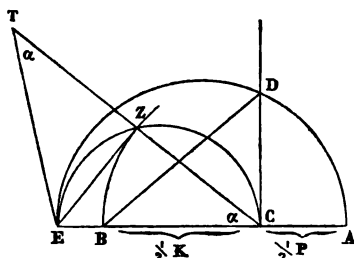
des éléments (A, P) de la conique qu'il s'agit de décrire, en prenant K égal à la longueur *ca*, faisons l'angle $gab = \beta$, l'angle $bcd = \alpha$. Puis plaçons *gh* sur la direction du grand axe de la conique que nous nous proposons de décrire, et la pointe *f* du crayon sur le sommet de cette conique. On reconnaît sur-le-champ que, si le crayon *ef* peut glisser librement dans le tuyau *d*, et s'allonger pour ainsi dire sans cesse de manière à rester constamment appliqué au plan du papier sur lequel on a placé l'instrument, tandis que le côté *cb* tourne autour de lui-même dans la capsule fixe *ab*; on reconnaît, dis-je, qu'alors *cf* n'est en effet autre chose que l'arête d'un cône dont *ca* est l'axe, et qui est coupé par le plan du papier sur lequel la pointe *f* tracera la conique demandée. Je ne puis ici rendre un compte détaillé de la manière dont le géomètre arabe

espèce il y en ait d'impossibles. Ce géomètre excellent était Aboûl Djoûd ou Alchannî (*). Dieu seul connaît la vérité.

Quatrième espèce des quatre équations quadrinômes. « DES NOMBRES, DES CÔTÉS ET DES CARRÉS SONT ÉGAUX A UN CUBE (**). » 35

Faisons BE (fig. 26) égale au côté d'un carré égal au nombre des côtés, et construisons un solide ayant pour base le carré de BE, et égal au nombre donné. Que la hauteur de ce solide soit AB, et perpendiculaire à BE. Plaçons BC égale au nombre des carrés sur le prolongement de AB, et complétons le rectangle AE. Donnons à BE le prolongement EM d'une longueur quelconque, et décrivons sur cette droite EM qui est donnée, un rectangle égal à AE. Que ce soit le rectangle EH. Le point H

détermine α et β . Mais voici du moins sa construction au cas de la parabole. Il prend



$AC = \frac{1}{2} P$, $CB = \frac{1}{2} K$, et détermine E de sorte qu'en coupant un demi-cercle décrit sur AE comme diamètre par une perpendiculaire CD, on ait $DB = CE$ (ce qui revient à construire l'équation du 2^e degré $x^2 - \frac{1}{2} Px - \frac{1}{2} K = 0$). Ensuite il décrit sur EC un demi-cercle qu'il coupe au point Z par un arc décrit du centre C et du rayon CB. En prolongeant CZ jusqu'à T, de sorte que $ZT = ZC$, et joignant TE, on aura angle $CTE = \alpha$, angle $TCE = \beta$, qui dans le cas de la parabole est aussi égal à α , et

$CT = K$. En effet, on a $\overline{ZC}^2 + \overline{ZE}^2 = \overline{CE}^2 = \overline{BD}^2 = \overline{BC}^2 + \overline{CD}^2 = \overline{ZC}^2 + \overline{CD}^2$; donc $\overline{ZE}^2 = \overline{CD}^2 = AC \cdot CE$, et conséquemment $\frac{AC}{ZC} \cdot \frac{ZC}{ZE} = \frac{ZE}{CE}$ ou $\frac{\frac{1}{2} P}{\frac{1}{2} K} \cdot \cotg \alpha = \sin \alpha$ ou $\frac{P}{K} = \sin \alpha \cdot \tg \alpha$;

c. q. f. d.

*) Voir le *Loubb Alloubdb* de Soyouti, éd. de Veth, vol. I, pag. 10V.

**) XXII, $cx^2 + bx + a = x^3$. $\overline{BE}^2 = b$, $\overline{BE}^3 \cdot AB = a$, $BC = c$.

Rectangle HE = rectangle EA.

EM, ES, asymptotes de l'hyperbole équilatère HTK qui passe par le point H. C sommet, CN axe, AC paramètre de l'hyperbole équilatère LCT.

Hyperbole HTK... $TE + EN = EA + EN$ ou $TB = AS$

$$\overline{AN}^2 : \overline{TN}^2 = \overline{NB}^2 : \overline{SN}^2 = \overline{NB}^2 : \overline{BE}^2$$

Hyperbole LCT... $\overline{TN}^2 = NC \cdot AN$ ou $\overline{AN}^2 : \overline{TN}^2 = AN : NC$

$$\overline{NB}^2 : \overline{BE}^2 = AN : NC, \overline{BE} \cdot AN = \overline{NB} \cdot NC$$

$$\overline{BE}^3 \cdot AB + \overline{BE}^2 \cdot NB + \overline{NB}^3 \cdot BC = \overline{NB}^3 \cdot NC + \overline{NB}^2 \cdot BC = \overline{NB}^3$$

$$\text{ou } a + b \cdot NB + c \cdot \overline{NB}^2 = \overline{NB}^3, \quad x = NB.$$

sera alors connu de position. Faisons passer par H une hyperbole ayant pour asymptotes EM, ES; ce sera la courbe HTK. Elle sera connue de position. Ensuite, décrivons une seconde hyperbole ayant son sommet au point C, son axe sur le prolongement de BC, et son paramètre et son grand axe égaux tous les deux à AC. Ce sera la conique LCT. Elle sera connue de position, et coupera infailliblement la conique HTK. Que cette intersection ait lieu au point T. Alors T sera connu de position. Abaissons de T deux perpendiculaires TZ, TN sur BC, BM. Elles seront connues de grandeur et de position, et TE sera égal à EH, qui à son tour est égal à EA. Ajoutons à tous les deux EN; on aura AS égal à TB. Les côtés de ces deux rectangles seront donc réciproquement proportionnels, et il en sera de même pour les carrés de ces côtés. Mais le carré de TN est au carré de AN comme NC à AN, ainsi que nous l'avons démontré plusieurs fois (*), en vertu de l'hyperbole LCT. Conséquemment le carré de BE sera au carré de BN comme NC à NA; et le solide ayant pour base le carré de BE, et pour hauteur AN, sera égal au solide ayant pour base le carré de BN et pour hauteur CN. Mais le premier de ces deux solides est égal au solide dont la base est le carré de BE et la hauteur AB, lequel nous avons fait égal au nombre donné, plus le solide dont la base est le carré de BE et la hauteur BN, lequel est égal au nombre donné de côtés du cube de BN. Ajoutons de part et d'autre le solide dont la base est le carré de BN et la hauteur BC, lequel est égal au nombre donné de carrés du cube de BN. Alors nécessairement le cube de BN sera égal au nombre donné de ses carrés, plus le nombre donné de ses
36 côtés, et plus le nombre donné. Mais c'est ce qu'il s'agissait de démontrer.

*) Voir pag. 40, fig. 1.

Cette espèce ne présente ni variété de cas ni problèmes impossibles (*).

Après avoir terminé l'examen des quatre équations quadrinômes, discutons les trois espèces dont chacune est composée de deux termes qui sont posés égaux à deux autres termes.

Première espèce des trois équations quadrinômes qui restent. « UN CUBE ET DES CARRÉS SONT ÉGAUX A DES CÔTÉS ET UN NOMBRE (**). »

Faisons BD (fig. 27) égale au côté d'un carré égal au nombre donné des côtés, et CB égale au nombre donné des carrés. Que CB soit perpendiculaire à BD. Construisons un solide ayant pour base le carré de BD, et égal au nombre donné. Que la hauteur de ce solide soit S. La ligne S sera ou plus grande ou plus petite que BC, ou égale à BC.

Que d'abord S soit plus petite que BC (fig. 27, 1). Prenons sur BC un segment AB égal à S, complétons AD, et prenons sur le prolongement de BD une longueur quelconque DZ. Décrivons sur DZ un rectangle égal à AD, lequel soit ED. Le point E sera connu de position, et les côtés du rectangle ED seront tous connus de position et de grandeur. Faisons passer par le point E une hyperbole ayant pour asymptotes ZD, DO. Ce

*) L'équation $x^3 - cx^2 - bx - a = 0$ a toujours une racine réelle et positive; les deux autres racines sont ou imaginaires ou négatives, et conséquemment n'existent pas pour l'algébriste arabe.

**) XXIII, $x^3 + cx^2 = bx + a$. $\overline{BD}^2 = b$, $BC = c$, $\overline{BD}^2 \cdot S = a$. $S \begin{matrix} < \\ > \end{matrix} BC$.

1) $S < BC$ (fig. 27, 1), $AB = S$. — Rectangle ED = rectangle AD.
 DZ, DO, asymptotes de l'hyperbole équilatère EH qui passe par le point E.
 A sommet, AB axe, AC paramètre de l'hyperbole équilatère AHT.
 Hyperbole EH... $HD = ED = AD$, $HD + DK = AD + DK$ ou $HB = AM$
 $\overline{HK}^2 : \overline{KA}^2 = \overline{MK}^2 : \overline{KB}^2 = \overline{BD}^2 : \overline{KB}^2$
 Hyperbole AHT... $\overline{HK}^2 : \overline{KA}^2 = \overline{CK}^2 : \overline{AK}^2$
 $\overline{BD}^2 : \overline{KB}^2 = \overline{CK}^2 : \overline{AK}^2$, $\overline{KB}^2 \cdot \overline{CK} = \overline{BD}^2 \cdot \overline{AK}$
 $\overline{KB}^3 + \overline{KB}^2 \cdot BC = \overline{BD}^3 \cdot \overline{KB} + \overline{BD}^2 \cdot AB$ ou $\overline{KB}^3 + c \cdot \overline{KB}^2 = b \cdot \overline{KB} + a$, $x = KB$.

sera la conique EH, et cette courbe sera connue de position. Décrivons ensuite une seconde hyperbole ayant son sommet au point A, son axe sur AB, et son paramètre et son grand axe égaux tous les deux à AC. Ce sera la conique AHT, et elle coupera nécessairement l'autre conique. Que cette intersection ait lieu au point H. Alors H sera connu de position. Abaissons de H deux perpendiculaires HK, HL. Toutes les deux seront connues de position et de grandeur, et le rectangle HD sera égal à ED, lequel à son tour est égal à AD. Ajoutons le rectangle commun DK. Le rectangle HB sera égal à AM. Il s'ensuit que leurs côtés et les carrés de leurs côtés seront réciproquement proportionnels. Mais le carré de HK est au carré de KA comme CK à AK, en vertu de l'hyperbole AHT, ainsi que nous l'avons démontré plusieurs fois. Conséquemment le carré de BD sera au carré de KB comme CK à AK, et le solide dont la base est le carré de BD et la hauteur AK sera égal au solide dont la base est le carré de BK et la hauteur CK. Mais ce second solide est égal au cube de BK, plus le solide ayant pour base le carré de BK et pour hauteur BC, lequel est égal au nombre donné de carrés. D'un autre côté, le premier des deux solides est égal au solide ayant pour base le carré de BD et pour hauteur AB, lequel nous avons fait égal au nombre donné, plus le solide ayant pour base le carré de BD et pour hauteur BK, lequel est égal au nombre donné de côtés du cube de BK. Conséquemment le cube de BK, plus le nombre donné de ses carrés, est égal au nombre donné plus le nombre donné de ses côtés. Et c'est ce qu'il s'agissait d'obtenir.

Lorsque S est égale à BC (*), BD sera le côté du cube cher-

*) 2) $S = BC \dots x = BD$. *Démonstr.* $\overline{BD}^2 \cdot BD = \overline{BD}^3$ ou $b \cdot BD = \overline{BD}^3$
 $\overline{BD}^2 \cdot BC = \overline{BD}^2 \cdot S$ ou $c \cdot \overline{BD}^2 = a$
 conséquemment $\overline{BD}^3 + c \cdot \overline{BD}^2 = b \cdot BD + a$.

ché. Démonstration. Le solide ayant pour base le carré de BD et pour hauteur aussi BD, et qui représente le nombre de côtés du cube de BD, est égal au cube de BD. Et le solide ayant pour base le carré de BD et pour hauteur BC, et qui représente le nombre donné de carrés du cube de BD, est égal au solide ayant pour base le carré de BD et pour hauteur S, qui représente le nombre donné. Conséquemment le cube de BD, plus le nombre donné de ses carrés, est égal au nombre donné plus le nombre donné de côtés. Et c'est ce qu'il s'agissait d'obtenir. Mais on reconnaîtra aisément que dans ce cas il y aura aussi égalité entre le cube de BD plus le nombre donné, et le nombre donné de carrés plus le nombre donné de côtés de ce cube ; en sorte que cette espèce rentre dans la catégorie de la troisième espèce, laquelle est : « Un cube et des nombres sont égaux à des carrés et des côtés. »

Lorsque S est plus grande que BC (fig. 27, 2), nous faisons AB égale à S, et faisons passer la seconde hyperbole par le point C, en prenant son paramètre et son grand axe, tous les deux égaux à AC. Elle coupera nécessairement l'autre conique, le côté du cube sera encore BK, et le reste de la construction et de la démonstration est analogue à ce qui précède, si ce n'est que le carré de HK sera au carré KA comme AK à KC (*).

Il a été démontré que cette espèce présente des formes et des

Mais en même temps $\overline{BD}^3 + a = c \cdot \overline{BD}^2 + b \cdot \overline{BD}$, ce qui rentre dans la catégorie de l'éq. 25)
 $x^3 + a = cx^2 + bx$.

*) C'est-à-dire que les points A et C, tels qu'ils étaient dans la première figure, ont, si l'on veut, échangé leurs rôles. Mais en réalité la démonstration donnée ci-dessus s'applique rigoureusement aussi à la seconde figure, et l'on aura par rapport à celle-ci, comme auparavant, $\overline{HK}^2 : \overline{KA}^2 = CK : AK$. — Le fait est que réellement rien n'est changé dans les deux coniques qui construisent l'équation ; seulement l'intersection considérée ici se fait sur l'autre branche de la seconde hyperbole. On peut passer du premier cas au second en faisant mouvoir A sur BC vers C et jusqu'au delà de C ; lorsque A et C coïncident (S = BC),

38 cas différents, et qu'une de ses formes rentre dans la troisième espèce; mais l'espèce actuelle ne donne pas lieu à des problèmes impossibles (*). Sa solution a été effectuée au moyen des propriétés de deux hyperboles.

Seconde espèce des trois équations quadrinômes qui restaient. « UN CUBE ET DES CÔTÉS SONT ÉGAUX A DES CARRÉS ET DES NOMBRES (**). »

Faisons BC (fig. 28) égale au nombre donné des carrés, et BD égale au côté d'un carré égal au nombre des carrés et perpendiculaire à BC. Construisons un solide égal au nombre donné, et ayant pour base le carré de BD. Que la hauteur de ce solide soit S. La ligne S sera ou plus petite que BC, ou égale à BC, ou plus grande que BC.

Que d'abord S soit plus petite que BC (fig. 28, 1). Prenons sur BC un segment BA égal à S, complétons AD, décrivons sur AC comme diamètre un cercle AKC qui sera connu de position, et faisons passer par le point A une hyperbole ayant BD, DZ

la seconde hyperbole s'identifie avec ses asymptotes, et la première hyperbole se trouve combinée avec une droite passant par A, et renfermant avec AB un angle de 45 degrés.

*) L'équation $x^3 + cx^2 - bx - a = 0$ a toujours une racine réelle et positive; ses deux autres racines sont ou négatives ou imaginaires, et conséquemment négligées par l'auteur.

Les « différents cas » présentés par cette espèce sont $S \leq BC$, c.-à-d. $\frac{a}{b} \leq c$.

**) XXIV, $x^3 + bx = cx^2 + a$. $BC = c$, $\overline{BD} = b$, $\overline{BD} \cdot S = a$. $S \leq BC$

1) $S < BC$ (fig. 28, 1), $AB = S$.

AC, diamètre du cercle AKC.

DB, DZ, asymptotes de l'hyperbole équilatère HAT qui passe par le point A.

Hyperbole : $AD = KD$, $AD - MZ + AK = KD - MZ + AK$ ou $EK = AL$

$$\overline{KE}^2 : \overline{EA}^2 = \overline{LE}^2 : \overline{BE}^2 = \overline{BD}^2 : \overline{BE}^2$$

Cercle : $\overline{KE}^2 : \overline{EA}^2 = \overline{EC} : \overline{EA}$

$$\overline{BD}^2 : \overline{BE}^2 = \overline{EC} : \overline{EA}, \quad \overline{BD}^2 \cdot \overline{EA} = \overline{BE}^2 \cdot \overline{EC}$$

$$\overline{BE}^2 + \overline{BD}^2 \cdot \overline{EA} = \overline{BE}^2 + \overline{BE}^2 \cdot \overline{EC} = \overline{BE}^2 \cdot \overline{BC}$$

$$\overline{BE}^2 + \overline{BD}^2 \cdot \overline{BE} = \overline{BC} \cdot \overline{BE}^2 + \overline{BD}^2 \cdot \overline{AB} \text{ ou } \overline{BE}^2 + b \cdot \overline{BE} = c \cdot \overline{BE}^2 + a, \quad x = \overline{BE}.$$

pour asymptotes. Ce sera la conique HAT, et elle sera connue de position. HAT coupe AZ, la tangente au cercle, et conséquemment coupe le cercle, parce que, si elle tombait entre le cercle et AZ, nous pourrions mener du point A une tangente à la conique, ainsi qu'il est exposé par Apollonius dans la soixantième proposition du second livre (*). Alors cette tangente pourrait, ou bien tomber entre AZ et le cercle, ce qui est absurde — ou bien au delà de AZ, en sorte que AZ serait une ligne droite tombant entre la conique et sa tangente, ce qui est également absurde. La conique TAH ne tombe donc pas entre le cercle et AZ, et par conséquent coupe alors ce dernier. Et nécessairement elle coupera ce dernier encore dans un autre point. Que cette intersection ait lieu au point K. Alors K sera connu de position. Abaissons de ce point deux perpendiculaires KM, KE sur BC, BD. Toutes les deux seront connues de position et de grandeur, comme on le sait. Complétons le rectangle KD. Le rectangle AD sera égal au rectangle KD. Retranchons le rectangle commun MZ, et ajoutons le rectangle commun AK. Alors BK sera égal à AL, et les côtés de ces deux rectangles ainsi que les carrés de leurs côtés seront réciproquement proportionnels. Mais le carré de KE est au carré de EA comme EC à EA. Conséquemment le carré de BD est au carré de BE comme EC à EA; et le solide dont la 39 base est le carré de BD, et la hauteur EA, est égal au solide dont la base est le carré de BE et la hauteur EC. Ajoutons à tous les deux le cube de BE. Le solide dont la base est le carré de BE et la hauteur BC sera égal au cube de BE, plus le solide dont la base est le carré de BD et la hauteur EA. Mais le premier solide est égal au nombre donné de carrés du cube de

*) Éd. d'Oxford, livre II, prop. 49, pag. 140.

BE. Ajoutons de part et d'autre le solide dont la base est le carré de BD et la hauteur BA, lequel nous avons fait égal au nombre donné. Alors le cube de BE, plus le solide dont la base est le carré de BD et la hauteur BE, lequel est égal au nombre donné de côtés du cube de BE, sera égal au nombre donné de carrés du même, plus le nombre donné. Et c'est ce qu'il s'agissait d'obtenir.

Lorsque S est égale à BC (*), BC sera le côté du cube cherché. Démonstration. Le cube de BC est égal au nombre donné de ses carrés, et le solide dont la hauteur est BC, et la base le carré de BD, est égal au nombre donné, et égal aussi au nombre donné de côtés du cube de BC. Conséquemment le cube de BC, plus le nombre donné de ses côtés, est égal au nombre donné de ses carrés plus le nombre donné. Mais ce cas rentre aussi dans la catégorie de la troisième espèce, parce que le nombre donné de côtés du cube de BC est égal au nombre donné, en sorte que le cube de BC, plus le nombre donné, est égal au nombre donné de carrés plus le nombre donné de côtés de ce cube.

Lorsque S est plus grande que BC (fig. 28, 2) (**), faisons BA égale à S, et décrivons le cercle sur AC comme diamètre. Alors

$$\begin{aligned} *) \ 2) \ S = BC \dots x = BC. \text{ Démonstr. } \overline{BC}^3 &= BC \cdot \overline{BC}^2 \quad \text{ou} \quad \overline{BC}^3 = c \cdot \overline{BC}^2 \\ \overline{BD}^2 \cdot BC &= \overline{BD}^2 \cdot S \quad \text{ou} \quad b \cdot BC = a \\ \text{conséquemment } \overline{BC}^3 + b \cdot BC &= c \cdot \overline{BC}^2 + a. \end{aligned}$$

Mais en même temps $\overline{BC}^3 + a = c \cdot \overline{BC}^2 + b \cdot BC$, ce qui rentre dans la catégorie de l'éq. 25)
 $x^3 + a = c \cdot x^2 + b \cdot x$.

**) 3) $S > BC$ (fig. 28, 3), $AB = S$.

Hyperbole : $AD = KD, AD - ED = KD - ED$ ou $EZ = BK$

$$\overline{KE}^2 : \overline{EA}^2 = \overline{ZA}^2 : \overline{BE}^2 = \overline{BD}^2 : \overline{BE}^2$$

Cercle : $\overline{KE}^2 : \overline{EA}^2 = \overline{EC}^2 : \overline{EA}^2$

$$\overline{BD}^2 : \overline{BE}^2 = \overline{EC}^2 : \overline{EA}^2, \quad \overline{BE}^2 \cdot \overline{EC}^2 = \overline{BD}^2 \cdot \overline{EA}^2$$

$$\overline{BE}^2 = \overline{BD}^2 \cdot \overline{EA} + \overline{BE}^2 \cdot BC, \quad \overline{BE}^3 + \overline{BD}^2 \cdot EB = \overline{BD}^2 \cdot AB + BC \cdot \overline{BE}^2$$

$$\text{ou } \overline{BE}^3 + b \cdot BE = a + c \cdot \overline{BE}^2, \quad x = BE.$$

l'hyperbole qui passe par le point A coupera le cercle au point K, comme nous l'avons démontré. Abaissons du point K deux perpendiculaires KE, KM, ainsi que nous l'avons fait dans la figure précédente. EB sera le côté du cube cherché, et la démonstration est comme auparavant. Nous retranchons le rectangle commun ED; les côtés des deux rectangles EM, EZ, ainsi que les carrés de ces côtés, seront réciproquement proportionnels, et la démonstration sera absolument analogue à la précédente, sans rien y changer.

On vient de démontrer que cette espèce présente des formes et des cas différents, et qu'une de ses formes rentre dans la 40 catégorie de la troisième espèce. L'espèce actuelle ne donne pas lieu à des problèmes impossibles (*), et a été résolue au moyen des propriétés du cercle et d'une hyperbole.

Troisième espèce des trois équations quadrinômes qui restaient. « UN CUBE ET DES NOMBRES SONT ÉGAUX A DES CÔTÉS ET DES CARRÉS (**). »

Faisons BC (fig. 29) égale au nombre des carrés, et BD perpendiculaire à BC, et égale au côté d'un carré égal au nombre

*) L'équation $x^3 - cx^2 + bx - a = 0$ a toujours une racine réelle et positive. Dans les cas 2) et 3), lorsque $\frac{a}{b} = c$, les deux autres racines sont imaginaires; mais dans le premier cas, $\frac{a}{b} < c$, elles peuvent être positives, en sorte que l'équation alors aura *trois racines positives*. Il est bien à regretter qu'une circonstance aussi importante ait pu échapper à l'auteur.

**) XXV, $x^3 + a = cx^2 + bx$. $BC = c$, $\overline{BD}^2 = b$, $\overline{BD}^3 = a$. $S = a$. $S \begin{matrix} < \\ > \end{matrix} BC$

1) $S < BC$ (fig. 29, 1), $AB = S$.

BD, DZ, asymptotes de l'hyperbole équilatère HAT qui passe par le point A.

C sommet, CE axe, AC paramètre de l'hyperbole équilatère KML.

Hyperbole HAT... $\overline{DA} = \overline{DM}$, $\overline{DA} - \overline{ZN} + \overline{AM} = \overline{DM} - \overline{ZN} + \overline{AM}$ ou $\overline{NE} = \overline{ZE}$

$$\overline{ME} : \overline{EA} = \overline{OE} : \overline{BE} = \overline{DB} : \overline{BE}$$

Hyperbole KML... $\overline{ME} : \overline{EA} = \overline{CE} : \overline{EA}$

$$\overline{BD}^2 : \overline{BE}^2 = \overline{CE} : \overline{EA}, \quad \overline{BE}^3 : \overline{CE} = \overline{BD}^3 : \overline{EA}$$

$$\overline{BE}^3 : \overline{BC} + \overline{BE}^3 : \overline{CE} \quad \text{ou} \quad \overline{BE}^3 = \overline{BE}^2 \cdot \overline{BC} + \overline{BD}^3 : \overline{EA}$$

$$\overline{BE}^3 + \overline{BD}^3 : \overline{AB} = \overline{BE}^2 : \overline{BC} + \overline{BD}^2 : \overline{BE} \quad \text{ou} \quad \overline{BE}^3 + a = c \cdot \overline{BE}^2 + b \cdot \overline{BE}, \quad x = \overline{BE}.$$

des racines. Construisons un solide ayant pour base le carré de BD , et égal au nombre donné. Que la hauteur de ce solide soit S . La ligne S sera, ou plus petite que BC , ou égale à BC , ou plus grande que BC .

Que d'abord S soit plus petite que BC (fig. 29, 1). Prenons sur BC un segment BA égal à S , complétons BZ , faisons passer par le point A une hyperbole ayant pour asymptotes BD , DZ , laquelle soit la conique HAT , et décrivons une seconde hyperbole ayant son sommet au point C , son axe sur le prolongement de BC , et son paramètre et son grand axe égaux tous les deux à AC . Cette hyperbole, qui sera KCL , coupera infailliblement l'autre conique. Que l'intersection des deux coniques KCL et HAT ait lieu au point M . Le point M sera connu de position, parce que les deux coniques sont connues de position. Abaissons de ce point deux perpendiculaires MN , EMO . Elles seront connues de position et de grandeur, le rectangle DA sera égal au rectangle DM ; et, par les raisonnements que précédemment nous avons employés plusieurs fois, on trouvera NE égal à ZE , et conséquemment les côtés de ces deux rectangles et les carrés de leurs côtés seront réciproquement proportionnels. Mais le carré de ME est au carré de EA comme CE à EA , en vertu de l'hyperbole KCL . Conséquemment le carré de BD sera au carré de BE comme CE à EA , et le solide dont la base est le carré de BD et la hauteur EA sera égal au solide dont la base est le carré de BE et la hauteur CE . Ajoutons à tous les deux le solide dont la base est le carré de BE et la hauteur BC , lequel représente le nombre de carrés du cube de BE . Alors le cube de BE sera égal au nombre donné de ses carrés, plus le solide dont la base est le carré de BD et la hauteur EA . Ajoutons de part et d'autre le solide dont la hauteur est BA et la base le carré de BD , lequel nous avons fait égal au

41

nombre donné. Il résultera que le solide dont la base est le carré de BD et la hauteur BE, lequel est égal au nombre donné de côtés du cube de BE, plus le nombre donné de carrés du cube de BE, est égal au cube de BE, plus le nombre donné.

Lorsque S est égale à BC (*), BC sera le côté du cube. Démonstration. Le cube de BC est égal au nombre donné de ses carrés, et le nombre donné est égal au nombre donné de côtés du cube de BC. Conséquemment le cube de BC, plus le nombre donné, est égal au nombre donné de carrés, plus le nombre donné de côtés de ce cube; et c'est ce qu'il s'agit d'obtenir. D'un autre côté, le cube de BC, plus le nombre donné de ses côtés, sera égal au nombre donné de ses carrés, plus le nombre donné; en sorte que ce cas rentre dans la seconde espèce.

Lorsque S est plus grande que BC (fig. 29, 2) (**), faisons BA égale à S, complétons le rectangle (BZ), et faisons passer la première hyperbole par A et la seconde également par A. Elles se couperont. Or, si les deux coniques ont une seconde rencontre, soit par contact en un seul point ou par intersection en deux points, ainsi que cela est connu d'après le quatrième livre du traité des Coniques, le problème sera possible; sinon, il

$$\begin{aligned} *) \ 2) \ S = BC \dots x = BC. \text{ Démonstr. } \overline{BC}^3 &= BC \cdot \overline{BC}^2 \text{ ou } \overline{BC}^3 = c \cdot \overline{BC}^2 \\ \overline{BD}^3 \cdot S &= \overline{BD}^3 \cdot BC \text{ ou } a = b \cdot BC \\ \text{conséquemment } \overline{BC}^3 + a &= c \cdot \overline{BC}^2 + b \cdot BC. \end{aligned}$$

Mais en même temps aussi $\overline{BC}^3 + b \cdot BC = c \cdot \overline{BC}^2 + a$, ce qui rentre dans la catégorie de l'équation 24) $x^3 + bx = cx^2 + a$.

Ce qui échappe à l'auteur, c'est que dans ce cas aussi $x = BD$ sera une solution, et que l'on a

$$\begin{aligned} \overline{BD}^3 &= \overline{BD}^3 \cdot BD \text{ ou } \overline{BD}^3 = b \cdot BD \\ \overline{BD}^3 \cdot S &= \overline{BD}^3 \cdot BC \text{ ou } a = c \cdot \overline{BD}^2 \\ \text{donc } \overline{BD}^3 + a &= c \cdot \overline{BD}^2 + b \cdot BD. \end{aligned}$$

Et en même temps on aura $\overline{BD}^3 + c \cdot \overline{BD}^2 = b \cdot BD + a$, ce qui rentre dans la catégorie de l'équation 23) $x^3 + cx^2 = bx + a$.

**) 3) $S > BC$ (fig. 29, 2), $AB = S$. — Hyperbole HAT comme auparavant. — A sommet, AE axe, AC paramètre de l'hyperbole équilatère KML. — Ensuite la démonstration donnée pour le cas 1) s'applique trait pour trait à cette seconde figure.

sera impossible. Si les deux coniques se coupent, abaissons des deux points d'intersection deux perpendiculaires; elles détermineront, comme segments, deux côtés correspondant à deux cubes (dont chacun satisfait à l'équation proposée). La démonstration est comme ci-dessus, sans que rien y soit changé.

On vient de démontrer que cette espèce a différents cas, et parmi eux d'impossibles (*). Elle a été résolue au moyen des propriétés de deux hyperboles.

Il est évident aussi que ces trois équations quadrinômes rentrent l'une dans l'autre, c'est-à-dire qu'on trouve un cas de la première qui est exactement aussi un cas de la seconde (**), et un cas de la seconde identique avec un cas de la troisième, et un cas de la troisième qui s'identifie absolument avec un cas de la seconde, ainsi que nous l'avons démontré.

→ Après avoir ainsi terminé la discussion des vingt-cinq espèces des propositions de l'algèbre, après en avoir fait l'examen le plus exact et le plus complet, après avoir fait connaître les cas particuliers de chacune de ces espèces, après avoir proposé

*) Dans les cas $s \leq BC$, c.-à-d. $\frac{a}{b} \leq c$, l'équation $x^3 - cx^2 - bx + a = 0$ a toujours deux racines positives.

Dans le cas $\frac{a}{b} < c$, l'auteur ne trouve par sa construction qu'une seule de ces deux racines, tandis que l'autre lui échappe. A cette dernière correspond le point d'intersection P (fig. 29, 1) de l'hyperbole HAT avec l'autre branche de l'hyperbole KCL. La perpendiculaire abaissée de P sur BA rencontrera cette droite entre B et A, c.-à-d. que cette perpendiculaire rencontrera le côté positif de l'axe des abscisses. L'auteur aurait dû remarquer cette circonstance.

Lorsque $\frac{a}{b} = c$, l'autre racine positive est $x = +\sqrt{b}$ ou $x = BD$.

Pour le cas $\frac{a}{b} > c$, l'auteur observe avec justesse que, ou bien les deux coniques auront une intersection en deux points, ou un contact en un point, ou le problème sera impossible; c.-à-d. que l'équation a, ou bien deux racines positives et inégales, ou positives et égales ($x = \frac{1}{3}c + \frac{1}{3}\sqrt{3b + c^2}$), ou deux racines imaginaires.

Dans tous les trois cas l'équation a, outre ces deux racines conjuguées, une racine réelle et négative, dont l'existence est naturellement ignorée par l'algébriste arabe.

**) Plutôt de la troisième. Voir pag. 60 ult. sqq.

la règle pour distinguer les cas possibles d'avec les impossibles 42 dans les espèces qui admettent des problèmes impossibles, et après avoir démontré que la plupart d'entre elles n'en admettent pas (*), occupons-nous des parties correspondantes (**).

La partie de la chose est le nombre qui est à l'unité comme l'unité est à cette chose (***). Donc, si la chose est trois, sa partie est un tiers; et si la chose est un tiers, sa partie est trois. De même si elle est quatre, sa partie est un quart; et si elle est un quart, sa partie est quatre. Et en général la partie d'un nombre quelconque est la partie dénommée d'après ce nombre (****), comme le tiers d'après trois, lorsque le nombre est entier, et trois d'après un tiers, lorsque le nombre est fractionnaire. Pareillement la partie du carré est la partie dénommée d'après le nombre égal à ce carré, que ce nombre soit entier ou fractionnaire; et il en est de même relativement à la partie du cube. Et, pour en rendre l'évidence plus palpable, disposons ces parties en tableau :

Partie du cube.	Partie du carré.	Partie de la racine.
$\frac{1}{8}$	$\frac{1}{4}$	$\frac{1}{2}$
Unité.	Racine.	Carré.
1	2	4
		Cube.
		8

La partie du cube est à la partie du carré comme la partie

*) En effet, parmi les 25 espèces, 7 seulement, à savoir les équations 8, 11, 14, 17, 20, 21, 25, donnent lieu à des cas dans lesquels l'équation n'admet pas des racines réelles et positives.

**) Pour ôter à la terminologie employée par l'auteur dans ce qui suit ce qu'elle peut, au premier abord, avoir de choquant, il suffira de remarquer qu'il entend par « partie de A » la valeur réciproque de A, et par « N parties de A » la fraction $\frac{N}{A}$. On peut d'ailleurs comparer à ce sujet les définitions du septième livre d'Euclide.

***) $\frac{1}{x} : 1 = 1 : x$.

****) C'est-à-dire la fraction ayant pour dénominateur ce nombre, et pour numérateur l'unité.

du carré à la partie de la racine, comme la partie de la racine à l'unité, comme l'unité à la racine, comme la racine au carré, et comme le carré au cube. Ce sont donc sept degrés en proportion continue. Nous allons traiter exclusivement des équations qui ont lieu entre lesdits degrés. Quant à la partie du 43 carré-carré et à la partie du quadrato-cube et à la partie du cubo-cube, et ainsi de suite, elles sont aussi en proportion continue. Mais nous n'avons pas besoin de nous en occuper, parce qu'il n'y a pas moyen de résoudre (les équations renfermant) ces autres degrés.

Sache que si tu considères le huitième, qui est partie du cube, comme cube, sa partie sera huit, ce qui est le cube par inversion (*). Et la même règle s'applique aux autres parties; de sorte que ces quatre degrés, la partie du cube, la partie du carré, la partie de la racine et l'unité, forment une analogie avec le cube, le carré, la racine et l'unité. Par exemple, si l'on dit(**): « Une partie de carré est égale à la moitié d'une partie de racine, » c'est la même chose que si l'on avait dit: « Un carré est égal à la moitié d'une racine. » Alors ce carré est un quart, ce qui est en réalité une partie de carré, et le carré cherché sera quatre, la partie (du carré cherché) un quart, et la partie de la racine (du carré cherché) un demi. C'est là la méthode à suivre pour les équations simples.

Quant aux équations composées, lorsqu'on dit (***) : « Une

*) C'est-à-dire que si à $\frac{1}{x^3}$ on a substitué z^3 , on trouvera x^3 , en prenant, après avoir déterminé z^3 , la valeur réciproque de z^3 .

**) Équation proposée: $\frac{1}{x^2} = \frac{1}{2} \cdot \frac{1}{x}$; on résout $z^2 = \frac{1}{2}z$, ce qui donne $z^2 = \frac{1}{4}$; donc $x^2 = 4$, $\frac{1}{x^2} = \frac{1}{4}$, $\frac{1}{x} = \frac{1}{2}$.

***) Équation proposée: $\frac{1}{x^2} + 2\frac{1}{x} = 1\frac{1}{4}$; on résout $z^2 + 2z = 1\frac{1}{4}$, ce qui donne $z = \frac{1}{2}$, $z^2 = \frac{1}{4}$, donc $x^2 = 4$.

partie de carré et deux parties de racine sont égales à un et un quart, » c'est comme si l'on avait dit : « Un carré et deux racines sont égaux à un et un quart. » Alors, au moyen de la méthode exposée précédemment, on trouve la racine égale à un demi et le carré égal à un quart, si ce n'est que l'énoncé du problème portait « une *partie* de carré et deux *parties* de racine. » Donc le quart, qui était d'abord le carré, sera la partie du carré cherché, et le carré cherché sera quatre.

On suivra le même procédé dans les équations à quatre termes. Lorsqu'on dit (*) : « Une partie de cube plus trois parties de carré plus cinq parties de racine sont égales à trois et trois huitièmes, » alors c'est comme si l'on avait dit : « Un cube plus trois carrés plus cinq racines sont égaux à trois et trois huitièmes. » Au moyen de la méthode exposée ci-dessus et fondée sur les sections coniques, on déterminera le côté du cube, lequel sera la partie de racine cherchée. Nous poserons donc ce côté à l'unité donnée, comme l'unité donnée à une autre ligne (inconnue). Cette dernière ligne sera le côté du cube cherché.

Il est évident qu'il existera entre ces quatre degrés vingt-cinq autres espèces de telles équations, proportionnelles aux vingt-cinq espèces précédentes.

Quant à la multiplication de l'un de ces degrés par l'autre, c'est une matière suffisamment connue par les ouvrages des algébristes, facile à comprendre, et sur laquelle, conséquem- 44
ment, nous ne nous étendrons pas (**). Or, quant aux équations entre ces quatre degrés et les quatre degrés précé-

*) Équation proposée: $\frac{1}{x^3} + 3\frac{1}{x^2} + 5\frac{1}{x} = 3\frac{3}{8}$; on résout $x^3 + 3x^2 + 5x = 3\frac{3}{8}$; ayant déterminé la racine ζ de cette dernière équation, on fait $\zeta : 1 = 1 : l$, et l'on aura $x = l$.

**) L'auteur appelle ici préalablement l'attention du lecteur sur la multiplication des différentes puissances de l'inconnue l'une par l'autre, parce que c'est le moyen qu'il emploie pour résoudre les équations qu'il va proposer.

dents (*), on y procède comme je vais exposer. Lorsqu'on dit (**): « Un cube est égal à dix parties de cube, » c'est-à-dire à dix parties de lui-même, alors le cube est le premier des sept degrés, et parties du cube le septième. Multiplie l'un par l'autre, et prends la racine du produit. Le résultat sera (de l'ordre) du degré moyen, c'est-à-dire du quatrième (***), et égal au cube cherché. Pour plus de précision, nous remarquerons que chaque nombre multiplié en sa partie produit l'unité; que, multiplié en deux de ses parties, il produit deux; et que, multiplié en dix de ses parties, il produit dix en nombre (****). Et c'est comme si dans notre exemple on avait dit: « Quel cube multiplié en lui-même est égal à dix? » Donc la racine de dix sera le cube cherché. Puis la détermination du côté de ce cube est effectuée de la manière démontrée ci-dessus au moyen des sections coniques. — Et de même lorsqu'on dit (****): « Quel carré est égal à seize des parties dénommées d'après lui? » alors multiplie l'unité en seize et prends la racine du produit, laquelle est quatre; ce sera le carré cherché. Et, conformément à la règle précédente, c'est comme si l'on avait dit: « Quel carré multiplié en lui-même est égal à seize? » — Et de même lorsqu'on dit (*****): « Quelle racine est égale à quatre de ses parties? » c'est comme si l'on avait dit: « Quel

*) L'auteur suppose les sept puissances arrangées de la manière suivante :

$$1) \ x^3 \quad 2) \ x^2 \quad 3) \ x \quad 4) \ 1 \quad 5) \ \frac{1}{x} \quad 6) \ \frac{1}{x^2} \quad 7) \ \frac{1}{x^3}$$

$$**) \quad x^3 = 10 \cdot \frac{1}{x^3}, \quad x^3 \cdot x^3 = 10 \cdot \frac{1}{x^3} \cdot x^3 = 10, \quad x^3 = \sqrt[3]{10}.$$

***) C'est-à-dire il sera égal à un nombre (entier ou fractionnaire, rationnel ou irrationnel) d'unités.

$$****) \quad n \cdot \left(p \cdot \frac{1}{n} \right) = p$$

$$*****) \quad x^2 = 16 \cdot \frac{1}{x^2}, \quad x^2 \cdot x^2 = 16 \cdot \frac{1}{x^2} \cdot x^2 = 16, \quad x^2 = \sqrt{16} = 4.$$

$$*****) \quad x = 4 \cdot \frac{1}{x}, \quad x \cdot x = 4 \cdot \frac{1}{x} \cdot x = 4, \quad x = \sqrt{4} = 2.$$

nombre multiplié en lui-même produit quatre? » Or, ce nombre est deux.

Mais si l'on dit (*) : « Quel carré est égal à un certain nombre de parties du cube de son côté? » alors la solution de ce problème ne peut pas être effectuée au moyen des méthodes que nous avons exposées, parce qu'elle dépend de la détermination de quatre lignes (moyennes proportionnelles) entre deux lignes données (**), en sorte que les six lignes soient en proportion continue. C'est ce qui a été démontré par Abou Ali Ibn Alhaïtham (***), que Dieu le Très-Haut soit miséricordieux en-

*) $x^2 = a \cdot \frac{1}{x^3}$.

**) En effet, déterminant quatre lignes x, y, v, w , de sorte que $1 : x = x : y = y : v = v : w = w : a$, on aura $x^3 = a$ ou $x^2 = a \cdot \frac{1}{x}$.

***) Voir *Casiri*, t. I, pag. 414 sqq. — *Aboul Faradj*, éd. de Pococke, pag. 340-342. — *Gartz*, de Interpretibus et Explanatoribus Euclidis Arabicis; Halae, 1823, pag. 22-24.

En vertu de la règle donnée par M. de Sacy dans son *Anthologie grammaticale* (pag. 113), j'ai adopté dans le texte la leçon du ms. C; car j'ai trouvé que le nom complet de ce géomètre était Alhaçan Ben Alhaçan Ben Alhaïtham, de sorte que d'Alhaïtham à lui il n'y a pas descendance immédiate.

Relativement aux ouvrages d'Ibn Alhaïtham, et particulièrement à ceux de ses ouvrages qui se rapportent aux sciences mathématiques, j'extraits deux passages du ms. des Biographies des médecins célèbres par *Ibn Abi Oçaïbiah*, que possède la Bibliothèque nationale. Dans le quatorzième chapitre de son ouvrage, Ibn Abi Oçaïbiah consacre à la vie et aux écrits d'Ibn Alhaïtham (qu'il nomme Mohammed, tandis que, suivant le *Târîkh Alhoqamâ*, Ibn Alhaïtham s'appelait Alhaçan) un article très-étendu, et renfermant des détails beaucoup plus circonstanciés que n'en offrent les notices données sur ce géomètre par Casiri, et dans le ms. du *Târîkh Alhoqamâ* que possède la Bibliothèque nationale. Voici les deux passages ayant trait plus spécialement à ce qui doit nous intéresser ici :

« Mohammed Ben Alhaçan a dit. . . . Et de ce que j'ai composé sur les sciences mathématiques, le nombre des ouvrages monte à vingt-cinq : 1° Commentaire et abrégé des éléments de géométrie et d'arithmétique d'Euclide; 2° Recueil des Éléments de géométrie et d'arithmétique, tiré des traités d'Euclide et d'Apollonius; dans cet ouvrage, j'ai classé et divisé les éléments et en ai donné des démonstrations fondées sur les mathématiques, le calcul et la logique, de sorte que, quant à l'arrangement des matières, j'ai renversé l'ordre suivi par Euclide et Apollonius; 3° Commentaire et abrégé de l'*Almageste*, fondé sur des démonstrations; je n'y ai rien traité au moyen du calcul, si ce n'est un très-petit nombre de problèmes sans importance; mais si Dieu me donne la vie et que les circonstances me permettent de l'achever, je commencerai un commentaire très-détaillé du même ouvrage, dans lequel je ramènerai tout à l'arithmétique et au calcul; 4° Recueil des éléments du calcul, ouvrage dans lequel j'ai déduit, des principes posés par Euclide dans ses Éléments de géométrie et d'arithmétique, les éléments de toutes les espèces du calcul; j'y ai établi la

méthode de la résolution des problèmes du calcul, par le double moyen de l'analyse géométrique et de la vérification arithmétique, en m'abstenant, en même temps, d'y employer les principes et les termes techniques des algébristes; 5° Abrégé d'optique, tiré des deux ouvrages d'Euclide et de Ptolémée; j'y ai complété (restitué) le sujet du premier livre perdu du traité de Ptolémée; 6° Traité de l'analyse des problèmes géométriques; 7° Traité de l'analyse des problèmes arithmétiques par la méthode de l'algèbre, avec démonstrations; 8° Traité complet sur l'analyse des problèmes géométriques et arithmétiques; toutefois la partie qui se rapporte aux problèmes arithmétiques est sans démonstrations, mais fondée sur les principes de l'algèbre; 9° Traité de la mesure à la manière des *Éléments*; 10° Traité du calcul des opérations commerciales; 11° Perfection de l'art de creuser et d'édifier, ouvrage dans lequel j'ai fait correspondre à tout ce qui se présente dans ces deux arts toutes les figures géométriques, en allant jusqu'aux figures des trois sections coniques, de la parabole, de l'hyperbole et de l'ellipse; 12° Abrégé des livres d'Apollonius sur les sections coniques; 13° Mémoire sur le calcul indien; 14° Mémoire sur la détermination de l'azimut de la Kiblah dans toute la terre habitée, avec des tables que j'ai construites, sans donner les démonstrations des procédés exposés; 15° De certains problèmes géométriques indispensables pour les rites religieux; 16° Lettre adressée à plusieurs rais, pour encourager aux observations astronomiques; 17° Introduction à la géométrie; 18° Mémoire sur la réfutation de la démonstration que l'hyperbole et ses deux asymptotes s'approchent indéfiniment l'une des autres, sans cependant jamais se rencontrer; 19° Réponse à sept problèmes mathématiques qu'on m'avait proposés à Bagdad, puis j'y ai répondu; 20° Traité sur l'analyse et la synthèse des géomètres, à l'usage des étudiants, recueil de problèmes géométriques et arithmétiques, résolus et arrangés par moi; 21° Traité de l'instrument universel, abrégé extrait du traité d'Ibrâhîm Ben Benân; 22° Mémoire sur la détermination géométrique de la distance entre deux lieux terrestres; 23° Mémoire sur les éléments des problèmes arithmétiques et sur leur analyse; 24° Mémoire pour résoudre un doute sur Euclide, relativement au cinquième livre de son Traité des éléments mathématiques; 25° Mémoire sur la démonstration du théorème proposé par Archimède, relativement à la trisection de l'angle, qu'il ne démontra pas (c'est probablement une erreur, et il faut lire : relativement à la section de la ligne, etc.; voir l'addition A du présent opuscule). »

..... « Je dis. Et c'est là que finit ce que j'ai trouvé en fait de cela, écrit de la main de Mohammed Ben Alhaçan Ben Alhaitham, l'auteur : que la miséricorde divine repose sur lui ! Et voici encore une liste des ouvrages d'Ibn Alhaitham que j'ai trouvée, et qui va jusqu'à la fin de l'an 429 : 1° Mémoire sur la configuration du monde; 2° Commentaire sur les définitions de l'ouvrage d'Euclide (Voir *Gartz*, loc. cit. — C'est probablement l'ouvrage coté n° 1069 du catalogue de la bibliothèque de Leyde de 1716); 3° Traité d'optique en sept livres (c'est probablement un commentaire de cet ouvrage, qui est coté n° 1073 du catalogue de la bibliothèque de Leyde); 4° Mémoire sur la manière de faire des observations astronomiques; 5° Mémoire sur les étoiles qui se forment dans l'air; 6° Mémoire sur la lumière de la lune; 7° Mémoire sur la détermination de l'azimut de la Kiblah au moyen du calcul; 8° Mémoire sur l'arc-en-ciel et sur le halo; 9° Mémoire sur les différences apparentes des hauteurs des étoiles; 10° Traité du calcul des opérations commerciales; 11° Mémoire sur le cadran solaire horizontal; 12° Mémoire sur l'observation des étoiles; 13° Traité du compas des sections coniques; 14° Deux livres des centres de continuité; 15° Mémoire sur les éléments de la mesure; 16° Mémoire sur la mesure de la sphère; 17° Mémoire sur la mesure du solide parabolique; 18° Mémoire sur le miroir ardent circulaire; 19° Mémoire sur les miroirs ardents courbés suivant des sections coniques (comparer relativement à ces deux ouvrages le catalogue de la bibliothèque de Leyde, n° 1074); 20° Abrégé sur les figures de la nouvelle lune; 21° Mémoire développé sur les figures de la nouvelle lune; 22° Abrégé sur les compas des grands cercles; 23° Mémoire développé sur le compas des cercles (*sic*); 24° Mémoire sur l'azimut; 25° Mémoire pour faire remarquer les parties

vicieuses des méthodes d'observations astronomiques; 26° Mémoire démontrant que la sphère est la plus grande des figures solides isopérimètres, et le cercle la plus grande des figures planes isopérimètres; 27° Mémoire sur l'optique, suivant la méthode de Ptolémée; 28° Traité sur le perfectionnement des opérations astronomiques, deux livres; 29° Mémoire sur la détermination de quatre lignes (moyennes proportionnelles) entre deux lignes données (*c'est l'ouvrage cité par Alkhayyâm*); 30° Mémoire sur la quadrature du cercle; 31° Mémoire sur la détermination de la méridienne avec la dernière exactitude; 32° Mémoire sur l'addition des fractions; 33° Mémoire sur les propriétés de la parabole; 34° Mémoire sur les propriétés de l'hyperbole; 35° Mémoire sur la relation qui existe entre la (longueur) des heures temporaires et la hauteur correspondante (du pôle — voici cette relation : Désignant la longueur de l'heure temporaire par t , on aura $\cos \{6t\} = -\operatorname{tg} \varphi \cdot \operatorname{tg} \delta$); 36° Mémoire sur la nature des ombres (gnomoniques — ou bien des tangentes et cotangentes trigonométriques); 37° Mémoire prouvant que la partie visible du ciel est plus grande que la moitié du ciel; 38° Mémoire sur la solution d'un doute sur un endroit du premier livre de l'Almageste, qui avait présenté des difficultés à plusieurs savants; 39° Mémoire sur la solution d'un doute sur la partie stéréométrique de l'ouvrage d'Euclide; 40° Mémoire sur la division des deux quantités de grandeur différente mentionnées dans la première proposition du dixième livre de l'ouvrage d'Euclide (le théorème d'exhaustion); 41° Problèmes sur les changements optiques; 42° Mémoire sur la détermination du côté de l'heptagone; 43° Mémoire sur la section de la ligne employée par Archimède, dans son Traité de la sphère et du cylindre (voir l'addition A du présent opuscule); 44° Mémoire sur la détermination de la méridienne au moyen d'une seule ombre (l'ombre observée donne la hauteur du soleil, laquelle étant connue, le problème se ramène à la formule $\cos A = \frac{\sin h \sin \varphi - \sin \delta}{\cos h \cos \varphi}$); 45° Mémoire sur le problème d'inscrire un pentagone à un carré; 46° Mémoire sur la voie lactée; 47° Mémoire sur la détermination du côté du cube (probablement une construction d'équations cubiques); 48° Mémoire sur la lumière des étoiles; 49° Mémoire sur les traces qu'on remarque dans la lune; 50° Mémoire sur un problème arithmétique; 51° Mémoire sur les nombres harmoniques; 52° Mémoire sur le mouvement qui a lieu dans le plan; 53° Mémoire sur l'analyse et la synthèse; 54° Mémoire sur les connues (*c'est l'ouvrage qu'a fait connaître M. Sédiilot*); 55° Mémoire sur la solution d'un doute sur le douzième livre de l'ouvrage d'Euclide; 56° Mémoire sur la solution des difficultés présentées par le premier livre de l'ouvrage d'Euclide; 57° Mémoire sur le calcul des deux fausses positions; 58° Réponse à un problème de mesure; 59° Abrégé sur l'azimut de la Kiblah; 60° Mémoire sur la lumière; 61° Mémoire sur le mouvement complexe (?); 62° Mémoire pour réfuter ceux qui étaient d'une opinion contraire au sujet de la voie lactée (comparer le catalogue de la bibliothèque de Leyde, n° 1159); 63° Mémoire sur la solution des doutes sur le mouvement complexe; 64° Mémoire sur les doutes sur Ptolémée; 65° Mémoire sur l'atome; 66° Mémoire sur les lignes horaires; 67° Mémoire sur le قرسطون (?) (il faut peut-être lire قرطوبين, voir le Recueil de termes techniques donné par M. Sédiilot à la fin de son Mémoire sur les instruments astronomiques des Arabes); 68° Mémoire sur l'espace; 69° Mémoire sur la détermination des hauteurs perpendiculaires des montagnes; 70° Mémoire sur les démonstrations (*c'est dans ce sens qu'on trouve employé le mot علة par Moh. Ben Mouça*) du calcul indien; 71° Mémoire sur les hauteurs des triangles (traité de trigonométrie plane?); 72° Mémoire sur les propriétés des cercles; 73° Mémoire sur la proposition des Béné Mouça, 74° Mémoire sur la construction de l'heptagone inscrit au cercle; 75° Mémoire sur la détermination de la hauteur du pôle avec la plus grande exactitude (la bibliothèque de Leyde possède ce mémoire, dont voici les premières lignes : « Traité d'Alhaçan Ben Alhoçain Ben Alhaitham sur la détermination de la hauteur du pôle avec la plus grande exactitude. Il n'y a pas une seule des théories astronomiques qui se rapportent à l'observation qui n'ait besoin, dans ses observations qu'elle comporte, de la détermination de l'élévation du pôle sur

vers lui! Seulement, cette construction est assez difficile; de sorte que nous ne pouvons l'ajouter au présent traité (*). — Et de

l'horizon du lieu de l'observation, et c'est uniquement au moyen des instruments, et après avoir déterminé exactement la position des instruments relativement à l'horizon, qu'on peut venir à bout de reconnaître les mouvements célestes; mais on ne peut obtenir cette détermination de la position de l'instrument, relativement à l'horizon, qu'au moyen d'une connaissance exacte de la hauteur du pôle, etc. »); 76° Mémoire sur la construction des clepsydres; 77° Mémoire sur la sphère ardente (le ms. d'Ibn Abi Oçaïb. porte *الكرة المحرقة*, le ms. du Târ. Alhoq. et Casiri, *الكرة المحرقة*; peut-être faudrait-il lire *الكرة المحركة*, *h128* de Sphæra mota, sujet d'un ouvrage d'Autolycus, traduit par Thâbit Ben Korrah; comparer le n° 1096 du catalogue de la bibliothèque de Leyde); 78° Mémoire sur un problème arithmétique solide; 79° Mémoire sur un problème géométrique; 80° Mémoire sur la figure de l'éclipse; 81° Mémoire sur la plus grande ligne qu'on peut placer dans un segment de cercle; 82° Mémoire sur le mouvement de la lune; 83° Mémoire sur les problèmes d'intersection; 84° Commentaire sur l'arithmétique en forme de scolies; 85° Commentaire du canon (Euclide, sectio canonis?) en forme de scolies; 86° Commentaire sur l'harmonique (d'Euclide?) en forme de scolies; 87° Traité de la section du trapèze en général; 88° Mémoire sur l'éthique; 89° Mémoire sur les connaissances nécessaires aux gens de bureau; 90° Traité de politique, cinq livres; 91° Scolies ajoutées par le médecin égyptien Ishâk Ben Yoûnis (ce pourrait bien être le célèbre astronome de ce nom, si ce n'est que celui-ci s'appelait Ali et non pas Ishâk) à l'ouvrage d'Ibn Alhaitham sur le Traité des problèmes d'algèbre de Diophante; 92° Mémoire sur la solution d'un problème arithmétique.

On doit à M. L. Am. Sedillot la connaissance du *Traité des connues géométriques* d'Ibn Alhaitham, mentionné ci-dessus, n° 54. Voir le nouveau Journal asiatique, mai 1834, et l'Aperçu historique, etc., de M. Chasles, pag. 498 sqq.

Pour donner une idée de ce qu'étaient les ouvrages du genre de celui mentionné ci-dessus n° 89, voici une indication rapide du contenu d'un ouvrage d'Aboul Wafâ, dont la bibliothèque de Leyde possède la première moitié (n° 1048 du catalogue); il est intitulé *Traité d'Aboul Wafâ Mohammed Ben Mohammed Alboûzdjânt*, sur les connaissances nécessaires aux gens de bureau et aux gens d'affaires et autres, en fait de l'art du calcul. Le premier livre traite : Du rapport, des différentes espèces de fractions (comparer le deuxième chapitre, première préparation, du petit traité de Behâ-Eddîn), et de la règle des six quantités (comparer Chasles, Aperçu hist., not. VI); le deuxième livre : De la multiplication et de la division des nombres entiers et des fractions simples ou composées, de l'addition et de la soustraction des fractions, de la multiplication et de la division abrégées; le troisième livre : De la mesure des figures planes et de la mesure des distances. C'est jusque-là que va le ms. de la bibliothèque de Leyde. D'après le sommaire, le quatrième livre traite des différents genres d'impôts, de la tenue des registres d'impôts, et des calculs qui s'y rapportent; le cinquième livre, de l'échange des troupeaux de chameaux, des blés et des terres, particulièrement par rapport au territoire de Baçrah et de Qoûfah et aux contrées environnantes, puis des partages; le sixième livre, du commerce de change d'or et de pièces monnayées, du paiement des troupes, des bijoux, des vêtements, des associations mercantiles; le septième livre, des calculs que nécessitent les différents genres d'opérations mercantiles. Chaque livre est divisé en sept chapitres, et chaque chapitre en un nombre plus ou moins grand (1 jusqu'à 9) de sections.

*) Il serait intéressant de connaître cette construction d'une équation du cinquième degré

même lorsqu'on dit (*) : « Quel cube est égal à un certain nombre de parties du carré de son côté, » on a besoin de la susdite proposition auxiliaire, et il est impossible de résoudre le problème au moyen de nos méthodes. — En général, lorsque le premier de ces sept degrés est multiplié par le sixième (**), on aura besoin de la détermination de quatre moyennes proportionnelles entre deux lignes données, ainsi que l'a démontré Aboû Ali Ibn Alhaïtham : que Dieu le Très-Haut soit miséricordieux envers lui !

Et si l'on dit (***) : « Quel cube est égal à seize parties de son côté ? » le premier degré sera multiplié par le (dénominateur du) cinquième, et la racine de la racine du produit sera le côté du cube cherché. Et la même règle s'appliquera toujours lorsqu'un de ces sept degrés est égalé à celui qui, à partir de lui, est le cinquième de la proportion continue (****).

par un géomètre arabe, à moins que ce ne soit une simple reproduction du procédé imaginé par Ératosthène. (Voir *Archimède*, éd. d'Oxf., p. 144-146.)

*) $x^3 = a \cdot \frac{1}{x^2}$

**) $x^3 \cdot \frac{1}{x^2}$; c'est à quoi conduit, en effet, la méthode employée par l'auteur dans les exemples précédents, lorsqu'elle est appliquée à l'équation $x^3 = a \cdot \frac{1}{x^2}$; car, suivant cette méthode, on multipliera les deux membres par x^2 , ce qui donne $x^5 = a \cdot x^3 \cdot \frac{1}{x^2} = a \cdot x$ ou $x^5 = a$. Cependant il semble que l'auteur, en se servant de l'expression « le premier degré est multiplié par le sixième, » veut désigner un degré qui est multiplié par le *dénominateur* de celui qui, à *partir du premier*, est le sixième dans l'ordre de la proportion continue des sept degrés; à savoir x^3 par x^2 le dénominateur de $\frac{1}{x^2}$, et x^2 par x^3 le dénominateur de $\frac{1}{x^3}$; de sorte que l'opération à effectuer sur l'équation proposée sera :

1° $x^3 = a \cdot \frac{1}{x^2}$, $x^3 \cdot x^2 = a \cdot \frac{1}{x^2} \cdot x^2$ ou $x^5 = a$; 2° $x^3 = a \cdot \frac{1}{x^3}$, $x^3 \cdot x^3 = a \cdot \frac{1}{x^3} \cdot x^3$ ou $x^6 = a$. C'est du moins ainsi qu'il faut indubitablement entendre les expressions de l'exemple suivant proposé dans le texte.

***) $x^3 = 16 \cdot \frac{1}{x}$, $x^3 \cdot x = 16 \cdot \frac{1}{x} \cdot x = 16$, $x = \sqrt[5]{16}$.

****) $x^3 = a \cdot \frac{1}{x}$, $x^3 = a \cdot \frac{1}{x^2}$, $x = a \cdot \frac{1}{x^3}$.

Quant aux équations composées, par exemple(*), « Une racine est égale à l'unité plus deux parties de racine, » cela équivaut à « Un carré est égal à une racine plus deux en nombre, » parce que les trois derniers degrés sont proportionnels aux trois précédents. Nous résolvons (l'équation transformée) au moyen de la méthode précédemment exposée, et le carré se trouvera être égal à quatre, et sera, en effet, égal à sa racine plus deux en nombre. La racine de ce carré est donc ce qu'on cherchait; cette racine est deux, et est effectivement égale à l'unité plus deux parties de cette racine. — Et de même, si l'on dit (**): « Un carré et deux de ses racines sont égaux à l'unité plus deux parties de racine, » alors cela équivaut à : « Un cube et deux carrés sont égaux à une racine et deux. » Nous déterminerons le côté du cube, comme nous l'avons démontré, au moyen des sections coniques; et le carré de ce côté sera le carré cherché. — Et de même, si l'on dit (***) : « Une racine et deux en nombre et dix parties de racine sont égaux à vingt parties de carré, » cela équivaudra à : « Un cube et deux carrés et dix racines sont égaux à vingt en nombre; » nous déterminerons le côté du cube au moyen de la méthode des coniques, et ce sera la racine cherchée. — Généralement, quatre degrés quelconques de ces sept degrés, se suivant en série continue, peuvent être considérés comme une des vingt-cinq espèces discutées ci-dessus.

Mais lorsque la série s'étend à cinq, six ou sept degrés, il

*) $x = 1 + 2 \cdot \frac{1}{x}$ équivaut à $x^2 = x + 2$, « parce que $x : x^2 = 1 : x = \frac{2}{x} : 2$, » c'est-à-dire qu'on multipliera l'équation par le dénominateur de la plus basse puissance qu'elle renferme; $x^2 = x + 2$ donne $x^2 = 4$, et $x = \sqrt{4} = 2$; en effet, on aura $2 = 1 + 2 \cdot \frac{1}{2}$.

**) $x^2 + 2x = 1 + 2 \cdot \frac{1}{x}$ équivaut à $x^3 + 2x^2 = x + 2$.

***) $x + 2 + 10 \cdot \frac{1}{x} = 20 \cdot \frac{1}{x^2}$ équivaut à $x^3 + 2x^2 + 10x = 20$.

n'y a pas de méthode qui réussisse à résoudre le problème. Par exemple, lorsqu'on dit (*) : « Un carré et deux racines 46 sont égaux à deux en nombre et deux parties de carré, » alors c'est impossible à résoudre, parce que le carré est le second de ces degrés, et que la partie du carré est le sixième; de sorte que la série s'étend à un intervalle de cinq degrés. Cela servira de règle pour les autres cas.

La totalité des équations simples, ayant lieu entre ces sept degrés, monte à vingt et une, deux desquelles ne peuvent être résolues au moyen de notre méthode, mais exigent la proposition auxiliaire d'Ibn Alhaïtham ; de sorte qu'il en reste dix-neuf espèces résolubles par notre méthode, les unes au moyen des propriétés du cercle, et les autres au moyen des propriétés des sections coniques. La totalité des équations composées à trois termes renfermant trois degrés successifs monte à quinze ; elles sont résolubles au moyen des propriétés du cercle. La totalité des équations composées à trois termes, qui constituent un intervalle de quatre degrés successifs quelconques, monte à vingt-quatre ; elles sont résolubles au moyen des propriétés des coniques. La totalité des équations composées à quatre termes renfermant quatre degrés successifs quelconques monte à vingt-huit, résolubles au moyen des sections coniques (**).

*) $x^2 + 2x = 2 + 2 \cdot \frac{1}{x}$. C'est, en effet, une équation du quatrième degré ; mais les équations de ce degré du moins pouvaient encore être construites au moyen de deux coniques, ce que d'ailleurs d'autres géomètres arabes ont réellement reconnu (Voir l'addition D, second problème).

**) Voici le tableau complet de toutes ces équations :

I. *Équations simples.*

Équations à termes entiers, n° 1 à 6. $a=x$, $a=x^2$, $a=x^3$, $bx=x^2$, $bx=x^3$, $cx^2=x^3$.

Équations à termes fractionnaires. $\frac{1}{x^3} = a \frac{1}{x^2}$, $\frac{1}{x^2} = a \frac{1}{x}$, $\frac{1}{x} = a$,
 $\frac{1}{x^3} = a \frac{1}{x}$, $\frac{1}{x^2} = a$, $\frac{1}{x} = ax$,
 $\frac{1}{x^3} = a$, $\frac{1}{x^2} = ax$, $\frac{1}{x} = ax^2$,

La totalité des équations ayant lieu entre ces sept degrés, et résolubles au moyen des méthodes exposées par nous, monte

$$\begin{aligned} \frac{1}{x^3} &= ax, \quad \frac{1}{x^2} = ax^2, \quad \frac{1}{x} = ax^3, \\ \left(\frac{1}{x^3} &= ax^2, \quad \frac{1}{x^2} = ax^3 \dots \text{équations d'Ibn Alhaitham} \right) \\ \frac{1}{x^3} &= ax^3. \end{aligned}$$

Équations composées.

II. *Équations du second degré* (« résolubles au moyen des propriétés du cercle »).

Équations à termes entiers, n° 7 à 12. $x^2 + bx = a$, $x^2 + a = bx$, $bx + a = x^2$,
 $x^2 + cx^2 = bx$, $x^2 + bx = cx^2$, $cx^2 + bx = x^3$.

Équations à termes fractionnaires. $\frac{1}{x} + a = bx$, $\frac{1}{x} + bx = a$, $\frac{1}{x} = a + bx$,
 $\frac{1}{x^2} + \frac{a}{x} = b$, $\frac{1}{x^2} + b = \frac{a}{x}$, $\frac{1}{x^2} = \frac{a}{x} + b$,
 $\frac{1}{x^3} + \frac{a}{x^2} = \frac{b}{x}$, $\frac{1}{x^3} + \frac{b}{x} = \frac{a}{x^2}$, $\frac{1}{x^3} = \frac{a}{x^2} + \frac{b}{x}$.

III. *Équations du troisième degré à trois termes* (« rés. au moy. des propr. des coniq. »)

Équations à termes entiers, n° 13 à 18. $x^3 + bx = a$, $x^3 + a = bx$, $bx + a = x^3$,
 $x^3 + cx^2 = a$, $x^3 + a = cx^2$, $cx^2 + a = x^3$.

Équations à termes fractionnaires. $\frac{1}{x^3} + \frac{a}{x} = b$, $\frac{1}{x^3} + b = \frac{a}{x}$, $\frac{1}{x^3} = \frac{a}{x} + b$,
 $\frac{1}{x^2} + a = bx$, $\frac{1}{x^2} + bx = a$, $\frac{1}{x^2} = a + bx$,
 $\frac{1}{x} + ax = bx^2$, $\frac{1}{x} + bx^2 = ax$, $\frac{1}{x} = ax + bx^2$,
 $\frac{1}{x^3} + \frac{a}{x^2} = b$, $\frac{1}{x^3} + b = \frac{a}{x^2}$, $\frac{1}{x^3} = \frac{a}{x^2} + b$,
 $\frac{1}{x^2} + \frac{a}{x} = bx$, $\frac{1}{x^2} + bx = \frac{a}{x}$, $\frac{1}{x^2} = \frac{a}{x} + bx$,
 $\frac{1}{x} + a = bx^2$, $\frac{1}{x} + bx^2 = a$, $\frac{1}{x} = a + bx^2$.

IV. *Équations du troisième degré à quatre termes* (« rés. au moy. des propr. des coniq. »)

Équations à termes entiers, n° 19 à 25. $x^3 + cx^2 + bx = a$, $x^3 + cx^2 + a = bx$,
 $x^3 + bx + a = cx^2$, $cx^2 + bx + a = x^3$,
 $x^3 + cx^2 = bx + a$, $x^3 + bx = cx^2 + a$, $x^3 + a = cx^2 + bx$.

Équations à termes fractionnaires. $\frac{1}{x^3} + \frac{a}{x^2} + \frac{b}{x} = c$, $\frac{1}{x^3} + \frac{a}{x^2} + c = \frac{b}{x}$,
 $\frac{1}{x^3} + \frac{b}{x} + c = \frac{a}{x^2}$, $\frac{1}{x^3} = \frac{a}{x^2} + \frac{b}{x} + c$,
 $\frac{1}{x^3} + \frac{a}{x^2} = \frac{b}{x} + c$, $\frac{1}{x^3} + \frac{b}{x} = \frac{a}{x^2} + c$, $\frac{1}{x^3} + c = \frac{a}{x^2} + \frac{b}{x}$.

donc à quatre-vingt-six, dont il a été mentionné dans les traités de mes prédécesseurs uniquement six espèces (*). Pour quiconque a bien approfondi les théorèmes proposés dans ce traité, et en même temps possède une certaine force naturelle de l'intelligence, ainsi que l'habitude de s'occuper de problèmes mathématiques, il n'y aura plus, certes, rien d'obscur dans les problèmes qui offraient de si grandes difficultés aux géomètres des temps précédents.

Nous voilà donc arrivés au terme convenable pour finir ce mémoire en offrant nos louanges au Dieu Très-Haut, et en implorant sa bénédiction sur tous les prophètes.

C'est ce que je m'étais proposé de développer.

47

Or, cinq ans environ après la composition de ce mémoire, une personne possédant une légère teinture de connaissances mathématiques me raconta que le géomètre Aboul Djoûd

$$\begin{aligned} \frac{1}{x^2} + \frac{a}{x} + b &= cx, & \frac{1}{x^2} + \frac{a}{x} + cx &= b, \\ \frac{1}{x^2} + b + cx &= \frac{a}{x}, & \frac{1}{x^2} &= \frac{a}{x} + b + cx, \\ \frac{1}{x^2} + \frac{a}{x} &= b + cx, & \frac{1}{x^2} + b &= \frac{a}{x} + cx, & \frac{1}{x^2} + cx &= \frac{a}{x} + b, \\ \frac{1}{x} + a + bx &= cx^2, & \frac{1}{x} + a + cx^2 &= bx, \\ \frac{1}{x} + bx + cx^2 &= a, & \frac{1}{x} &= a + bx + cx^2, \\ \frac{1}{x} + a &= bx + cx^2, & \frac{1}{x} + bx &= a + cx^2, & \frac{1}{x} + cx^2 &= a + bx. \end{aligned}$$

Il est remarquable que l'auteur n'ait pas été frappé par la pensée qu'on peut produire un nombre *infini* d'équations « résolubles par ses méthodes » en multipliant chacune de ses vingt-cinq (ou plutôt en rejetant les équations n^{os} 4 à 6, et 10 à 12, dix-neuf) équations

primitives par $x^{\pm n}$, n étant un nombre entier quelconque. Ce sont probablement ses théories philosophiques sur la nature des puissances (voir pages 7 et 8) qui l'empêchaient de concevoir cette idée.

*) A savoir, les espèces n^{os} 1, 2, 4, 7, 8, 9. — Voir les traités de Moh. Ben Moûça et de Behâ Eddîn, et comparer le passage d'Ibn Khaldoun cité par Hadji-Khalifa (éd. de Fluegel, t. II, page 584).

Mohammed Ben Allaïth, que Dieu soit miséricordieux envers lui ! était auteur d'un traité sur l'énumération de ces espèces, et sur la manière de ramener au moyen de l'analyse la plupart d'entre elles à des sections coniques, sans cependant discuter complètement leurs cas et sans distinguer les problèmes possibles d'avec les impossibles, mais en donnant seulement les développements auxquels il était conduit par la considération de problèmes particuliers dépendant de ces espèces. Je ne serais pas porté à croire cela très-loin de la vérité, parce que les deux espèces que j'ai dit appartenir à un de mes prédécesseurs lui sont attribuées. Et la personne dont j'ai parlé les avait vues dans un exemplaire complet des ouvrages d'Aboûl Djoûd, écrit de la main d'Alhâzemî (*) le Khârezmien.

L'une de ces deux espèces est trinôme, à savoir : « Un cube et un nombre sont égaux à des carrés (**). » Cette équation a des cas, et les cas sont sujets à des conditions, ainsi qu'il a été expliqué dans ce mémoire. Mais d'abord il n'a pas énoncé complètement les conditions, et ensuite il s'est trompé de nouveau à l'occasion de cette espèce en affirmant que, si le côté du cube égal au nombre donné est plus grand que la moitié du nombre des carrés, le problème est impossible. Car il n'en est pas ainsi, comme nous l'avons démontré. Il fut induit dans cette erreur, faute d'avoir reconnu la possibilité du contact ou de l'intersection des deux coniques dans cet autre cas.

L'autre espèce est quadrinôme, à savoir : « Un cube plus un nombre plus des côtés est égal à des carrés (***) ; » et certes rien de plus beau que sa solution de ce problème après que tous les géomètres s'étaient épuisés en vains efforts pour l'obtenir.

*) Voir le *Loub Alloubâb* du Soyoûtl, éd. de Veth, vol. I, p. V¹°.

**) C'est l'équation n° 17 d'Alkhayyâmi. Voir page 40 sqq.

***) C'est l'équation n° 21 d'Alkhayyâmi. Voir page 49 sqq.

Cependant le problème qu'il résolut était particulier, et l'espèce a différents cas et est sujette à des conditions; enfin elle renferme des problèmes impossibles. De tout cela il ne donna pas une discussion exacte et complète.

J'ai parlé de cela uniquement afin que les personnes qui rencontreraient les deux traités — pourvu que ce qui m'a été raconté relativement à cet excellent géomètre soit exact — puissent comparer mon mémoire présent avec celui attribué à cet excellent géomètre.

48

Or, je crois n'avoir négligé aucun soin pour rendre ma discussion complète, m'efforçant en même temps de satisfaire pleinement à ma promesse, et d'éviter pourtant une prolixité ennuyeuse. Si j'avais voulu, j'aurais facilement pu donner des exemples de chacune de ces espèces et de leurs cas. Mais, craignant d'être prolix, je me suis borné à proposer ces théorèmes généraux, confiant en l'intelligence de l'étudiant, parce que celui dont l'esprit a bien pénétré l'idée de cet ouvrage ne sera certainement pas arrêté par tel problème spécial qu'il voudra se proposer, ou par la difficulté de le ramener à l'espèce dont il est le cas particulier. C'est le concours de Dieu qui conduit au succès, et c'est en son assistance que nous nous confions en tout état.

J'ajoute encore ce qui suit. Un de nos élèves nous a pressé de ses instances d'exposer l'erreur (*) commise par Abou'l Djoûd Mohammed Ben Allaïth dans la discussion de la cinquième des six espèces trinômes résolubles au moyen des coniques. C'est l'équation « Un cube et un nombre sont égaux à des carrés (**). »

Abou'l Djoûd dit : Faisons le nombre des carrés égal à la

(*) Cette erreur consiste à avoir dit (fig. 30) :

1° Que si $BC = CA$, les deux coniques se touchent au point D;

2° Que si $BC > CA$, les deux coniques n'ont pas de rencontre du tout. (Voir pages 43 et 82.)

(**) N° 17. $x^3 + a = cx^2$.

ligne AB (fig. 30), et prenons sur AB un segment BC égal au côté d'un cube qui est égal au nombre. La ligne BC sera, ou égale à CA, ou plus grande, ou plus petite que CA.

Il dit : Lorsque CA est égale à BC (fig. 30, 1), complétons le rectangle CE, et faisons passer par D une hyperbole ayant AB, BE pour asymptotes. Construisons aussi une parabole ayant son sommet au point A, son axe sur AB, et son paramètre égal à BC. Cette parabole passera infailliblement par le point D, comme nous l'avons démontré. Puis il dit que les deux coniques se touchent au point D. Mais c'est une erreur, parce qu'elles ont nécessairement une intersection. Démonstration. Faisons BZ égale à BA, et joignons AZ. Alors AZ passe infailliblement par D, et sera située (relativement à sa partie AD) dans l'intérieur de la parabole. L'angle ADB sera un angle droit, et l'angle ABD sera égal à l'angle ZBD. Or il est connu que l'axe de l'hyperbole divise en deux parties égales l'angle (des asymptotes) qui l'enveloppe. Conséquemment la ligne BDT est l'axe de l'hyperbole qui passe par D. Mais la ligne AD est parallèle
49 aux ordonnées (de l'hyperbole); elle sera donc tangente à l'hyperbole. Il s'ensuit nécessairement que la parabole coupe l'hyperbole, ne pouvant être située entre l'hyperbole et la tangente à l'hyperbole; parce que si la parabole touchait cette tangente à l'hyperbole, les droites menées du point D à un point quelconque pris sur la circonférence parabolique AD tomberaient entre la parabole et sa tangente, ce qui est absurde.

$$AB = c, \overline{BC}^3 = a, BC < AB.$$

$$BC > AC, \text{ ou } \sqrt[3]{a} > \frac{c}{2}. - BCDE \text{ carré.}$$

AB, BE, asymptotes d'une hyperbole équilatère qui passe par le point D.

A sommet, AB axe, BC paramètre d'une parabole.

- 1) $BC = AC$ (fig. 30, 1). La parabole passe par D (voir la note page 41), et les deux sections coniques se rencontrent en D, non par contact, mais par intersection.

Il en résulte avec nécessité que la parabole coupe l'hyperbole encore dans un autre point situé entre A et D. Et c'est ce que nous nous proposons de démontrer. C'est ainsi que ce géomètre excellent s'est trompé en avançant que les deux coniques nécessairement ont un contact au point D.

Maintenant quant à ces mots : « Lorsque BC est plus grande que CA, le problème est impossible, parce que les deux coniques ne se rencontrent pas, » c'est une assertion erronée. Au contraire, les deux coniques peuvent très-bien se rencontrer, soit par intersection, soit par contact, en un seul point ou en deux points, situés entre A et D, ainsi que nous l'avons démontré ci-dessus. Et l'on peut en donner une démonstration plus générale que celle que nous avons proposée.

Que AB (fig. 30, 2) soit égale au nombre des carrés, et BC égale au côté du cube (qui est égal au nombre donné) et plus grande que la moitié de AB. Complétons CE, et décrivons les deux coniques de la manière qu'on sait. Supposons (*) AB égale à dix, et ZB égale à six. Le produit du carré de ZB en ZA sera cent quarante-quatre. Ce sera le nombre donné; le

*) 2) $BC > AC$ ou $BC > \frac{AB}{2}$ (fig. 30, 2). — Supposons $AB = c = 10$, $ZB = x = 6$; de $x^2 + a = cx^2$ il suit $a = x^2(c - x) = \overline{ZB}^2$. $ZA = 144$; $BC = \sqrt[3]{a} = \sqrt[3]{144} > 5$, ou $BC > \frac{AB}{2}$.

De $\overline{BC}^3 = \overline{ZB}^2 \cdot ZA$ il suit : 1) $\overline{ZB}^2 : \overline{BC}^2 = BC : ZA$.

Coupant l'hyperbole au point H par une perpendiculaire élevée au point Z, on aura rectangle HB égal au carré EC, donc 2) $ZB : BC = BC : ZH$

et 3) $\overline{ZB}^2 : \overline{BC}^2 = ZB : ZH$

De 1) et 3) il suit 4) $ZB : BC = ZH : ZA$

de 2) et 4) 5) $BC : ZH = ZH : ZA$ ou $\overline{ZH}^2 = BC \cdot ZA$;

enfin de 4) et 5) $ZB : BC = BC : ZH = ZH : ZA$.

Or, de $\overline{ZH}^2 = BC \cdot ZA$ il résulte que H est situé aussi sur la circonférence de la parabole, bien que nous ayons supposé $BC > \frac{AB}{2}$ ou $BC > AC$. Conséquemment l'assertion d'Aboul Djoûd qu'en ce cas les deux coniques *ne se rencontrent pas*, est erronée. — L'autre racine positive est, dans l'exemple présent, $x = 2 + \sqrt{28}$.

côté (du cube qui lui est égal) sera BC, et BC sera infailliblement plus grand que cinq, parce que le cube de cinq est cent vingt-cinq. Or le solide ayant pour base le carré de ZB, et pour hauteur ZA, est égal au cube de BC. Conséquemment leurs bases sont réciproquement proportionnelles à leurs hauteurs, c'est-à-dire le carré de ZB est au carré de BC comme BC à ZA. Menons de Z une perpendiculaire qui coupera l'hyperbole au point H, et complétons le rectangle HB. Le rectangle HB sera égal à CE. Conséquemment leurs côtés seront réciproquement proportionnels, c'est-à-dire ZB sera à BC comme BC à ZH. Donc le carré de ZB sera au carré de BC comme ZB à ZH. Mais on avait trouvé le
50 carré de ZB au carré de BC comme BC à ZA; par conséquent ZB à ZH comme BC à ZA, et *alternando* (*) (ZB à BC comme ZH à ZA). Il en résulte que les quatre lignes ZB, BC, ZH, ZA sont en proportion continue, et que le carré de ZH est égal au produit de BC en ZA. Mais BC est le paramètre de la parabole dont AB est l'axe et A le sommet; conséquemment ZH est ordonnée de cette parabole, et le point H sera alors infailliblement situé sur sa circonférence. Mais H était déjà situé sur la circonférence de l'hyperbole. Les deux coniques se rencontrent donc; et l'erreur d'Aboûl Djoûd, lorsqu'il dit qu'elles ne se rencontrent pas, est évidente. Or, c'est ce qu'il s'agissait de démontrer.

Afin d'éclaircir encore plus cette question, supposons (**) AB

*) Voir *Euclide*, Éléments, liv. V, déf. 13.

**) (Fig. 30, s) $AB = c = 80$, $BC = \sqrt[3]{a} = 41$, $AC = AB - BC = 39$, $BC > AC$.
 $CD = BC$, donc $\overline{CD}^3 > BC \cdot AC$; conséquemment D est situé en dehors de la parabole.
 $\overline{LC}^3 = BC \cdot AC = 1599$, $LC = \sqrt[3]{1599} = 40 - \varepsilon$, où $\varepsilon < \frac{1}{80}$.
 $TC = BC = 41$, $AT = 2$; $HB = BT \dots HT$ tangente à l'hyperbole;
 $AK = \frac{AC}{4} = \frac{39}{4} = 9 \frac{3}{4}$; MK perpendiculaire à AK.
 $\overline{LC}^3 : \overline{MK}^3 = AC : AK = 4$, $MK = \frac{LC}{2} = 20 - \varepsilon'$, où $\varepsilon' < \frac{1}{160}$.

(fig. 30, 1) égale à quatre-vingts, et BC qui représente le côté du cube qui est égal au nombre donné, égale à quarante et un, de sorte qu'elle sera plus grande que AC. Le point D tombera en dehors de la parabole. Que celle-ci passe donc par le point L. Alors la ligne LC sera égale à la racine de mille cinq cent quatre-vingt-dix-neuf, ce qui fait quarante moins une petite quantité. Faisons TC égale à CB, BH égale à BT, et joignons TH. Alors TH sera tangente à l'hyperbole, comme nous l'avons démontré. Prenons un segment AK égal à un quart de AC, et menons de K une perpendiculaire qui coupera la parabole au point M. Le carré de LC sera au carré de KM comme AC à AK, parce que les deux premières lignes sont ordonnées de la parabole; c'est ce qui a été démontré par Apollonius dans la 19^e proposition du premier livre (*). KM sera donc la moitié de LC, c'est-à-dire égale à vingt, moins une petite quantité. Or, CT est quarante et un, AK neuf et trois quarts, et AT deux (**); conséquemment KZ sera onze et trois quarts, parce que KZ est à KT comme HB à BT; mais les deux dernières lignes sont égales. Il en résulte que la ligne ZM sera plus grande que huit, ce qui est compté à partir de

$$KZ : KT = HB : BT, \text{ donc } KZ = KT = KA + AT = 11 \frac{3}{4}.$$

$$ZM = MK - KZ = 8 \frac{1}{4} - \epsilon' > 8.$$

L'abscisse KN de l'hyperbole qui correspond à KM sera égale à $\frac{\overline{BC}^2}{\overline{BK}} = \frac{\overline{BC}^2}{\overline{AB} - \overline{AK}} = 23,93$; donc $KN > KM$, de sorte qu'ici les deux coniques sont situées en dehors l'une de l'autre. Mais, en effet, on ne voit pas bien pour quel motif l'auteur a supposé $AK = \frac{AC}{4}$; car s'il avait donné à K une valeur comprise entre 17,8 et 36,6, il aurait nécessairement trouvé que l'hyperbole passe dans l'intérieur de la parabole, et *vice versa*, ainsi que le montre la figure dans le tracé de laquelle les données numériques du texte ont été rigoureusement observées.

*) Ed. d'Oxf., p. 46, liv. I, prop. 20.

**) J'ai laissé subsister dans le texte la leçon *ithndni*, comme se trouvant également dans les deux mss.; mais il vaudrait mieux lire *ithnaini*.

la tangente à l'hyperbole; et ce sera dans cette position infail-
liblement en deçà de l'hyperbole; de sorte qu'on serait forcé
d'avouer que les deux coniques ne se rencontrent pas lorsque
BC est plus grande que CA. Mais il n'en est pas ainsi néces-
sairement dans tous les cas, et Aboûl Djoûd s'est trompé dans
51 cette assertion. Remarquez cela. Si on veut, on peut facilement
en trouver des exemples numériques.

Ce problème revient en vérité à celui d'appliquer à une li-
gne donnée (c) un solide ($\{c-x\} x^2$) défailant d'un cube (x^3),
et égal à un autre solide donné (a) (*). Alors, si le côté ($\sqrt[3]{a}$)
du cube, qui est égal au solide donné, est égal à la moitié $\left(\frac{c}{2}\right)$
de la ligne, ou plus petit, la construction est nécessairement
possible; mais lorsque ledit côté est plus grand que la moitié
de cette ligne, le problème peut conduire à des cas impossi-
bles, conformément à ce que nous avons exposé.

C'est Dieu qui facilite la solution de ces difficultés par ses
bienfaits et par sa générosité.

Terminé (**), à midi, le premier jour de la semaine, le vingt-
troisième du mois Rabîa premier de l'an six cent....

*) Comparer l'addition B. — C'est peut-être cette analogie qui existe entre la construction de l'équation $x^3 + a = cx^2$ et la 28^{me} proposition du VI^{me} livre des Éléments d'Euclide (ou, si l'on veut, l'équation carrée $x^2 + a = bx$) qui a causé l'erreur d'Aboûl Djoûd relativement à la limite de la solubilité. Car dans cette dernière proposition cette limite, en effet, a lieu lorsque la racine (carrée) de la surface donnée est égale à la moitié de la ligne donnée, en supposant que le parallélogramme appliqué doive être défailant d'un carré.

**) A savoir la copie. — Quant au millésime qui est indiqué dans le manuscrit par un parafé difficile à déchiffrer, j'en ai inséré dans le texte un fac-similé gravé, pour ne pas hasarder une explication conjecturale.

ADDITIONS.

A

« Mémoire d'Ibn Alhaïtham, c'est-à-dire du chaïkh Aboul Haçan Ben Alhaçan Ben Alhaïtham sur la section d'une ligne employée par Archimède dans le second livre. »

« Il dit : Archimède employa, dans la quatrième proposition du second livre du Traité de la sphère et du cylindre, une ligne qu'il suppose divisée suivant une raison particulière, sans démontrer comment on divise cette ligne suivant cette raison. Et puisque la section de cette ligne ne peut être effectuée qu'au moyen des sections coniques, et qu'il n'employa dans son ouvrage rien des sections coniques, il ne s'avisa pas de mêler au traité ce qui était étranger à son sujet. Nous avons donc admis cette section d'une ligne, en présupposant qu'elle peut être effectuée. Mais tant que nous ne divisons pas effectivement la ligne suivant la raison donnée par Archimède, la démonstration de la proposition dans laquelle cette section fut employée par lui reste incomplète. Puisque donc il en est ainsi, nous nous sommes proposé d'effectuer cette section et d'en montrer la possibilité, afin de rendre évidente la justesse du procédé d'Archimède. »

« La section employée par Archimède consiste en ce qu'il donne une ligne, et sur cette ligne deux points D, Z (fig. 31). Il suppose que les deux distances DB, BZ, sont connues, ainsi que le rapport de BZ à BT. Puis il dit : Faisons maintenant le rapport de HZ à ZT égal au rapport du carré de BD au carré de DH. »

« Déterminons donc la ligne au moyen de ces données, et occupons-nous de sa section. »

J'ai traduit textuellement cette petite introduction, puisque les paroles du célèbre géomètre arabe ne sont pas sans une certaine valeur historique. Pour la solution même qui suit, je ne vais en donner qu'un exposé succinct, afin de ne pas fatiguer le lecteur par la prolixité des démonstrations anciennes adoptée par les Arabes.

Faisons AD, ET, CZ, égales à BD et perpendiculaires à DZ, et joignons les points A, E, C, qui sont en ligne droite.

Faisons passer par E une *hyperbole* ayant CZ, ZD pour asymptotes. Elle coupera AD en un point K situé entre A et D.

Puis construisons une *parabole* dont l'axe soit DA, le sommet D, et le paramètre DB. Elle coupera AC en un point S, en sorte qu'on aura $\overline{AS} = AD \cdot BD = \overline{BD}^2$, donc $AS = BD$. Et puisque $AE = DT > DB$ (*), on aura $AE > AS$.

E sera donc situé en dehors de la parabole, tandis que K, comme point de son axe, sera situé dans l'intérieur de la parabole. Il s'ensuit que l'hyperbole et la parabole ont une intersection.

Abaissons du point d'intersection M une perpendiculaire sur DZ; le pied H de cette perpendiculaire sera le point cherché.

Car, en menant par le point M une droite NML parallèle à DZ, on aura, en vertu de la parabole, $\overline{MN} = BD \cdot DN$, ou $\overline{DH} = BD \cdot MH$, donc 1) $\overline{BD} : \overline{DH} = BD : MH$.

Puis, en vertu de l'hyperbole, on a $ML : EC = ET : MH$, ou 2) $HZ : ZT = BD : MH$.

*) Puisque $BZ > ZT$, voir *Archimède*, éd. d'Oxf., p. 158, lig. 26 du texte grec.

Mais de la combinaison de 1) et 2) il suit :

$$HZ : ZT = \overline{BD} : \overline{DH}; \quad \text{c. q. f. d.}$$

On peut voir la même chose d'un seul coup d'œil. Désignant DB, TZ, DZ, DH par a , b , c , x respectivement, et prenant D pour origine des coordonnées, l'équation de l'hyperbole sera $y.(c-x)=a.b$, celle de la parabole $x^2=y.a$, et la combinaison de ces deux équations donne $x^2(c-x)=a^2.b$, ce qui est en effet l'équation qu'il s'agissait de construire. (Voir la préface.)

A la suite du mémoire d'Ibn Alhaïtham il se trouve une autre solution du même problème, précédée de ces mots : « D'une autre manière par un autre, au moyen du mouvement de la ligne. » Elle m'a paru mériter une attention particulière, comme solution *mécanique* d'un problème de géométrie; et encore parce qu'elle prouve, comme on verra, combien les Arabes ont su pénétrer dans l'esprit des méthodes grecques, et s'en faire des instruments qu'ils maniaient habilement. Voici le procédé du géomètre arabe :

Menant des points D et Z (fig. 32) deux perpendiculaires à la ligne DZ, il prend sur la première un segment DA égal à BD, et sur le prolongement de DZ un segment ZC égal à ZT. Puis il imagine deux droites pivotant autour des points A et C en restant constamment parallèles entre elles : la première de ces droites mobiles coupera constamment la droite DZ; la seconde coupera la perpendiculaire menée du point Z; la droite qui joint les deux points d'intersection changera de position avec les droites mobiles, et renfermera avec elles des angles variables. Qu'on fixe entre toutes les positions que prend successivement le système de ces trois droites mobiles, celle dans laquelle la troisième droite qui joint les points d'intersection est perpendiculaire aux deux parallèles mobiles. Le point d'intersec-

tion H de la première droite mobile avec la droite fixe DZ, qui répond à cette position, sera celui qu'il s'agissait de trouver. Car on aura $AD:DH = HZ:ZE$; donc $\overline{AD} : \overline{DH} = \overline{HZ} : \overline{ZE}$ $= HZ:ZC$; mais $AD = BD$ et $ZC = ZT$; donc $\overline{BD} : \overline{DH} = HZ:ZT$; c. q. f. d.

Examinons cette solution. Désignons comme ci-dessus BD, TZ, DZ, DH par a, b, c, x respectivement; il s'agit de construire l'équation

$$1) \quad x^3 - cx^2 + a^2.b = 0.$$

La construction du géomètre arabe revient virtuellement à ceci : de construire la courbe lieu géométrique des pieds de toutes les perpendiculaires abaissées du point C sur toutes les tangentes d'une parabole dont A est le foyer, et DC la tangente au sommet; puis de couper cette courbe par une droite perpendiculaire à DC au point Z. En d'autres termes, prenant le point C pour origine des coordonnées, on combine la courbe

$$1) \quad y^3 + x'^2y - (b+c)x'y + ax'^2 = 0$$

avec la droite $x' = b$, ce qui, lorsqu'au moyen de la relation $a : x = y : x' = y : b$, on introduit encore x en place de y , produit effectivement l'équation proposée.

Voici maintenant comment cette construction se rattache à celle donnée par *Platon* pour le problème des deux moyennes proportionnelles (*). La solution de Platon consiste en ce qu'on prend, sur les deux côtés d'un angle droit à partir du sommet B (fig. 33), deux segments BA, BF respectivement égaux aux deux lignes données, et que l'on trouve, à l'aide d'un instrument qu'il imagine pour cet effet, deux points E, Δ

*) *Archim.*, éd. d'Oxf., p. 135.

situés sur les prolongements de AB et de ΓB; de sorte que ΓEA et EAA soient des angles droits.

Désignant BΓ par b , BE par y , BΔ par z , BA par a , on aura en effet $b : y = y : z = z : a$; donc on aura construit l'équation

$$2) \quad y^2 = a.b^2.$$

Mais évidemment cette construction revient à ceci : de construire la courbe lieu géométrique des pieds de toutes les perpendiculaires abaissées du point Γ sur toutes les tangentes de la parabole dont A est le foyer et BΓ la tangente au sommet; puis de couper cette courbe par le prolongement de la droite AB.

Cette courbe est donc la même que celle dont nous venons de parler. Prenant le point Γ pour origine des coordonnées, ce sera la courbe

$$II) \quad y^2 + x^2y - bxy - ax^2 = 0,$$

qui, combinée avec la droite $x = b$, produit $y^2 = ab^2$. En échangeant les directions positive et négative des y , les équations I) et II) deviennent identiques lorsque les paramètres $(b + c)$ et b sont les mêmes.

Le géomètre arabe s'est donc ingénieusement servi pour la construction de l'équation 1) des moyens imaginés par Platon pour celle de l'équation 2).

On a dit que la construction d'une équation cubique à l'aide d'une courbe du troisième degré renfermait une pétition de principe, en ce que la succession des points de ces courbes ne saurait être trouvée que par la résolution d'une équation cubique. Cette objection s'évanouit cependant à l'égard des courbes qu'on peut décrire à l'aide d'un instrument par un mouvement continu, et l'on peut dire en quelque sorte que c'est ce que virtuellement *Platon* du moins a fait. Rien n'est

plus facile que d'imaginer un pareil instrument pour la courbe qu'on vient d'examiner (*).

B

« Au nom de Dieu clément et miséricordieux !

« C'est en Dieu que repose ma confiance. »

« J'ai lu ce que tu as mentionné, ô mon frère, de ce qu'a dit le géomètre Aboû Abdallah Almâhânî dans le mémoire qui a pour objet de commenter le second livre du traité d'Archimède sur le cylindre, la sphère et le cône, à savoir que des neuf propositions qui composent ce livre, il réussit à en construire huit, tandis qu'il s'efforçait en vain de donner une solution parfaite de la quatrième, laquelle est la section d'une sphère en deux parties suivant une raison donnée, à cause de la difficulté du lemme dont il avait besoin pour cette solution. Il chercha alors à la résoudre par l'algèbre, et ramena le problème à une égalité du cube et des carrés à un nombre (**) (équation) dont les éléments ne sont pas proportionnels (***) . Cela revient à appliquer à une ligne donnée un solide à côtés

*) En discutant l'équation I), on trouve que cette courbe a deux branches infinies, ayant pour asymptote commune la directrice de la parabole mentionnée ci-dessus, et dirigées de part et d'autre de cette asymptote. Elle forme au-dessus de l'axe CD (fig. 32) un nœud penché vers AD, et a un point double en C. Elle s'éloigne le plus de l'axe des abscisses aux deux points qui ont pour coordonnées $y = \frac{\pm d - a}{2}$, $x' = \frac{b + c}{2} \cdot \frac{\pm d - a}{\pm d + a}$, en posant $d^2 = a^2 + (b + c)^2$. Si le point fixe C, au lieu d'être pris sur la tangente au sommet, avait été pris sur la directrice de la parabole, la courbe aurait été une focale à nœud.

**) Cela n'est pas tout à fait exact ; il fallait dire : « d'un cube et d'un nombre à des carrés. » Cependant il ne faut voir en ceci qu'un simple *lapsus calami*, une légère inadvertance, et non pas une erreur ou une incertitude. En effet, en parlant de choses aussi connues que l'étaient le lemme d'Archimède et l'équation d'Almâhânî, et encore en venant d'examiner un mémoire qui s'y rapportait, l'auteur pouvait se dispenser de parler avec cette rigoureuse exactitude qu'on mettrait à énoncer des théorèmes entièrement nouveaux.

***) C'est-à-dire ce n'est pas une équation du genre des équations n° 10, 11, 12 du traité d'Alkhayyâmi, en sorte qu'on pourrait, en la divisant par x , la ramener à une équation carrée.

parallèles et défailant d'un cube. Or j'ai eu besoin, pour effectuer ceci (*), de résoudre antérieurement un autre problème à la solution duquel on parvient sans difficulté, et que voici :


« Étant données deux lignes AB et C (fig. 34), diviser AB au point D, en sorte que AD soit à C comme le carré de C au carré de BD. Et c'est ce dont on a besoin pour résoudre le problème dans la solution duquel échoua Almâhânî. »

« Mais cela n'est possible que lorsque la ligne C n'est pas plus grande que la ligne qui peut le solide ayant pour arête un tiers de AB et défailant d'un (cube qui a pour base le) carré dont le côté est égal à deux tiers de AB (**), c'est-à-dire : la ligne qui peut quatre neuvièmes d'un tiers du cube de AB (***) . »

« Toutefois supposons que C puisse être plus grande, ce qui sera plus général, et considérons AB dans deux cas, en

*) Savoir, pour appliquer à une ligne donnée un parallépipède de volume donné et défailant d'un cube.

**) Le ms. porte *المجسم المضاف الى خط ج أطول من الخط القوى على المجسم* اذا لم يكن خط ج أطول من الخط القوى على المجسم المضاف الىه ثلث أب الناقص مربعا ضلعه ثلثا أب ابنى الخط القوى على الخط القوى على اربعة اتساع ثلث مكعب أب Pour expliquer les termes employés dans le texte, rappelons d'abord que cette construction d'un parallépipède appliqué à une ligne et défailant d'un cube est calquée sur celle d'un rectangle appliqué à une ligne et défailant d'un carré. (Eucl., VI, 28.) En effet, en désignant par l la ligne donnée, par v ou s le volume ou la surface donnés, la première construction s'exprimera par la formule $v = (l-x)x^2$, la seconde par la formule $s = (l-x)x$. Donc, au lieu de parler du solide appliqué à la ligne $\alpha\gamma$ et défailant du cube $\gamma\delta$, dont le côté est $\beta\gamma$, le géomètre arabe, en faisant abstraction de la hauteur commune $\gamma\epsilon$, égale au côté du cube retranché, n'a en vue que la base $\alpha\delta$, qui dans cette construction est la partie essentielle de la figure, et appelle le solide « défailant d'un carré dont le côté est $\beta\gamma$ ». Ensuite remarquons que tandis que le solide $\alpha\delta$ est, en effet, dans toute sa longueur appliqué à la ligne $\alpha\gamma$, la ligne $\alpha\gamma$ n'est pas tout entière appliquée au solide $\alpha\delta$; or la partie de cette ligne appliquée au solide *المضاف الىه*, c'est $\alpha\beta$, l'arête du solide appliqué, et dans notre cas $\frac{1}{3} AB$.



*** Condition : $C < \sqrt[3]{\left(AB - \frac{2}{3}AB\right)\left(\frac{2}{3}AB\right)^2}$ ou $C < \sqrt[3]{\frac{4}{27}AB^3}$.

nous proposant dans l'un de retrancher BD de AB, et dans l'autre d'ajouter BD à AB, en sorte que AD soit à C comme le carré de C au carré de BD. »

Voici maintenant la solution que le géomètre arabe donne du problème ainsi posé, et que je ne reproduis pas textuellement, afin d'abréger.

Il fait $BE = C$, et construit sur BE comme base le carré BEZH. Il décrit une *parabole* dont le sommet est A, l'axe AB, et le paramètre C; ensuite il fait passer par Z une *hyperbole* ayant EB, BH pour asymptotes. Les deux coniques se rencontrent nécessairement. Du point d'intersection T, on abaisse deux perpendiculaires TK, TD sur BH, BE. On aura en vertu de la parabole 1) $AD : TD = TD : C$, en vertu de l'hyperbole $BK : BE = EZ : KT$ ou 2) $TD : C = C : BD$. De la combinaison de 1) et 2) il suit $AD : TD = TD : C = C : BD$ ou $AD : C = \overline{C} : \overline{BD}$; c. q. f. d.

Puis il en revient ainsi au problème principal :

« Après avoir résolu préalablement ce lemme, prenons AB dans les deux cas, et proposons-nous d'appliquer à AB un solide à côtés parallèles, égal à un solide donné, excédant ou défailant d'un cube (*). Que la ligne C soit le côté d'un cube égal au solide donné. Dans l'un des deux cas retranchons de AB, et dans l'autre ajoutons à AB une ligne BD, telle que AD soit à C comme le carré de C au carré de BD. »

« (La possibilité de) cette construction n'est pas limitée au second cas, mais elle l'est nécessairement au premier. La limite, c'est que la ligne C ne soit pas plus grande que la ligne qui peut un cube égal à quatre neuvièmes d'un tiers du cube de AB, c'est-à-dire le solide ayant pour arête un tiers de AB

*) Que le volume donné soit égal au cube \overline{C}^3 . Au moyen du lemme on trouve AD, en sorte que $AD \cdot \overline{BD}^2 = \overline{C}^3$; mais $AD = (AB \pm BD)$; donc $AB \cdot \overline{BD}^2 \pm \overline{BD}^3$ égal au volume donné; ce qu'il s'agissait d'obtenir.

et défailant d'un (cube qui a pour base le) carré dont le côté est égal à deux tiers de AB (*). »

« Le produit du carré de BD en AD est égal au solide à côtés parallèles, terminé par deux carrés de BD et par quatre rectangles AD, BD; le produit du carré de C en C, c'est le cube égal au solide donné. Le solide appliqué à AB sera dans un cas défailant, et dans l'autre excédant, d'un cube dont le côté est égal à BD. C'est ce que nous nous proposons de démontrer. »

Ensuite le géomètre arabe se propose ce problème plus général:

Étant donné un volume V, un parallélépipède P, et une droite α , appliquer à cette droite un parallélépipède égal à V, et défailant ou excédant d'un parallélépipède semblable à P.

J'abrégerai considérablement la démonstration par laquelle il ramène ce problème au lemme résolu préalablement, en introduisant quelques notions modernes.

Désignons par p, q, r , trois arêtes d'un parallélépipède aboutissant à un même sommet, et par α, β, γ les angles compris entre ces trois arêtes prises deux à deux; le volume de ce parallélépipède sera représenté par l'expression

$$p \cdot q \cdot r \cdot \sqrt{1 + 2 \cos \alpha \cos \beta \cos \gamma - \cos^2 \alpha - \cos^2 \beta - \cos^2 \gamma}.$$

Dès qu'il s'agit, comme ici, de parallélépipèdes semblables, α, β, γ seront constants, q et r pourront être remplacés par $\lambda \cdot p$ et $\mu \cdot p$, λ et μ désignant des rapports constants, et p seul restant

وهو ان لا يكون خط جـ اطول من الخط القوى على مكعب وهو اربعة *)
 اتساع ثلث مكعب اب وهو المضاف الى ثلث اب الزايد مربعا صلعه
 الزايد ثلثا اب Evidemment الناقص; comparer le pas-
 sage du texte cité ci-dessus.

variable, le volume d'un quelconque de ces parallépipèdes s'exprimera par $p^3 \cdot k$, k désignant une constante.

Maintenant déterminons p^3 en posant $p^3 \cdot k = V$; puis résolvons l'équation $(a-x)x^3 = p^3$ (résolution donnée par l'auteur dans son lemme); ayant déterminé x , prenons sur AB (fig. 35) un segment $DB = x$, et faisons le parallépipède BK semblable à P. On aura, volume de $BK = x^3 \cdot k$. Mais on voit que $BK : AK = BD : AD$; donc volume de $AK = (a-x) \cdot x^3 \cdot k = p^3 \cdot k = V$; ce qu'il s'agissait d'obtenir. —

Je ne m'arrêterai pas à faire remarquer comment les deux constructions données par l'auteur de ce morceau, des équations $(AB \pm x)x^3 = C^3$ (en désignant BD par x), sont exactement les mêmes que celles des équations n° 16 et 17 par Alkhayyâmî. Il suffira pour cela de jeter un coup d'œil sur les figures 20, 21 et 34.

Mais ce sur quoi j'appelle l'attention, c'est la limite énoncée dans ce morceau relativement à la solubilité de l'équation $(AB-x)x^3 = C^3$, c'est-à-dire de l'équation $x^3 + a = cx^3$. Car il n'y a pas d'ambiguïté à ceci : l'auteur déclare, avec une précision parfaite, que le lemme d'Archimède fut ramené par Almâhânt à une équation de la forme $x^3 + a = cx^3$, et que la résolution de cette équation que se proposa Almâhânt dépend à son tour du lemme résolu par l'auteur, c'est-à-dire de la construction de l'équation $(AB-x):C = C^3:x^3$. La relation qui exprime la limite de la solubilité d'un de ces problèmes enchaînés l'un à l'autre, est donc nécessairement censée être donnée en même temps pour les autres.

Or l'auteur énonce cette limite absolument comme les modernes, c.-à-d. qu'il l'exprime par la relation

$$C = \sqrt[3]{\frac{4}{27} AB} \quad \text{ou} \quad 27a = 4c^3.$$

Après avoir signalé ce fait, qui me paraît digne d'une attention particulière, je vais montrer comment les géomètres arabes pouvaient arriver à cette découverte.

Le lemme d'Archimède avait été résolu par Eutocius (*) sous la forme suivante : Déterminer sur une droite donnée AB un segment BE, tel que AE soit à une ligne donnée comme une surface donnée au carré de BE. Puis Eutocius avait remarqué et démontré que le produit de la surface donnée en la ligne donnée ne doit pas être plus grand que le produit AE.EB' lorsqu'on prend $BE = 2.EA$.

C'est par l'heureuse idée de substituer au produit des deux données linéaire et superficielle, le cube d'une seule ligne donnée, que le géomètre arabe est parvenu à l'expression moderne de cette limite.

Enfin je fais observer que ce qui dans la bouche d'Eutocius n'était qu'une propriété isolée d'un certain cas de géométrie, se changea entre les mains des Arabes en un théorème de la théorie des équations cubiques. Mais on verra dans la note suivante que ce n'est pas même à ceci que se borne le parti que les mathématiciens arabes ont tiré de ce problème d'Eutocius, dont ils ont su comprendre toute la portée. —

Ce morceau n'est précédé d'aucune indication de son auteur, et le texte même n'en contient pas non plus. La démonstration se termine exactement à la fin de la dernière ligne d'une page, et au-dessous du milieu de cette dernière ligne se trouvent les mots والحمد لله وحده (*Soli Deo gloria*), d'une écriture plus mince que le reste. La page suivante commence ainsi :

هذه المقدمة من استخراج الامتداد ابي سهل الكوهي
رضي الله عنه وأنا اعطت نسختها للشيخ ابي الجود رحمه الله

*) Archimède, éd. d'Oxf., p. 164 sqq.

تأمر رجلاً أن يصير ثلثه أعداداً مختلفية الأول أكثرها والثاني
وسطها والثالث أقلها ثم الخ

c'est-à-dire : « La résolution de cette proposition appartient au professeur Aboû Sahl Alqouhî, que Dieu lui soit favorable! et moi, j'en ai communiqué un exemplaire au chaikh Aboûl Djoûd, que Dieu soit miséricordieux envers lui! Propose à un homme d'imaginer trois nombres différents, de sorte que le premier soit le plus grand, le second moyen, et le troisième le plus petit. Ensuite, » etc.

De cette manière on ne sait pas si c'est le problème qui précède ou celui qui suit qui est attribué à Alqouhî. Malheureusement encore il ne se trouve dans le manuscrit qu'un fragment de ce problème arithmétique ou algébrique, dont l'énoncé commence avec la troisième ligne, ce qui ne permet pas de faire des conjectures sur son auteur.

Toutefois je suis porté à croire que les mots en question se rapportent au morceau précédent; en sorte que le mérite des découvertes dont je viens de rendre compte, appartiendrait à Alqouhî. Ce qui me fait adopter cette opinion, c'est exactement cette considération de limite, fondée sur le théorème d'Eutocius. Car on rencontrera dans la discussion d'un problème qui fait l'objet de l'addition suivante, et qui appartient indubitablement à Alqouhî, d'autres considérations de limites, fondées également sur le théorème d'Eutocius, et présentant ainsi une connexion intime avec le morceau en question.

Le catalogue de la bibliothèque de Leyde (1710, fol.), où ce morceau se trouve coté numéro 1100, porte : « Muh. Ibn Leith notæ ad commentariâ Mahanî in secundum librum Archimedis de sphæra et cylindro. »

Je ne sais pas sur quoi se fonde cette indication; mais la seule chose que je puisse affirmer avec certitude, c'est que ce

morceau ne peut pas avoir pour auteur Aboûl Djoûd Moham-
med Ben Allaïth. Car on voit que les erreurs commises par ce
géomètre dans la discussion de l'équation $x^3 + a = cx^2$, et
relevées par Alkhayyâmî (voir p. 43, 82 et 83 sqq.), portent
exactement sur la limite de la solubilité, tandis que le prin-
cipal mérite du morceau en question consiste à avoir énoncé
cette limite avec justesse et élégance. Et si les deux lignes du
manuscrit discutées ci-dessus se rapportent à ce morceau, de
sorte qu'une copie en ait été communiquée(*) à Aboûl Djoûd,
certainement cela doit avoir eu lieu après qu'il eut composé
le mémoire examiné par Alkhayyâmî.

C

« Au nom de Dieu clément et miséricordieux! »

« Je dis (**). Et Aboû Sahl Vidjan Ben Vastem Alqoûhî est
auteur d'un mémoire qu'il composa dans le but de combler la

*) On peut aussi entendre les mots *نسختها للشيخ الخ* ainsi : « on m'en a »
communiqué un exemplaire portant Aboûl Djoûd comme nom d'auteur. • Alors c'est une
contradiction d'un seul exemplaire avec l'assertion positive de la ligne précédente; et mes
arguments n'en subsistent pas moins.

**) On voit que ce n'est qu'une reproduction ou un extrait du traité original d'Alqoûhî. En-
effet, ce morceau, qui dans le ms. de la bibliothèque de Leyde est isolé, fait partie, dans le
ms. de la Bibliothèque nationale, d'une traduction ou plutôt d'une édition arabe du traité de la
sphère et du cylindre d'Archimède. Dans une courte préface, l'auteur, qui d'ailleurs ne se-
nomme pas, dit qu'il a fait cette édition 1° d'après un exemplaire de l'édition vulgaire de ce
traité, mal traduit d'abord, revu et corrigé ensuite par Thâbit Ben Korrah, duquel il s'est
efforcé d'éliminer les fautes qui s'y étaient glissées par l'ignorance du copiste; 2° d'après une
traduction du commentaire d'Eutocius, faite avec soin et intelligence par Ishâk Ben Honain,
auquel commentaire se trouvait entremêlé le texte du traité d'Archimède. De plus, il y était
joint séparément le texte du premier livre jusqu'à la quatorzième proposition, traduit de-
même par Ishâk. L'éditeur dit encore avoir donné des explications qui lui sont propres, et
avoir mis à contribution les ouvrages d'autres géomètres pour éclaircir les endroits dif-
ficiles; enfin il nous avertit que le nombre des propositions du premier livre, dans l'exem-
plaire de Thâbit, était quarante-huit; dans celui d'Ishâk, quarante-trois; et qu'il a jugé conve-
nable de joindre à la fin du traité le livre de la mesure du cercle par Archimède. — L'ouvrage
original d'Alqoûhî est mentionné dans le passage du *Qitâb Al-fihrist* cité ci-dessus (p. 55, l. 19).

lacune qui se trouve dans le second livre de l'ouvrage d'Archimède. Il a dit dans ce mémoire qu'il y a là trois constructions qui rentrent dans la même catégorie, dont la première est celle d'un segment de sphère qui, de deux autres segments de sphère, est égal à l'un et semblable à l'autre. La seconde, celle d'un segment de sphère dont la surface est égale à celle d'un autre segment de sphère, et qui est semblable à un second segment de sphère. La troisième, celle d'un segment de sphère égal à un autre segment de sphère, et dont la surface est égale à celle d'un second segment de sphère. Archimède résolut les deux premiers problèmes sans s'occuper du troisième, qui ne fut pas ajouté non plus aux deux autres par les géomètres qui lui succédèrent. Ensuite il (Alqouhî) en donna la construction et la démonstration de la manière suivante.»

Énonçons avec un peu plus de précision et puis examinons préalablement les trois problèmes en question.

- I. Construire un segment de sphère égal en volume à un segment de sphère donné, et semblable à un second segment de sphère donné. (Archim., Sph. et Cyl., II, 6.)
- II. Construire un segment de sphère égal en surface (*) à un segment de sphère donné, et semblable à un second segment de sphère donné. (Archim., Sph. et Cyl., II, 7.)
- III. Construire un segment de sphère égal en volume à un segment de sphère donné, et égal en surface à un second segment de sphère donné. (Alqouhî.)

Désignons le rayon de la sphère à laquelle appartient le segment qu'il s'agit de construire par r , la distance du plan coupant au pôle du segment par Δ , on aura :

$$I. \quad \frac{\pi}{3} \Delta^2 (3r - \Delta) = a, \quad \frac{\Delta}{r} = c \dots r = \sqrt[3]{\frac{3a}{\pi c^3 (3-c)}}, \quad \Delta = \sqrt[3]{\frac{3ac}{\pi (3-c)}}$$

*) Dans la surface du segment la base circulaire n'est pas comprise.

$$\text{II. } 2\pi \Delta r = b, \quad \frac{\Delta}{r} = c \dots \quad r = \sqrt{\frac{b}{2\pi c}}, \quad \Delta = \sqrt{\frac{bc}{2\pi}}$$

$$\text{III. } 1) \frac{\pi}{3} \Delta^3 (3r - \Delta) = a, \quad 2) 2\pi \Delta r = b.$$

Posons $\frac{a}{b} = a', \quad \frac{b}{\pi} = b'$; il suit

$$3) \Delta^3 - \frac{3}{2} b' \Delta + 3a' b' = 0, \quad 4) r^3 - \frac{b'}{4a'} r^2 + \frac{b'^2}{24a'} = 0.$$

Comme il faut exclure les valeurs négatives de r et de Δ , et parmi les valeurs positives celles qui rendraient $\Delta > 2r$ (*), on trouve :

- 1° Que le problème n'a de solution que tant que $b' \geq 18a'^2$;
- 2° Que lorsque $b' = 18a'^2$, le segment cherché est l'hémisphère (**);
- 3° Que pendant que $36a'^2 > b' > 18a'^2$, on obtient deux segments, dont l'un est plus et l'autre moins grand que la moitié de la sphère;
- 4° Que lorsque $b' = 36a'^2$, il existe deux solutions dont l'une donne une sphère entière, l'autre un segment dont la hauteur rapportée à l'unité du rayon est égale à 0,268 environ;
- 5° Enfin, que lorsque $b' > 36a'^2$, il n'y a qu'une seule solution et un seul segment plus petit que la moitié de la sphère.

Cet exposé rapide fait voir que le problème que se propose Alqouhî est d'une difficulté supérieure aux deux premiers résolus par Archimède. Ce n'est même que grâce à la forme particulière des équations 1) et 2), que le problème ne conduit

*) On discute facilement les deux équations proposées sous ce dernier rapport, en y substituant 1 à r , ce qui change la condition $b' > 18a'^2$ dans $4 > \Delta(3-\Delta)^2$, et en examinant ensuite, à l'aide du théorème de M. Sturm, le nombre des racines réelles de l'équation $\Delta^3 - 6\Delta^2 + 9\Delta - \epsilon = 0$ (où $4 > \epsilon > 0$) comprises dans les deux intervalles de 0 à +1 et de +1 à +2, en distinguant pour le second intervalle les cas $4 > \epsilon > 2$, $2 > \epsilon > 0$ et $\epsilon = 2$; dans ce dernier cas on aura $\Delta^3 - 6\Delta^2 + 9\Delta - 2 = (\Delta-2) \cdot (\Delta-2-\sqrt{3}) \cdot (\Delta-2+\sqrt{3})$.

**) Les deux équations se décomposent, en ce cas, de la manière suivante :

$$\left(\Delta - \sqrt{\frac{b'}{2}}\right)^2 \left(\Delta + \sqrt{2b'}\right) = 0 \quad \text{et} \quad \left(r - \sqrt{\frac{b'}{2}}\right)^2 \left(r + \frac{1}{4}\sqrt{2b'}\right) = 0.$$

pas à une équation du sixième degré. Or le géomètre arabe ne résout pas seulement le problème, mais il en discute encore les cas particuliers tout aussi complètement qu'on vient de le faire. Pour arriver à ce résultat, il s'y prend de la manière suivante:

Il construit deux cônes tels que le premier soit égal en volume au premier segment de sphère donné, et que le second ait pour hauteur et pour rayon de sa base une droite égale à la droite HN, menée du pôle du second segment de sphère donné à un point quelconque de la circonférence de sa base(*). En désignant les volumes de ces deux cônes par C et C' respectivement, on aura $HN = \sqrt[3]{b'}$ et

$$C = a, \quad C' = \frac{b'^{\frac{3}{2}}}{3\sqrt{\pi}}.$$

Ensuite il prend une ligne $BK = \frac{3}{2} \cdot \frac{C'}{C} \cdot HN = \frac{1}{2} \frac{b'}{a'}$ et une ligne

$S = HN \cdot \frac{C}{C'} = 3a'$. Avec ces données il construit deux coniques,

une *hyperbole équilatère*

$$x \cdot y = \overline{HN}^2$$

et une *parabole*

$$y^2 = (BK - x)S.$$

L'intersection de ces deux coniques a pour ordonnée la hauteur du segment qu'il s'agit de construire, et pour abscisse le diamètre de la sphère à laquelle ce segment appartient (**).

Ce qu'il y a de remarquable ici, c'est la construction simultanée de deux équations renfermant deux inconnues, par l'intersection de deux coniques. Mais passons à la discussion, bien plus intéressante, que le géomètre arabe fait des cas particuliers.

*) On voit aisément que la longueur de cette droite est constante pour tous les segments de sphère égaux en surface.

**) En effet, en éliminant alternativement x et y entre les équations des deux sections coniques, après y avoir substitué à HN, BK, S leurs valeurs en a' et b' , on aura

$$5) \quad y^3 - \frac{8}{3} b' y + 3a' b' = 0, \quad 6) \quad x^3 - \frac{b'}{2a'} x^2 + \frac{b'^2}{3a'} = 0.$$

Ces équations, comparées aux équations 3) et 4), montrent immédiatement que y répond à Δ et x à $2r$.

Alqôhî distingue ces cas suivant les différentes valeurs que peut prendre le rapport $\frac{C'}{C}$, à savoir :

$$\frac{C'}{C} \leq \frac{\sqrt{2}}{1}, \quad \frac{\sqrt{2}}{1} < \frac{C'}{C} < \frac{2}{1}, \quad \frac{C'}{C} \geq \frac{2}{1};$$

ce qui équivaut à

$$b' \leq 18a'^2, \quad 18a'^2 < b' < 36a'^2, \quad b' \geq 36a'^2.$$

Il démontre d'abord d'une manière rigoureuse, par la considération de la tangente commune, qu'au cas du contact des deux coniques on a $\frac{C'}{C} = \frac{\sqrt{2}}{1}$; ensuite qu'on a généralement

$\left(\frac{C'}{C}\right)^2 = \frac{(2r)^2}{\Delta(3r-\Delta)^2}$, et que le dénominateur de cette dernière expression devenant un maximum au cas du contact, puisque alors $\Delta = r$, la valeur $\frac{\sqrt{2}}{1}$ correspondant au cas du contact

sera la valeur minimum du rapport $\frac{C'}{C}$, et la limite qu'il ne peut pas surpasser en petitesse.

Il démontre ensuite, d'une manière non moins rigoureuse et non moins purement géométrique, que tant que $\Delta > r$, on aura $\frac{C'}{C} < \frac{2r}{r}$; d'où il suit que lorsque le segment qu'il s'agit de construire doit être plus grand que l'hémisphère, le rapport donné $\frac{C'}{C}$ a pour limite supérieure $\frac{2}{1}$.

L'auteur constate encore que lorsque le segment est plus petit que l'hémisphère, le rapport $\frac{C'}{C}$ n'a pas de limite supérieure, et que de ce qui précède il suit qu'aux valeurs de $\frac{C'}{C}$

comprises entre $\frac{\sqrt{2}}{1}$ et $\frac{2}{1}$ peuvent correspondre des segments dans les deux moitiés de la sphère.

Mais le passage qui se rapporte à cette discussion me semble trop important pour que je puisse, malgré sa longueur, me dispenser d'en donner la traduction textuelle.

Après avoir terminé l'analyse (*) du problème, l'auteur s'exprime ainsi :

« Et nous disons : Le rapport du cône de la surface au cône du segment (**) ne peut pas être un rapport quelconque, mais il existe nécessairement pour lui une limite de petitesse qu'il ne surpassera pas, et qui correspond au contact des deux sections coniques en M (fig. 36). Menons (en ce cas) la droite OML touchant les deux sections coniques et passant par leur point de contact. A cause de l'hyperbole on aura OM égale à ML, comme c'est démontré dans la troisième proposition du deuxième livre du traité des Sections Coniques (***) ; donc, parce que DM et BO sont parallèles, LD sera égale à DB, c'est-à-dire au diamètre de la sphère. Et parce que ML est tangente à la parabole, LK sera égale à KD, en vertu de ce qui est démontré dans la trente-troisième proposition du premier livre du même traité (****) ; conséquemment DK sera égale au rayon de la sphère, et le point K coïncidera avec le point E (*****). Mais on vient d'expliquer ci-dessus que le rapport du cône de la surface au cône du segment est égal au rapport du rectangle

*) Dans l'acception ancienne de ce mot.

**) C'est ainsi que l'auteur nomme les deux cônes dont nous avons désigné les volumes par C' et C respectivement.

***) Apollon., éd. d'Oxf., page 108.

****) Apollon., éd. d'Oxf., page 59.

*****) On avait déterminé le point E en prenant sur le prolongement du diamètre BD, à partir du point D, un segment DE égal au rayon.

AB en BK au rectangle BZ en BE (*), c'est-à-dire BZ en BK, qui est égal au rapport de AB à BZ. Le rapport de ces cônes étant égal aussi au rapport de AB à S (**), on aura BZ, c'est-à-dire DM égale à S; et le rectangle S en DK étant égal au carré de DM (***), DK sera égale à DM, c'est-à-dire à BZ; d'où il suit que BZ et pareillement AZ seront égales au rayon de la sphère. Le rapport du cône de la surface au cône du segment, qui est égal au rapport de AB à BZ, sera donc en ce cas égal au rapport qui multiplié en lui-même produit le rapport de deux à un, parce que le rapport de AB à BZ multiplié en lui-même est égal au rapport de DB à BZ. Ce rapport, qui multiplié en lui-même est égal au rapport de deux à un, est le rapport de deux à sa racine, ou le rapport de la racine de deux à l'unité. Le rapport dont il s'agit (****) ne peut donc pas être plus petit que cela; car le rapport du rectangle AB en BD au rectangle BZ en ZE, qui est égal au rapport du cône de la surface au cône du segment (****), est composé du rapport de AB à BZ, c'est-à-dire du rapport de DB à BA, et du rapport de BD à ZE; de sorte qu'il est égal au rapport du carré de BD au rectangle AB en ZE. Prenant BD comme hauteur commune, le rapport du cône de la surface au cône du

*) $\frac{C'}{C} = \frac{AB \cdot BK}{BZ \cdot BE}$; on vérifie cela aisément au moyen des relations proposées ci-dessus, page 106.

**) Voyez page 106, ligne 14, et la première note de la même page.

***) A cause de la parabole; voir page 106, lig. 16.

****) $\frac{C'}{C}$.

*****) Dans ce qui précède, l'auteur avait obtenu cette relation de la manière suivante. En prenant un segment TZ tel que TZ : BZ = (DE + DZ) : DZ, il avait (voir Archim., Sph. et Cyl.

II, 3, éd. d'Oxf., page 150) $C = \frac{\pi}{3} TZ \cdot \overline{AZ}$; d'un autre côté, il avait $C' = \frac{\pi}{3} AB \cdot \overline{AB}$. Mais

$\overline{AB} : \overline{AZ} = \overline{DB} : \overline{DA} = DB : DZ$, donc $\frac{C'}{C} = \frac{AB \cdot DB}{TZ \cdot DZ}$; et puisqu'il avait fait TZ . DZ = BZ . ZE, il suit : $\frac{C'}{C} = \frac{AB \cdot DB}{BZ \cdot ZE}$; c. q. f. d.

segment sera égal au rapport du cube de BD au solide AB en ZE en BD : en même temps, donnant aux rectangles AB en BD, et BZ en ZE, la hauteur commune ZE, on aura le rapport du cône de la surface au cône du segment égal au rapport du solide AB en BD en ZE au solide ligne BZ en carré de EZ; donc, *ex æquo*, le rapport du cube de BD au solide ligne BZ en carré de ZE, égal au rapport du cône de la surface au cône du segment multiplié en lui-même (*). Mais le solide ligne BZ en carré de ZE est un maximum lorsque BZ est la moitié de ZE, comme il est démontré dans ce que nous avons rapporté (**) suivant Eutocius, à l'aide des sections coniques; cependant nous en donnerons plus tard une démonstration indépendante des sections coniques. Le rapport du cube de BD au solide ligne BZ en carré de ZE est donc un minimum lorsque BZ est égale au rayon de la sphère; et si le cône de la surface est considéré comme invariable, le segment sera un maximum en ce cas. »

« Relativement à la grandeur, le rapport dont il s'agit n'aura pas de limite lorsque le segment est plus petit que la moitié de la sphère. »

« Lorsque, au contraire, le segment est plus grand que la moitié de la sphère (***), ce rapport ne peut pas être plus grand

*) Voici le raisonnement de l'auteur :

$$\frac{C'}{C} = \frac{AB}{BZ} \cdot \frac{BD}{ZE} = \frac{DB}{AB} \cdot \frac{BD}{ZE} = \frac{\overline{BD}^3}{AB \cdot ZE \cdot BD}$$

et en même temps $\frac{C'}{C} = \frac{AB \cdot BD \cdot ZE}{BZ \cdot ZE^2}$, donc $\left(\frac{C'}{C}\right)^2 = \frac{\overline{BD}^3}{BZ \cdot ZE}$

**) Je rappelle que ce morceau faisait partie d'une édition arabe du traité de la sphère et du cylindre, en sorte qu'il avait été précédé de la cinquième proposition du second livre, et du commentaire d'Eutocius qui s'y rapporte. Voir la démonstration donnée par Eutocius, éd. d'Oxf., page 166, ligne 25 du texte grec, sqq.

***) Supposant $BZ > r$, on aura $AB \cdot BD < \overline{BD}^2$; donc 1) $\frac{AB \cdot BD}{BZ \cdot ZE} < \frac{\overline{BD}^2}{BZ \cdot ZE}$; en même temps $BZ \cdot ZE > BD \cdot DE$, donc 2) $\frac{\overline{BD}^2}{BZ \cdot ZE} < \frac{\overline{BD}^2}{BD \cdot DE} = \frac{BD}{DE}$; de 1) et 2) il suit $\frac{C'}{C} < \frac{BD}{DE} = \frac{2}{1}$.

que celui de deux à un. Car le rectangle AB en BD est plus petit que le carré de BD; conséquemment le rapport du rectangle AB en BD au rectangle BZ en ZE, sera plus petit que le rapport du carré de BD au rectangle BZ en ZE; Z étant (en ce cas) plus voisin du milieu de BE que D, le rectangle BZ en ZE sera plus grand que le rectangle BD en DE, et le rapport du carré de BD au rectangle BZ en ZE plus petit que le rapport du carré de BD au rectangle BD en DE. Conséquemment le rapport du rectangle AB en BD au rectangle BZ en ZE, c'est-à-dire le rapport du cône de la surface au cône du segment plus petit de beaucoup que le rapport du carré de BD au rectangle BD en DE, c'est-à-dire que le rapport de BD à DE, qui est égal au rapport de deux à un. Le rapport de deux à un est donc la limite que ce rapport $\left(\frac{C'}{C}\right)$ ne peut pas surpasser en

grandeur; et si nous considérons le cône de la surface comme invariable, le segment sera un minimum en ce cas. »

« De ce que nous venons de dire, il résulte que le rapport de deux à sa racine est le minimum de tous les rapports qui ont lieu dans la sphère entre le cône de la surface et le cône du segment; que les rapports compris entre lui et le rapport de deux à un peuvent correspondre à des segments dans les deux moitiés de la sphère; et que des rapports de deux à une quantité plus petite que l'unité, aucun ne correspond à la partie qui est plus grande que la moitié, mais qu'ils appartiennent tous exclusivement à la partie qui est plus petite que la moitié. »

Cette discussion est suivie de la synthèse du problème et de la démonstration de la synthèse. Celle-ci terminée, l'auteur considère une seconde fois les cas particuliers; je reproduis textuellement le passage qui contient cette seconde discussion,

ou plutôt ce résumé, dans lequel l'auteur établit parfaitement les mêmes catégories auxquelles on a été conduit ci-dessus (pag. 105) par les méthodes modernes.

« De ce que nous avons dit, il résulte que lorsque le rapport mentionné (*) est plus petit que le rapport de deux à sa racine, le problème ne peut pas avoir de solution ; mais lorsqu'il n'est pas plus petit que cela, la solution est possible. »

« D'abord, s'il est égal au rapport de deux à sa racine, les deux sections coniques se touchent uniquement au point M ; le segment cherché est égal à la moitié de la sphère, et pas à autre chose, et les deux points E, K deviennent identiques. »

« Lorsqu'il est plus grand que le rapport de deux à sa racine, et plus petit que le rapport de deux à un, les deux sections coniques se coupent en deux points ; et lorsque de ces deux points deux perpendiculaires sont abaissées sur BK, les deux abscisses correspondant aux deux perpendiculaires sont justes toutes les deux, et seront diamètres de la sphère. Pour l'une d'elles le segment cherché est plus petit que la moitié de la sphère, et c'est le cas lorsque la perpendiculaire qui détermine le diamètre de la sphère est abaissée de celui des deux points d'intersection qui est le plus éloigné du point B ; le point E en ce cas est situé en dehors de la ligne comprise entre les deux points B et K. Relativement à l'autre, le segment sera plus grand que la moitié de la sphère, et c'est le cas lorsque la perpendiculaire dont il s'agit est abaissée du point d'intersection le plus voisin de B ; le point E en ce cas est situé entre les deux points B et K. »

« Lorsque ce rapport est égal au rapport de deux à un, l'abscisse déterminée sur BK par la perpendiculaire la plus voi-

*) $\frac{c}{c}$.

sine de B, est égale à AB, et le segment est le plus grand de tous ceux qui existent sur la sphère. Quant à l'abscisse déterminée par la perpendiculaire la plus éloignée, le segment cherché de la sphère qui lui correspond est plus petit que la moitié, et la flèche du segment est un huitième à peu près du diamètre de la sphère, ou plutôt plus grande (*) que cela d'une petite quantité, ce qu'on détermine à l'aide de l'istikrà (**) et du calcul. »

« Enfin lorsqu'il est plus grand que le rapport de deux à un, la partie de BK coupée par la perpendiculaire la plus voisine n'est plus juste, parce qu'elle doit représenter le diamètre de la sphère, et que pourtant AB serait plus grande qu'elle ; au contraire, la partie coupée par la perpendiculaire la plus éloignée de B est seule juste à cause de cela ; le segment (qui lui correspond) sera plus petit que la moitié (de la sphère), et sa flèche plus petite que le rayon (***). »

« Dans tous les cas, AB sera invariable. »

Voici enfin la démonstration élémentaire du théorème d'Eutocius, que l'auteur avait annoncée ci-dessus (pag. 110, lig. 12), et qu'il donne en effet de la manière suivante.

Il prend sur la droite AC (fig. 37) un point B, de sorte que $AB = \frac{BC}{2}$, et prolonge AC d'une partie $CE = BC$. Puis, en prenant un point D situé 1° entre A et B, 2° entre B et C, il démontre que dans les deux cas on aura $AB \cdot \overline{BC} > AD \cdot \overline{DC}$.

Premier cas. On a $AB:BC = BC:BE$, donc $AB \cdot BE = \overline{BC}^2$. Mais $AB \cdot BE > AD \cdot DE$ (parce que B est plus voisin du milieu de AE que D). Conséquemment

*) Les deux manuscrits portent « plus petit, » et le manuscrit parisien, au lieu de ثمن « un huitième », porte ثلث « un troisième ».

**) Ici ce terme me paraît indiquer des essais successifs, une sorte d'interpolation. (Voir la note de la page 10.)

***) Les deux manuscrits portent نصف القطر « le diamètre », au lieu de نصف القطر.

$$\frac{ED \cdot DB}{ED \cdot AD} > \frac{ED \cdot DB}{\overline{BC}} \quad \text{ou} \quad \frac{BD}{DA} > \frac{ED \cdot DB}{\overline{BC}},$$

d'où il suit

$$\frac{AB}{AD} > \frac{ED \cdot DB + \overline{BC}}{\overline{BC}} = \frac{\overline{DC}}{\overline{BC}} \quad (\text{Eucl., Élé., II, 6});$$

donc $AB \cdot \overline{BC} > AD \cdot \overline{DC}$, c. q. f. d.

Second cas. $AB \cdot BE = \overline{BC} < AD \cdot DE$,

$$\frac{BD \cdot DE}{\overline{BC}} > \frac{BD \cdot DE}{AD \cdot DE} = \frac{BD}{DA}; \quad \text{donc} \quad \frac{\overline{BC}}{BD \cdot DE} < \frac{AD}{DB};$$

conséquemment

$$\frac{\overline{DC}}{BD \cdot DE} < \frac{AB}{BD} \quad \text{ou} \quad \frac{BD \cdot DE}{\overline{DC}} > \frac{BD}{BA};$$

d'où il suit

$$\frac{\overline{BC}}{\overline{DC}} > \frac{DA}{AB} \quad \text{ou} \quad AB \cdot \overline{BC} > AD \cdot \overline{DC}, \quad \text{c. q. f. d.}$$

D

Problème résolu par Aboûl Djoûd Mohammed Ben Allaïth, et proposé à ce géomètre par Aboûl Rihân Mohammed Ben Ahmed Albîrouni (*).

Étant donnés une droite BC (fig. 38) et un point A, mener de A à BC une droite AD telle qu'on ait $AD \cdot BC + \overline{BD} = \overline{BC}$.

Aboûl Djoûd fait WB perpendiculaire et égale à BC, et construit une *parabole* dont W est le sommet, WB l'axe et BC le paramètre. Ensuite il abaisse de A sur BC une perpendiculaire AL, et fait passer par A une *hyperbole équilatère* ayant son sommet en A, son axe sur le prolongement de LA et son paramètre égal

جواب الشيخ الفاضل انى الجود محمد بن الليث ايدى الله عاى ساه
عنه الاح الفاضل ابو الرحمان محمد بن احمد السرونى
Albîrouni ramena à ce problème la trisection de l'angle; voir p. 119, l. 10.

à 2. AL. Le pied de la perpendiculaire abaissée du point d'intersection Z des deux coniques, sera le point D qu'il s'agit de déterminer.

Je ne reproduis pas les raisonnements de l'auteur, qui n'offrent rien de particulièrement remarquable, et je me borne à vérifier le résultat énoncé.

Désignons AL, CL, BC par a , b , c respectivement; prenant C pour origine des coordonnées, l'équation de la parabole sera $(c-x)^2=c.(c-y)$, celle de hyperbole $y^2-(x-b)^2=a^2$. Mais cette dernière équation exprime que $AD=y$, de sorte qu'en vertu de l'équation de la parabole on aura $\overline{BD}^2=BC(BC-AD)$, ce qu'il s'agissait d'obtenir.

J'observe encore que l'auteur démontre: 1° que si les deux coniques se rencontrent en deux points, les deux perpendiculaires abaissées des deux points d'intersection déterminent sur BC deux points satisfaisant tous les deux à la condition proposée; 2° qu'il peut arriver que de toutes les lignes plus petites que BC(*) et menées de A à BC, aucune ne satisfasse à la condition voulue, et que c'est le cas lorsque les deux sections coniques ne se rencontrent pas, parce qu'alors on aura $AD.BC + \overline{BD}^2 > \overline{BC}^2$.

Solution anonyme du problème suivant, dont l'auteur dit que « depuis un certain temps les algébristes et les géomètres se sont proposé mutuellement ce problème, sans que ni les uns ni les autres en aient donné une solution satisfaisante. »

Construire un trapèze ABCD (fig. 39) de telle sorte que chacun des côtés AB, AD, BC soit égal à 10, et que l'aire de la figure soit égale à 90.

L'auteur montre expressément que ce problème dépend

*) L'équation de la parabole montre immédiatement qu'il doit être $y < c$ ou $AD < BC$.

d'une équation du quatrième degré; il prend pour cet effet $DK=x$ (AK étant la perpendiculaire abaissée de A sur le prolongement de CD), d'où il suit $(AB-x) \cdot AK=90$, donc $(AB-x)^2 \cdot \overline{AK}^2=90^2$; mais $AB=10$ et $\overline{AK}^2=10^2-x^2$ conséquemment $(10-x)^2 \cdot (100-x^2)=8100$ ou $x^4+2000x=20x^2+1900$ (*).

Puis il construit le problème de la manière suivante. Il prend $AB=10$, et fait EB perpendiculaire à AB et égale à $\frac{9}{10} AB$ (**); ayant complété le rectangle BZ, il fait passer par E une *hyperbole* ayant BA, AZ pour asymptotes. Un *cercle* décrit du centre B et du rayon BA coupera l'hyperbole, parce que $AB > BE$. Menons la droite $BC=AB$, et construisons un angle $BAD=ABC$ en faisant $AD=BC$. Alors ABCD sera le trapèze demandé (***). En effet, en abaissant la perpendiculaire CL sur AB on aura triangle CBL égal et semblable à triangle ADK, donc $ABCD=ALCK$; mais en vertu de l'hyperbole on a $ALCK=ABEZ$, donc $ABCD=ABEZ=AB \cdot EB=90$.

وإذا جبر وقابل صار المال مال والالفا الحدر بعدل عشرين مكعباً *)
والفا وسع مائة واحد

**) C'est-à-dire on prendra BE égale au rapport de l'aire donnée à la droite donnée.

***) Désignant la longueur de AB par a , l'aire donnée par b^2 , l'équation qu'il s'agit de construire sera $x^4 - 2ax^3 + 2a^2x - a^4 + b^4 = 0$ ou $(a-x)^2(a^2-x^2) = b^4$. Prenant B pour origine des coordonnées, l'équation de l'hyperbole sera $(a-x)y = b^2$, celle du cercle $x^2 + y^2 = a^2$; ces deux courbes construisent donc, en effet, le problème.

E

TRAITÉ DE LA TRISECTION DE L'ANGLE RECTILIGNE,

PAR

Abou Saïd Ahmed Ben Mohammed Ben Abd Aldjalll Alsidsjt (*).

L'auteur commence par une dédicace de quelques lignes; ensuite il dit :

« Malgré le désir ardent qui animait les anciens à résoudre ce problème, et malgré le grand nombre de ceux qui l'abordèrent d'une manière persévérante, aucun d'eux n'y a réussi, jusqu'à ce que dans les jours d'Almamoûn, le commandeur des croyants, il fut résolu par Thâbit Ben Korrah Alharrâmi et ensuite par Abou Sahl Alqouhî (**). Et rien de ce qui se rapportât à ce problème ne fut résolu par aucun ni des an-

*) Voir le *Loubb Alloubdb*, éd. de Veth., vol. I, page 117. — La Bibliothèque nationale possède un manuscrit écrit presque entièrement de la main de ce géomètre à Chirâz, pendant le cours de l'année 358 de l'hégire, ainsi que l'attestent les post-scriptum ajoutés à la fin de plusieurs des morceaux qui composent ce manuscrit.

**) On sait qu'il se trouve dans les collections mathématiques de *Pappus* (voir liv. IV, prop. 31 à 34, et particulièrement la remarque introductive, fol. 61, r. de l'éd. de Venise de 1589) deux solutions de la trisection de l'angle. L'angle BAD (fig. 40) étant celui qu'il s'agit de diviser, la première solution consiste à compléter le rectangle DF, à faire passer par D une hyperbole ayant AF, FB pour asymptotes, à couper cette hyperbole par un cercle décrit du centre D et d'un rayon égal au double de AB, et à mener AC parallèle à la droite

qui joint D au point d'intersection du cercle et de l'hyperbole. On aura angle DAC = $\frac{1}{3}$ DAB.

L'autre solution consiste à combiner l'hyperbole dans laquelle le rapport du paramètre au grand axe est égal à 3, avec un cercle ayant pour corde la distance de l'un des foyers au sommet de la branche opposée, et dans lequel cette distance sous-tend un angle à la circonférence égal à celui qu'il s'agit de diviser. L'arc de cercle compris entre ledit foyer et le point d'intersection des deux courbes sous-tend un angle à la circonférence qui est le tiers de l'angle donné.

La première de ces deux solutions ressemble parfaitement à ce que l'auteur rapporte de celle qu'il attribue à Thâbit Ben Korrah, auquel, ainsi qu'à son maître Mohammed Ben Moça Ben Châqir, les ouvrages des mathématiciens grecs n'étaient rien moins qu'inconnus. C'est donc à ceux-ci que Thâbit pourrait avoir emprunté sa solution.

Quoi qu'il en soit, on n'est du moins nullement en droit de soupçonner la bonne foi de l'auteur du traité actuel en ce qu'il dit dans cet avant-propos; d'autant moins que, plus bas, il attribue expressément une des solutions qu'il énumère aux « anciens », c'est-à-dire aux Grecs, et que les solutions qu'il donne comme siennes sont, en effet, originales, et entièrement indépendantes de celles proposées par Pappus.

ciens ni des modernes, à l'exception de ces deux géomètres.»

« Or moi, je l'ai résolu d'une manière plus élégante, j'en ai donné une démonstration plus évidente et une construction plus facile et plus immédiate; de sorte qu'on est en état de résoudre une suite de propositions, chacune desquelles peut être ramenée à la trisection d'un angle, et dont aucun des anciens n'avait réussi à donner des solutions fondées sur des démonstrations géométriques. Tout cela, je l'ai réuni dans ce morceau...»

« Commençons donc par les propositions que les anciens et les modernes ont ramenées, au moyen de la méthode de l'analyse, à la trisection d'un angle rectiligne. Puis faisons suivre la démonstration de ce que moi seul j'ai réussi à découvrir. Enfin démontrons chacune de ces propositions. »

Proposition de Thâbit Ben Korrah Alharrânt.

Que l'angle donné soit DAB (fig. 40). Menons d'un point quelconque B d'un de ses côtés, BD perpendiculaire à AD et BC parallèle à AD, puis menons de A une transversale AEC en sorte que $CE = 2 \cdot AB$, on aura angle $DAC = \frac{1}{3} DAB$.

Proposition d'Aboû Sahl Alqôhî.

Que l'angle donné soit CBE (fig. 41). Prenons sur le prolongement du côté EB deux points A, D, et sur l'autre côté un point C, en sorte que

$$1) AD = DC, \quad 2) AB : BC = BC : BD.$$

Menant BP parallèle à DC, on aura angle $CBP = \frac{1}{3} CBE$.

Proposition d'Aboûl Haçan Alchamst Alharawî ().*

Que l'angle donné soit ABC (fig. 42); construisons le triangle

*) Voir Casiri, vol. I, page 426.

isocèle ABC et abaissons sur sa base la perpendiculaire AZ; menons de C la transversale CED en sorte que $ED = DB$, on aura angle $EBC = \frac{1}{3} ABC$.

Propositions proposées par Abouï Rthân (Albtroúnt).

Première. Mener dans le triangle isocèle ABC (fig. 43) une droite AD, de sorte qu'en faisant $AE = AD$ et menant ED on ait $AB : BD = AD : DE$, ce qui revient à faire angle $BAD = \frac{1}{3} BAC$ (*).

*Seconde (**).* Étant donnés un cercle et une corde AB (fig. 44), mener un rayon EDC, de sorte qu'on ait $AC = AD$.

Troisième. Étant donné un angle ABC (fig. 45) et sur ses deux côtés deux segments égaux BA, BC, mener de C une droite CD telle qu'on ait $CD \cdot AB + \overline{BD}^2 = \overline{AB}^2$. Cela revient à la trisection de l'angle complémentaire HBC, car en prolongeant HB et CD jusqu'à leur point d'intersection T on aura angle $HTC = \frac{1}{3} HBC$ (***)).

*Proposition d'Abouï Hâmid Alsagânt (****).*

Prenons un segment de cercle ABC (fig. 46) contenant le supplément de l'angle qu'il s'agit de diviser, et déterminons sur la circonférence de ce segment un point B et sur le prolongement de CA un point D en sorte qu'on ait $BC = BD$, $AB = AD$. On aura angle $ACB = \frac{1}{3} CBE$.

*) On le démontre en faisant passer par E une droite parallèle à BC, et par E, D et le point d'intersection de cette parallèle avec AC, une circonférence de cercle décrite du centre A.

**) نتیجه هذه المسئلة بعينها هي « c'est une suite immédiate de la première ».

***) On a (Euclide, Éléments, II, 5) $\overline{AB}^2 = \overline{DB}^2 + AD \cdot DZ = \overline{DB}^2 + CD \cdot DE$; mais on avait fait $\overline{AB}^2 = \overline{DB}^2 + CD \cdot AB$, donc $DE = AB = BE$, et conséquemment $TE = BE$.

****) Voir Casiri, vol. I, page 410.

Proposition résolue par un des anciens au moyen de la règle et de la géométrie mobile, mais que nous devons résoudre au moyen de la géométrie fixe.

Étant donnés un cercle et l'angle au centre ACD (fig. 47), mener de D une transversale DHZ coupant le prolongement du diamètre ACB au point Z, de sorte que $HZ = AC$. On aura angle $DZA = \frac{1}{3} DCA$ (*).

Proposition résolue par nous.

Ayant mené dans un demi-cercle une corde BC (fig. 48) renfermant avec le diamètre BA l'angle qu'il s'agit de diviser, mener un rayon DE tel qu'en faisant EZ parallèle à BC on ait $BZ \cdot ZD = \overline{ZE}^2$. On aura angle $ABE = \frac{1}{3} ABC$ (**).

Proposition que j'ai découverte, et au moyen de laquelle j'ai démontré les autres propositions mentionnées.

Étant donné l'angle KCD (fig. 49), prenons sur les côtés de l'angle supplémentaire des segments égaux CD, CA, et menons de D une droite DE, de sorte qu'on ait

$$1) \quad DE \cdot EC + \overline{EC}^2 = \overline{CD}^2.$$

Décrivant un cercle du centre C et du rayon CA, on aura $\overline{CD}^2 = \overline{AC}^2 = \overline{EC}^2 + AE \cdot EK = \overline{EC}^2 + DE \cdot EM$; mais on avait fait $\overline{CD}^2 = \overline{EC}^2 + DE \cdot EC$, donc $EC = EM$; d'où il suit immédiatement que les angles M ou D sont chacun un tiers de l'angle donné KCD.

*) Le procédé de la « géométrie mobile » consiste à faire pivoter autour du point D une règle divisée en parties aliquotes du rayon, jusqu'à ce que le nombre des parties interceptées entre la circonférence du cercle et le prolongement de AB soit égal au nombre de ces parties qui correspond à la longueur du rayon. Comparer *Archimède*, Lemmes, prop. 8, éd. d'Oxf. p. 358. — Cette proposition est essentiellement la même que la troisième d'Albifront.

**) C'est absolument la même chose que la proposition d'Algothi.

Voici maintenant le procédé employé par l'auteur pour obtenir la relation 1). Il dit :

voir fig. 50

« Construisons une hyperbole (fig. 50) ayant son sommet au point C, équilatère, dont le grand axe soit égal à CA et l'angle des ordonnées égal à l'angle C, conformément à la.... proposition du premier livre des Coniques d'Apollonius (*). Ce sera la courbe BC. Faisons $BC=CD$ (**) et DE parallèle à BC. Je dis qu'on aura $DE \cdot EC + \overline{EC}^2 = \overline{CD}^2$ »

« *Démonstration.* Menons l'ordonnée BZ, on aura $AZ \cdot ZC = \overline{ZB}^2$. Mais $AZ \cdot ZC = AC \cdot CZ + \overline{CZ}^2 = BC \cdot CZ + \overline{CZ}^2$; donc $BC \cdot CZ + \overline{CZ}^2 = \overline{BZ}^2$. Or les triangles BCZ et DEC étant semblables, leurs côtés seront proportionnels, de sorte que $DE \cdot EC + \overline{EC}^2$ est à \overline{DC}^2 comme $BC \cdot CZ + \overline{CZ}^2$ à \overline{BZ}^2 . Mais alors $DE \cdot EC + \overline{EC}^2$ sera égal à \overline{CD}^2 , ce qu'il s'agissait de démontrer. »

Voici maintenant comment l'auteur ramène effectivement à cette proposition toutes les précédentes :

1. *Troisième proposition d'Aboul Rthdn.*

Après avoir fait $EM=EC$ (fig. 51), menons de M au prolongement du diamètre une droite MZ égale au rayon, et menons ZD, TC. On aura triangle DCM égal et semblable à triangle CMZ; donc MC parallèle à ZD, et angle $MZD = \text{angle } CDZ = \text{angle } CTD$, conséquemment aussi MZ parallèle à CT, donc $ZT = MC = CT$, de sorte que dans le triangle rectangle ZCT on aura $ZT = TC = TL$; mais c'est à cela que se ramenait cette proposition d'Albiroûni (voir la note à cette proposition).

2. *Proposition de Thâbit.*

Après avoir fait $EM=EC$ (fig. 51), menons de D une droite

*) La proposition dont il s'agit, et dont le nombre est laissé en blanc dans le manuscrit, est la cinquante-troisième, édition d'Oxf., page 91.

**) Cela revient à combiner avec l'hyperbole un cercle décrit du centre C et du rayon CD.

DLTZ parallèle à MC; de ce qui précède il suit qu'on aura $LZ = 2 \cdot DC$; mais c'est à quoi se ramenait, dans la proposition de Thâbit, la trisection de l'angle CDN.

3. *Seconde proposition d'Abou'l Rthân.*

Après avoir fait $EM = EC$ (fig. 51), qu'on mène le diamètre MCF et les cordes DQK, FK. On aura angle $FKD =$ angle $DMF =$ angle $ECM =$ angle KCF ; angle $QFK =$ angle KFC ; donc triangle FKQ semblable à triangle FCK . Mais c'est à cela que se ramenait cette proposition.

4. *Première proposition d'Abou'l Rthân.*

C'est-à-dire mener dans le triangle isocèle DCK (fig. 51) une droite CQ telle, qu'en faisant $CX = CQ$ on ait $CK : KQ = CQ : QX$. De la similitude des triangles FKQ , FCK il suit $KQ = KF$, de sorte qu'en menant QX parallèle à KF , on aura $CQ : QX = CF : FK = CK : KQ$.

5. *Proposition d'Alchamst.*

Pour mener dans le triangle isocèle CFK (fig. 52) la transversale FQZN, de sorte que $ZQ = ZK$, décrivons un cercle du centre C et du rayon CF, prolongeons les rayons KC, FC jusqu'à A et D, et faisons $EM = EC$; de M menons le diamètre MN, on aura obtenu le point N qu'il s'agissait de déterminer. En effet, en comparant les différents angles à la circonférence et au centre, on trouve aisément qu'on a $ZKQ = DFN = 2 \cdot NFK$; mais aussi $ZQK = 2 \cdot NFK$, donc $ZQ = ZK$, ce qu'il s'agissait d'obtenir.

6. *Proposition d'Alqouht.*

Faisons KCD (fig. 53) égal à l'angle donné; puis faisons $EM = EC$, et menons CS parallèle à MD et SO parallèle à DC. On avait $\overline{CD} = DE \cdot \overline{EC} + \overline{EC}$, conséquemment $\overline{OS} = SC \cdot CO + \overline{CO} = AO \cdot CO$; donc $AO : OS = OS : CO$, ce qu'il s'agissait d'obtenir.

7. *Proposition d'Alsagant.*

Exécutons d'abord la construction de la figure 49, en prenant KCD égal à l'angle donné; ensuite faisons dans le segment donné (fig. 46) l'angle ACB égal à l'angle EDC de la figure 49, et prenons $BD = BC$. On aura alors $AB = AD$, parce que les triangles BCD, DAB de la figure 46 seront semblables aux triangles CDM, MEC de la figure 49.

Démonstration de la première des propositions d'Aboul Rthân d'une autre manière singulière de notre invention.

« L'angle aigu ABC (fig. 54) étant donné, dont le côté BC est prolongé indéfiniment, mener une droite telle que AC, de sorte que, si l'on mène CD de manière à faire $AD = AC$, on ait $AB : BC = AC : CD$. »

« Construisons une hyperbole ayant son sommet au point B, son grand axe égal à BA, équilatère, et ayant l'angle des ordonnées égal à l'angle B. Ce sera la conique BE'. Puis décrivons du centre A et du rayon AB un arc de cercle BE'. Il coupera nécessairement l'hyperbole; que ce soit au point E' (*). La droite qui joint A et E' coupera l'autre côté de l'angle au point C qu'il s'agissait de trouver. »

« *Démonstration.* En faisant $AD = AC$ et menant DE parallèle à BC, on aura $AB : BC = BC : BD$ (**), et angle B = angle B;

*) A partir d'ici, je me suis permis quelques petits changements pour abrégier, parce que l'auteur, pour être plus explicite, après avoir construit la combinaison de l'hyperbole et du cercle, avait considéré, dans une seconde figure à part, les relations qui ont lieu dans le triangle ABC.

**) En effet, on a $\overline{E'D'}^2 = AD' \cdot D'B$ (Apollon., I, 53) et CB parallèle à E'D', CD parallèle à E'B, donc $\overline{BC} = \overline{AB} \cdot \overline{BD}$. — Le cercle et l'hyperbole de cette résolution, que l'auteur qualifie de singulière (غريب), sont absolument les mêmes que ceux de sa solution précédente. Seulement l'auteur considère ici l'intersection du cercle avec l'autre branche de l'hyperbole. Qu'on ne se hâte pas de lui en faire un reproche; on serait aussitôt forcé d'en faire un non moins grave à Pappus, qui, à l'occasion du même problème, dans la seconde partie de la trente-quatrième proposition du quatrième livre, donne comme un ἄλλω; une construction qui en réalité est absolument la même que celle qui la précède.

donc triangle ABC semblable à triangle CBD, et angle $BAC =$ angle $BCD =$ angle EDC ; en même temps angle $DCA =$ angle ECD ; donc triangle DAC semblable à triangle EDC, conséquemment $DE = DC$, donc $AB : BC = AD : DE = AC : CD$, c. q. f. d. »

Ici l'auteur termine son traité; mais, en guise d'appendice, il y ajoute encore la discussion des cinq problèmes suivants, proposés par Albîrouî comme pouvant également être ramenés à la trisection de l'angle.

1. Étant donné le triangle isocèle ABC (fig. 55), donner à AB un prolongement BD tel que, faisant angle $ECD =$ angle EDC , on ait $AE \cdot EB = AB \cdot BD$.

2. Supposons un trapèze ABCD (fig. 56) dans lequel AB soit parallèle à CD, $AC = BD$, $DE = DB$, $CD : BD = AB : AE$. Étant connus le côté CD et les angles du trapèze, trouver les côtés AB, BD, AC.

3. Étant donné le triangle isocèle ABC (fig. 57), couper le prolongement de la perpendiculaire à la base par une transversale EZH telle que $BZ = ZE$ et $HZ = ZC$.

4. Étant donné le triangle isocèle ABC (fig. 58) et la perpendiculaire à la base AD, mener une transversale BZE, de sorte que $BZ = EC$.

5. Le triangle ABC (fig. 59) dont l'angle B est un angle droit, et dans lequel on a joint le sommet B au point milieu D de la base, étant connu d'espèce, mener de C une ligne CZE telle que $BZ : CE = BD : AC$.

L'auteur résout tous ces problèmes au moyen du lemme suivant : Construire sur une base donnée un triangle tel que l'un de ses angles soit le double de l'autre, et que la somme de ces deux angles soit égale à un angle donné.

Il résout ce second lemme au moyen de celui qui lui avait

servi pour la solution de toutes les propositions qui faisaient l'objet de la partie principale de son traité. En effet, en prenant (fig. 49) CK égale à la base donnée et angle KCD égal à l'angle donné, qu'on fasse $EM = EC$. Dans le triangle CDE décrit sur la base donnée CD, on aura angle $CED = 2 \cdot$ angle CDE, et la somme $CED + CDE$ égale à l'angle donné, ce qu'il s'agissait d'obtenir.

J'abandonne aux amateurs le plaisir de trouver eux-mêmes la solution des cinq problèmes d'Albîrouûnî, ce qui sera d'autant plus facile, que je viens d'en indiquer le moyen.

A ce traité de la trisection de l'angle je vais joindre encore un cas particulier de ce problème, dans lequel il sera intéressant de constater que les Arabes ont reconnu qu'il dépend d'une équation du troisième degré.

En effet, la troisième d'une suite de questions proposées par Albîrouûnî à Aboûl Djoûd, et dont j'ai fait connaître la première dans l'addition D, est conçue de la manière suivante : « Pourquoi nous avons dit, dans la septième proposition du septième chapitre du quatrième livre de notre traité de géométrie, qu'au moyen de cette proposition (*) on peut construire algébriquement l'ennéagone. »

Dans sa réponse Aboûl Djoûd considère la corde AB (fig. 60) qui sous-tend la neuvième partie de la circonférence d'un cercle circonscrit au triangle isocèle ABC. Il prend $AD = AB$, $ED = AD$, $EZ = ED$. En considérant les angles aux bases des différents triangles isocèles ainsi formés, on trouve $CZ = AB$ (**)

*) L'auteur dit, à la fin de sa réponse, que cette proposition contenait la construction de l'équation : « des racines sont égales à un cube plus un nombre ».

**) Généralement, si l'on prend angle $ACB = \frac{360^\circ}{n}$, n étant un nombre entier de la forme $4m + 2$, on arrivera toujours au sommet de l'angle en plaçant ainsi la corde sous-tendante successivement m fois entre les deux côtés de l'angle.

et $EA = AB$. Abaisant les perpendiculaires AT , ZK , on aura $CZ : CK = CA : CT$, donc $CZ : CE = CA : 2.CT$; conséquemment $CZ : (CZ + CE) = CA : (CA + 2.CT)$ ou $AB : (EA + CE) = CA : (CB + \{CB + CD\})$, c'est-à-dire $AB : CA = CA : (CD + 2.CB)$. Arrivé là, le géomètre arabe pose $AC = 1$ et $AB = x$, et obtient ainsi $x.(CD + 2) = 1$; mais de la similitude des triangles ABC , BDA il suit $AC.BD = \overline{AB}^2$; donc $BD = x^2$, et $CD = 1 - x^2$, ce qui, substitué dans l'équation qu'on vient d'obtenir, donne $x^3 + 1 = 3x$ (*).

Pour construire le côté de l'heptagone inscrit au cercle (**), les Arabes employaient des considérations tout à fait analogues à celles qui précèdent.

J'en trouve l'exposé dans une réponse anonyme à la question suivante, proposée par Abou Beqr Mohammed Ben Yakoûb Alchiamet : Déterminer dans un triangle rectangle le rapport d'une cathète à l'autre, l'angle opposé à la première des deux cathètes étant donné.

L'auteur fait observer d'abord qu'on peut résoudre ce problème approximativement, au moyen de la table des cordes.

Ensuite il détermine les valeurs exactes du rapport mentionné, en faisant l'angle connu successivement égal aux différents sous-multiples d'un angle droit.

Désignant par B le sommet de l'angle droit, par C le sommet de l'angle connu α , et le troisième sommet par A , le géomètre arabe trouve :

Pour $\alpha = \frac{90^\circ}{2}$	$AB : BC = 1 : 1$	$AB : AC = 1 : \sqrt{2}$
Pour $\alpha = \frac{90^\circ}{3}$	$AB : BC = 1 : \sqrt{3}$	
Pour $\alpha = \frac{90^\circ}{4}$	$AB : BC = 1 : (1 + \sqrt{2})$	$\overline{AB}^2 : \overline{AC}^2 = 1 : (4 + \sqrt{8})$
Pour $\alpha = \frac{90^\circ}{5}$	$\overline{AB}^2 : \overline{BC}^2 = 1 : (5 + \sqrt{20})$	$AB : AC = 1 : (1 + \sqrt{5})$
Pour $\alpha = \frac{90^\circ}{6}$	$AB : BC = 1 : (2 + \sqrt{3})$	$AB : AC = 1 : (\sqrt{6} + \sqrt{2})$
Pour $\alpha = \frac{90^\circ}{8}$	il démontre que le rapport du carré de $AD = 2AB$, au carré du	

*) C'est ce que devient, en effet, l'équation $4(\sin \frac{1}{2} v)^3 + \sin v = 3 \sin \frac{1}{2} v$ pour $v = 30^\circ$, lorsqu'on pose $x = 2(\sin \frac{1}{2} v)$.

**) L'équation que je déduis ci-dessous (p. 127, lig. 13 en rem.) des relations données par le géomètre arabe, est la même que celle à laquelle Viète ramène cette construction; en même temps Viète se sert, pour arriver à cette équation, de considérations très-semblables à celles du géomètre arabe. Voir *Francisci Vietæ opera mathematica*, in unum volumen congesta, operâ et studio Francisci à Schooten. Lugduni Batavorum, 1646, fol., pag. 362, protasis IV. Dans l'équation qui se trouve à la fin de cette proposition (pag. 363, lig. 14 en rem.), on lit, par suite d'une faute d'impression, $+ 2N$ au lieu de $- 2N$.

ERRATA ET CORRIGENDA.

TEXTE ARABE. En plusieurs endroits des lettres se sont cassées, et des points et des filets superposés sont tombés pendant le tirage. Il faut y suppléer comme suit : P. 11, l. 11 **وننتهم** 1. — P. 14, l. 11 **الاجذار** 1. — P. 15, note 19 **سطح** 1. — P. 17, l. 1 **فلنقل** 1. — P. 19, l. 1 **أبجد** 1. — P. 23, l. 1 **بط** 1. — P. 23, l. 15 **هـ** 1. — P. 25, l. 19 **يكون** 1. — P. 31, l. 2 **المجسم** 1. — P. 32, note 5 **المفروضة** 1. — P. 46, l. 2 **مال** 1. — P. 48, l. 1 **اظن** 1. — P. 52, l. 9 **وحج** 1. — On remarquera quelquefois des ط qui ressemblent à des ظ ; c'est qu'on ne fond que des ط dont on enlève ensuite les points avec le couteau. Des traces de ces points imparfaitement enlevés, qui étaient absolument invisibles dans les épreuves, ont reparu dans le tirage.

TRADUCTION. Dans la 1^{re} feuille, on a imprimé binome, trinome, etc., au lieu de binôme, trinôme.

P. 41, l. 3 en rem., au lieu de \overline{BD} il faut lire \overline{BD} .

P. 56, l. 6. L'ouvrage 8 traitait probablement du problème suivant : Étant donnés un faisceau de trois droites issues d'un point B et un point E, faire passer par E une transversale qui coupe les trois droites respectivement aux points A, D, C, de manière que le rapport AE : CD, ou le rapport EC : AD, soit égal à un rapport donné. Je trouve cet ouvrage mentionné dans un mémoire d'Abotl Djoûd, où ce géomètre se propose de compléter le travail d'Alqoûht par la considération du cas ED : AC = const.

P. 56, l. 22, au lieu de P et A il faut lire 2 P et 2 A.

P. 75, l. 13 en rem. La leçon **قرسطون** est bonne. Le Târikh Alhoqamâ attribuée à Kostâ Ben Lotkâ un **كتاب القرسطون**, ce que Casiri traduit par « De Musica Liber ». Le mot **قرسطون** est évidemment la transcription arabe du mot persan **کرستوان** ou **کرستون**, que Richardson traduit par « a large public weighing-engine ». Peut-être aussi faut-il lire **فرسطون**, mot persan que Richardson traduit par « a public standard of weights or measures ».

P. 76, l. 9, au lieu de **المحرركة** il faut lire **المتحرركة**.

من كتاب تأريخ الحكماء للقاضى الاكرم جمال الدين ابن القفطى

عمر الخيام امام خراسان * وعلامة الزمان * يعلم علم اليونان * ويبحث
على طلب الواحد الديان * بتطهير الحركات البدنية * لتنزبه النفس
الانسانية * وبأمر بالتزام السياسة المدنية * حسب قواعد اليونانية * وقد
وقف متأخروا الصوفية * مع شىء من طواهر شعرة فنقولها الى طريقته *
وتحاضروا بها مجالساتهم * وخلوتهم * وبواطنها حبات الشريعة الواسع *
ومجامع للاغلال جوامع * ولما قدح اهل زمانه فى دينه * واطهروا ما اسره
من مكنونه * خشى على دمه * وامسك من عنان لسانه وقلمه * وحر
ملاقة لا تقية * وابدا اسراراً من السزار غير نقية * ولما حصل ببغداد سعى
اليه اهل طريقته فى العلم القديم * فسد دونهم الباب سد النادم لاسد
النديم * ورجع من حجه الى بلده يروح الى محل العبادة ويفقدو * ويكتم
اسراره ولا بد ان تبدو * وكان عديم القربى فى علم النجوم والحكمة * وبه
مضرب المثل فى هذه الانواع لو رزق العصمة * وله شعر طائر يظهر خفياته
على خوافيه * ويكدر عرق قصده كدر خافيه * شعر

اذا رضيت نفسى بهيسور بلغة يحصلها بالكد كفى وساعدى
أمنت تصارييف الحوادث كلها فكنت بازمانى يدى (١) او مواعدى
اليس قضى الافلاك فى مورها بان تحيد الى نحس جميع المساعد
فيا نفس صبرا فى مقيلك انما تخر ذراه بانقباض القواعد

(١) Le Ms. porte موعدى. Dans le premier hémistiche du vers suivant, le Ms. porte فى مورها ce que j'ai changé dans لافلاك pour satisfaire au mètre.

الحكم فافهمه ولو اردت ان تجد امثلة عديدة لامكنك (١) ذلك وهذه (٢) المسئلة هي (٣) اضافة (٤) مجسم الى خط مفروض ننقص عن ثباته مكعبا ويكون مساويا لمجسم آخر مفروض فان كان ضلع المكعب المساوي للمجسم المساوي مثل نصف الخط او اصغر فان ذلك واجب وان كان (٥) اعظم فانه يمكن ان يقع فيه ما يستحيل بحسب ما بيناه لك (٦) والله الميسر لحل هذه العويصات بهنه وكرمه

تمت الرسالة طهيرة يوم الاحد الثالث والعشرين
من شهر ربيع الاول سنة ١٠٠٤هـ والحمد
لله وحده وكفى فسلامه على عباده الذين اصطفى

— A. اضافه (٤) — C. هو (٣) — A. من هذه (٢) — C. لا يمكنك (١)
(٥) C. Ici suit dans le Ms. C. ما قد بينا ذلك (٦) — A. manque dans A. كان (٥)
هذا وقد le passage relatif à la publication des ouvrages d'Abou'l-Djoûd etc. (voyez pag. ٤٦ note ١٤), jusqu'à كل حال après quoi le
Ms. C. se termine en ajoutant la formule وحسبنا الله ونعم الوكيل

مثل نسبة بَجَ الى زَا فنسبة زَبَ الى زَحَ كنسبة بَجَ الى زَا وبالتبديل كذلك فالخطوط الاربعة متوالية زَبَ بَجَ زَحَ زَا فيكون مربع زَحَ مثل ضرب بَجَ في زَا وبَجَ هو الصلع القائم للقطع المكافى الذى سهمه اَبَ ورأسه آ فيكون زَحَ من خطوط الترتيب (١) فنقطة حَ اذن على محيط المكافى لا محالة وقد كانت على محيط الزايد فهما اذن متلاقيان فقد ظهر خطأ ابى الجود فى قوله (٢) ان القطعين لا يتلاقيان وذلك المراد (٣) ولكى (٤) يكون اظهر فانا نضع (٥) اَبَ ثمانين وبَجَ الذى هو ضلع المكعب المساوى للعدد احدا (٥) واربعين وهو اعظم من آَجَ فنقطة دَ تقع من خارج القطع المكافى فليهر المكافى على لَ فيكون خط لَجَ جذر ألف وخمس مائة وتسعة وتسعين وهو اربعون (٦) الا شيئا يسيرا ونجعل (٧) طَجَ مثل جَبَ وبَجَ مثل بَطَ ونصل طَحَ (٨) فهو يماس القطع الزايد كما بيناه ونفصل اَكَ ربع آَجَ ونخرج منه عمودا يقطع القطع على (٩) نقطة مَ فيكون نسبة مربع لَجَ الى مربع كم كنسبة آَجَ الى اَكَ لانهما خطان من خطوط ترتيب (١٠) المكافى وقد بينه ابلونيوس فى شكل يَطَ من مقالة آَ فيكون كم نصف لَجَ وهو عشرون الا شيئا يسيرا وجَطَ (١١) احدا (١٢) واربعين واَكَ تسعة وثلاثة (١٣) ارباع واطَ اثنان فيكون خط كَزَ احد عشر وثلاثة ارباع لان نسبة كَزَ الى كَطَ كنسبة حَبَ الى بَطَ وهما متساويان فخط زَمَ يكون اعظم من ثمانية وهو فى داخل الخط المماس للزايد (١٤) فهو (١٥) فى هذا الوضع يكون فى داخل القطع الزايد لا محالة نعم قد يكون القطعان غير متلاقيين اذا كان بَجَ اعظم من جَا لكن ذلك غير واجب فى جميع الانواع فقد ابطال ابو الجود فى هذا

(١) C. التركيب (٢) manque dans A. فى قوله (٣) Ici le Ms. C. ajoute واحد (٤) sans C. و لكى (٥) A. C. — (٦) C. الاربعون (٧) A. يحصل (٨) A. طه (٩) A. C. — (١٠) C. الترتيب (١١) A. وخط (١٢) A. C. — (١٣) A. C. — (١٤) A. الزايد (١٥) C. وهو (١٦) A. C. —

(*) Voy. Fig. 30, 1.

يهاس (١) القطع الزايد فيلزم ان يكون الكافي قاطعا للزايد لا يجوز ان يكون بينه وبين الخط المماس له لانه لو كان مماسا له لكانت الخطوط الخارجة من نقطة د الى اية (٢) نقطة فرضت على محيط آد واقعة بين القطع وبين (٣) الخط المماس له وذلك محال فباضطرار ان يكون الكافي يقطع الزايد على نقطة أخرى فيما بين آ د وذلك ما اردنا ان نبين فهذا وجه خطأ هذا الفاصل في قوله ان القطعين يجب ان يكونا متماسين (٤) على د واما قوله اذا كان بـ جـ اعظم من جـ ا فان المسئلة مستحيلة وذلك لان القطعين لا يتلاقيان كلام باطل بل يجوز ان يتلاقيا بالتقاطع او بالتماس على نقطة او نقطتين فيما بين آ د (٥) كما بيناه هناك (٦) وعليه برهان اهم مما ذكرناه (٧) فليكن (٨) عدة الاموال آ بـ وضلع المكعب بـ جـ وهو اعظم من نصف آ بـ ونتمم (٩) جـ ونعمل القطعين كما قد عرفته وليكن آ بـ عشرة وزب ستة فيكون ضرب مربعه في زـ ا مائة واربعة واربعين وهو العدد وصلعه بـ جـ ولا محالة ان بـ جـ اعظم من خمسة لان مكعب خمسة مائة وخمسة (١٠) وعشرين فالحجم الذي قاعدته مربع زب وارتفاعه زـ ا مثل (١١) مكعب بـ جـ فقاعدتاها اذن (١٢) مكافئتان لارتفاعيهما (١٣) اعنى يكون نسبة مربع زب الى مربع بـ جـ كنسبة بـ جـ الى زـ ا ونخرج من ز عمودا يقطع القطع الزايد على نقطة ح ونتمم (١٤) حـ فسطح حـ بـ مثل جـ فاضلاعهما متكافئة اعنى نسبة زب الى بـ جـ كنسبة بـ جـ الى زـ ح فيكون نسبة مربع زب الى مربع بـ جـ كنسبة زب الى زـ ح وقد كانت تلك النسبة

Au (٥) — C. مهاسين (٤) — C. بين sans (٣) — A. الى (٢) — C. مهاس (١)
 lieu de آ د فيها بين آ D. porte le Ms. A. — (٦) Dans le Ms. C. tout ce passage à partir de واما قوله manque ici et se trouve inséré plus bas (voyez pag. ٥٠ note 3). — (٧) ذكرنا (٨) — C. يتم A. — (٩) manque dans C. — (١٠) A. — (١١) manque dans A. — (١٢) C. — (١٣) C. لارتفاعيهما (١٤) — C. ونتمم A. — (١٥) Voyez Fig. 3٠, ١.

هذا الفاصل (١) فأنى ظن لم آل جهدا في الاستيفاء مع الانجاز (٢)
وتجنب التطويل المبرم ولوشيت لأتيت بمثال لكل واحد من هذه
الاصناف وانواعها لكنى خشيت التطويل (٣) فاقصرت على هذه
القوانين (٤) الكلية تعويلا على ذهن المتعام لان من يكون ذهنه بحيث
بتصور (٥) هذه الرسالة لا يقصر عما يرومه من الامثلة الجزئية (٦) واستقرآنها
والله الموفق للصواب وعليه المعول في كل حال

وبعد فان واحدا من اصحابنا اقترح علينا ان نبين خطأ ابى (٧)
الجود محمد بن الليث في الصنف الخامس من الاصناف الستة الثلاثية
التي تنحل بالقطوع وهو مكعب وعدد يعدل اموالا قال ابو الجود نضع (٨)
عدة (٩) الاموال خط \overline{AB} ونفصل منه ضلع مكعب مساو للعدد وهو \overline{BC}
فخط (٩) \overline{BC} اما ان يكون مثل \overline{JA} او اعظم منه او اصغر قال (١٠) اذا كان مثل
 \overline{BC} فاننا ننتهم (١١) $(**)$ سطح \overline{JG} ونعمل على \overline{D} قطعاً زايداً لا يلقيه \overline{AB} به
ونعمل قطعاً مكافياً رأسه نقطة \overline{A} وسهه \overline{AB} وضلعه القائم \overline{BC} فيمر القطع
لا محالة على نقطة \overline{D} كما بيناه ثم زعم ان القطعين يتماسان على نقطة
 \overline{D} واخطاً لانه يجب (١٢) ان يكونا (١٣) متقاطعين برهانه انا نجعل \overline{BZ} مثل
 \overline{BA} ونصل (١٤) \overline{AZ} فهو يهوى على \overline{D} لا محالة ويكون في داخل القطع المكافى
ويكون زاوية \overline{ADB} قائمة وزاوية \overline{ABD} مثل زاوية \overline{ZBD} ومعلوم ان سهم القطع
الزائد يقسم الزاوية المحيطة (١٥) بالقطع بنصفين فيجب ان يكون خط \overline{BD}
سهم (١٦) القطع الزائد الذى على \overline{D} وخط \overline{AD} مواز لخطوط الترتيب فهو

(١) Ces mots à partir de حقا manquent dans C. — (٢) مع انجاز C. — (٣) Ce passage à partir de المبرم manque dans C. — (٤) القوانين manque dans C. — (٥) يتصور C. — (٦) الجزئية A. الجزويه (٦) — (٧) ابو C. — (٨) هذه C. — (٩) يجب A. C. — (١٠) نتم (١١) — (١٢) قال manque dans C. — (١٣) وخط C. — (١٤) سهم C. — (١٥) المحيط C. — (١٦) سهم manque dans C.

(*) Voyez Fig. 30. — (**) Voyez Fig. 30, ١.

هذا وقد حكى لى بعض من شدا شيئا نزرأ من الهندسة بعد تأليفى (١) هذه الرسالة بخميس سنين ان لآبى الجود محمد (٢) بن الليث المهندس رحمه الله (٣) كلاما فى تعديل (٤) هذه الاصناف وتحليل اكشورها الى القطوع المخروطية من غير استيفاء جميع انواعها وتتميز (٥) الممكن من المستحيل بل بحسب ما تأدى به النظر فى المسائل الجزئية (٦) اليها فلم استبعد ذلك لان هذين الصنفين اللذين (٧) نسبتها (٨) الى واحد ممن تقدمنا منسوبان اليه وقد تصفحهما (٩) فى جملة تصنيفات أبى الجود بخط الحازمى الخوارزمى واحدهما من الثلاثيات وهو مكعب وعدد يعدل اموالا وله انواع ولانواعه شرائط كما هو مذكور فى هذه الرسالة ولم يستوف شرائطها ثم اطل فى حكمه ايضا فى هذا الصنف بقوله ان كان ضلع المكعب المساوى للعدد اعظم من نصف عدة الاموال استحالة المسئلة وليس كذلك كما (١٠) بيناه وذلك بسبب انه لم يفتن لتماس القطعين او لتقاطعهما (١١) فى ذلك الجانب الآخر والثانى من الرباعيات وهو مكعب وعدد واضلاع تعدل اموالا فلعمري انه قد احسن فى الوقوف على هذه المسئلة بعد ما اعيت (١٢) جماعة من المهندسين لكنه مسئلة جزئية (١٣) وللصنف انواع وشرائط فان فى مسائله ما يستحيل فلم يستوفها حق الاستيفاء وانما ذكرت هذا ليقابل (١٤) من يصل اليه الرسالتان (١٥) ان كان ما (١٦) حكى لى من حال هذا الفاضل حقا بين رسالتى هذه والمنسوبة الى

لم يكذب يخفى عليه pag. o\ lign. 5), y suit immédiatement après les mots et précède cet autre récit. من المسائل المعتصة على المتقدمين [شىء] — (١) Le Ms. A. porte بعدنا à la fin d'une ligne et au commencement de la suivante ; لىفى ; le Ms. C. porte قالف sans — (٢) محمد manque dans C. — (٣) رحمه الله manque dans A. — (٤) تعديل C. — (٥) وتميز C. — (٦) بسينهما A. نسبتها (٧) C. الذين — (٨) A. لما (٩) A. وقد ساهدها (١٠) C. — (١١) لىفى C. — (١٢) أعيت C. — (١٣) لىفى C. — (١٤) ان كان على ما (١٥) C. الرسالتان (١٦) C. الشقالب

الوجه مثاله اذا قيل مال وجذران يعدل اثنين من العدد (١) وجزوى (٢) مال فان هذا لا يمكن ان يستخرج لان المال هو الثانى وجزء المال هو السادس فقد تعدى الى خمس مراتب فقس عليه سائره

فجميع الاصناف المفردة بين هذه السبع المراتب (٣) احدا وعشرين (٤) منها اثنان لا يمكن ان يستخرج بطريقنا بل يحتاج فيها الى مقدمة ابن الهيثم (٥) فيبقى تسعة عشر صنفا يستخرج بطريقنا (٦) بعضها بخواص الدائرة وبعضها بخواص القطوع وجميع المركبات الثلاثية المتوالية خمسة عشر ويستخرج بخواص الدائرة وجميع المركبات الثلاثية (٧) فى كل اربع (٨) متوالية اربعة وعشرين ويستخرج بخواص القطوع وجميع المركبات الرباعية بين كل اربع مراتب متوالية ثمانية وعشرين ويستخرج بخواص القطوع فجميع الاصناف الواقعة بين هذه السبع المراتب التى (٩) يمكن استخراجها بالطرق التى بينها ستة وثمانين (١٠) لم يذكر (١١) فى كتب المتقدمين منها الا ستة اصناف فمن وقف على هذه المقدمات المذكورة وانفق له مع ذلك قوة فى الطبع ودربة (١٢) فى المسائل لم يكدر يخفى عليه من المسائل المعتاصة على المتقدمين شىء (١٣) فقد حان لنا ان نختم هذه الرسالة حامدين لله تعالى ومصلين على انبيائه اجمعين (١٤)

A. ٢١ (٤) — C. السبع مراتب (٣) — C. وجزوى (٢) — A. العدد (١)
 Ce passage à partir de المتوالية manque dans C. — (٧) بطريقنا (٦) — C. الهيثم (٥) — C. احدى وعشرين
 C. — (٩) اربعة (٨) — C. — (١٠) وردته A. ودربه (١٢) — C. تذكر A. يذكر (١١) — C. ستة وثمانون A. ٨٦ (١٠)
 Ce passage à partir de se trouve dans le Ms. C. plus haut, et y est conçu d'une manière un peu différente (voyez pag. ٣٢ note ١). De même toute la suite, jusqu'à la fin de l'ouvrage, est différemment arrangée dans le Ms. C. Le récit relatif à la publication des découvertes d'Aboul-Djoud qui suit ici (à partir des mots وقد هذا etc. jusqu'aux mots فى كل حال pag. ٣٨ lign. 6), s'y trouve transposé à la fin de l'ouvrage, tandis que l'exposition des erreurs commises par ce géomètre بحسب ما قد بيناه لك, jusqu'à pag. ٣٨ lign. 7, etc. وبعد فان واحدا

استخرجها بطرقنا (١) وبالجملية فان ضرب الاول في السادس من هذه السبع (٢) المراتب يحتاج الى ايراد اربعة خطوط بين خطين ليتوالى الستة (٣) على نسبة واحدة كما بينه ابو على ابن (٤) الهيثم (٥) رحمه الله تعالى (٦) واما اذا قيل اى مكعب يعدل ستة عشر جزء (٧) ضلعه فيضرب الاول في الخامس فيكون جذر جذر المبلغ هو ضلع المكعب المطلوب وعلى هذا القياس كل ما يعادل من هذه السبع المراتب خامسه في (٨) النسبة واما في المركبات مثل جذر يعدل واحدا وجزء (٩) جذر فهو في قوة مال يعدل جذرا واثنين من العدد لان هذه الثلاثة مناسبة (١٠) للثلاثة المذكورة فنستخرجه بالطريقة المذكورة يخرج المال اربعة وهو يعدل جذره مع اثنين من العدد فجذر هذا هو المطلوب وجذره اثنان وهو يعدل واحدا (١١) مع جزء (١٢) جذره وكذلك ان (١٣) قيل مال وجذراه يعدل واحدا وجزء جذر يكون في قوة كعب ومالان (١٤) يعدل جذرا واثنين (١٥) فنستخرج ضلع المكعب (١٦) كما بيناه بالقطوع المخروطية فيكون مربع ذلك الضلع هو المال المطلوب وكذلك ان قيل جذر واثنان من العدد (١٧) وعشرة اجزاء جذر يعدل عشرين جزء مال فيكون في (١٨) قوة كعب ومالان (١٩) وعشرة اجزاء يعدل عشرين عددا فنستخرج ضلع المكعب بالطريق المخروطى فيكون هو الجذر المطلوب وبالجملية فكل اربع (٢٠) مراتب متوالية من هذه المراتب السبع يكون حكمها في حكم الاصناف الخمسة والعشرين المذكورة فاذا تعدى الى خمس مراتب او ست مراتب او سبع مراتب (٢١) فان ذلك لا يمكن ان يستخرج بوجه من

A. بن (٤) — manque dans A. الستة (٣) — C. السبعة (٢) — C. بطريقنا (١)
جزاؤ (٧) — manque dans A. رحمه الله تعالى (٦) — C. الهيثم A. الهمم (٥) —
واحد (١١) — C. متناسبة (١٠) — C. وجزء (٩) — C. manque dans C. في (٨) — C.
ومال (١٤) — C. manque dans C. ان (١٣) — C. جزء في A. جزء في (١٢) — C.
manque في (١٨) — C. الضلع (١٧) — A. الكعب (١٦) — C. اثنان (١٥) — C.
manque dans A. مراتب (٢١) — C. اربعة (٢٠) — C. ومالين (١٩) — C.

يمكنك ان تتفطن له ولا تطول (١) به القول واما معادلة هذه الاربعة
بالاربعة المتقدمة فكما ابين اذا قيل كعب يعدل عشرة اجزاء كعب (٢)
اى عشرة اجزاء نفسه فالكعب هو الاول من المراتب السبع واجزاء
الكعب هو السابع منها (٣) فاضرب احدهما (٤) فى الآخر وخذ (٥) جذر
المجتمع فما خرج فهو الواسط (٦) اعنى الرابع وهو الكعب المطلوب
وتفصيل هذا الكلام ان كل عدد اذا ضرب فى جزئه (٧) السمى له خرج
الواحد وان ضرب فى جزئه (٨) خرج اثنين وان (٩) ضرب فى عشرة
اجزائه يخرج عشرة من العدد فكانه قيل فى مسئلتنا اى كعب (١٠) اذا
ضرب فى مثله كان عشرة فجذره هو المكعب المطلوب ثم استخراج ضلع
ذلك المكعب هو على ما بيناه بالقطع المخروطية وكذلك اذا قيل اى
مال يعدل ستة عشر جزءا من اجزائه السمية له فاضرب الواحد فى ستة
عشر وخذ (١١) جذر المبلغ وهو اربعة فيكون هو المال المطلوب فكانه قيل (١٢)
اى مال ضربته فى مثله يكون ستة عشر على القياس المتقدم وكذلك اذا
قيل اى جذر يعدل اربعة اجزائه فكانه قيل اى عدد اذا ضربته فى مثله
حصل اربعة وهو اثنان واما (١٣) اذا قيل اى مال يعدل عدة اجزاء مكعب
ضلعه فان استخراج ذلك لا يمكن بالطرق (١٤) التى بيناها اذ هو محتاج
الى ايراد اربعة خطوط بين (١٥) خطين ليتوالى الستة على نسبة واحدة
وذلك قد بينه ابو على ابن (١٦) الهيثم (١٧) رحمه الله تعالى (١٨) الا انه صعب
جدا لا يمكن ان يلحق بكتابنا هذا وكذلك ان قيل اى مكعب يعدل
عدة اجزاء مال ضلعه (١٩) يحتاج الى المقدمة المذكورة فلا (٢٠) يمكن

(١) C. — لها فلا يطول (٢) manque ici dans C. et s'y trouve ajouté après نفسه (٣) manque dans C. — احديهما (٤) C. — وحذ (٥) A. — حروبه (٦) C. — فاذا (٧) A. — الواسطه (٨) C. — (٩) C. — فى (١٠) sans كانه يقول (١١) C. — يوجد A. — وحد (١٢) C. — مكعب A. — الهيم (١٣) A. — بن (١٤) C. — من (١٥) A. — بالطريق (١٦) A. — فاما (١٧) C. — اجزائها لصلعه (١٨) manque dans A. — رحمه الله تعالى (١٩) C. — الهيم A. — ولا (٢٠)

وجزء كعب الكعب بالغاً ما بلغ يكون ايضاً متناسبة (١) ولا حاجة لنا الى ذكرها اذ لا سبيل الى استنباطها واعلم انك ان اخذت الثمن الذى هو جزء الكعب كعباً (٢) فيكون جزؤه ثمانية (٣) الذى هو الكعب بالعكس (٤) فقس عليه سائره فجزء الكعب وجزء المال وجزء (٥) الجذر والواحد هذه (٦) الاربعة تكون فى حكم الكعب والمال والجذر والواحد (٧) مثاله اذا قيل جزء مال يعدل نصف (٨) جزء جذر فكانه قيل مال يعدل نصف جذر فالمال يكون ربعا وهو جزء المال فالمال المطلوب يكون اربعة وجزؤه (٩) الربع وجزء جذره النصف وعلى هذا القياس فى مفرداته واما فى المركبات اذا قيل جزء مال وجزء جذر يعدل واحداً (١٠) وربعا فكانه قيل مال وجذران يعدل واحداً (١١) وربعا فبالطريق الذى بيناه نخرج الجذر نصفاً والمال ربعا (١٢) الا انه بهوجب السؤال جزء مال وجزء جذر (١٣) فيكون الربع الذى هو المال الاول جزء المال المطلوب فيكون المال المطلوب (١٤) اربعة وكذلك فى الرباعيات اذا قيل جزء كعب وثلاثة اجزاء مال وخمسة اجزاء جذر يعدل ثلاثة وثلاثة اثمان وكانه قيل كعب وثلاثة اموال وخمسة اجزاء جذر يعدل ثلاثة وثلاثة اثمان فبالطريق الذى بيناه بالقطع المخروطية يتبين ضلع الكعب فيكون هو جزء الجذر المطلوب فنجعل نسبته الى الواحد المفروض كنسبة الواحد المفروض الى خط آخر فيكون ذلك الخط هو ضلع الكعب المطلوب فنقد لاح انه يكون خمسة وعشرون صنفاً أخرى من هذه المعادلات بين هذه الاربعة متناسبة للخمسة والعشرين (١٥) صنفاً المتقدمة

واما ضرب بعضها فى بعض فمعلوم ظاهر من كتب الجبريين وانت

C. جزء وثمانية A. جزء ٨ (٣) — manque dans A. كعباً (٢) — C. مناسبة (١) والواحد (٧) — C. فهذه (٦) — A. وجزؤ (٥) — C. ب sans العكس (٤) — A. C. واحد (١٠) — C. وجزء A. وجزء (٩) — C. يصف (٨) — C. والجذر فيكون (١٤) — A. جذر مال وجزؤا جذر (١٣) — C. اربعا (١٢) — C. واحد (١١) C. والعشرون (١٥) — C. manque dans C. المال المطلوب

القانون في معرفة الممكن من المستحيل في مسائل ما يقع فيه المستحيلات
وبينا ان اكثرها لا يقع فيه المستحيلات (١) فلنقل على اجزاها
جزء الشيء (٢) هو عدد نسبته الى الواحد كنسبة الواحد (٣) الى ذلك
الشيء فان كان الشيء ثلاثة كان جزؤه ثلثا وان كان الشيء ثلثا كان
جزؤه ثلاثة وكذلك ان كان اربعة كان جزؤه ربعا وان كان ربعا كان جزؤه
اربعة وبالحيلة فان جزء كل عدد هو الجزء المسمى (٤) لذلك العدد كالثلث
من الثلاثة ان كان العدد صحيحا والثلاثة من الثلث ان كان العدد
كسورا (٥) وكذلك جزء المال هو (٦) الجزء المسمى (٧) لعدده صحيحا كان
او كسورا (٨) وكذلك جزء الكعب ولكي يكون اظهر للحس (٩) فانا
نضعها في لوح

جزء (١٠) الكعب * جزء المال * جزء الجذر *

١	١	١
٢	٤	٨

الواحد * الجذر * المال * الكعب *

٨	٤	٢	١
---	---	---	---

فنسبة جزء الكعب الى جزء المال كنسبة جزء المال الى جزء الجذر وكنسبة
جزء الجذر الى الواحد وكنسبة الواحد الى الجذر وكنسبة الجذر الى المال
وكنسبة المال الى الكعب فهذه سبع (١١) مراتب متوالية على نسبة واحدة
ونتكلم في معادلاتها لا غير واما (١٢) جزء مال المال وجزء مال الكعب

فقد حان لنا ان نختم هذه (١) Ici le Ms. C. ajoute le passage suivant
الرسالة حامدين لله تعالى مصليين على خير الانبياء محمد وآله اجمعين
(٣) — A. التي (٢) — voyez pag. ٤٦ note 14. — وادن كما اتى هذه الاصناف
C. ان كان كسرا (٥) — C. المستقى (٤) — manque dans A. كنسبة الواحد
— (١٠) Le Ms. C. للحس (٩) — A. كسرا (٨) — C. المسمى (٧) — A. و (٦) —
A. porte لا (١١) — Le Ms. A. حرو الكعب * حرو المال * جر الجذر
évidemment par suite d'une méprise, au lieu du chiffre ٧. — (١٢) و اما C.

الذى ارتفاعه بآ وقعدته مربع بَدَّ . انتهى عليه مسود العدد المخرج
 مشتركا فيكون المجسم الذى قعدته مربع بَدَّ وارتفاعه بَدَّ الذى هو مثل
 عدة اضلاع مكعب بَدَّ المفروضة مع عدة اموال مكعب بَدَّ المفروضة مسود
 لمكعب بَدَّ مع العدد المفروض وان كان سَ مثل بَجَّ فن بَجَّ هو ضلع
 المكعب برهانه ان مكعب بَجَّ مثل عدة امواله المفروضة والعدد المنروح
 يكون مساويا لعدة اضلاع مكعب بَجَّ المفروضة فيكعب بَجَّ مع العدد
 المفروض مثل عدة امواله المفروضة مع عدة (2) اضلاعه المفروضة وذلك المراد
 ويكون ايضا مكعب بَجَّ مع عدة اضلاعه المفروضة مثل عدة (3) امواله
 المفروضة مع العدد المفروض فقد داخل هذا النوع الصنف الثانى وان كان
 سَ اعظم من بَجَّ فانا نجعل (4) بَا مثل سَ ونتمم (4) السطح ونعمل التقطع
 الاول على آ والثانى ايضا على آ وهما متقاطعان فان التقيا (5) مرة ثانية
 اما بالتماس فعلى نقطة واحدة واما بالتقاطع فعلى نقطتين كما هو
 معروف من مقالة (6) من كتاب المخروطات فالمسئلة ممكنة والا فهي
 مستحيلة فان (7) تقاطعا فنخرج من نقطتى التقاطع هودين يفصل
 ضلعين لمكعبين (8) والبرهان عليه كما تقدم لا يتغير منه شيء فبين ان
 لهذا الصنف انواعا وبعضها مستحيل وقد خرج بخواص قطعين زاويتين
 وتبين ان هذه الثلاثة الاصناف الرباعية متداخلة اى يوجد نوع من
 الاول يكون هو بعينه نوعا من الثانى ويوجد نوع من الثانى هو بَدَّ من
 من الثالث ويوجد نوع من الثالث هو بعينه نوع من الثانى كما بينه
 واذا قد أتينا على الاصناف (10) الخمسة والعشرين من هذه المسائل
 والمقابلة واستوفيناها حتى الاستيفاء وحصلنا انواع كل صنف منها

manque dans C. — (2) Ces mots
 manquent dans A. — (3) عدة manque dans C. — (4) نتم C.
 C. وهو (9) — C. المكعبين (8) — A. وان (7) — C. (6)
 C. على اى صنف
 هذه المسائل

وقوعات (١) وأنواع ونوع منها يداخل (٢) الصنف الثالث وليس في
 مسائله مستحيل وقد خرج بخواص الدائرة وقطع زائد
الصنف الثالث من الاصناف الثلاثة الرباعية الباقية (٣) هو مكعب
 واعداد تعدل اضلاعا واموالا نفرض (٤) $\overline{بج}$ لعدة الاموال $\overline{وبد}$ عمودا عليه
 وهو ضلع مربع مساو لعدة الجذور ونعمل مجسما قاعدته مربع $\overline{بد}$ ويكون
 مساويا للعدد المفروض وليكن ارتفاعه $\overline{س}$ فخط $\overline{س}$ اما ان يكون اصغر من
 $\overline{بج}$ او مثله او اعظم منه وليكن اولا اصغر منه (٥) $\overline{بز}$ ونعمل على نقطة $\overline{آ}$ قطعاً زائدا لا يلقاه $\overline{بد}$ $\overline{دز}$ وهو
 قطع $\overline{حاط}$ ونعمل قطعاً آخر (٦) زائدا رأسه نقطة $\overline{ج}$ وسهمه على استقامة
 $\overline{بج}$ وكل واحد من ضلعيه القائيم والمائل مثل $\overline{آج}$ فهو لا محالة يقطع القطع
 الآخر وهو $\overline{كجل}$ فليستقاطع قطع $\overline{كجل}$ وقطع $\overline{حاط}$ على نقطة $\overline{م}$ فيكون
 نقطة (٧) $\overline{م}$ معلومة (٨) الوضع لان القطعين معلوما الوضع ونخرج منها (٩)
 عمودى $\overline{من}$ $\overline{هع}$ فيكونان معلومى الوضع (١٠) والقدر فسطح (١١) $\overline{دآ}$ مثل
 سطح $\overline{دم}$ ويكون $\overline{ند}$ مثل $\overline{زآ}$ على ما بيناه مرارا (١٢) فاضلاعهما متكافئة
 وكذلك مربعات اضلاعهما لكن نسبة مربع $\overline{مه}$ الى مربع $\overline{هآ}$ كنسبة $\overline{جبه}$
 الى $\overline{هآ}$ لقطع $\overline{كجل}$ فيكون نسبة مربع $\overline{بد}$ الى مربع $\overline{به}$ كنسبة $\overline{جبه}$ الى $\overline{هآ}$
 فالمجسم الذى قاعدته مربع $\overline{بد}$ وارتفاعه $\overline{هآ}$ مثل المجسم الذى قاعدته
 مربع $\overline{به}$ وارتفاعه $\overline{جبه}$ ونجعل المجسم الذى قاعدته مربع $\overline{به}$ وارتفاعه $\overline{بج}$
 الذى (١٣) هو عدة اموال مكعب $\overline{به}$ مشتركا فكعب $\overline{به}$ مثل عدة امواله
 المفروضة مع المجسم الذى قاعدته مربع $\overline{بد}$ وارتفاعه $\overline{هآ}$ ونجعل المجسم

(١) وقوع C. — (٢) تداخل A. بداخل (٢) C. — (٣) manque dans A. —
 (٤) manque dans C. — (٥) يتم A. يتم C. — (٦) آخر C. — (٧) نقطة man-
 que dans A. — (٨) معلوم C. — (٩) منها C. — (١٠) manque dans A. —
 (١١) سطح A. — (١٢) مرار C. — (١٣) فالذى A.

(*) Voyez Fig. 29. — (**) Voyez Fig. 29, ١.

الذى قاعدته مربع \overline{BD} وارتفاعه \overline{HA} مثل الجسم الذى قاعدته مربع \overline{BE} وارتفاعه \overline{HE} ونجعل مكعب \overline{BE} مشتركا فيكون الجسم الذى قاعدته مربع \overline{BE} وارتفاعه \overline{BE} مثل مكعب \overline{BE} مع الجسم الذى قاعدته مربع \overline{BD} وارتفاعه \overline{HA} لكن الجسم الاول مثل عدة اموال مكعب \overline{BE} المفروضة ونجعل الجسم الذى قاعدته مربع \overline{BD} وارتفاعه \overline{BA} الذى عملناه مساويا للعدد المفروض مشتركا فيكون مكعب \overline{BE} مع الجسم الذى قاعدته مربع \overline{BD} وارتفاعه \overline{BE} الذى هو عدة اضلاع مكعب \overline{BE} المفروضة مثل عدة امواله المفروضة مع العدد المفروض (١) وذلك المراد وان كان \overline{S} مثل \overline{BE} فان \overline{BE} هو ضلع المكعب المطلوب برهانه ان مكعب \overline{BE} مثل عدة امواله المفروضة والجسم (٢) الذى ارتفاعه \overline{BE} وقاعدته مربع \overline{BD} هو (٣) مثل العدد المفروض وهو ايضا مثل عدة اضلاع مكعب \overline{BE} المفروضة فمكعب (٤) \overline{BE} مع عدة اضلاعه المفروضة مساو لعدة امواله المفروضة مع العدد المفروض وكذلك (٥) هذا النوع يداخل (٦) الصنف الثالث لان عدة اضلاع مكعب \overline{BE} المفروضة هو مثل العدد المفروض فيكون مكعب \overline{BE} مع العدد المفروض مساويا لعدة امواله المفروضة مع عدة اضلاعه المفروضة وان (٧) كان \overline{S} اعظم من \overline{BE} فانا نجعل (*) \overline{BA} (٨) مثل \overline{S} ونعمل الدائرة على قطر \overline{AB} والقطع على نقطة \overline{A} يقطع الدائرة على \overline{K} كما بيناه ونخرج من نقطة (٩) \overline{BK} عمودى \overline{KE} كما فعلناه فى الشكل المتقدم (١٠) فيكون \overline{HEB} هو ضلع المكعب المطلوب والبرهان عليه كما تقدم نلقى (١١) سطح \overline{HDE} المشترك فيكون اضلاعه \overline{HE} متكافئة وكذلك مربعاتها فيكون البرهان (١٢) بعينه كما تقدم لا يتغير منه شيء فقد تبين ان لهذا الصنف اختلاف

لمكعب (٤) — \overline{A} وهو (٣) — \overline{C} و \overline{sans} الجسم (٢) — \overline{A} مع العدد مفروض (١)
 (٩) — \overline{C} من \overline{BA} (٨) — \overline{C} فان (٧) — \overline{C} يدخل (٦) — \overline{A} فذلك (٥) — \overline{C} .
 \overline{A} ويكون (١٢) — \overline{C} يلقى \overline{A} يلقى (١١) — \overline{C} المقدم (١٠) — \overline{C} نقطتى

(*) Voyez Fig. 28, 2.

واحد انواعه يداخل (١) الصنف الثالث وليس في مسائله مستحيل. وقد خرج بخواص قطعين زائدين

الصنف الثاني من الاصناف الثلاثة الرباعية الباقية هو (٢) مكعب
واضلاع تعدل اموالا واعدادا نضع (٣) $\overline{بج}$ لغدة الاموال المفروضة و $\overline{بد}$ ضلع مربع مثل غدة الاضلاع عمودا على $\overline{بج}$ ونعمل مجسما مساويا للعدد المفروض ويكون قاعدته مربع $\overline{بد}$ وليكن (٣) ارتفاعه $\overline{س}$ فخط $\overline{س}$ اما ان يكون اصغر من $\overline{بج}$ او مثله او اعظم منه فليكن $\overline{اولا}$ اصغر منه (**) ونفصل من $\overline{بج}$ $\overline{با}$ مثل $\overline{س}$ ونشتم (٤) $\overline{اد}$ ونعمل على قطر $\overline{اج}$ دائرة $\overline{اكج}$ فتكون معلومة الوضع ونعمل على نقطة $\overline{آ}$ قطعنا زائدا لا يلقاة $\overline{بد}$ $\overline{دز}$ وهو قطع حاط ويكون معلوم الوضع و $\overline{حاط}$ يقطع $\overline{آز}$ المماس للدائرة فهو يقطع الدائرة (٥) لانه لو وقع بينها (٦) وبين $\overline{آز}$ امكننا (٧) ان نخرج من نقطة $\overline{آ}$ خطا يماس القطع كما بينه ابلونيوس في شكل $\overline{س}$ من مقالة $\overline{ب}$ فذلك الخط اما ان يقع بين (٨) $\overline{آز}$ والدائرة وذلك محال واما ان يقع خارج $\overline{آز}$ فيكون $\overline{آز}$ خطا مستقيما واقعا بين القطع وبين ذلك الخط المماس وذلك محال فليس يقع قطع $\overline{طاح}$ (٩) بين الدائرة وبين $\overline{آز}$ فهو اذن يقطعها ويقطعها باضطرار على نقطة اخرى فليقطعها على $\overline{ك}$ فيكون $\overline{ك}$ معلومة الوضع ونخرج منها عمودى $\overline{كم}$ على $\overline{بج}$ $\overline{بد}$ فيكونان معلومى الوضع والقدر كما عرفته ونشتم (١٠) سطح $\overline{كد}$ فسطح $\overline{اد}$ مثل سطح $\overline{كد}$ ونلقى (١١) $\overline{مز}$ المشترك ونجعل $\overline{اك}$ مشتركا فيكون $\overline{بك}$ مثل $\overline{ال}$ فاضلاعها متكافئة وكذلك مربعات اضلاعها لكن نسبة مربع $\overline{كه}$ الى مربع $\overline{ها}$ كنسبة $\overline{هه}$ الى $\overline{ها}$ (١٢) فيكون نسبة مربع $\overline{بد}$ الى مربع $\overline{به}$ كنسبة $\overline{هه}$ الى $\overline{ها}$ فالمجسم (١٣)

(٥) — C. يتم A. نعم (٤) — C. وليكون (٣) — C. وهو (٢) — C. يدخل (١)
يقع خط (٩) — C. من (٨) — C. يمكننا (٧) — C. بينها (٦) — C. للدائرة
نسبة احل (١٢) — C. يلقي A. يلقي (١١) — C. يتم A. ثم (١٠) — C. لـ C.
A. والمجسم (١٣) — C.

(*) Voyez Fig. 28. — (**) Voyez Fig. 28, 1.

مربع $\overline{ب\kappa}$ وارتفاعه $\overline{ج\kappa}$ لكن هذا المجسم الأخير مثل مكعب $\overline{ب\kappa}$ مع
المجسم الذى قاعدته مربع $\overline{ب\kappa}$ وارتفاعه $\overline{ب\jmath}$ الذى هو عدة الاموال
المفروضة والمجسم الاول مساو للمجسم الذى قاعدته مربع $\overline{ب\delta}$ وارتفاعه
 $\overline{أ\beta}$ الذى عملناه مثل العدد المفروض مع المجسم (١) الذى قاعدته مربع
 $\overline{ب\delta}$ وارتفاعه $\overline{ب\kappa}$ الذى هو عدة اضلاع مكعب $\overline{ب\kappa}$ المفروضة فمكعب $\overline{ب\kappa}$
مع عدة امواله المفروضة مثل العدد المفروض مع عدة اضلاعه المفروضة (٢)
وذلك المراد واذا كان $\overline{س}$ مثل $\overline{ب\jmath}$ فان $\overline{ب\delta}$ هو (٣) ضلع المكعب المطلوب
برهانه ان المجسم الذى قاعدته مربع $\overline{ب\delta}$ وارتفاعه ايضا $\overline{ب\delta}$ (٤) الذى
هو (٥) عدة اضلاع مكعب $\overline{ب\delta}$ مساو لمكعب $\overline{ب\delta}$ والمجسم (٦) الذى
قاعدته (٧) مربع $\overline{ب\delta}$ وارتفاعه $\overline{ب\jmath}$ الذى هو عدة اموال مكعب $\overline{ب\delta}$ المفروضة
مساو للمجسم الذى قاعدته مربع $\overline{ب\delta}$ وارتفاعه $\overline{س}$ الذى هو العدد المفروض
فيكون مكعب $\overline{ب\delta}$ مع عدة امواله (٨) المفروضة مساو للعدد المفروض مع عدة
اضلاعه المفروضة وذلك المراد ومعلوم ان مكعب $\overline{ب\delta}$ فى هذا الوقوع مع
العدد المفروض مساو لعدة امواله المفروضة مع عدة اضلاعه المفروضة فقد
داخل هذا الصنف الصنف (٩) الثالث وهو مكعب واعداد تعدل اموالا
واضلاعا وان كان $\overline{س}$ اعظم من $\overline{ب\jmath}$ فانا نجعل (*) $\overline{أ\beta}$ مثل (١٠) $\overline{س}$ ونعمل
القطع الثانى على نقطة $\overline{ج}$ وكل واحد من ضلعيه مثل $\overline{أ\jmath}$ وهو باضطرار
يقطع (١١) القطع الآخر ويكون ضلع المكعب ايضا $\overline{ب\kappa}$ وباقى العمل
والبرهان شبيه بها تقدم الا ان نسبة مربع $\overline{ح\kappa}$ الى مربع $\overline{ك\alpha}$ كنسبة
 $\overline{أ\kappa}$ الى $\overline{ك\jmath}$ (١٢) فقد تبين ان لهذا الصنف اختلاف وقوعات وانواع (١٣)

(١) مع مجسم C. — (٢) Ces mots à partir de مثل sont écrits deux fois dans C. — (٣) — (٤) ايضا $\overline{أ\beta}$ C. — (٥) manque dans C. — (٦) — (٧) C. — (٨) الاموال A. — (٩) لـ C. — (١٠) مثل هو (٣) — (١١) sans المجسم C. — (١٢) يقع A. — (١٣) manque وانواع (١١) — (١٢) C. — (١٣) ذلك A. — (١٤) قتل dans A.

(*) Voyez Fig. 27, 1.

ان نبين وليس (١) لهذا الصنف اختلاف وقوع ولا في مسائله ما يستحيل (٢)

واذ قد أتينا على الاصناف (٣) الاربعة الرباعية فلننقل (٤) على الاصناف الثلاثة (٥) التي كل واحد منها مركب من اثنين يعادلان اثنين الصنف الاول من الاصناف الثلاثة الرباعية الباقية هو مكعب وأموال تعدل اضلاعا وعددا نضع (٦) $\overline{بَد}$ ضلع مربع مساو لعدة الاضلاع وجب لعدة الاموال المفروضة وهو عمود على $\overline{بَد}$ ونعمل منجسما قاعدته مربع $\overline{بَد}$ ويكون مساويا (٦) للعدد المفروض وليكن ارتفاعه $\overline{س}$ فخط $\overline{س}$ اما ان يكون اعظم من $\overline{بَج}$ او اصغر منه او مساويا (٧) له فليكن اولا اصغر منه (٨) ونفصل من $\overline{بَج}$ $\overline{أَب}$ مثل $\overline{س}$ وننتهم (٨) $\overline{أَد}$ ولنفرص $\overline{دَز}$ على استقامة $\overline{بَد}$ كيف ما وقع ونعمل على $\overline{دَز}$ سطحاً مثل $\overline{أَد}$ وهو $\overline{هَد}$ فيكون $\overline{ه}$ معلومة الوضع واضلاع سطح $\overline{هَد}$ كلها معلومة الوضع والقدر ونعمل على $\overline{ه}$ قطعاً زائدا لا يلقاه $\overline{زَد}$ وهو قطع $\overline{هح}$ فيكون $\overline{هح}$ معلوم الوضع ونعمل قطعاً آخر زائدا رأسه نقطة $\overline{أ}$ وسهمه $\overline{أَب}$ وكل واحد من ضلعيه القائيم والهايل مثل $\overline{أح}$ وهو قطع $\overline{أح}$ فهو يقطع القطع الآخر باضطرار (٩) فليقطعه على $\overline{ح}$ فيكون $\overline{ح}$ (١٠) معلومة الوضع ونخرج منها عمودى $\overline{حك}$ $\overline{حل}$ فيكونان معلومى الوضع والقدر وسطح $\overline{حَد}$ مثل $\overline{هَد}$ الذى هو مثل $\overline{أد}$ وذلك مشترك فسطح $\overline{حَب}$ مثل $\overline{أَم}$ ويكون اضلاعهما متكافئة وكذلك مربعات اضلاعهما لكن نسبة مربع $\overline{حك}$ الى مربع $\overline{كأ}$ كنسبة $\overline{جك}$ الى $\overline{أك}$ لكان قطع $\overline{أح}$ كما بيناه مرارا فيكون نسبة مربع $\overline{بَد}$ الى مربع $\overline{كَب}$ كنسبة $\overline{جك}$ الى $\overline{أك}$ فالمجسم الذى قاعدته مربع $\overline{بَد}$ وارتفاعه $\overline{أك}$ مثل المجسم الذى قاعدته

على (٣) — manque dans C. ما يستحيل (٢) — manque dans C. ليس (١)
 — $\text{A. مساو (٧) — C. مساو (٦) — C. الثلاثيه (٥) — C. فيقل (٤) — C. اصناف}$
 $\text{manque فيكون ح (١٠) — C. باضطرار (٩) — C. نتم A. سم (٨)}$
 dans C.

(*) Voyez Fig. 27. — (**) Voyez Fig. 27, ١.

استخراجها بطرقنا (١) وبالجبهة فان ضرب الاول في السادس من هذه السبع (٢) المراتب يحتاج الى ايراد اربعة خطوط بين خطين ليتوالى الستة (٣) على نسبة واحدة كما بينه ابو على ابن (٤) الهيثم (٥) رحمه الله تعالى (٦) واما اذا قيل اى مكعب يعدل ستة عشر جزء (٧) ضلعه فيضرب الاول في الخماس فيكون جذر جذر المبلغ هو ضلع المكعب المطلوب وعلى هذا القياس كل ما يعادل من هذه السبع المراتب خامسه في (٨) النسبة واما في المركبات مثل جذر يعدل واحدا وجزء (٩) جذر فهو في قوة مال يعدل جذرا واثنين من العدد لان هذه الثلاثة مناسبة (١٠) للثلاثة المذكورة فنستخرجه بالطريقة المذكورة يخرج المال اربعة وهو يعدل جذرة مع اثنين من العدد فجذر هذا هو المطلوب وجذره اثنان وهو يعدل واحدا (١١) مع جزء (١٢) جذرة وكذلك ان (١٣) قيل مال وجذراه يعدل واحدا وجزء جذر يكون في قوة كعب ومالان (١٤) يعدل جذرا واثنين (١٥) فنستخرج ضلع المكعب (١٦) كما بيناه بالقطوع المخروطية فيكون مربع ذلك الضلع هو المال المطلوب وكذلك ان قيل جذر واثنان من العدد (١٧) وعشرة اجزاء جذر يعدل عشرين جزء مال فيكون في (١٨) قوة كعب ومالان (١٩) وعشرة اجزاء يعدل عشرين عددا فنستخرج ضلع المكعب بالطريق المخروطى فيكون هو الجذر المطلوب وبالجبهة فكل اربع (٢٠) مراتب متوالية من هذه المراتب السبع يكون حكمها في حكم الاصناف الخمسة والعشرين المذكورة فاذا تعدى الى خمس مراتب او ست مراتب او سبع مراتب (٢١) فان ذلك لا يمكن ان يستخرج بوجه من

A. — (٤) بن (١) — manque dans A. الستة (٣) — C. السبعة (٢) — C. بطريقنا (١) —
جزاؤ (٧) — manque dans A. رحمه الله تعالى (٦) — C. الهيثم A. الهيثم (٥) —
واحد (١١) — C. متناسبة (١٠) — C. وجزوى (٩) — C. manque dans C. في (٨) — C. —
ومال (١٤) — C. — manque dans C. ان (١٣) — C. جزء في A. جزء في (١٢) — C. —
manque في (١٨) — C. الضلع (١٧) — A. الكعب (١٦) — C. اثنان (١٥) — C. —
manque dans A. مراتب (٢١) — C. اربعة (٢٠) — C. ومالين (١٩) — C. —

يمكنك ان تتفطن له ولا تطول (١) به القول واما معادلة هذه الاربعة
بالاربعة المتقدمة فكما ابين اذا قيل كعب يعدل عشرة اجزاء كعب (٣)
اى عشرة اجزاء نفسه فالكعب هو الاول من المراتب السبع واجزاء
الكعب هو السابع منها (٣) فاضرب احدهما (٤) فى الآخر وخذ (٥) جذر
المجتمع فما خرج فهو الواسط (٦) اعنى الرابع وهو الكعب المطلوب
وتفصيل هذا الكلام ان كل عدد اذا ضرب فى جزئه (٧) السمى له خرج
الواحد وان ضرب فى جزئه (٨) خرج اثنين وان (٩) ضرب فى عشرة
اجزائه يخرج عشرة من العدد فكانه قيل فى مسئلتنا اى كعب (١٠) اذا
ضرب فى مثله كان عشرة فجذره هو المكعب المطلوب ثم استخراج ضلع
ذلك المكعب هو على ما بيناه بالقطع المخروطية وكذلك اذا قيل اى
مال يعدل ستة عشر جزءا من اجزائه السمية له فاضرب الواحد فى ستة
عشر وخذ (١١) جذر المبلغ وهو اربعة فيكون هو المال المطلوب فكانه قيل (١٢)
اى مال ضربته فى مثله يكون ستة عشر على القياس المتقدم وكذلك اذا
قيل اى جذر يعدل اربعة اجزائه فكانه قيل اى عدد اذا ضربته فى مثله
حصل اربعة وهو اثنان واما (١٣) اذا قيل اى مال يعدل عدة اجزاء مكعب
ضله فان استخراج ذلك لا يمكن بالطرق (١٤) التى بيناها اذ هو محتاج
الى ايراد اربعة خطوط بين (١٥) خطين ليتوالى الستة على نسبة واحدة
وذلك قد بينه ابو على ابن (١٦) الهيثم (١٧) رحمه الله تعالى (١٨) الا انه صعب
جدا لا يمكن ان يلحق بكتابنا هذا وكذلك ان قيل اى مكعب يعدل
عدة اجزاء مال ضله (١٩) يحتاج الى المقدمة المذكورة فلا (٢٠) يمكن

(١) C. — لها فلا يطول (١) — manque ici dans C. et s'y trouve ajouté
après نفسه (٣) — manque dans C. — احديهما (٤) — A. وخذ (٥) —
(١٠) C. فاذا (٩) — A. حروبه (٨) — C. جزءه (٧) — A. الواسطه (٦) — C. —
(١٣) C. فى sans كانه يقول (١٢) — C. يوجد A. وحد (١١) — C. مكعب
A. الهيم (١٧) — A. بن (١٦) — C. من (١٥) — A. بالطريق (١٤) — A. فاما
— C. احزايها لضله (١٩) — manque dans A. — رحمه الله تعالى (١٨) — C. الهيثم
A. ولا (٢٠).

وجزه كعب الكعب بالغ ما بلغ يكون ايضا متناسبة (١) ولا حاجة لنا الى ذكرها اذ لا سبيل الى استنباطها واعلم انك ان اخذت الثمن الذى هو جزء الكعب كعبا (٢) فيكون جزؤه ثمانية (٣) الذى هو الكعب بالعكس (٤) فقس عليه سائره فجزء الكعب وجزء المال وجزء (٥) الجذر والواحد هذه (٦) الاربعة تكون فى حكم الكعب والمال والجذر والواحد (٧) مثاله اذا قيل جزء مال يعدل نصف (٨) جزء جذر فكانه قيل مال يعدل نصف جذر فالمال يكون ربعا وهو جزء المال فالمال المطلوب يكون اربعة وجزؤه (٩) الربع وجزء جذره النصف وعلى هذا القياس فى مفرداته واما فى المركبات اذا قيل جزء مال وجزء جذر يعدل واحدا (١٠) وربعاً فكانه قيل مال وجذران يعدل واحدا (١١) وربعاً فبالطريق الذى بيناه نخرج الجذر نصفاً والمال ربعاً (١٢) الا انه بموجب السؤال جزء مال وجزء جذر (١٣) فيكون الربع الذى هو المال الاول جزء المال المطلوب فيكون المال المطلوب (١٤) اربعة وكذلك فى الرباعيات اذا قيل جزء كعب وثلاثة اجزاء مال وخمسة اجزاء جذر يعدل ثلاثة وثلاثة اثمان وكانه قيل كعب وثلاثة اموال وخمسة اجزاء جذر يعدل ثلاثة وثلاثة اثمان فبالطريق الذى بيناه بالقطوع المخروطية يتبين صلع الكعب فيكون هو جزء الجذر المطلوب فنجعل نسبته الى الواحد المفروض كنسبة الواحد المفروض الى خط آخر فيكون ذلك الخط هو صلع الكعب المطلوب فقد لاح انه يكون خمسة وعشرون صنفاً اخرى من هذه المعادلات بين هذه الاربعة متناسبة للخمسة والعشرين (١٥) صنفاً المتقدمه

واما ضرب بعضها فى بعض فمعلوم ظاهر من كتب الجبريين وانت

C. جزء وثنيه A. جزء ٨ (٣) — manque dans A. كعبا (٢) — C. مناسبة (١)
 والواحد (٧) — C. فهذه (٦) — A. وجزؤ (٥) — C. ب sans العكس (٤) —
 — A. C. واحد (١٠) — C. وجزء A. وحرء (٩) — C. يصف (٨) — C. والجذر
 فيكون (١٤) — A. جذر مال وجزوا جذر (١٣) — C. اربعاً (١٢) — C. واحد (١١)
 C. والعشرون (١٥) — C. manque dans C. المال المطلوب

القانون في معرفة الممكن من المستحيل في مسائل ما يقع فيه المستحيلات
وبينا ان اكثرها لا يقع فيه المستحيلات (١) فلنقل على اجزاها
جزء الشيء (٢) هو عدد نسبته الى الواحد كنسبة الواحد (٣) الى ذلك
الشيء فان كان الشيء ثلاثة كان جزؤه ثلثا وان كان الشيء ثلثا كان
جزؤه ثلاثة وكذلك ان كان اربعة كان جزؤه ربعا وان كان ربعا كان جزؤه
اربعة وبالجيلة فان جزء كل عدد هو الجزء السمي (٤) لذلك العدد كالثلث
من الثلاثة ان كان العدد صحيحا والثلاثة من الثلث ان كان العدد
كسورا (٥) وكذلك جزء المال هو (٦) الجزء السمي (٧) لعدده صحيحا كان
او كسورا (٨) وكذلك جزء الكعب ولكي يكون اظهر للحس (٩) فانا
نضعها في لوح

جزء (١٠) الكعب * جزء المال * جزء الجذر *

١	١	١
٢	٤	٨

الواحد * الجذر * المال * الكعب *

٨	٤	٢	١
---	---	---	---

فنسبة جزء الكعب الى جزء المال كنسبة جزء المال الى جزء الجذر وكنسبة
جزء الجذر الى الواحد وكنسبة الواحد الى الجذر وكنسبة الجذر الى المال
وكنسبة المال الى الكعب فهذه سبع (١١) مراتب متوالية على نسبة واحدة
ونتكلم في معادلاتها لا غير واما (١٢) جزء مال المال وجزء مال الكعب

فقد حان لنا ان نختم هذه Ici le Ms. C. ajoute le passage suivant (١)
الرسالة حامدين لله تعالى مصليين على خير الانبياء محمد وآله اجمعين
(٣) A. التي (٢) — voyez pag. ٤٦ note ١٤. وادن كما اتى هذه الاصناف
C. ان كان كسرا (٥) — C. المستمي (٤) — manque dans A. كنسبة الواحد
— Le Ms. (١٠) C. للحس (٩) — A. كسرا (٨) — C. المسمى (٧) — A. و (٦) —
لا Le Ms. A. porte (١١) — حرؤ الكعب * حرؤ المال * جر الجذر A. porte
C. و اما (١٢) — sans A. — évidemment par suite d'une méprise, au lieu du chiffre ٧.

الذى ارتفاعه $\bar{B}A$ وقاعدته مربع $\bar{B}D$ (١) الذى عملناه مساويا للعدد المفروض مشتركا فيكون المجسم الذى قاعدته مربع $\bar{B}D$ وارتفاعه $\bar{B}E$ الذى هو مثل عدة اضلاع مكعب $\bar{B}E$ المفروضة مع عدة اموال مكعب $\bar{B}E$ المفروضة مساويا لمكعب $\bar{B}E$ مع العدد المفروض وان كان \bar{S} مثل $\bar{B}C$ فان $\bar{B}C$ هو ضلع المكعب برهانه ان مكعب $\bar{B}C$ مثل عدة امواله المفروضة والعدد المفروض يكون مساويا لعدة اضلاع مكعب $\bar{B}C$ المفروضة فيكعب $\bar{B}C$ مع العدد المفروض مثل عدة امواله المفروضة مع عدة (٢) اضلاعه المفروضة وذلك المراد ويكون ايضا مكعب $\bar{B}C$ مع عدة اضلاعه المفروضة مثل عدة (٣) امواله المفروضة مع العدد المفروض فقد داخل هذا النوع الصنف الثانى وان كان \bar{S} اعظم من $\bar{B}C$ فانا نجعل (*) $\bar{B}A$ مثل \bar{S} ونتم (٤) السطح ونعمل القطع الاول على A والثانى ايضا على A وهما متقاطعان فان التقيا (٥) مرة ثانية اما بالتماس فعلى نقطة واحدة واما بالتقاطع فعلى نقطتين كما هو معروف من مقالة (٦) من كتاب المخروطات فالمسئلة ممكنة والا فهى مستحيلة فان (٧) تقاطعا فنخرج من نقطتى التقاطع عمودين يفصل ضلعين لمكعبين (٨) والبرهان عليه كما تقدم لا يتغير منه شىء فبين ان لهذا الصنف انواعا وبعضها مستحيل وقد خرج بخواص قطعين زائدين وتبين ان هذه الثلاثة الاصناف الرباعية متداخلة اى يوجد نوع من الاول يكون هو بعينه نوعا من الثانى ويوجد نوع من الثانى هو (٩) نوع من الثالث ويوجد نوع من الثالث هو بعينه نوع من الثانى كما بيناه واذ قد اتينا على الاصناف (١٠) الخمسة والعشرين من مقدمات الجبر والمقابلة واستوفيناها حق الاستيفاء وحصلنا انواع كل صنف منها واعطينا

(١) Ce passage à partir de $\bar{B}A$ manque dans C. — (٢) Ces mots à partir de امواله manquent dans A. — (٣) عدة manque dans C. — (٤) نتم C. — (٥) التقيا C. — (٦) C. — (٧) وان A. — (٨) C. المكعبين (٨) C. وهو (٩) C. — (١٠) على اصناف C.

(*) Voyez Fig. 29, 1.

وقوعات (١) وأنواع ونوع منها يداخل (٢) الصنف الثالث وليس في مسائله مستحيل وقد خرج بخواص الدائرة وقطع زايد

الصنف الثالث من الاصناف الثلاثة الرباعية الباقية (٣) هو مكعب واعداد تعدل اضلاعا واموالا نفرض (٤) بج لعدة الاموال وبد عمودا عليه وهو ضلع مربع مساو لعدة الجذور ونعمل مجسما قاعدته مربع بد ويكون مساويا للعدد المفروض وليكن ارتفاعه س فخط س اما ان يكون اصغر من بج او مثله او اعظم منه وليكن اولا اصغر منه (٥) ونفصل من بج با مثل س وننتم (٦) بز ونعمل على نقطة آ قطعاً زايداً لا يلسقه بد دز وهو قطع حاط ونعمل قطعاً آخر (٧) زايداً رأسه نقطة ج وسهمه على استقامة بج وكل واحد من ضلعيه القائيم والمائل مثل آج فهو لا محالة يقطع القطع الآخر وهو كجل فليستقاطع قطع كجل وقطع حاط على نقطة م فيكون نقطة (٨) م معلومة لان الوضع لان القطعين معلوما الوضع ونخرج منها (٩) عمودى من هـع فيكونان معلومى الوضع (١٠) والقدر فسطح (١١) دا مثل سطح دم ويكون نه مثل زآ على ما بيناه مرارا (١٢) فاضلاعهما متساوية وكذلك مربعات اضلاعهما لكن نسبة مربع مه الى مربع ها كنسبة جه الى ها لقطع كجل فيكون نسبة مربع بد الى مربع به كنسبة جه الى ها فالمجسم الذى قاعدته مربع بد وارتفاعه ها مثل المجسم الذى قاعدته مربع به وارتفاعه جه ونجعل المجسم الذى قاعدته مربع به وارتفاعه بج الذى (١٣) هو عدة اموال مكعب به مشتركا فمكعب به مثل عدة امواله المفروضة مع المجسم الذى قاعدته مربع بد وارتفاعه ها ونجعل المجسم

manque dans A. — (٣) C. تداخل A. بداخل (٢) — C. وقوع (١) — manque dans C. — (٥) C. يتم A. يتم (٦) — C. آخر (٧) — manque dans A. — (٨) C. معلوم (٩) — C. منها (١٠) — A. فالذى (١١) — C. مرار (١٢) — A. سطح (١٣) —

(*) Voyez Fig. 29. — (**) Voyez Fig. 29, ١.

الذى قاعدته مربع \overline{BD} وارتفاعه \overline{HA} مثل الجسم الذى قاعدته مربع \overline{BE} وارتفاعه \overline{HB} ونجعل مكعب \overline{BE} مشتركا فيكون الجسم الذى قاعدته مربع \overline{BE} وارتفاعه \overline{BC} مثل مكعب \overline{BE} مع الجسم الذى قاعدته مربع \overline{BD} وارتفاعه \overline{HA} لكن الجسم الاول مثل عدة اموال مكعب \overline{BE} المفروضة ونجعل الجسم الذى قاعدته مربع \overline{BD} وارتفاعه \overline{BA} الذى عملناه مساويا للعدد المفروض مشتركا فيكون مكعب \overline{BE} مع الجسم الذى قاعدته مربع \overline{BD} وارتفاعه \overline{BE} الذى هو عدة اضلاع مكعب \overline{BE} المفروضة مثل عدة امواله المفروضة مع العدد المفروض (١) وذلك المراد وان كان \overline{SA} مثل \overline{BC} فان \overline{BC} هو ضلع المكعب المطلوب برهانه ان مكعب \overline{BC} مثل عدة امواله المفروضة والجسم (٢) الذى ارتفاعه \overline{BC} وقاعدته مربع \overline{BD} هو (٣) مثل العدد المفروض وهو ايضا مثل عدة اضلاع مكعب \overline{BC} المفروضة فمكعب (٤) \overline{BC} مع عدة اضلاعه المفروضة مساو لعدة امواله المفروضة مع العدد المفروض وكذلك (٥) هذا النوع يداخل (٦) الصنف الثالث لان عدة اضلاع مكعب \overline{BC} المفروضة هو مثل العدد المفروض فيكون مكعب \overline{BC} مع العدد المفروض مساويا لعدة امواله المفروضة مع عدة اضلاعه المفروضة وان (٧) كان \overline{SA} اعظم من \overline{BC} فانا نجعل (٨) \overline{BA} (٨) مثل \overline{SA} ونعمل الدائرة على قطر \overline{AB} والقطع على نقطة \overline{A} يقطع الدائرة على \overline{AK} كما بيناه ونخرج من نقطة (٩) \overline{BK} عمودى \overline{KA} كما فعلناه فى الشكل المتقدم (١٠) فيكون \overline{HB} هو ضلع المكعب المطلوب والبرهان عليه كما تقدم نلقى (١١) سطح \overline{HDE} المشترك فيكون اضلاعه \overline{HE} متكافئة وكذلك مربعاتها فيكون البرهان (١٢) بعينه كما تقدم لا يتغير منه شيء فقد تبين ان لهذا الصنف اختلاف

لمكعب (٤) — \overline{A} وهو (٣) — \overline{C} و \overline{SA} الجسم (٢) — \overline{A} مع العدد مفروض (١)
 (٩) — \overline{C} من \overline{BA} (٨) — \overline{C} فان (٧) — \overline{C} يداخل (٦) — \overline{A} فذلك (٥) — \overline{C}
 \overline{A} ويكون (١٢) — \overline{C} يلقى \overline{A} نلقى (١١) — \overline{C} المقدم (١٠) — \overline{C} نقطتي

(*) Voyez Fig. 28, 2.

واحد انواعه يداخل (١) الصنف الثالث وليس في مسائله مستحيل. وقد خرج بخواص قطعين زائدين

الصنف الثاني من الاصناف الثلاثة الرباعية الباقية هو (٢) مكعب
واضلاع تعدل اموالا واعدادا نضع (٣) $\beta\beta$ لعدة الاموال المفروضة وبدّ ضلع مربع مثل غدة الاضلاع عمودا على $\beta\beta$ ونعمل مجسما مساويا للعدد المفروض ويكون قاعدته مربع بدّ وليكن (٣) ارتفاعه $\beta\beta$ فخط $\beta\beta$ اما ان يكون اصغر من $\beta\beta$ او مثله او اعظم منه فليكن اولا اصغر منه (٣*) ونفضل من $\beta\beta$ با مثل $\beta\beta$ وننتهم (٤) $\alpha\alpha$ ونعمل على قطر $\alpha\alpha$ دائرة اكبر فتكون معلومة الوضع ونعمل على نقطة $\alpha\alpha$ قطعا زائدا لا يلفاة بدّ ذر وهو قطع حاط ويكون معلوم الوضع وحاط يقطع از المماس للدائرة فهو يقطع الدائرة (٥) لانه لو وقع بينها (٦) وبين از امكننا (٧) ان نخرج من نقطة $\alpha\alpha$ خطا يماس القطع كما بينه ابلونيوس في شكل $\beta\beta$ من مقالة ب فذلك الخط اما ان يقع بين (٨) از والدائرة وذلك محال واما ان يقع خارج از فيكون از خطا مستقيما واقعا بين القطع وبين ذلك الخط المماس وذلك محال فليس يقع قطع طاح (٩) بين الدائرة وبين از فهو اذن يقطعها ويقطعها باضطرار على نقطة اخرى فليقطعها على ك فيكون ك معلومة الوضع ونخرج منها عمودي كم كه على $\beta\beta$ بدّ فيكونان معلومي الوضع والقدر كما عرفته وننتهم (١٠) سطح كد فسطح $\alpha\alpha$ مثل سطح كد ونلقى (١١) مز المشترك ونجعل الك مشتركا فيكون بك مثل ال فاضلاعهما متكافئة وكذلك مربعات اضلاعهما لكن نسبة مربع كه الى مربع ها كنسبة هج الى ها (١٢) فيكون نسبة مربع بدّ الى مربع به كنسبة هج الى ها فالحجم (١٣)

(٥) — C. يتم A. دم (٤) — C. وليكون (٣) — C. وهو (٢) — C. يدخل (١)
يقع خط (٩) — C. من (٨) — C. يهكننا (٧) — C. بينها (٦) — C. للدائرة
نسبة لـ حل (١٢) — C. يلقي A. يلقي (١١) — C. يتم A. تتم (١٠) — C. لـ ح
A. والحجم (١٣) — C.

(*) Voyez Fig. 28. — (**) Voyez Fig. 28, 1.

مربع $\overline{ب\kappa}$ وارتفاعه $\overline{ج\kappa}$ لكن هذا المجسم الاخير مثل مكعب $\overline{ب\kappa}$ مع
المجسم الذى قاعدته مربع $\overline{ب\kappa}$ وارتفاعه $\overline{ب\jmath}$ الذى هو عدة الاموال
المفروضة والمجسم الاول مساو للمجسم الذى قاعدته مربع $\overline{ب\delta}$ وارتفاعه
 $\overline{أ\beta}$ الذى عيّنناه مثل العدد المفروض مع المجسم (١) الذى قاعدته مربع
 $\overline{ب\delta}$ وارتفاعه $\overline{ب\kappa}$ الذى هو عدة اضلاع مكعب $\overline{ب\kappa}$ المفروضة فمكعب $\overline{ب\kappa}$
مع عدة امواله المفروضة مثل العدد المفروض مع عدة اضلاعه المفروضة (٢)
وذلك المراد واذا كان $\overline{س}$ مثل $\overline{ب\jmath}$ فان $\overline{ب\delta}$ هو (٣) ضلع المكعب المطلوب
برهانه ان المجسم الذى قاعدته مربع $\overline{ب\delta}$ وارتفاعه ايضا $\overline{ب\delta}$ (٤) الذى
هو (٥) عدة اضلاع مكعب $\overline{ب\delta}$ مساو لمكعب $\overline{ب\delta}$ والمجسم (٦) الذى
قاعدته (٧) مربع $\overline{ب\delta}$ وارتفاعه $\overline{ب\jmath}$ الذى هو عدة اموال مكعب $\overline{ب\delta}$ المفروضة
مساو للمجسم الذى قاعدته مربع $\overline{ب\delta}$ وارتفاعه $\overline{س}$ الذى هو العدد المفروض
فيكون مكعب $\overline{ب\delta}$ مع عدة امواله (٨) المفروضة مساو للعدد المفروض مع عدة
اضلاعه المفروضة وذلك المراد ومعلوم ان مكعب $\overline{ب\delta}$ فى هذا الوقوع مع
العدد المفروض مساو لعدة امواله المفروضة مع عدة اضلاعه المفروضة فقد
داخل هذا الصنف الصنف (٩) الثالث وهو مكعب واعداد تعدل اموالا
واضلاعا وان كان $\overline{س}$ اعظم من $\overline{ب\jmath}$ فانا نجعل (*) $\overline{أ\beta}$ مثل (١٠) $\overline{س}$ ونعمل
القطع الثانى على نقطة $\overline{ج}$ وكل واحد من ضلعيه مثل $\overline{أ\jmath}$ وهو باضطرار
يقطع (١١) القطع الآخر ويكون ضلع المكعب ايضا $\overline{ب\kappa}$ وباقى العمل
والبرهان شبيه بما تقدم الا ان نسبة مربع $\overline{ح\kappa}$ الى مربع $\overline{ك\alpha}$ كنسبة
 $\overline{أ\kappa}$ الى $\overline{ك\jmath}$ (١٢) فقد تبين ان لهذا الصنف اختلاف وقوعات وانواع (١٣)

(١) C. مع مجسم — (٢) Ces mots à partir de مثل sont écrits deux fois dans C. — (٣) C. مثل هو — (٤) C. وارتفاعه $\overline{أ\beta}$ ايضا — (٥) manque dans C. — (٦) C. لـ صنف — (٧) C. قاعدة — (٨) A. الاموال — (٩) C. sans المجسم — (١٠) manque وانواع (١١) C. — (١٢) C. ذلك — (١٣) A. يقع — (١٤) A. يقع — (١٥) A. قتل dans A.

(*) Voyez Fig. 27, 2.

ان نبين وليس (١) لهذا الصنف اختلاف وقوع ولا في مسائله ما يستحيل (٢)

واذ قد أتينا على الاصناف (٣) الاربعة الرباعية فلننقل (٤) على الاصناف الثلاثة (٥) التي كل واحد منها مركب من اثنين يعادلان اثنين الصنف الاول من الاصناف الثلاثة الرباعية الباقية هو مكعب واموال تعدل اضلاعا وعددا نضع (*) بدّ ضلع مربع مساو لعدة الاضلاع وجبّ لعدة الاموال المفروضة وهو عمود على بدّ ونعمل منجسها قاعدته مربع بدّ ويكون مساويا (٦) للعدد المفروض وليكن ارتفاعه س فخط س اما ان يكون اعظم من بـ او اصغر منه او مساويا (٧) له فليكن اولا اصغر منه (**) ونفصل من بـ ا ب مثل س ونقسم (٨) ا د ولنفرض د ز على استقامة بدّ كيف ما وقع ونعمل على د ز سطحاً مثل ا د وهو هـ فيكون هـ معلومة الوضع واضلاع سطح هـ كلها معلومة الوضع والقدر ونعمل على هـ قطعاً زائداً لا يلقاه ز د دح وهو قطع هـ فيكون هـ معلوم الوضع ونعمل قطعاً آخر زائداً رأسه نقطة ا وسهمه ا ب وكل واحد من ضلعيه القائم والمائل مثل ا ج وهو قطع ا ح فهو يقطع القطع الآخر باضطراب (٩) فليقطعه على ح فيكون ح (١٠) معلومة الوضع ونخرج منها عمودي ح ك الى ا ك فيكونان معلومي الوضع والقدر وسطح ح د مثل هـ الذي هو مثل ا د وذلك مشترك فسطح ح ب مثل ا م ويكون اضلاعهما متكافئة وكذلك مربعات اضلاعهما لكن نسبة مربع ح ك الى مربع ك ا كنسبة ج ك الى ا ك لكان قطع ا ح كها بيناه مرارا فيكون نسبة مربع بدّ الى مربع ك ب كنسبة ج ك الى ا ك فالمجسم الذي قاعدته مربع بدّ وارتفاعه ا ك مثل المجسم الذي قاعدته

على (٣) — manque dans C. ما يستحيل (٢) — manque dans C. ليس (١) —
— A. مساو (٧) — C. مساو (٦) — C. الثلاثية (٥) — C. فليقل (٤) — C. اصناف —
manque dans C. فيكون ح (١٠) — manque dans C. باضطراب (٩) — C. قسم (٨) —
dans C.

(*) Voyez Fig. 27. — (**) Voyez Fig. 27, 1.

تعدل مكعباً نفرض (*) به ضلع مربع مثل عدة الاضلاع ونعمل مجسماً
 قاعدته (1) مربع به ويكون مساوياً للعدد المفروض وليكن ارتفاعه \overline{AB}
 عموداً على \overline{BE} ونفرض \overline{BE} لعدة الاموال المفروضة على استقامة \overline{AB}
 وننتيم (2) \overline{AE} ونخرج (3) على استقامة به \overline{EM} كيف ما كان مقداره
 ونعمل (4) على \overline{EM} المفروض سطحاً مثل \overline{AE} وهو سطح \overline{HE} فيكون نقطة \overline{H}
 معلومة الوضع ونعمل على \overline{H} قطعاً زايداً لا يلقاه \overline{EM} \overline{HS} (5) وهو حطك
 فيكون معلوم الوضع ونعمل قطعاً آخر (6) زايداً رأسه نقطة \overline{J} وسهمه على
 استقامة \overline{BE} وكل واحد من ضلعيه القائيم والمائل مثل \overline{AJ} وهو قطع لخط
 ويكون معلوم الوضع ويقطع (7) لا محالة قطع \overline{HJK} فليقطعه على نقطة
 \overline{K} فيكون \overline{K} معلومة الوضع ونخرج منها عمودى \overline{KZ} على \overline{BE} \overline{BM} فيكونان
 معلومى القدر والوضع وطه مثل \overline{HE} الذى هو مثل \overline{HA} ونجعل \overline{HN} مشتركاً
 فيكون \overline{AS} مثل \overline{TB} فاضلاعهما متكافئة (8) وكذلك مربعات اضلاعهما
 لكن نسبة مربع \overline{PN} الى مربع \overline{AN} كنسبة \overline{NJ} الى \overline{AN} كما بيناه مراراً
 لئلا قطع لخط فنسبة مربع \overline{BE} الى مربع \overline{BN} كنسبة \overline{NJ} الى \overline{NA} فالمجسم (9)
 الذى قاعدته مربع به وارتفاعه \overline{AN} مثل المجسم الذى قاعدته مربع \overline{BN}
 وارتفاعه \overline{JN} لكن الاول مساو للمجسم الذى يحيط به مربع به وارتفاعه
 \overline{AB} الذى عملناه مساوياً للعدد مع المجسم الذى (10) قاعدته مربع به
 وارتفاعه \overline{BN} الذى هو مثل عدة اضلاع مكعب \overline{BN} المفروضة فنجعل
 المجسم الذى قاعدته مربع \overline{BN} وارتفاعه \overline{BE} الذى هو مثل عدة الاموال
 المفروضة لمكعب \overline{BN} مشتركاً فيلزم ان يكون مكعب \overline{BN} مثل عدة امواله
 المفروضة مع عدة اضلاعه المفروضة ومع العدد المفروض وذلك ما اردنا

— A. فعمل (4) — manque dans C. ونخرج (3) — C. نتم (2) — C. قاعدة (1)
 نقطع (7) — C. آخر (6) — C. ونعمل على قطعان زايد يلقاه \overline{EM} \overline{HE} \overline{H} (5)
 C. الذى عملناه (10) — A. والمجسم (9) — A. منافذ (8) — C.

(*) Voyez Fig. 26.

لا يلقاه خطا زَجَ جَم وهو الخط الذى هو عمود على نقطة جَ فان لقي القطع الدائرة بالتماس او بالتقاطع فالمسئلة ممكنة والا فهى مستحيلة والبرهان على الاستحالة ما ذكرت وقد اضطر واحد (١) من المهندسين الى هذا الصنف وقد اخرجه الا انه لم يبين اختلاف وقوعاته (٢) ولم يخطر (٣) بباله انه ربما يقع فيه مستحيل كما بيناه (٤) فاعرفه (٥) واعرف القانون الآخر فى عمل هذا الصنف وتمييز الممكن من المستحيل وهذا الصنف (٦) خرج بخواص الدائرة مع خواص القطع الزائد وذلك ما اردنا ان نبين واما المسئلة التى اضطرت واحدا (٧) من المتأخرين الى هذا الصنف هى هذه عشرة قسمتها بقسمين (٨) فيكون مجموع مربعي القسمين مع الخارج من قسمة الاعظم على الاصغر اثنين وسبعين فوضع احد القسمين شيئا والاخر عشرة الاشياء (٩) كعادة الجبريين فى امثال هذه القسمات فأدى (١٠) العمل الى مكعب مع خسة من العدد وثلاثة عشر اضلاعه ونصف معادل (١١) لعشرة اموال وفى هذه المسئلة بعينها يقع نقطت جَ داخل الدائرة فاستخرج المسئلة هذا الفاضل بعد ما اعيت هذه (١٢) المسئلة جماعة من فضلاء العراق ومنهم (١٣) ابو سهل القوهى رحمه الله (١٤) الا ان هذا المستخرج رضى الله عنه (١٥) مع فضله وعظم قدرة فى الرياضيات لم يخطر بباله هذه الاختلافات وفى (١٦) مسائل هذا الصنف (١٧) ما يستحيل وهذا الفاضل هو ابو الجود او الشنى والله اعلم (١٨)

الصنف الرابع من الاصناف الاربعة الرباعية هو اعداد واضلاع واموال

فاعرف (٥) — A. بساء (٤) — A. بهطر (٣) — A. وقوعا (٢) — C. واحدا (١)
 C. واحد (٧) — C. Ces mots à partir de تميز manquent dans C. — C. sans
 — C. فاذا (١٠) — C. الاشياء au lieu de شيئا (٩) — C. ب قسمين (٨)
 C و منهم (١٣) — C. manque dans هذه (١٢) — C. يعادل (١١)
 — A. manque dans رضى الله عنه (١٥) — A. رحمه الله sans القوهى (١٤)
 والله sans او الشنى (١٨) — C. manque dans الصنف (١٧) — C. وهى فى (١٦)
 A. اعلم

بالتماس أو بالتقاطع وذلك يعام بقليل استقرآ مع ضرب من القياس
السهل تركته (١) لكى يحصل للناظرين (٢) فى رسالتى هذه الارتياض (٣)
فان من لا يئنه هذا القدر من الاستنباط لا يتحقق (٤) من هذه الرسالة
شيئا اذ هذه الرسالة مبنية على الكتب الثلاثة التى ذكرناها ونبرهن
على استحالة المستحيل منها بعكس البرهان الذى ذكرناه على الممكن
وذلك ان ضلع المكعب يجب ان يكون اقصر من $\overline{هـ ب}$ الذى هو عدة
الاموال المفروضة لانه ان كان مساويا لعدة الاموال المفروضة يكون ذلك
المكعب مساويا لعدة امواله المفروضة (٥) فاصلا عن زيادة شىء آخر عليه
من العدد او من (٦) اضلاعه فان كان ضلع المكعب اعظم من عدة الاموال
المفروضة كان المكعب نفسه اعظم من عدة امواله المفروضة فضلا عن زيادة
شىء آخر عليه فبين انه يجب ان يكون اقصر منه فنفصل (٧) مثله من
 $\overline{ب هـ}$ (٨) وليكن $\overline{ب ق}$ ونخرج من $\overline{ق}$ عمودا (٩) الى محيط الدائرة ونعكس (١٠)
البرهان الذى ذكرناه فبين ان رأس العمود يكون على محيط القطع
الذى قيل (١١) انه لا يمكن ان يلقى الدائرة وذلك (١٢) محال ولاجل انا
نظن ان هذا الاستقرآ ربما يكون عسرا (١٣) على بعض الناظرين فى هذه
الرسالة فانا نظوى (١٤) هذه الجملة ونأتى بقانون مغن (١٥) عن هذا
الاستقرآ وهو انا نعمل سطحاً على خط كيف ما اردنا يكون (١٦) على
استقامة $\overline{ب ج}$ كيف ما وقعت (١٧) $\overline{ج}$ خارجا او داخلا ويكون احدى زواياه
على نقطة $\overline{ج}$ ويكون مساويا لسطح $\overline{ا ج}$ فلا (١٨) بد من ان يصير اضلاعه
معلومة القدر والوضع ونعمل على الزاوية المقابلة لزاوية $\overline{ج}$ قطعاً زائداً (١٩)

يحقق (٤) — C. الارتياض A. الارتياض (٣) — A. للناظر (٢) — C. مركبة (١)
C. — (٥) Ces mots à partir de يكون sont écrits deux fois dans C. — (٦) Ces
mots sont écrits deux fois dans C. — (٧) فنفصله C. — (٨) سم
A. — (٩) فذلك A. — (١٠) مثل A. — (١١) C. فبعكس (١٠) — A. عمود (٩) — A. C. —
manque يكون (١٦) — C. مغنى (١٥) — C. نظرى (١٤) — A. (عثيراً) عسرا (١٣)
dans A. — (١٩) زائد C. — A. ولا (١٨) — C. وقف A. وقع (١٧) — A.

على آه ومن نقطة لَ عمود لَط على بَز فسطح لَج مثل سطح جَح وجَح (١)
 مثل جَا ونجعل جَك مشتركا يكون دَك مثل طَك فاضلاهما متكافئة
 وكذلك مربعات اضلاعها لكن نسبة مربع لَك الى مربع كَا كنسبة هَك الى
 كَا للدائرة (٢) فيلزم ان يكون نسبة مربع بَج الى مربع بَك كنسبة هَك الى كَا
 فالمجسم الذى قاعدته مربع بَج وارتفاعه كَا مثل المجسم (٣) الذى قاعدته
 مربع بَلَك وارتفاعه كَه لكن المجسم الاول مثل عدة اضلاع (٤) مكعب بَلَك
 المفروضة ومثل العدد المفروض ونجعل مكعب بَلَك (٥) مشتركا فيكون المجسم
 الذى قاعدته مربع بَلَك وارتفاعه بَه الذى هو مثل عدة اموال مكعب بَلَك
 المفروضة (٦) مثل مكعب بَلَك مع عدة اضلاعه المفروضة ومع العدد المفروض
 وكذلك (٧) يكون مكعب بَف (٨) بهذا البرهان هذا اذا وقع نقطتا جَ حَ
 داخل الدائرة فان وقع حَ خارج الدائرة ونعمل القطع فربما (٩) لقي
 الدائرة بالتماس او بالتقاطع [هذا النوع من هذا الصنف هو الذى ذكره
 ابو الجود فى استخراج المسئلة التى سنذكرها (١٠)] ويؤول الأمر الى ما قلنا
 وان لم يلق (١١) القطع الدائرة فلا نزال نعمل السطح على خط اقصر من
 زَج او اطول منه فى الوقوع الآخر فان لم يلق (١٢) القطع الدائرة فالمسئلة
 مستحيلة ويكون البرهان على استحالتها (١٣) بعكس ما ذكرناه وان وقع
 جَ على المحيط او خارج الدائرة فنخرج جَز (١٤) على استقامة ونعمل
 سطحا احدى (١٥) زواياها تكون على جَ ويكون بحيث لو عمل على
 الزاوية (١٦) المقابلة (١٧) لزاوية جَ قطع بالصفة المذكورة يلقى الدائرة

C. الاضلاع (٤) — manque dans C. المجسم (٣) — C. لدائرة (٢) — A. وخرج (١) —
 المفروض (٦) — Ces mots à partir de المفروضة sont écrits deux fois dans C. — (٥) —
 (١٠) — A. وربما (٩) — C. بَر (٨) — manque dans C. وكذلك (٧) — C. —
 Ce passage à partir de هذا النوع se trouve dans A. écrit en marge et manque
 dans C. — C. حد (١٤) — C. استحالتها (١٣) — C. يكن (١٢) — C. يكن (١١) —
 (١٥) — C. على احدى (١٥) — C. الزوايا (١٦) — C. Ici le Ms. C. ajoute encore
 لزاوية المقابلة.

بالتباس او بالتقاطع وذلك يعام بقليل استقرأ مع ضرب من القياس السهل تركته (١) لكي يحصل للناظرين (٢) في رسالتى هذه الارتياض (٣) فان من لا يمكنه هذا القدر من الاستنباط لا يتحقق (٤) من هذه الرسالة شيئا اذ هذه الرسالة مبنية على الكتب الثلاثة التى ذكرناها ونبرهن على استحالة المستحيل منها بعكس البرهان الذى ذكرناه على الممكن وذلك ان ضلع المكعب يجب ان يكون اقصر من $\overline{هـ ب}$ الذى هو عدة الاموال المفروضة لانه ان كان مساويا لعدة الاموال المفروضة يكون ذلك المكعب مساويا لعدة امواله المفروضة (٥) فاضلا عن زيادة شيء آخر عليه من العدد او من (٦) اضلاعه فان كان ضلع المكعب اعظم من عدة الاموال المفروضة كان المكعب نفسه اعظم من عدة امواله المفروضة فضلا عن زيادة شيء آخر عليه فبين انه يجب ان يكون اقصر منه فنفصل (٧) مثله من $\overline{ب هـ}$ وليكن $\overline{ب ف}$ ونخرج من $\overline{ف}$ ممودا (٩) الى محيط الدائرة ونعكس (١٠) البرهان الذى ذكرناه فبين ان رأس العمود يكون على محيط القطع الذى قيل (١١) انه لا يمكن ان يلقى الدائرة وذلك (١٢) محال ولاجل انا نطن ان هذا الاستقرأ ربما يكون عسرا (١٣) على بعض الناظرين فى هذه الرسالة فاننا نظوى (١٤) هذه الجملة ونأتى بقانون مغن (١٥) عن هذا الاستقرأ وهو اننا نعمل سطحاً على خط كيف ما اردنا يكون (١٦) على استقامة $\overline{ب ج}$ كيف ما وقعت (١٧) $\overline{ج}$ خارجا او داخلا ويكون احدى زواياه على نقطة $\overline{ج}$ ويكون مساويا لسطح $\overline{ا ج}$ فلا (١٨) بد من ان يصير اضلاعه معلومة القدر والوضع ونعمل على الزاوية المقابلة لزاوية $\overline{ج}$ قطعاً زائداً (١٩)

يحقق (٤) — C. الارتياض A. لا ارتياض (٣) — A. للناظر (٢) — C. مركبة (١) — C. — (٥) Ces mots à partir de يكون sont écrits deux fois dans C. — (٦) Ces mots sont écrits deux fois dans C. — (٧) فنفصله C. — (٨) نعم A. — (٩) ممودا A. — (١٠) فبعكس C. — (١١) مثل A. — (١٢) محال A. C. — (١٣) عسراً A. — (١٤) نظوى C. — (١٥) مغنى C. — (١٦) يكون manque (١٧) وقعت A. — (١٨) ولا A. — (١٩) زايد C. dans A. —

على آة ومن نقطة لَ عمود لَط على بَز فسطح لَح مثل سطح جَح و جَح (١)
 مثل جَا ونجعل جَك مشتركاً يكون دَك مثل طَك فاضلاهما متكافئة
 وكذلك مربعات اضلاعهما لكن نسبة مربع لَك الى مربع كَا كنسبة هَك الى
 كَا للدائرة (٢) فيلزم ان يكون نسبة مربع بَج الى مربع بَك كنسبة هَك الى كَا
 فالمجسم الذى قاعدته مربع بَج وارتفاعه كَا مثل المجسم (٣) الذى قاعدته
 مربع بَك وارتفاعه كَه لكن المجسم الاول مثل عدة اضلاع (٤) مكعب بَك
 المفروضة ومثل العدد المفروض ونجعل مكعب بَك (٥) مشتركاً فيكون المجسم
 الذى قاعدته مربع بَك وارتفاعه بَه الذى هو مثل عدة اموال مكعب بَك
 المفروضة (٦) مثل مكعب بَك مع عدة اضلاعه المفروضة ومع العدد المفروض
 وكذلك (٧) يكون مكعب بَف (٨) بهذا البرهان هذا اذا وقع نقطتا جَ ح
 داخل الدائرة فان وقع ح خارج الدائرة ونعمل القطع فربما (٩) لقي
 الدائرة بالتهاس او بالتقاطع [هذا النوع من هذا الصنف هو الذى ذكره
 ابو الجود فى استخراج المسئلة التى سنذكرها (١٠)] ويؤول الأمر الى ما قلنا
 وان لم يلق (١١) القطع الدائرة فلا نزال نعمل السطح على خط اقصر من
 زَج او اطول منه فى الوقوع الآخر فان لم يلق (١٢) القطع الدائرة فالمسئلة
 مستحيلة ويكون البرهان على استحالتها (١٣) بعكس ما ذكرناه وان وقع
 جَ على المحيط او خارج الدائرة فنخرج جَز (١٤) على استقامة ونعمل
 سطحاً احدى (١٥) زواياه تكون على جَ ويكون بحيث لو عمل على
 الزاوية (١٦) المقابلة (١٧) لزاوية جَ قطع بالصفة المذكورة يلقى الدائرة

C. الاضلاع (٤) — manque dans C. المجسم (٣) — C. لدائرة (٢) — A. وخرج (١)
 (٥) — Ces mots à partir de المفروضة sont écrits deux fois dans C. — (٦) المفروض
 (١٠) — A. وربما (٩) — C. بَ A. بر (٨) — manque dans C. وكذلك (٧) — C.
 Ce passage à partir de هذا النوع se trouve dans A. écrit en marge et manque
 dans C. — C. حد (١٤) — C. استحالتها (١٣) — C. يكن (١٢) — C. يكن (١١) —
 (١٥) — C. على احدى (١٥) — C. الزوايا (١٦) — C. Ici le Ms. C. ajoute encore
 لزاوية المقابلة.

وارتفاعه $\overline{بَد}$ الذى عملناه مثل العدد المفروض مشتركا فيكون مكعب $\overline{بَل}$ مع عدد امواله المفروض (١) ومع العدد (٢) المفروض مثل المجسم الذى قاعدته مربع $\overline{أَب}$ وارتفاعه $\overline{بَل}$ الذى هو مثل عدة اضلاع مكعب $\overline{بَل}$ المفروضة وذلك المراد فقد تبين ان هذا الصنف له اختلافى وقوعات وربما يوجد (٣) فى مسائله (٤) ضلعان لمكعبين (٥) وربما يقع فيها اعنى (٦) فى مسائله مستحيل وقد خرج بخواص قطعين زائدين وذلك ما اردنا ان نبين (٧)

الصنف الثالث من الاصناف الاربعة الرباعية هو مكعب واضلاع
 واعداد تعدل اموالا نفرض (*) خط $\overline{بَ}$ لعدة الاموال المفروضة وبجـ ضلع
 مربع مساو لعدة الاضلاع ويكون عمودا على $\overline{بَ}$ ونعمل مجسما قاعدته (٨)
 مربع بجـ ويكون مساويا للعدد المفروض وليكن ارتفاعه $\overline{أَب}$ وعلى استقامة
 $\overline{بَ}$ ونعمل على $\overline{أَ}$ نصف دائرة $\overline{أَ}$ فنسقط $\overline{جَ}$ اما ان تقع داخل الدائرة
 او على محيطها او خارجا منها فلتقع أولا داخل الدائرة ونخرج بجـ على
 استقامة حتى يقطع الدائرة على $\overline{ز}$ ونتم سطح $\overline{أَج}$ ونعمل على $\overline{زَ}$ سطح
 مساويا لسطح $\overline{أَج}$ (٩) وهو $\overline{جَ}$ فيكون نقطة $\overline{حَ}$ معلومة الوضع لان سطح
 $\overline{جَ}$ معلوم القدر وزواياه ايضا (١٠) معلومة القدر وخط $\overline{زَ}$ معلوم الوضع
 والقدر وهى اما ان تقع داخل الدائرة او على محيطها او خارجا منها
 فلتقع أولا داخل الدائرة ونعمل على نقطة $\overline{حَ}$ قطعاً زائدا لا يلقاه $\overline{زَ}$ $\overline{جَ}$
 فهو يقطع الدائرة على نقطتين باضطرار فى هذا الوضع فليقطعها على نقطتي
 $\overline{لَ}$ $\overline{نَ}$ فتكونان (١١) معلومتى الوضع ونخرج منها (١٢) عمودى لكـ $\overline{نَف}$

(١) — C. يـوخذ A. بـوحد (٣) — C. ومع عدد (٢) — A. المفروضة (١)
 (٧) — C. فيها اعنى sans وقع (٦) — C. المكعبين (٥) — C. مسئلة
 (٩) — C. قاعدة (٨) — C. تبين C. porte اردنا ان نبين
 منها (١٢) — A. وكونان (١١) — C. اشياء (١٠) — C. manque dans حتى
 A. C.

(*) Voyez Fig. 25.

ويكون مساويا للعدد المفروض وليكن ارتفاعه $\overline{ب د}$ على استقامة $\overline{ب ج}$ ونعمل على نقطة $\overline{د}$ قطعا زائدا لا يلقاه $\overline{أ ب}$ $\overline{أ ه}$ بعد ان تمهنا سطح $\overline{ب ه}$ وهو قطع $\overline{ز د ج}$ ونعمل قطعا آخر زائدا رأسه نقطة $\overline{د}$ وسهه على استقامة $\overline{ب د}$ وكل واحد من ضلعيه القائيم والمائل مثل $\overline{د ج}$ وهو $\overline{ط د ج}$ ولا محالة ان هذا القطع يقطع الاول على $\overline{د}$ فان امكن ان يلتقى على نقطة أخرى فالمسئلة ممكنة والا فهي مستحيلة هذا (١) الالتقاء بالتماس او بالتقاطع على نقطتين بناؤه (٢) على المقالة الرابعة من كتاب (٣) المخروطات وقد ضمنا ألا نحيل الا على مقالتين منه ومع هذا فلا يضرنا بعد ان الشقا (٤) سواء كان بالتماس او بالتقاطع (٥) فافهم (٦) والالتقاء اما ان يكون بالتماس واما ان يكون بالتقاطع فان قطعه على غير نقطة (٧) $\overline{د}$ فباضطراب يقطعه على نقطتين وبالجمله فانا نخرج من نقطة التقاطع او الالتقاء كيف ما كان وليكن نقطة $\overline{ح}$ عمودي $\overline{ح م}$ كحل فيكونان (٨) معلومى الوضع والقدر لان نقطة $\overline{ح}$ معلومة الوضع فسطح $\overline{أ ح}$ مثل سطح $\overline{أ د}$ ويلقى (٩) $\overline{ه م}$ المشترك يبقى $\overline{م د}$ مثل $\overline{ه ح}$ ونجعل $\overline{د ح}$ مشتركا يكون $\overline{م د}$ مثل $\overline{ه ل}$ فاضلاعها متكافئة وكذلك مربعات اضلاعها فيكون نسبة مربع $\overline{أ ب}$ الى مربع $\overline{ب ل}$ كنسبة مربع $\overline{ح ل}$ الى مربع $\overline{ل د}$ ولكن نسبة مربع $\overline{ح ل}$ الى مربع $\overline{ل د}$ كنسبة $\overline{ج ل}$ الى $\overline{ل د}$ كما بيناه مرارا فيكون نسبة مربع $\overline{أ ب}$ الى مربع $\overline{ب ل}$ كنسبة $\overline{ج ل}$ الى $\overline{ل د}$ فالمجسم الذى ارتفاعه $\overline{ل د}$ وقاعدته مربع $\overline{أ ب}$ مثل المجسم الذى قاعدته (١٠) مربع $\overline{ب ل}$ وارتفاعه $\overline{ل ج}$ لكن هذا المجسم الأخير مثل مكعب $\overline{ب ل}$ مع المجسم الذى قاعدته مربع $\overline{ب ل}$ وارتفاعه $\overline{ب ج}$ الذى هو مثل عدة الاموال المفروضة ونجعل المجسم الذى قاعدته مربع $\overline{أ ب}$

manque كتاب (٣) — C. بالتماس والتقاطع بناؤه (٢) — C. وآلا هذا (١) dans C. — (٦) Tout ce sans ب C. — (٥) sans التقاطع (٥) — A. sans le reste بضر (٤) — C. — (١٠) قاعدة C. — (٩) sans يلقي C. — (٨) فيكون من C. — (٧) مقطعة C. —

على قطر دج نصف دائرة دزج ونتمم (١) سطح بك ونعمل على نقطة ج قطعاً زايداً (٢) لا يلقاه خطأ (٣) به هك فهو يقطع الدائرة على نقطة ج لانه يقطع الخط المماس لها وهو جك فيلزم ان يقطعها على نقطة أخرى (٤) فليقطعها على ز فيكون ز معلومة الوضع لان الدائرة والقطع معلوما الوضع ونخرج من ز عمودى زط زا على هك ها فسطح زه مثل سطح بك ويلقى هل المشترك يبتقى سطح زب مثل سطح لك يكون نسبة زل الى لـج كنسبة هب الى بل لان هب مثل طل وكذلك مربعاتها ايضاً متناسبة لكن نسبة مربع زل الى مربع لـج كنسبة دل الى لـج للدائرة (٥) فيكون نسبة مربع هب الى مربع بل كنسبة دل الى لـج فيكون المجسم الذى قاعدته مربع هب وارتفاعه لـج مثل المجسم الذى قاعدته مربع بل وارتفاعه دل لكن هذا المجسم الأخير مثل مكعب بل مع المجسم الذى قاعدته مربع بل وارتفاعه بد الذى هو مثل عدة الاموال المفروضة ونجعل المجسم الذى قاعدته مربع هب وارتفاعه بل الذى هو مثل عدة الجذور مشتركا فيكون المجسم الذى قاعدته مربع هب وارتفاعه بـج الذى عملناه مساوياً للعدد المفروض مثل مكعب بل مع مثل عدد اضلاعه المفروض (٦) ومع مثل عدة امواله المفروضة وذلك ما اردنا ان نبين فليس لهذا الصنف اختلاف وقوع ولا يستحيل من مسائله شىء وخرج بخواص القطع الزايد مع خواص الدائرة (٧)

الصنف الثانى من الاصناف الاربعة الرباعية هو مكعب واموال واعداد تعدل (٨) اضلاعاً نضع (*) اب ضلع مربع مساو لعدة الاضلاع وبـج لعدة الاموال المفروضة ويكون عمودا على اب ونعمل مجسماً قاعدته مربع اب

ونعمل قطعاً زايداً راسه نقطة ج ولا A. et C. portent (٢) — C. يتم A. بم (١) — A. الى الدائرة (٥) — C. معنى (٤) — C. خط (٣) — etc. C'est une méprise. — وعدد يعدل (٨) — C. وخرج بخواص زايدة مع الدائرة (٧) — A. المفروضة (٦) — C.

(*) Voyez Fig. 24.

على قطر دَج نصف دائرة دَزَج ونتمهم (١) سطح بَك ونعمل على نقطة جَ قطعاً زايداً (٢) لا يلقاه خطاً (٣) بَه هَك فهو يقطع الدائرة على نقطة جَ لانه يقطع الخط المماس لها وهو جَك فيلزم ان يقطعها على نقطة أخرى (٤) فليقطعها على زَ فيكون زَ معلومة الوضع لان الدائرة والقطع معلوما الوضع ونخرج من زَ عمودى زَطَ زَا على هَك ها فسطح زَ مثل سطح بَك ويلقى هَل المشترك يبقى سطح زَبَ مثل سطح لَك يكون نسبة زَل الى لَج كنسبة هَب الى بَل لان هَبَ مثل طَل وكذلك مربعاتها ايضا متناسبة لكن نسبة مربع زَل الى مربع لَج كنسبة دَل الى لَج للدائرة (٥) فيكون نسبة مربع هَب الى مربع بَل كنسبة دَل الى لَج فيكون المجسم الذى قاعدته مربع هَبَ وارتفاعه لَج مثل المجسم الذى قاعدته مربع بَل وارتفاعه دَل لكن هذا المجسم الأخير مثل مكعب بَل مع المجسم الذى قاعدته مربع بَل وارتفاعه بَد الذى هو مثل عدة الاموال المفروضة ونجعل المجسم الذى قاعدته مربع هَبَ وارتفاعه بَل الذى هو مثل عدة الجذور مشتركا فيكون المجسم الذى قاعدته مربع هَبَ وارتفاعه بَج الذى عملناه مساوياً للعدد المفروض مثل مكعب بَل مع مثل عدد اضلاعه المفروض (٦) ومع مثل عدة امواله المفروضة وذلك ما اردنا ان نبين فليس لهذا الصنف اختلاف وقوع ولا استحيل من مسائله شىء وخرج بخواص القطع الزايد مع خواص الدائرة (٧)

الصنف الثانى من الاصناف الاربعة الرباعية هو مكعب واموال واعداد تعدل (٨) اضلاعاً نضع (*) اَبَ ضلع مربع مساو لعدة الاضلاع و بَجَ لعدة الاموال المفروضة ويكون عموداً على اَبَ ونعمل مجسماً قاعدته مربع اَبَ

ونعمل قطعاً زايداً راسه نقطة جَ ولا A. et C. portent (٢) — C. يتم A. نعم (١) — A. الى الدائرة (٥) — C. يعنى (٤) — C. خط (٣) — etc. C'est une méprise. — وعدد يعدل (٨) — C. وخرج بخواص زايدة مع الدائرة (٧) — A. المفروضة (٦) C.

(*) Voyez Fig. 24.

يشقاعان باضطراب (١) فليشقا على ٤ فيكون ٤ معلومة الوضع ونخرج منها عمودى $\overline{هـ}$ على $\overline{أب}$ $\overline{أد}$ فسطح $\overline{هـ}$ مثل سطح (٢) $\overline{جأ}$ فيكون نسبة $\overline{أك}$ الى $\overline{بج}$ كنسبة $\overline{أب}$ الى $\overline{هـك}$ ويكون مربعاتها ايضا متناسبة لكن مربع $\overline{هـك}$ مثل ضرب $\overline{كب}$ فى $\overline{أب}$ لان $\overline{هـك}$ خط ترتيب فى قطع $\overline{بهم}$ فيكون نسبة مربع $\overline{أب}$ الى مربع $\overline{هـك}$ كنسبة $\overline{أب}$ الى $\overline{بك}$ فنسبة مربع $\overline{بج}$ الى مربع $\overline{أك}$ كنسبة $\overline{بك}$ الى $\overline{أب}$ فيكون الجسم الذى قاعدته مربع $\overline{بج}$ وارتفاعه $\overline{أب}$ مساويا للجسم الذى قاعدته مربع (٣) $\overline{أك}$ وارتفاعه $\overline{كب}$ لتكافؤ الارتفاعين والقاعدتين ونجعل الجسم الذى قاعدته مربع $\overline{أك}$ وارتفاعه $\overline{أب}$ مشتركا فيكون مكعب $\overline{أك}$ مساويا للجسم الذى قاعدته مربع $\overline{بج}$ وارتفاعه $\overline{أب}$ الذى عيئناه مثل العدد المفروض مع الجسم الذى قاعدته مربع $\overline{أك}$ وارتفاعه $\overline{أب}$ الذى هو عدة الاموال المفروضة فيكون مكعب $\overline{أك}$ مثل عدة امواله المفروضة مع العدد المفروض وليس لهذا الصنف اختلاف وقوع ولا استحيل من مسائله شىء وقد خرج بخواص قطعين مكاف وزايد (٤) معا

واذ قد أثينا (٥) على الاصنافى الثلاثية فلنقل (٦) على الرباعية الاربعة (٧) التى كل صنف منها مركب (٨) من تعادل ثلاثة وواحد (٩) فالصنف الاول من الاربعة الرباعية هو مكعب واموال واصلا تعدل (١٠) اعدادا نضع (*) به ضلع (١١) مربع مساو لعدة الاصلا المفروضة ونعمل مجسها قاعدته مربع به ويكون مساويا للعدد المفروض وليكن (١٢) ارتفاعه $\overline{بج}$ عمودا على به ونعمل (١٣) $\overline{بد}$ مثل عدة الاموال المفروضة على استقامة $\overline{بج}$ ونعمل

(١) C. — متقاطعان باضطراب (٢) C. — manque dans A. — (٣) Ces mots (٤) C. — أثبتنا (٥) C. — وزايد (٦) C. — etc. manquent dans C. — $\overline{بج}$ وارتفاعه (٧) C. — او واحد (٨) C. — مركبين (٩) C. — manque dans C. — الاربعة (١٠) C. — فتتقل (١١) C. — كل ضلع (١٢) C. — (١٣) C. — و sans ليكن (١٤) C. — يعدل (١٥) C. — (١٦) Voyez Fig. 23.

على قطر دَج نصف دائرة دَزَج ونتمهم (١) سطح بَك ونعمل على نقطة جَ
 قطعاً زايداً (٢) لا يلقاه خطأ (٣) بَه هَك فهو يقطع الدائرة على نقطة جَ لانه
 يقطع الخط المماس لها وهو جَك فيلزم ان يقطعها على نقطة أخرى (٤)
 فليقطعها على زَ فيكون زَ معلومة الوضع لان الدائرة والقطع معلوما الوضع
 ونخرج من زَ عمودى زَطَ زَا على هَك ها فسطح زَ مثل سطح بَك ويلقى هل
 المشترك يبتقى سطح زَبَ مثل سطح لَك يكون نسبة زَل الى لَج كنسبة
 هَب الى بَل لان هَبَ مثل طَل وكذلك مربعاتها ايضاً متناسبة لكن
 نسبة مربع زَل الى مربع لَج كنسبة دَل الى لَج للدائرة (٥) فيكون نسبة مربع
 هَب الى مربع بَل كنسبة دَل الى لَج فيكون المجسم الذى قاعدته مربع
 هَب وارتفاعه لَج مثل المجسم الذى قاعدته مربع بَل وارتفاعه دَل لكن
 هذا المجسم الأخير مثل مكعب بَل مع المجسم الذى قاعدته مربع بَل
 وارتفاعه بَد الذى هو مثل عدة الاموال المفروضة ونجعل المجسم الذى
 قاعدته مربع هَب وارتفاعه بَل الذى هو مثل عدة الجذور مشتركا فيكون
 المجسم الذى قاعدته مربع هَب وارتفاعه بَج الذى عملناه مساوياً للعدد
 المفروض مثل مكعب بَل مع مثل عدد اضلاعه المفروض (٦) ومع مثل عدة
 امواله المفروضة وذلك ما اردنا ان نبين فليس لهذا الصنف اختلاف
 وقوع ولا يستحيل من مسائله شئ. وخرج بخواص القطع الزايد مع خواص
 الدائرة (٧)

الصنف الثانى من الاصناف الاربعة الرباعية هو مكعب واموال واعداد
 تعدل (٨) اضلاعاً نضع (*) اَبَ ضلع مربع مساو لعدة الاضلاع و بَجَ لعدة
 الاموال المفروضة ويكون عموداً على اَبَ ونعمل مجسماً قاعدته مربع اَبَ

ونعمل قطعاً زايداً راسه نقطة جَ ولا A. et C. portent (٢) — C. يتم A. بم (١)
 — الى الدائرة (٥) — C. معنى (٤) — C. خط (٣) — C'est une méprise. etc.
 وعدد يعدل (٨) — C. وخرج بخواص زايدة مع الدائرة (٧) — A. المفروضة (٦)
 C.

(*) Voyez Fig. 24.

يشقاعان باضطراب (١) فليشقاطعا على \bar{e} فيكون \bar{e} معلومة الوضع ونخرج منها عمودى $\bar{h\bar{t}}$ على $\bar{a\bar{b}}$ $\bar{a\bar{d}}$ فسطح $\bar{h\bar{a}}$ مثل سطح (٢) $\bar{g\bar{a}}$ فيكون نسبة $\bar{a\bar{k}}$ الى $\bar{b\bar{g}}$ كنسبة $\bar{a\bar{b}}$ الى $\bar{h\bar{k}}$ ويكون مربعاتها ايضا متناسبة لكن مربع $\bar{h\bar{k}}$ مثل ضرب $\bar{k\bar{b}}$ فى $\bar{a\bar{b}}$ لان $\bar{h\bar{k}}$ خط ترتيب فى قطع $\bar{b\bar{h}}$ فيكون نسبة مربع $\bar{a\bar{b}}$ الى مربع $\bar{h\bar{k}}$ كنسبة $\bar{a\bar{b}}$ الى $\bar{b\bar{k}}$ فنسبة مربع $\bar{b\bar{g}}$ الى مربع $\bar{a\bar{k}}$ كنسبة $\bar{b\bar{k}}$ الى $\bar{a\bar{b}}$ فيكون المجسم الذى قاعدته مربع $\bar{b\bar{g}}$ وارتفاعه $\bar{a\bar{b}}$ مساويا للمجسم الذى قاعدته مربع (٣) $\bar{a\bar{k}}$ وارتفاعه $\bar{k\bar{b}}$ لتكافؤ الارتفاعين والقاعدتين ونجعل المجسم الذى قاعدته مربع $\bar{a\bar{k}}$ وارتفاعه $\bar{a\bar{b}}$ مشتركا فيكون مكعب $\bar{a\bar{k}}$ مساويا للمجسم الذى قاعدته مربع $\bar{b\bar{g}}$ وارتفاعه $\bar{a\bar{b}}$ الذى عملناه مثل العدد المفروض مع المجسم الذى قاعدته مربع $\bar{a\bar{k}}$ وارتفاعه $\bar{a\bar{b}}$ الذى هو عدة الاموال المفروضة فيكون مكعب $\bar{a\bar{k}}$ مثل عدة امواله المفروضة مع العدد المفروض وليس لهذا الصنف اختلاف وقوع ولا يستحيل من مسائله شىء وقد خرج بخواص قطعين مكافى وزايد (٤) معا

واذ قد أثبتنا (٥) على الاصناف الثلاثية فلنقل (٦) على الرباعية الاربعة (٧) التى كل صنف منها مركب (٨) من تعادل ثلاثة وواحد (٩) فالصنف الاول من الاربعة الرباعية هو مكعب واموال واضلاع تعدل (١٠) اعدادا نضع (*) $\bar{p\bar{e}}$ ضلع (١١) مربع مساو لعدة الاضلاع المفروضة ونعمل مجسما قاعدته مربع $\bar{p\bar{e}}$ ويكون مساويا للعدد المفروض وليكن (١٢) ارتفاعه $\bar{b\bar{g}}$ عمودا على $\bar{p\bar{e}}$ ونعمل (١٣) $\bar{p\bar{d}}$ مثل عدة الاموال المفروضة على استقامة $\bar{b\bar{g}}$ ونعمل

(١) C. — متقاطعان باضطراب (٢) C. — manque dans A. — (٣) Ces mots (٤) C. — أثبتنا (٥) C. — وزايد (٦) C. — etc. manquent dans C. — $\bar{b\bar{g}}$ وارتفاعه (٧) C. — او واحد (٨) C. — مركبين (٩) C. — manque dans C. — الاربعة (١٠) C. — فتعدل (١١) C. — يعدل (١٢) C. — و (١٣) C. — sans ليكون (١٤) C. — كل ضلع (١٥) C. — يعدل (١٦) C. — Voyez Fig. 23.

نقطة د داخل القطع المكافئ فيتقاطع القطعان (١) على نقطتين وبالجملة فاننا نخرج من نقطة الالتقاء عمودا على \overline{AB} فليكن في الشكل الثاني \overline{PZ} وكذلك عمودا (٢) آخر منها على \overline{JH} وهو \overline{PK} فسطح \overline{PJK} مثل سطح \overline{DJK} فيكون نسبة \overline{ZJ} الى \overline{BK} كنسبة \overline{PZ} الى \overline{PK} و \overline{PZ} من خطوط الترتيب في قطع \overline{APL} يكون مربعه مثل ضرب \overline{AZ} في \overline{BK} فيكون نسبة \overline{BK} الى \overline{PZ} كنسبة \overline{PZ} الى \overline{ZA} فالخطوط (٣) الاربعة متناسبة نسبة \overline{ZJ} الى \overline{JB} كنسبة \overline{JB} الى \overline{PZ} وكنسبة \overline{PZ} الى \overline{ZA} فنسبة مربع \overline{ZJ} الاول (٤) الى مربع \overline{BK} الثاني كنسبة \overline{BK} الثاني الى \overline{ZA} الرابع فيكون مكعب \overline{BK} الذي هو مثل العدد المفروض مساويا (٥) للمجسم الذي قاعدته مربع \overline{ZJ} (٦) وارتفاعه \overline{ZA} ونجعل مكعب \overline{ZJ} (٧) مشتركا فيكعب \overline{ZJ} (٨) مع العدد المفروض مساو للمجسم الذي قاعدته مربع \overline{ZJ} (٩) وارتفاعه \overline{AJ} الذي هو مثل عدة الاموال المفروضة وذلك المراد وقس عليه الباقيين على ان الثالث يخرج منها مكعبان لا محالة لان كل عمود يفصل ضلع مكعب من \overline{JA} كما تبين (١٠) فقد تبين ان هذا الصنف له اختلاف وقوعات وقد يقع فيها ما يستحيل وقد (١١) خرج بخواص قطعين مكافئ وزايد (١٢) معا

الصنف السادس من الاصناف الستة الثلاثية الباقية هو مكعب يعدل اموالا واعدادا نفرض (*) عدة الاموال خط \overline{AB} ونعمل مجسما ارتفاعه \overline{AB} وقاعدته مربع ويكون مساويا للعدد المفروض وليكن ضلع قاعدته \overline{BK} عمودا على \overline{AB} ونتمم (١٣) سطح \overline{DBK} ونعمل على نقطة \overline{D} المعلومة الوضع قطعاً زايداً لا يلقاه \overline{AB} \overline{AD} وهو قطع جهز وقطعا آخر مكافيا رأسه نقطة \overline{B} وسهمه على استقامة \overline{AB} وصلعه القائم \overline{AB} وهو بهج فهذان القطعان

الاول (٤) — A. في sans الخطوط (٣) — C. عمود (٢) — A. العطس (١)
 زب (٨) — A. C. زب (٧) — A. C. زب (٦) — A. مساو (٥) — C. manque dans C.
 A. C. — (٩) زب A. C. — (١٠) Tout ce passage, à partir de manque وقس (١٠) — A. C. — (١١) manque dans A. — (١٢) وزايد C. — (١٣) تم A. يتم C.

(*) Voyez Fig. 22.

زيادة المكعب وان كان ضلع المطلوب اصغر منه كان ضرب $\bar{A} \bar{B}$ في مربعه
اصغر من العدد المفروض فيكون عدة الاموال اصغر من العدد (١) المفروض
فضلا عن الزيادة وان كان الضلع اكبر من \bar{C} كان مكعبه اكبر (٢) من ضرب
 $\bar{A} \bar{B}$ في مربعه فضلا عن زيادة العدد عليه ثم ان كان \bar{C} اعظم من $\bar{A} \bar{B}$ يكون
المحال في الوجوه الثلاثة الزم فيجب ان يكون \bar{C} اصغر من $\bar{A} \bar{B}$ والا فالمسئلة
مستحيلة فنفصل (٣) $\bar{B} \bar{C}$ من $\bar{A} \bar{B}$ مثل \bar{C} فخط $\bar{B} \bar{C}$ اما ان يكون مثل $\bar{A} \bar{B}$
او اعظم منه او اصغر فليكن في الشكل الاول مثله وفي الثاني اعظم منه وفي
الثالث اصغر منه (٤) ونتم (٥) في الاشكال الثلاثة مربع $\bar{D} \bar{B}$ ونعمل على
نقطة \bar{D} قطعاً زايداً لا يلقاه $\bar{A} \bar{B}$ جه وهو في الاول $\bar{D} \bar{Z}$ وفي الثاني والثالث (٦)
 $\bar{D} \bar{T}$ ونعمل قطعاً مكافئاً رأسه نقطة \bar{A} وسهه $\bar{A} \bar{B}$ وصلعه القاييم $\bar{B} \bar{C}$ وهو في
الاول $\bar{A} \bar{T}$ وفي الثاني $\bar{A} \bar{L}$ وفي الثالث $\bar{A} \bar{K}$ ويكون القطعان معلومي الوضع
ففي (٧) الاول يمر القطع المكافئ على نقطة \bar{D} لان مربع $\bar{D} \bar{B}$ مساو
لضرب $\bar{A} \bar{B}$ في $\bar{B} \bar{C}$ فيكون \bar{D} على محيط القطع المكافئ ويلقاه على نقطة
أخرى ويمكنك (٨) ان تتفطن له بادنى تأمل وفي الثاني يكون نقطة
 \bar{D} خارجة من محيط المكافئ لان مربع $\bar{D} \bar{B}$ اعظم من ضرب $\bar{A} \bar{B}$ في $\bar{B} \bar{C}$
فان التقى القطعان بالتهاس على نقطة أخرى او بالتقاطع فيكون
العبود النازل منها واقعا لا محالة فيها (٩) بين نقطتي $\bar{A} \bar{B}$ كانت المسئلة
ممكنة والا فهي مستحيلة وهذا التهاس او التقاطع لم يتفطن له ابو الجود
المهندس الفاضل حتى حزم القضاء (١٠) بان $\bar{B} \bar{C}$ ان (١١) كان اعظم من $\bar{A} \bar{B}$
كانت المسئلة مستحيلة وابطل في حكمه هذا وهذا الصنف هو الذي اضطر
اليه الماهاني من بين الاصناف الستة حتى تعرف وفي الثالث يكون

(١) manque dans C. — (٢) C. اكثر (٣) C. فنفصل — (٤) manque dans C. — (٥) C. وفي الثالث (٦) C. و يتم A. ويتم (٧) Le Ms. A. ajoute القطع — (٨) C. و يمكنك sans — (٩) C. واقعا فيما لا محالة له — (١٠) C. حزم القضاء — (١١) C. اذا A. حزم القضاء

لضرب $\overline{ا\ط}$ في $\overline{ط\ب}$ (١) وهو ايضا مساو (٢) لضرب $\overline{ب\ط}$ في مثله هذا محال فليس العمود يقع على $\overline{ط}$ (٣) وكذلك لا يقع خارجا منه لانه يكون ذلك العمود حينئذ اقصر من $\overline{طد}$ فيكون هذا المحال الزم فباضطراب يقع العمود على نقطة فيها بين $\overline{ا\ط}$ مثل $\overline{هز}$ ومربع $\overline{هز}$ مثل ضرب $\overline{از}$ في $\overline{بج}$ فيكون نسبة $\overline{از}$ الى $\overline{هز}$ كنسبة $\overline{هز}$ الى $\overline{بج}$ وسطح $\overline{ه\ب}$ مثل سطح $\overline{د\ب}$ كما تبين في شكل $\overline{ح}$ من مقالة $\overline{ب}$ من المخروطات يكون نسبة $\overline{هز}$ الى $\overline{بج}$ كنسبة $\overline{بج}$ الى $\overline{بز}$ فالخطوط الاربعة متناسبة $\overline{از}$ $\overline{هز}$ $\overline{بج}$ $\overline{بز}$ (٤) فنسبة مربع $\overline{بز}$ الرابع الى مربع $\overline{بج}$ الثالث كنسبة $\overline{بج}$ الثالث الى $\overline{از}$ الاول فيكون مكعب $\overline{بج}$ الذي عينناه مساويا للعدد المفروض مساويا للمجسم الذي قاعدته مربع $\overline{بز}$ وارتفاعه $\overline{از}$ لكن هذا المجسم الذي قاعدته مربع $\overline{بز}$ وارتفاعه $\overline{از}$ مساو لمكعب $\overline{بز}$ والمجسم الذي قاعدته مربع $\overline{بز}$ وارتفاعه $\overline{اب}$ وهذا (٥) المجسم الذي قاعدته مربع $\overline{بز}$ (٦) وارتفاعه $\overline{اب}$ هو مثل عدة الاموال المفروضة فيكعب $\overline{بز}$ مع عدة امواله المفروضة مساو للعدد المفروض وذلك ما اردنا ان نبين وهذا الصنف ليس فيه اختلاف وقوع (٧) ولا يستحيل شئ من مسائله وقد خرج بخواص القطوع المكافى والزوائد (٨) معا

الصنف الخامس من الاصناف الستة الثلاثية الباقية مكعب وعدد
يعدل مالا نفرض (٣) $\overline{ا\ب}$ لعدة الاموال ونعمل مكعبا مساويا للعدد المفروض ويكون ضلعه $\overline{ح}$ فخط $\overline{ح}$ لا يخلو اما ان يكون مساويا لخط $\overline{ا\ب}$ او اعظم منه او اصغر فان كان مساويا له استحالت المسئلة لانه لا يخلو اما ان يكون ضلع المكعب المطلوب مثل $\overline{ح}$ او اصغرا او اكبرا فان كان مثله كان ضرب $\overline{ا\ب}$ في مربعه مثل مكعب $\overline{ح}$ فيكون العدد مثل عدة الاموال ولا يحتاج الى

(١) Ce passage à partir de $\overline{ا\ط}$ manque dans C. — (٢) مساويا C. — (٣) $\overline{ا\ط}$ C. — (٤) $\overline{بز}$ etc. manque dans C. — (٥) وهذا C. — (٦) $\overline{بز}$ manque dans C. — (٧) وقع C. — (٨) القطع المكافى والزوائد C.

(*) Voyez Fig. 21, 1. 2. 3.

قاعدته مربع \overline{AB} وارتفاعه (١) \overline{BC} الذى عملناه مساويا للعدد المفروض والمجسم الذى يحيط به قاعدة (٢) مساوية لمربع \overline{AB} وارتفاع \overline{BC} الذى هو مثل عدة الاضلاع المفروضة لمكعب \overline{BC} فمكعب \overline{BC} مثل العدد المفروض ومثل (٣) عدة اضلاعه المفروضة وذلك المراد فقد تبين انه ليس لهذا الصنف اختلاف وقوع ولا فيه شىء يستحيل اعنى فى (٤) مسائله وقد خرج بنحو خاص قطعين مكاف (٥) وزايد معا

الصنف الرابع من الاصناف الستة الثلاثية مكعب واموال تعدل عددا (٦) نضع (*) خط \overline{AB} لعدة الاموال ونعمل مكعبا مساويا للعدد (٧) المفروض وليكن ضلعه \overline{AC} ونخرج \overline{AB} على استقامة ونجعل \overline{BP} مثل \overline{AC} ونسهم (٨) مربع \overline{BP} ونعمل على (٩) نقطة \overline{D} قطاعا زايدا لا يلقاه \overline{BC} \overline{BP} وهو قطع \overline{HD} كما تبين من قوة شكل \overline{D} و \overline{E} (١٠) من مقالة \overline{B} وشكل \overline{NP} من مقالة \overline{A} فيكون قطع \overline{HD} معلوم الوضع لان نقطة \overline{D} معلومة الوضع وخط \overline{BC} \overline{BP} معلوما الوضع ونعمل قطاعا مكافيا رأسه نقطة \overline{A} وسهمه \overline{AP} وضلعه القائم \overline{BC} (١١) وهو قطع \overline{AK} فيكون قطع \overline{AK} (١٢) معلوم الوضع والقطاعان يتقاطعان باضطراب (١٣) فليتقاطعا (١٤) على نقطة \overline{E} فيكون \overline{E} معلومة الوضع ونخرج منها عمودى \overline{HE} على خطى \overline{AP} \overline{BC} فيكونان معلومى الوضع والقدر واقول انه لا يمكن ان يقطع قطع \overline{AK} قطع \overline{HD} على نقطة يكون العمود النازل منها الى خط \overline{AP} هو واقعا على \overline{P} او خارجا منها فليقع (١٥) على \overline{P} ان امكن فيكون مربعه مساويا لضرب \overline{AP} فى \overline{PB} الذى هو مثل \overline{BC} لكن ذلك العمود يكون مساويا لعمود \overline{DP} فيكون مربع \overline{PD} مساويا

(١) Ce passage à partir de \overline{BC} manque dans C. — (٢) A. قاعدته — (٣) C. و sans مثل (٤) Le Ms. C. porte شىء مستحيل من — (٥) مكافى — (٦) C. اعدادا — (٧) C. لعدد — (٨) A. C. نسهم — (٩) C. على — (١٠) C. و \overline{E} — (١١) A. C. \overline{D} — (١٢) C. الفك — (١٣) C. باضطراب — (١٤) A. فليقطع — (١٥) C. فليتقاطعا — (١٦) A. manque dans A. — (١٧) Voyez Fig. 20.

مع العدد المفروض مساويا للمجسم الذى قاعدته مربع $\overline{اب}$ وارتفاعه (١) $\overline{بط}$ وهو عدة اضلاع المكعب وقد تبين ان لهذا الصنف اختلاف وقوع ويقع من مسائله (٢) ما يستحيل وقد خرج بخواص قطعين مكافئ وزايد (٣)

الصنف الثالث مكعب يعدل اضلاعا وعددا نضع (٤) $\overline{اب}$ ضلع مربع مثل عدة الاضلاع (٤) ونعمل مجسها قاعدته (٥) مربع $\overline{اب}$ ويكون مساويا للعدد المفروض وليكن ارتفاعه $\overline{بج}$ عمودا على $\overline{اب}$ ونخرج $\overline{اب}$ $\overline{بج}$ على استقامة ونعمل قطعا مكافيا رأسه نقطة $\overline{ب}$ وسهه على استقامة $\overline{اب}$ وضلعه القائم $\overline{اب}$ وهو $\overline{دب}$ ويكون معلوم الوضع ويكون مماسا لخط $\overline{بج}$ على ما (٦) بينه ابلونيوس فى شكل لج من مقالة ١ ونعمل قطعا آخر زايدا رأسه نقطة (٧) $\overline{ب}$ وسهه على استقامة $\overline{بج}$ وكل واحد من ضلعيه (٨) القائم والمائل مثل $\overline{بج}$ وهو قطع $\overline{زب}$ ويكون (٩) معلوم الوضع ومماسا لخط $\overline{اب}$ فالقطعان لا محالة يتقاطعان فليقاطعا (١٠) على نقطة $\overline{هـ}$ فتكون معلومة الوضع ونخرج من نقطة $\overline{هـ}$ عمودى $\overline{هـط}$ فيها معلوما الوضع والقدر وخط $\overline{هـج}$ من خطوط الترتيب فعلى ما تقدم يكون مربعه مساويا لضرب $\overline{جج}$ فى $\overline{بج}$ فنسبة $\overline{جج}$ الى $\overline{هـج}$ كنسبة $\overline{هـج}$ الى $\overline{حب}$ لكن نسبة $\overline{هـج}$ الى $\overline{حب}$ (١١) هو مثل $\overline{بط}$ الى $\overline{حب}$ الذى هو مثل $\overline{هـط}$ وهو من خطوط الترتيب فى القطع الآخر كنسبة $\overline{هـط}$ الى $\overline{اب}$ الذى هو الضلع القائم للقطع فالخطوط الاربعة متناسبة نسبة $\overline{اب}$ الى $\overline{حب}$ كنسبة $\overline{حب}$ الى $\overline{بط}$ وكنسبة $\overline{بط}$ الى $\overline{جج}$ فنسبة مربع $\overline{اب}$ الاول الى مربع $\overline{حب}$ الثانى كنسبة $\overline{حب}$ الثانى الى $\overline{جج}$ الرابع فيكون مكعب $\overline{حب}$ مساويا للمجسم الذى قاعدته مربع $\overline{اب}$ وارتفاعه $\overline{جج}$ لان ارتفاعيهما مكافئان لقاعدتيهما لكن هذا المجسم مساو للمجسم الذى

— C. اضلاع (٤) — C. وزايد (٣) — C. مسايلها (٢) — C. و sans ارتفاعه (١)
 — A. ضلعه (٨) — C. manque dans نقطة (٧) — C. كها (٦) — C. قاعدة (٥)
 A. الى (١١) — C. فالتقاطعان (١٠) — A. فيكون (٩)

(*) Voyez Fig. ١٩.

اضلاعاً فنفرض (*) \overline{AB} ضلع مربع مساو لعدة الجذور ونعمل مجسماً يكون قاعدته مربع \overline{AB} ويكون مساوياً للعدد المفروض وليكن (١) ارتفاعه \overline{BC} وهو عمود على \overline{AB} ونعمل قطعاً مكافياً رأسه نقطة \overline{B} وسهه على استقامة \overline{AB} وضلعة القائم \overline{AB} وهو دبة ويكون معلوم الوضع ونعمل قطعاً آخر زائداً رأسه نقطة \overline{C} وسهه على استقامة \overline{BC} وكل واحد من ضلعيه القائم والمائل مثل \overline{BC} (٢) وهو \overline{CZ} ويكون (٣) معلوم الوضع كما بينه ابلونيوس في شكل \overline{NCH} من مقالة آفهذان القطعان اما ان يتلاقيا واما ان لا يتلاقيا فان لم يتلاقيا فالمسئلة مستحيلة وان (٤) تلاقيا بالتماس على نقطة او بالتقاطع (٥) على نقطتين فيكون النقطة معلومة الوضع فليتلاقيا على نقطة \overline{E} ونخرج (٦) منها عمودى \overline{HE} على خطى \overline{BC} فيكون العمودان لا محالة معلومى الوضع والقدر وخط \overline{HE} من خطوط الترتيب فيكون نسبة مربع \overline{HE} الى ضرب \overline{BC} فى \overline{CE} كنسبة الضلع القائم الى الضلع المائل كما بينه ابلونيوس في شكل \overline{K} من مقالة آ والصلعان القائم وهو (٧) المنتصب والمائل متساويان فمربع \overline{HE} مساو لضرب \overline{BC} فى \overline{CE} فنسبة \overline{BC} الى \overline{CE} كنسبة \overline{HE} الى \overline{CE} ولكن مربع \overline{HE} الذى هو مثل \overline{BC} مساو لضرب \overline{BC} فى \overline{BA} كما تبين فى شكل \overline{YB} من مقالة آ من كتاب المخروطات فنسبة \overline{AB} الى \overline{BC} كنسبة \overline{BC} الى \overline{BE} وكنسبة \overline{BC} الى \overline{BE} هو مثل \overline{HE} الى \overline{CE} فالخطوط الاربعة متناسبة فنسبة مربع \overline{AB} الاول (٨) الى مربع \overline{BC} الثانى كنسبة \overline{BC} الثانى الى \overline{CE} الرابع فمكعب \overline{BC} مساو للمكعب الذى قاعدته مربع \overline{AB} وارتفاعه \overline{CE} ونجعل المكعب الذى قاعدته مربع \overline{AB} وارتفاعه \overline{BC} الذى عملناه مساوياً للعدد المفروض مشتركاً فيكون مكعب \overline{BC}

(١) C. — ولكن (٢) Ces mots à partir de وكل manquent dans C. — (٣) C. — يخرج (٤) C. — واما ان (٥) C. — فيكون A. — الاول (٨) C. — manque dans C. —

(*) Voyez Fig. 18.

ما معنى العدد المجسم في كلامنا وهو مجسم يكون قاعدته مربع الواحد وارتفاعه مثل العدد المفروض أعني خطا نسبته إلى ضلع قاعدة المجسم كنسبة العدد المفروض (١) إلى الواحد ونخرج \overline{AB} على استقامة إلى \overline{Z} ونعمل قطعا مكافيا رأسه نقطة \overline{B} وسهيه \overline{BZ} وصلعه القائم \overline{AB} وهو قطع \overline{BZ} فيكون قطع \overline{BZ} معلوم الوضع كما بينا أنفا ويكون مماسا لخط \overline{BZ} ونعمل على \overline{BZ} نصف دائرة فانها باضطرار يقطع القطع فليقطعه على \overline{D} ونخرج من \overline{D} التي هي معلومة الوضع كما عرفته عبودي \overline{DZ} على \overline{BZ} فيكونان معلومي الوضع والقدر فخط \overline{DZ} من خطوط الترتيب في القطع فيكون مربعه مساويا لضرب \overline{BZ} في \overline{AB} فيكون نسبة \overline{AB} إلى \overline{DZ} الذي هو مثل \overline{BE} كنسبة \overline{BE} إلى \overline{HD} الذي هو مثل \overline{ZB} لكن نسبة \overline{BE} إلى \overline{HD} كنسبة \overline{HD} إلى \overline{HE} فالخطوط (٢) الاربعة متناسبة \overline{AB} \overline{BE} \overline{HD} \overline{HE} فنسبة مربع \overline{AB} الاول (٣) إلى مربع \overline{BE} الثاني كنسبة \overline{BE} الثاني إلى \overline{HE} الرابع فالمجسم الذي قاعدته مربع \overline{AB} وارتفاعه \overline{HE} مساو لمكعب \overline{BE} لان ارتفاعيهما مكافئان لقاعدتيهما ونجعل المجسم الذي قاعدته مربع \overline{AB} وارتفاعه \overline{HB} مشتركا فيكون مكعب \overline{BE} مع هذا المجسم مثل المجسم (٤) الذي قاعدته مربع \overline{AB} وارتفاعه \overline{BZ} الذي فرضناه مساويا للعدد المفروض لكن المجسم الذي قاعدته مربع \overline{AB} الذي هو مثل عدة الجذور وارتفاعه \overline{HB} الذي هو ضلع المكعب مساو لعدة اضلاع مكعب \overline{HB} المفروضة فيكعب \overline{HB} مع عدة اضلاعه المفروضة (٥) مساو للعدد المفروض وذلك المراد وليس لهذا الصنف اختلاف وقوع ولا يستحيل من مسائله شيء وقد خرج بخواص الدائرة مع خواص القطع المكافئ

الصنف الثاني من الاصناف الستة الثلاثية هو (٦) مكعب وعدد يعدل

(١) \overline{C} . Les mots à partir de \overline{A} jusqu'à \overline{B} manquent dans \overline{B} . — (٢) \overline{A} . — (٣) \overline{A} . \overline{B} . — (٤) \overline{A} . \overline{B} . — (٥) \overline{A} . \overline{B} . — (٦) \overline{C} . —

أَب إلى كَ فيكون نسبة مربع أَج إلى مربع حَز كنسبة هَط إلى بَد فقاعدتا
المجسمين مكافئتان (١) لارتفاعيهما فهما متساويان وذلك ما اردنا ان
نبين

ومن بعد ذلك فانا نأتى (٢) بالصنف الثالث من المفردات وهو
كعب يعدل عدداً (٣) نضع (٤) العدد مجسم (٥) أبجد وقاعدته أَج وهو
مربع الواحد كما قلنا وطوله مثل العدد المفروض ونريد ان نعمل مكعباً
مساوياً له فنأخذ بين خطى أَب بَد (٥) خطين وسطيين في النسبة
فيكونان معلومى القدر كما بيناه (٦) وهما ز ونجعل حَط مساوياً لخط هَ
ونعمل عليه مكعب طَحكل فيكون هذا المكعب معلوم القدر وصلعه معلوم
القدر فاقول انه مساو لمجسم دَ برهانه نسبة مربع أَج إلى مربع طَك
كنسبة أَب إلى حَك مثناة ونسبة أَب إلى حَك مثناة كنسبة أَب إلى ز
الاول الى الثالث من الخطوط الاربعة بل كنسبة (٧) حَك الثاني الى بَد
الرابع فقاعدتا مكعب لَ ومجسم دَ مكافئتان (٨) لارتفاعيهما فهما (٩)
متساويان وذلك ما اردنا ان نبين (١٠)

ومن بعد ذلك فانا نشغل بالاصناف الستة الباقية الثلاثية (١١)
الصنف الاول هو (١٢) مكعب واصلا (١٣) تعدل عدداً (١٤) نضع (١٥) أَب
ضلع مربع (١٥) مساو لعدة الجذور وهو مفروض ونعمل مجسمها يكون
قاعدته مثل مربع أَب ويكون ارتفاعه مثل بَج ويكون مساوياً للعدد
المفروض كما بينا عمله فيها تقدم ونجعل بَج عموداً على أَب وقد علمت

(٥) — C. مجسماً (٤) — C. عدد (٣) — C. فانى ياتى (٢) — B. C. متكافئتان (١)
C. متكافئان (٨) — الاول A. et B. ajoutent ici (٧) — C. بينا (٦) — A. B. C. بَج
فهما (٩) — مكافئان Le Ms. B. qui est très-râpé en cet endroit, semble porter
manque dans B. — (١١) Ce passage à partir de C. بيناه (١٠) — manque dans B. —
(١٥) — B. C. اعداداً (١٤) — C. واصلا (١٣) — C. وهو (١٢) — (١١) B. C. اعداداً (١٤) — C. وهو (١٢) —
المربع B.

(*) Voyez Fig. 16. — (**) Voyez Fig. 17.

مربع (*) أبجد (١) مفروض وهو قاعدة مجسم البجدة المتوازي السطوح القائم (٢) الزوايا ومربع مَح مفروض ونريد ان نعمل على قاعدة مَح مجسما متوازي السطوح قائم الزوايا مساويا لمجسم أبجدة المفروض فنجعل نسبة $\overline{أب}$ الى $\overline{مز}$ كنسبة $\overline{مز}$ الى $\overline{ك}$ ثم نجعل نسبة $\overline{أب}$ الى $\overline{ك}$ كنسبة $\overline{زط}$ الى $\overline{هد}$ ونجعل $\overline{زط}$ عمودا على سطح مَح على نقطة $\overline{ز}$ ونتمم (٣) مجسم مزطح فاقول ان هذا المجسم مساو للمجسم المفروض برهانه نسبة مربع $\overline{أج}$ الى مربع مَح كنسبة $\overline{أب}$ الى $\overline{ك}$ فيكون نسبة مربع $\overline{أج}$ الى مربع مَح كنسبة $\overline{زط}$ الى $\overline{هد}$ هو ارتفاع مجسم (٤) مَطَح الى $\overline{هد}$ الذي هو ارتفاع مجسم $\overline{ب}$ فيكون المجسمان متساويين لان قواعدهما مكافئة (٥) لارتفاعيهما كما تبين في مقالة يآ من الاصول وكلما قلنا مجسم فانا نعنى به المجسم المتوازي السطوح القائم الزوايا وكذلك كلما (٦) قلنا سطح فانا نعنى به السطح المتوازي الاضلاع القائم الزوايا

مجسم (**) أبجد مفروض (٧) وقاعدته $\overline{أج}$ مربعة ونريد ان نعمل مجسما قاعدته مربع (٨) وارتفاعه مثل $\overline{هط}$ المفروض ويكون مساويا لمجسم $\overline{أج}$ فنجعل نسبة $\overline{هط}$ الى $\overline{بد}$ كنسبة $\overline{أب}$ الى $\overline{ك}$ ونأخذ بين $\overline{أب}$ و $\overline{ك}$ خطا وسطا (٩) في النسبة وهو $\overline{هز}$ ونجعل $\overline{هز}$ عمودا على $\overline{هط}$ ونتمم $\overline{طز}$ (١٠) ونجعل $\overline{هح}$ (١١) عمودا على سطح $\overline{طز}$ (١٢) ويكون مثل $\overline{هز}$ ونتمم (١٣) مجسم $\overline{حطز}$ فاقول ان مجسم $\overline{ط}$ الذي قاعدته مربع $\overline{حز}$ وارتفاعه $\overline{هط}$ المفروض مثل مجسم $\overline{د}$ المفروض برهانه ان نسبة مربع $\overline{أج}$ الى مربع $\overline{حز}$ كنسبة

(١) Pour les lettres désignant les sommets des figures le Ms. C. dans cette proposition offre beaucoup de confusion. — (٢) القائمة A. B. C. — (٣) نتم B. C. — (٤) ارتفاعه sans مجسم C. — (٥) متكافئة C. — (٦) كما C. — (٧) مفروض B. C. — (٨) مربعة C. — (٩) وسطا C. — (١٠) Au lieu de $\overline{طز}$ manque dans C. — (١١) ويكون مثل $\overline{هز}$ le Ms. B. porte $\overline{هز}$ — (١٢) $\overline{طز}$ A. $\overline{هط}$ B. — (١٣) B. C. ونتم —

(*) Voyez Fig. 15, 1. — (**) Voyez Fig. 15, 2.

فقاعدتهاها يكونان اذن متساويتين (١) وقاعدة $\overline{حَب}$ هو مربع $\overline{جَب}$ مع $\overline{حَا}$ الذى هو عدة اجذاره التى فرصت للاموال فيكون $\overline{كث}$ الذى هو العدد المفروض للاجذار مثل مال وعدة الاجذار المفروضة للاموال وذلك ما اردنا ان نبين ومثاله (٢) مكعب وثلاثة اموال يعدل (٣) عشرة اجذار يكون مال وثلاثة اجذار يعدل (٤) عشرة اعداد

والصنف الثانى منها (٥) مكعب مع جذرين يعدل ثلاثة اموال يكون مالا مع اثنين يعدل ثلاثة اجذار برهانه (*) نضع مكعب $\overline{اَبْجَد}$ وهو مع جذريه يعدل ثلاثة اموال ونضع $\overline{ح}$ مربعا مثل $\overline{جَب}$ ونضع $\overline{كث}$ ثلاثة فيكون ضرب $\overline{ح}$ في $\overline{كث}$ ثلاثة اموال مكعب $\overline{اَه}$ ونعمل على $\overline{اَج}$ سطحاً مساوياً لاثنتين (٦) ونتم (٧) مجسم $\overline{اَزْجُطد}$ فيكون مثل عدة الجذور ولكن خط $\overline{زَب}$ (٨) اذا ضرب في مربع $\overline{اَج}$ حصل مجسم $\overline{بَط}$ ومجسم $\overline{اَط}$ (٩) مثل عدة الاضلاع فمجسم $\overline{بَط}$ مثل المكعب مع (١٠) مثل عدة اضلاعه فيكون مجسم $\overline{بَط}$ مساوياً لعدة الاموال فيكون خط $\overline{زَب}$ على ما تبين في الشكل المتقدم (١١) ثلاثة وسطح $\overline{بَل}$ (١٢) هو مال واثنان فهال واثنان يعدل ثلاثة اجذار لان سطح $\overline{بَل}$ (١٣) هو من ضرب $\overline{اَب}$ في ثلاثة وذلك ما اردنا ان نبين (١٤) والصنف الثالث منها هو (١٥) مكعب يعدل مالا وثلاثة اجذار (١٦) فيكون مال (١٧) يعدل جذرا (١٨) وثلاثة اعداد نضع (**) مكعب $\overline{اَبْجَد}$ الذى يعدل ماله وثلاثة اضلاعه ونفصل من خط $\overline{اَب}$ الذى هو ضلعه خط $\overline{اَز}$ مثل عدة

manque ان نبين و (٢) — C. يكونان sans اذا متساويان (١)
 dans A. Le Ms. B. porte $\overline{اَبْجَد}$ et puis au lieu de $\overline{اَبْجَد}$ les mots
 منها (٥) — C. وتعدل (٤) — C. تعدل (٣) — . والصنف الثانى منها
 — C. (٩) — C. دا (٨) — B. C. تتم (٧) — A. للانس (٦) — C. manque dans
 (١٣) — C. ا و A. B. ال (١٢) — C. المقدم (١١) — C. manque dans مع (١٠)
 B. اجذاره (١٦) — C. manque dans هو (١٥) — B. يتبين (١٤) — B. دل ٥ A.
 C. جذران (١٨) — A. مالا (١٧) — C. مالان اجذار

(*) Voyez Fig. 12. — (**) Voyez Fig. 13.

مساويا لمربع ح مع مربع هك الذى (١) هو نصف عدة الاضلاع وليكن مربع ز (٢) ونجعل (٣) كج مساويا لصلع ز ونقسم (٤) مربع ا ب ج د فيكون مربع ا ب ج د هو (٥) المطلوب وتبين ان (٦) فى هذا الصنف الثالث ليس شىء يستحيل (٧) وكذا (٨) فى الاول واما فى الثانى ففيه ما يستحيل وله اختلاف وقوعات وليس لهذين

واما البرهان على ان الثلاثة الثانية من هذه الاصناف مناسبة للثلاثة الاولى فالصنف الاول منها (٩) مكعب واموال تعدل جذرا (١٠) نضع (١١) (*) مكعب ا ب ج د ونخرج (١٢) ا ب على استقامة الى ز ونجعل ا ز (١٣) مثل عدة (١٤) الاموال ونقسم (١٥) مجسم ا ز ح ط ج د على استقامة مكعب ا ه على ما جرت به العادة فهجسم ا ط مثل عدة الاموال فيكون مجسم ب ط الذى هو المكعب وعدة الاموال المفروضة كعدة الاجذار المفروضة ونعمل سطح (١٦) ك كعدة (١٧) الاجذار المفروضة والجذر هو ضلع المكعب (١٨) وهو ا د فسطح (١٩) ك اذا (٢٠) ضرب فى ا د يكون مثل عدة الاضلاع المفروضة وسطح ح ب اذا ضرب فى ا د يكون منه المكعب مع عدة امواله المفروضة (٢١) وهما متساويان اعنى مجسم ب ط والمجسم المعمول على ك الذى ارتفاعه ا د فقاعدتاها يكونان مكافئتين لارتفاعيهما وارتفاعاهما (٢٢) متساويان

(١) Au lieu de الذى هك الذى le Ms. C. porte — (٢) Ce passage à partir de الذى هك manque dans B. — (٣) C. يجعل B. جعل — (٤) وكذا (٨) — B. مستحيل (٧) — C. هو (٥) — C. يتهم — بالصنف الاول منه Le Ms. C. porte منه A. — (٩) منه A. et B. — (١٠) عددا A. B. — (١١) يضع C. — (١٢) يخرج C. — (١٣) Ces mots à partir de manquent dans B. — (١٤) عدد A. — (١٥) B. يتم — (١٦) سطح manque dans C. — (١٧) لعدة B. C. — (١٨) المكعب A. — (١٩) Ces mots à partir de الجذر و sont remplacés dans B. par سطح — (٢٠) اذ B. — (٢١) Tout ce passage à partir de ح سطح وسطح manque dans B. — (٢٢) متكافئين C. لارتفاعيهما وارتفاعاهما

(*) Voyez Fig. ١١.

يكون مربعه مع سطح $\bar{\epsilon}$ مساويا لضرب $\bar{a}b$ في ذلك الخط فنضيف الى خط $\bar{a}b$ المعلوم سطحاً مساوياً لسطح $\bar{\epsilon}$ المعلوم فنقص (١) عن تمامه سطحاً مربعاً وهو ممكن لان سطح $\bar{\epsilon}$ (٢) ليس باعظم من مربع نصف $\bar{a}b$ وليكن (٣) سطح $\bar{a}z$ والمربع الناقص سطح $\bar{ج}د$ كما بينه اقليدس في سادسة الاسطقسات (٤) فيكون ضلع $\bar{ج}ب$ معلوماً كما تبين (٥) في المعطيات وذلك ما اردنا ان نبين فقد لاح ان لهذا الصنف انواعاً ويقع فيها ما يستحيل وبممكنك ان تعلم (٦) شرائط صحته في العدد على ما بيناه في الصنف الاول والصنف الثالث عدد وجذر (٧) يعدل ما لايزاد مربع نصف الاجذار على العدد ويؤخذ جذر المبلغ ويزاد على نصف الاجذار فيها (٨) يحصل (٩) هو جذر المال برهانه (٩) مربع $\bar{ا}ب$ يعدل خمسة اجذار وستة من العدد فنفصل العدد منه وهو (١٠) سطح $\bar{ا}د$ يبقى سطح $\bar{ه}ج$ عدة (١١) الاجذار وهو خمسة فيكون خط $\bar{ه}ب$ خمسة نقسه (١٢) بنصفين على $\bar{ز}$ فخط $\bar{ه}ب$ قسم بنصفين على $\bar{ز}$ وزيد (١٣) فيه $\bar{ها}$ على استقامته (١٤) يكون سطح $\bar{با}$ في $\bar{ا}ه$ الذي هو سطح $\bar{ا}د$ المعلوم (١٥) مع مربع $\bar{ه}ز$ المعلوم مثل مربع $\bar{زا}$ فمربع $\bar{زا}$ معلوم و $\bar{زا}$ معلوم (١٦) و $\bar{زب}$ معلوم فيكون $\bar{ا}ب$ معلوماً وله وجوه أخرى من البراهين فارتض (١٧) بها واما (**) ان فرض به الذي هو عدة الاجذار وطلب المربع وضلعه كي يكون مساوياً لعدة اضلاعه مع العدد (١٨) المفروض فليكن العدد المفروض سطح $\bar{\tau}$ (١٩) والمربع المساوي له $\bar{ح}$ ونعمل (٢٠) مربعاً

كما بينه (٤) — B. ولكن (٣) — C. manque dans C. — (٢) — C. ينقص (١) B. كما بينه اقليدس في سادسة الاسطقسات A. اوقليدس في ٦ الاسطقسات — C. تعلم ان (٦) — B. بعظم (٦) — C. بين (٥) — C. كما بينه في سادسه الاسطقس — B. ومنه (١٠) — A. حصل (٩) — C. manque dans C. فيها (٨) — A. حذور (٧) استقامه (١٤) — C. ونزيد (١٣) — C. يقسه A. نقسم (١٢) — A. B. بهذه (١١) (١٧) — A. manque dans A. و $\bar{زا}$ معلوم (١٦) — C. manque dans C. المعلوم (١٥) — A. — C. يعمِل (٢٠) — C. manque dans C. $\bar{\tau}$ (١٩) — C. عدد (١٨) — C. فارتض

(*) Voyez Fig. 9. — (**) Voyez Fig. 10.

يا المربع ح مع مربع هك الذى (١) هو نصف عدة الاضلاع وليكن
 ز (٢) ونجعل (٣) كج مساويا لضلع ز ونقسم (٤) مربع ابجد فيكون
 ابجد هو (٥) المطلوب وتبين ان (٦) فى هذا الصنف الثالث ليس
 يستحيل (٧) وكذا (٨) فى الاول واما فى الثانى ففيه ما يستحيل وله
 وقوعات وليس لهذين

البرهان على ان الثلاثة الثانية من هذه الاصناف مناسبة للثلاثة
 الصنف الاول منها (٩) مكعب واموال تعدل جذرا (١٠) نضع (١١) (*)
 بجدة ونخرج (١٢) اب على استقامة الى ز ونجعل از (١٣) مثل
 الاموال ونقسم (١٤) مجسم از حطجد على استقامة مكعب آة
 جرت به العادة فمجسم اط مثل عدة الاموال فيكون مجسم بط
 المكعب وعدة الاموال المفروضة كعدة الاجذار المفروضة ونعمل
 كعدة (١٧) الاجذار المفروضة والجذر هو ضلع المكعب (١٨)
 (١٩) لك اذا (٢٠) ضرب فى آد يكون مثل عدة الاضلاع المفروضة
 اذا ضرب فى آد يكون منه المكعب مع عدة امواله المفروضة (٢١)
 ن اعنى مجسم بط والمجسم المعمول على ك الذى ارتفاعه
 يكونان مكافئتين لارتفاعيهما وارتفاعاهما (٢٢) متساويان

كالذى (١) Au lieu de الذى هك الذى le Ms. C. porte sage à partir de الذى هك manque dans B. — (٣) جعل B. — (٤) قسم C. — (٥) هو C. — (٦) ان manque dans C. — (٧) يستحيل manque dans A. et B. — (٩) منه A. Le Ms. C. porte لاول منه — (١٠) عددان A. B. — (١١) نضع C. — (١٢) يخرج C. — (١٣) Ces — (١٤) قسم B. — (١٥) عدد A. — (١٦) على manque dans B. — (١٧) لعدة B. C. — (١٨) المكعب A. — (١٩) — (٢٠) ونعمل سطحه — (٢١) ce passage à partir de حب وسطه manque dans B. — C. لارتفاعيهما وارتفاعيهما

(*) Voyez Fig. ١١.

1771

صلعه الذى هو $\overline{أب}$ اذا ضرب فى اربعة يحصل (1) مكعب $\overline{أبجده}$ لا ان
صلعه اذا ضرب فى مربعه اغنى مربع $\overline{أج}$ حصل المكعب فيكون مربع $\overline{أج}$
اربعة

والصنف السادس اموال تعدل كعبا يكون فى قوة عدد يعدل (2) جذرا
برهانه بالعدد ان نسبة العدد الى الجذر كنسبة المال الى الكعب كما بين
فى ثامنة (3) للاصول واما بالهندسة (*) فاننا (4) نضع مكعب $\overline{أبجده}$ عديل
عدة امواله مثلا عديل مالين ومربع صلعه $\overline{أج}$ فسطح $\overline{أج}$ اذا ضرب فى
اثنين حصل مكعب $\overline{أبجده}$ الا انه اذا ضرب فى $\overline{بد}$ الذى هو صلعه حصل
مكعب $\overline{أبجده}$ فيكون $\overline{بد}$ الذى هو صلعه مثل اثنين وذلك المراد وكلها
قلنا فى هذه الرسالة اموال المكعب فاننا نعنى بها مربعات اضلاعه

فاذ (5) قد أثينا على المفردات فلنقر (6) على الثلاثة الاولى من
الاصناف الاثنى عشر الثلاثية والصنف (7) الاول منها (8) مال وعشرة
اجذار (9) يعدل تسعة وثلاثين عددا (10) فاضرب نصف الاجذار (11) فى مثله
وزد الحاصل على العدد وانقص من جذر المبلغ نصف الاجذار فالباقى
هو جذر المال اما العدد فيحتاج الى هذين الشرطين واحدهما (12) ان
يكون عدة الاجذار عددا زوجا ليكون له نصف والثانى ان يكون مربع
نصف الاجذار والعدد مجموعين عددا مربعا والا فالمسئلة مستحيلة من
حيث العدد واما بالهندسة (13) فلا يستحيل شىء من مسايلها اصلا
والبرهان عليه من جهة العدد سهل عند تصور برهانه الهندسى وبرهانه
الهندسى (14) هكذا (**) نضع مربع $\overline{أج}$ مع عشرة اجذاره عديل تسعة
وثلاثين من العدد وعشرة اجذاره هو سطح $\overline{جده}$ فيكون خط $\overline{د ه}$ عشرة

فاننا (4) — C. ثامن A. — (3) C. يعدل A. B. يعدل (2) — A. — يحصل (1)
فالصنف (7) — C. فليقل A. فلنقل (6) — B. C. فاذا (5) — A. et B. —
A. — manque dans A. et B. — (10) — B. أحذاره (9) — C. — manque dans C. — (8) —
A. et B. — (13) — B. أحدهما (12) — B. — manque dans B. — الاجذار (11) —
et sans C. — (14) Les mots وبرهانه الهندسى — C. — و عشرة

(*) Voyez Fig. 3. — (**) Voyez Fig. 4.

والصنف الثالث عدد يعدل مكعبا فإذا كان الموضوع عددا فيكون المكعب معلوما ولا سبيل إلى استخراج ضلعه إلا بالاستقراء وكذلك في جميع المراتب العددية من مال المال ومال الكعب وكعب الكعب كما ذكرناه آنفا وأما بالهندسة (*) فإننا نضع مربع \overline{AD} مربع الواحد أعني أن يكون \overline{AB} مثل \overline{BD} وكل واحد منهما يفرض واحدا (1) ثم نقسم على سطح \overline{AD} على نقطة \overline{B} منه عمود \overline{BB} ونجعله (2) مساويا للعدد المفروض كما بينه أقليدس في القول الحادى عشر من كتابه ونتمهم (3) مجسم أبجدهزج فمعلوم أن مساحة هذا المجسم يكون مساوية (4) للعدد (5) المفروض فنعمل مكعبا مساويا لهذا المجسم وعمله لا يتم إلا بخواص القطوع المخروطية (6) فأخبرناه إلى أن نأتى بمقدّمات (7) لها وكلها قلنا عدد يساوى مجسمها فإننا نعنى بالعدد (8) هناك مجسما متوازى لأضلاع قائم الزوايا يكون قاعدته مربع الواحد وارتفاعه مساويا (9) للعدد المفروض

والصنف الرابع مال يعدل خمسة أجزأه (10) فيكون عدة لأجزأه هو جذر المال وبرهانه بالعدد هو أن الجذر إذا ضرب في مثله حصل المال وهذا جذر إذا ضرب في خمسة حصل المال فهو خمسة وبرهانه بالهندسة شبيه هذا إذا وضعت سطحاً مربعاً عديلاً للخمسة أضلاعه

والصنف الخامس أشياء تعدل كعباً فبالعدد بين (11) أنه يكون مثل عدد يعدل (12) مالا مثاله أربعة أجزأه يعدل (12) كعباً يكون كأنه قال أربعة أعداد يعدل مالا مكان التناسب المذكور (13) وأما بالهندسة (**) فنضع مكعب أبجدة ومساحته (14) عديلة لمساحة أربعة أضلاعه وضلعه \overline{AB} فيكون

B. ونتم (3) — C. وجعله (2) — C. بفرض واحد A. B. بفرض واحد (1) — manque dans B. et C. — A. بأجزاء (10) — A. مساو (9) — C. العدد (8) — C. يأتى مقدّمات (7) — C. — A. أحزأه (11) — C. يعدل A. B. يعدل (12) — C. فبالعدد من (11) — B. ومساحة A. ومساحته (14) — A.

(*) Voyez Fig. 2. — (**) Voyez Fig. 3.

فان من يعلم ان جذر خمسة وعشرين هو خمسة فانما يعلمه بالاستقراء (1) لا بالقانون الصناعى فلا نلتفت (2) فيه الى قول المتخلفين (3) من اهل هذه الصناعة وللهند (4) طرق فى استخراج اضلاع المربعات والمكعبات مبنية على استقراء قليل وهو معرفة مربعات الصور التسعة اعنى مربع الواحد والاثنين والثلاثة وكذلك مضروب بعضها فى بعض (5) اعنى مضروب الاثنين فى الثلاثة ونحوها (6) ولنا كتاب فى البرهان على صحة تلك الطرق وتاديتها (7) الى المطلوبات (8) وقد غزونا (9) انواعها اعنى من استخراج اضلاع مال المال ومال الكعب وكعب الكعب بالغا ما بلغ ولم يسبق اليه وتلك البراهين انها هى براهين عددية مبنية على عدييات كتاب الاسطقسات (10) والبرهان على الصنف الثانى بالهندسة هو هكذا (١١) نضع خط \overline{AB} مفروضا مساويا للعدد المفروض و \overline{AJ} واحدا ويكون عمودا على \overline{AB} ونتمم (11) سطح \overline{AD} فمعلوم ان مساحة سطح \overline{AD} يكون ذلك العدد المفروض فنعمل سطحا مربعا مساويا لسطح \overline{AD} وهو مربع \overline{E} كما بينه اقليدس فى شكل \overline{YD} من مقالة \overline{B} من كتابه فمربع \overline{E} يكون مثل العدد المفرد ويكون معلوما وضلعه ايضا يكون معلوما تأمل البرهان الذى اثنى به (12) عليه اقليدس وذلك المراد وكلها قلنا عدد (13) يساوى سطحا فى هذه الرسالة فاننا نعنى بالعدد هناك سطحا قائم الزوايا احد (14) ضلعيه واحد والثانى (15) خط مساو للعدد (16) المفروض بالمساحة وكل واحد من اجزاء مساحته مساو للضلع الثانى. اعنى به الذى فرضناه واحدا (17)

(1) Ce passage à partir de فان manque dans C. Le Ms. B. porte يعلم au lieu de يعلمه — B. — (2) ولا تلتفت — B. — (3) المتخلفين — B. — (4) والهند — C. — (5) المضروب بها فى بعضها البعض — C. — (6) ونحوها — A. et B. — (7) تاديتها — C. — (8) المطلوب — A. — (9) غزونا — A. B. — (10) عددنا — C. — (11) نتم — B. C. — (12) به — C. — (13) عددا — C. — (14) واحد — A. — (15) والباقي — C. — (16) والعدد — C. — (17) واحد — C.

(*) Voyez Fig. 1.

واحد منها مبتدأ (١) وسابقتها وأبرهن عليها من جهة الهندسة لا من جهة العدد والبرهان على هذه الستة لا يمكن إلا بخواص القطوع المخروطية وأما المقترنات الرباعية (٢) فقسمان أحدهما (٣) وهو الأول ما يكون فيه ثلاث مراتب (٤) معادلة لواحدة (٥) وهو أربعة اصناف

آ كعب ومال وجذر يعدل عددا ج كعب وجذر وعدد يعدل مالا

ب كعب ومال وعدد يعدل جذرا د كعب يعدل جذرا ومالا وعددا والقسم الثاني هو (٦) ما يكون فيه مرتبتان معادلتين لاثنتين وهو ثلاثة اصناف

آ كعب ومال يعدل جذرا وعددا ب كعب وجذر يعدل مالا وعددا

ج كعب وعدد يعدل جذرا ومالا

فهذه هي (٧) الاصناف السبعة الرباعية ولا سبيل لنا الى تحليل شيء منها (٨) إلا بالهندسة (٩) أما من تقدمنا (١٠) فقد اضطر واحد منهم الى نوع من انواع صنف واحد ساذكرة والبرهان على هذه الاصناف (١١) لا يتم إلا بخواص القطوع المخروطية وسأنتي بواحد واحد (١٢) من هذه الاصناف الخمسة والعشرين ونبرهن عليه مستعينين بالله أنه من توكل عليه مخلصا هداة وكفاه (١٣) فالصنف الاول من المفردات جذر يعدل عددا فيكون الجذر معلوما باضطرار وحكمها في العدد والمساحات واحد

والصنف الثاني عدد يعدل مالا فيكون المال العددي معلوما لمعادلته العدد (١٤) المعلوم ولا سبيل الى معرفة جذرة بالعدد إلا بالاستقراء

الستة (١) Tous ces mots à partir de الستة A. C. — مبترأ B. — manque dans B. — معادلة (٢) B. — مرات (٣) C. — أحدهما (٤) C. — متعادلها الواحدة B. — الواحدة (٥) manque dans C. — هي (٦) C. — وهو (٧) C. — بالهندسية (٨) C. — manque dans C. — منها (٩) C. — B. — الواحدة واحدة (١٠) A. — manque dans A. — هذه الاصناف (١١) Ces mots (١٢) — انشاء الله par الله مستعينين sont remplacés dans C. — العدد (١٣) — (١٤) manque dans B.

ان جذر خمسة وعشرين هو خمسة فانما يعلمه بالاستقراء (1)

اعنى فلا نلتفت (2) فيه الى قول المتخلفين (3) من اهل

ند (4) طرق في استخراج اضلاع المربعات والمكعبات

قليلا وهو معرفة مربعات الصور التسعة اعنى مربع

الثلاثة وكذلك مضروب بعضها في بعض (5) اعنى

الثلاثة ونحوها (6) ولنا كتاب في البرهان على

تأديتها (7) الى المطلوبات (8) وقد غزرننا (9) انواعها

اعمال مال المال ومال الكعب وكعب الكعب بالغنا

ملك البراهين انها هي براهين عددية مبنية على

ت (10) والبرهان على الصنف الثانى بالهندسة

مفروضا مساويا للعدد المفروض و \overline{A} واحد

نتم (11) سطح \overline{A} فمعلوم ان مساحة سطح \overline{A}

نعمل سطحاً مربعاً مساوياً لسطح \overline{A} وهو

شكل \overline{B} من مقالة \overline{B} من كتابه فمربع

معلوما وضلعه ايضا يكون معلوما تأمل

تقليدس وذلك المراد وكلها قلنا عدد (13)

نعنى بالعدد هناك سطحاً قائم الزوايا

خط مساو للعدد (16) المفروض بالمساحة

الضلع الثانى اعنى به الذى فرضناه

الـ

عشر

وعنه

الهندسة و

آ كعب

فالجبرين

لنظيرة اعنى ان

جذرا والباقيان

مسوحات واما

الاصول وسابرها

الاثناعشر

آ كعب وجذر

ب كعب وعدد

ج عدد وجذر

وهذه الستة الاسمى

(1) Ce passage à partir de \overline{A} فان
B ولا نلتفت (2) — يعلمه

C. مضروبها في بعضها البعض (5)

تأديتها (7) — مطلوب (8) — C.

تتم (11) — C. الاستقصاءات

والباقي (15) — A. واحد (14) —

(*) Voyez Fig. 1.

وما يمكن ان يب
 الاصول وفي المعطيات
 الا بخواص القطوع المخرو
 واما البرهان على هذه (١) ا
 فلا يمكننا ولا لواحد من اص
 يعرفه الا في الثلاثة المراتب الاولى
 براهين عددية على ما يمكن البرهان
 ان البرهان على هذه الطرق بالهندسة
 بالعدد اذا كان الموضوع عددا لا مقدارا م
 قد برهن على مطلوبات نسبية مقدارية (6) في
 البرهان على تلك المطلوبات النسبية (7) بعينها
 سابعة كتابه

والمعادلات بين هذه الاربعة اما مفردات واما
 ستة اصناف

آ عدد يعدل جذرا ٥ جذور تعدل مـ
 بـ عدد يعدل مالا ٦ اموال تعدل كعب
 جـ عدد يعدل كعبا ٧ جذور تعدل كعبا

وثلاثة من هذه الاصناف الستة مذكورة في كتب الجبريين ق
 الشيء الى المال كنسبة المال الى الكعب فيلزم ان يكون معادلة
 للكعب كمعادلة الشيء للمال وكذلك نسبة العدد الى المال كنسبة الج
 الى الكعب ولم يبرهنوا عليه من (8) الهندسة واما العدد الذى يكون عدي

— C. للبرهان (3) — C. موضوعه (2) — B. ce mot manque dans C. هذا (1)
 — C. يعجزى B. يعجزى A. نحرى (5) — C. بالهندسية (4)
 — C. النسبة (7) — B. manque dans C. مقدارية C. (8) Aucun des Mss. ne porte
 من جهة ou من حيث

ويجب ان يتحقق ان هذه الرسالة لا يفهمها الا من يكون متقنا
 لكتاب اقليدس في الاصول وكتابه (١) في المعطيات ومقالتين من كتاب
 بلونيوس في المخروطات وان من سد (٢) عند معرفة واحد (٣) من هذه
 الثلاثة فلا (٤) سبيل له الى تحقيقها ولقد تكلفت ألا احيل (٥) في هذه
 الرسالة الا على هذه الكتب الثلاثة

واستخراجات الجبر انما تتم بالمعادلة اعني بمعادلة هذه المراتب
 بعضها ببعض على ما هو مشهور واذا استعمل الجبري مال المال في المساحات
 فان ذلك على سبيل المجاز لا على سبيل التحقيق اذ محال ان يكون
 في المقادير مال المال والذي يقع في المقادير هو البعد (٦) الواحد وهو الجذر
 او الضلع اذا اضيف (٧) الى مرتبه ثم البعدان وهو السطح والمال في المقادير
 هو السطح (٨) المربع ثم الثلاثة الابعاد وهو الجسم والمكعب في المقادير
 هو الجسم الذي يحيط به ست مربعات واذ لا بعد آخر فلا يقع فيها
 مال المال فضلا عما فوقه واذا قيل مال المال (٩) في المقادير فانما يقال
 ذلك لعدد اجزاؤها عند المساحة لا لذواتها ممسوحة وبينهما فرق فمال
 المال لا يقع في المقادير لا بالذات ولا بالعرض وليس كالزوج والفردي
 فانهما يقعان فيها بالعرض بحسب العدد الذي ينفصل به اتصالها

والذي في كتب الجبريين من هذه المعادلات الاربع الهندسية اعني
 لاعداد (١٠) المطلقة والاضلاع والمربعات والمكعبات هو ثلاث معادلات
 بين (١١) العدد والاضلاع والاموال واما نحن فسنأتى بالطرق التي
 بها يمكن ان يستخرج المجهول بالمعادلة بين اربع (١٢) مراتب التي
 قلنا انها لا يمكن ان يقع اكثر منها في المقادير اعني العدد والشئ والمال
 والمكعب

C. في sans لا (٤) — B. واحدة (٣) — B. C. سد A. سد (٢) — C. كتاب (١)
 — C. اضيفت (٧) — C. بعد (٦) — C. لاهيل B. الا احصار A. لا اهيل (٥) —
 مال مال (٩) — C. manquent dans والمال في المقادير هو السطح Les mots (٨)
 B. من اربعة (١٢) — B. C. من (١١) — C. اعداد (١٠) — C.

بالعروة الوثقى من عصيته انه ولى الاجابة وعليه التكلان في كل حال (١)
 اقول (٢) بعون الله وحسن توفيقه (٣) ان صناعة الجبر والمقابلة صناعة
 علمية موضوعها العدد المطلق والمقادير المسووعة من حيث هي
 مجهولة ومضافة الى شىء معلوم به يمكن استخراجها وذلك الشىء اما كمية
 واما نسبة على وجه لا يشاركها فيه غيرها ويدلك (٤) عليه تصفحها ومطلوبها
 العوارض التى تالحق موضوعها بها هو موضوع لها بالصفة المذكورة وتنامها
 الوقوف على الطرق (٥) التعليلية التى تتفطن (٦) بها لهذا (٧) النوع
 المذكور من استخراج (٨) المجهولات العددية او المساحية والمقادير هي
 الكمية المتصلة وهي اربعة الخط والسطح والجسم والزمان على ما هو مذكور
 مجملا في قاطيغورياس ومفصلا في الحكمة الاولى وقوم (٩) يعدون المكان
 نوعا قسيما للسطح تحت جنس المتصل والتحقيق يبطل عليهم هذا الرأى
 وتصحح ان المكان هو سطح (١٠) بحال وموضع تحقيقه غير ما نحن فيه ولم
 تجر العادة بذكر الزمان في موضوعات مسائل الجبر ولو ذكر لجاز
 وعادة الجبريين ان يسموا في صناعتهم المجهول الذى يراد استخراجها
 شيئا ومضروب في مثله مالا ومضروب ماله فيه كعبا ومضروب ماله في
 مثله (١١) مال مال ومضروب كعبه في ماله مال كعب ومضروب كعبه في
 مثله كعب كعب وعلى هذا القياس بالغ ما بلغ ومعلوم من
 كتاب اقليدس (١٢) في الاصول ان هذه المراتب كلها متناسبة اعنى نسبة
 الواحد الى الجذر كنسبة الجذر الى المال وكنسبة المال الى الكعب فيكون
 نسبة العدد الى الجذور كنسبة الجذور الى الاموال وكنسبة الاموال الى
 الكعب وكنسبة الكعب (١٣) الى اموال المال (١٤) بالغ ما بلغ

(١) A. — (انزل) ابرل (٢) — A. — Les mots manquent dans A. — (٣) Les mots بعون etc. manquent dans A. — (٤) وبذلك A. — (٥) الطوق C. — (٦) C. — (٧) B. — (٨) استخراج manque dans C. — (٩) قول A. — (١٠) Ici Ces mots, à partir de مالا manquent dans C. — (١١) C. — (١٢) A. — (١٣) Les mots اقليدس ; اوقليدس porte pag. ٥, lig. 2, le Ms. A. — (١٤) A. B. الى اموال الاموال manquent dans C. —

فى زماننا هذا (١) يلبسون الحق بالباطل ولا (٢) يتجاوزون حد
التدليس والتراثى بالمعرفة ولا ينفقون (٣) القدر الذى يعرفونه (٤) من
العلوم الا فى اغراض بدنية خسيصة وان شاهدوا (٥) انسانا معينا بطلب (٦)
الحق واينار الصدق مجتهدا فى رفض الباطل والزور وترك المراياة
والخداع استخفوه (٧) وسخروا منه والله المستعان على كل حال واليه المزع
ولما من الله تعالى على بالانقطاع الى جناب سيدنا الاجل الالحد
قاضى القضاة الامام السيد ابى طاهر ادام الله علاه وكبت حسدته
واعداؤه (٨) بعد اليأس من مشاهدة كامل مثله فى كل فضيلة (٩) عملية
ونظرية وجمع بين (١٠) انفاذ (١١) فى العلوم وتثبت فى الاعمال وطلب
الخير لكل واحد من ذى جنسه فانشرح بمشاهدته صدرى وارثفع
بمصاحبه ذكرى (١٢) وعظم بالاقتباس من انواره اسرى واشتد بالآيه
ونعمه ازرى فلم اجد بدا من ان (١٣) انحنو نحو ثلاثى ما فوتنيه (١٤)
رب الزمان من تالخيص (١٥) ما اتحققه من لباب المعانى الحكيمية
قربا الى مجلسه الرفيع وابتدأت بتعديد هذه الاصناف من المقدمات
الجبرية اذ (١٦) الرياضيات (١٧) اولى بالتقديم واعتصمت بحبل التوفيق
من الله تعالى واجيا (١٨) منه ان يوفقنى لا تباع هذا بتحقيق ما انتهى اليه
بحثى وبحث من تقدمنى من العلوم (١٩) التى هى اهم من غيرها متمسكا

C. يتفقون B. يعمون A. ينفقون (٣) — C. فلا (٢) — A. manque dans هذا (١)
C. استمحوه (٧) — C. يطلب (٦) — C. شاهد (٥) — A. B. يعرفونه C. تعرفونه (٤) —
— (٨) Ces mots à partir de سيدنا sont remplacés dans le Ms. A. par فلان
dans le Ms. C. par les mots طاهر القضاة ابى طاهر
C. ذكر (١٢) — C. انفاذ B. ... اد. A. الابعاد (١١) — B. من (١٠) — C. فضلة (٩)
(١٥) — C. فويتته B. فوسه A. فوتنيه (١٤) — B. — (١٣) manque dans
Le (١٩) — C. واحيا (١٨) — C. الرياضيات (١٧) — C. اذا (١٦) — B. تالخيص
Ms. C. au lieu de العلوم من porte العلوم.

والمساحية (١) وإن فيها اصنافا (٢) يحتاج فيها (٣) الى اصناف من المقدمات معتاصة جدًا فتعذر (٤) حلها على اكثر الناظرين فيها اما المتقدمون فلم يصل الينا منهم كلام فيها لعلمهم لم يتفطنوا لها بعد الطلب (٥) والنظر او (٦) لم يضطر البحث اياهم الى النظر فيها او لم (٧) ينقل الى لساننا كلامهم فيها واما المتأخرون فقد عَن للماهاني منهم تحليل المقدمة التي استعملها ارشيدس مسلمة في الشكل الرابع من المقالة (٨) الثانية من كتابه في الكرة والاسطوانة بالجبر فتأدى (٩) الى كعاب واموال واعداد متعادلة فلم يتفق له حلها بعد ان افكر فيها مليًا (١٠) فحزم (١١) القضاء بانه (١٢) ممتنع حتى نبع (١٣) ابو جعفر الخازن وحلها بالقطع المخروطية ثم افتر بعدة جماعة من المهندسين الى عدة اصناف منها فبعضهم حل البعض وليس لواحد منهم في تعديد اصنافها وتحصيل انواع كل صنف منها والبرهان عليها كلام يُعتد به الا على صنفين ساذكرهما (١٤) واني لم ازل كنت شديد الحرص على تحقيق جميع (١٥) اصنافها وتمييز الممكن من الممتنع في انواع كل صنف ببراهين لمعرفتي بان الحاجة اليها في مشكلات المسائل ماسة جدًا ولم اتمكن من التجرد لتحصيل هذا الخبر (١٦) والمواظبة على الفكر فيه لاعتراض ما كان يعوقني عنه من صروف الزمان فانا قد منينا (١٧) بانقراض اهل العلم الا عصابة قليلة العدد كثيرى المحن فعمهم (١٨) افتراض غفلات الزمان ليتفرغوا (١٩) في اثباتها (٢٠) الى تحقيق (٢١) وايقان (٢٢) علم واكثر المتشبهين بالحكماء

المطلب (٥) — C. معتذر (٤) — C. فيه (٣) — C. ما (٢) — B. و sans المساحية (١)
 C. — C. مقالة (٨) — A. ولم manque dans C. فيها (٧) — C. و (٦) — C. —
 (١١) — B. manque dans C. بعد Ces mots à partir de (١٠) — C. فتأدى (٩)
 A. بعب (١٣) — C. القضاء انه B. الفصل بانه (١٢) — C. فحزم A. B. فحزم
 الخبر (١٦) — C. manque dans C. جميع (١٥) — C. وساذكرهما (١٤) — C. تبع B. تبع
 اثباتها (٢٠) — B. ليفرغوا (١٩) — C. همهم (١٨) — C. قدمنا (١٧) — B. الخير A.
 C. اتقان (٢٢) — C. التحقيق (٢١) — C. ابناءها B. اثناها A. (اثباتها)

رسالة الحكيم الفاضل

غياث الدين ابي الفتح عمر بن ابراهيم الخيامي النيسابوري (1)

قدس الله روحه العزيز

في البراهين على مسائل الجبر والمقابلة

بسم الله الرحمن الرحيم

الحمد لله رب العالمين والعاقبة للمتقين ولا عدوان الا على الظالمين
والصلوة على الانبياء وخصوصا على محمد واله الطاهرين اجمعين (2) ان
احد المعاني التعليمية المحتاج اليها في جزء الحكمة المعروف بالرياضي
هو صناعة الجبر والمقابلة الموضوعة لاستخراج المجهولات العددية

والصلوة على انبائه اجمعين (2) — A. عما الدين عمر الخيامي النيسابوري (1)
A. Les mots **ان** par lesquels l'auteur entre en matière, sont précédés, dans
le Ms. B., des seuls mots **بسم الله الرحمن الرحيم رب يسر الحمد لله** etc.
sans aucun titre; dans le Ms. C. tout ce qui ici précède les mots **ان**
est remplacé par les mots suivants : **مقالة في الجبر والمقابلة للحكيم لاوحد ابي**
الفتح عمر ابن ابراهيم الخيامي في الجبر والمقابلة.

مقالة في الجبر والمقابلة

للحكيم الاوحد

ابى الفتح عمر بن ابراهيم

الخياعي

طبع في مدينة باريس

بمطبع الاخوين فيرمان ديدوة

سنة المسيحية ١٨٥١

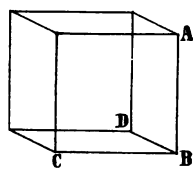
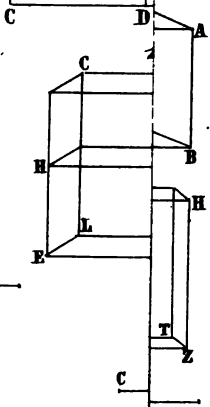
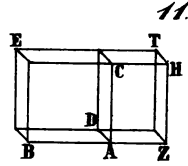
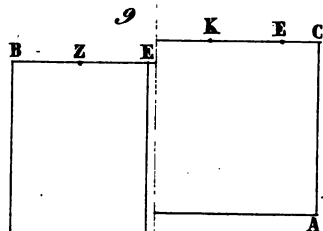
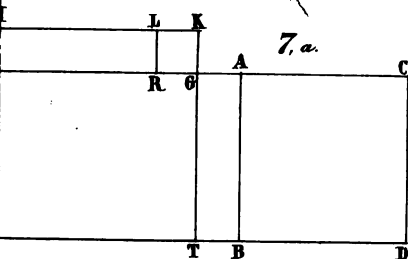
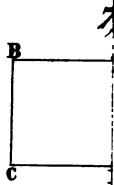

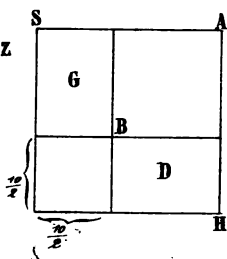
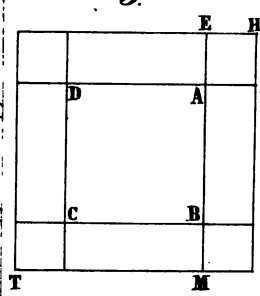
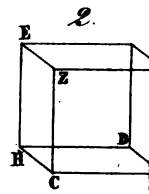
رسالة
في براهين الجبر والمقابلة
لعمر الخيامي

es fres.

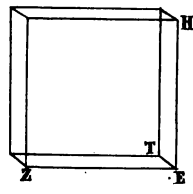
A B C D

5.

5a



15, 2.



Imp. LENDER, r S^{te} Anne, 18.



This book should be returned to the library on or before the last date stamped below.

THE BORROWER WILL BE CHARGED AN OVERDUE FEE IF THIS BOOK IS NOT RETURNED TO THE LIBRARY ON OR BEFORE THE LAST DATE STAMPED BELOW. NON-RECEIPT OF OVERDUE NOTICES DOES NOT EXEMPT THE BORROWER FROM OVERDUE FEES.

✓ WIDENER
EB 10 1993
BOOK DUE

WIDENER
BOOK DUE
Chicago
SEP 10 1993

